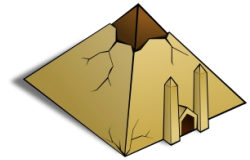


Erkläre folgende Begriffe:

- a) Hieroglyphen: _____
- b) Pyramide: _____
- c) Pharao: _____



Wann wurde die Cheops-Pyramide bei Giseh erbaut?

- ca. 5000 v. Chr. ca. 2500 v. Chr. ca. 1300 v. Chr.

Hier stimmt etwas nicht.

Ordne die Gruppen der ägyptischen Gesellschaft nach ihrer richtigen Hierarchie!

- Schreiber _____
- Pharao _____
- Bauern Priester _____
- Sklaven Händler _____
- Handwerker _____


Erkläre die Aussage „Ägypten ist ein Geschenk des Nils.“

Die Ägypter teilten das Jahr in 3 wichtige Teile ein:

- 1. Zeit der _____
- 2. Zeit der _____
- 3. Zeit der _____

Fülle die Lücken.

Ägypten liegt in _____ zwischen _____ und _____
(Kontinent) (Meer)
_____. Das Land besteht fast nur aus _____.
(Meer)



Nenne 3 Aufgaben des Pharaos!

- a) _____
- b) _____
- c) _____




Nenne die 3 Herrschaftszeichen des Pharaos!

- a) _____
- b) _____
- c) _____

Warum wird Ägypten als Hochkultur bezeichnet?

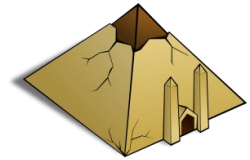


Der griechische Historiker Herodot behauptete, die Pharaonen hätten die Ägypter zum Pyramidenbau gezwungen. Nenne 2 Gründe, die die Menschen veranlasst haben könnten, freiwillig beim Bau der Pyramiden mitzuarbeiten.



Erkläre folgende Begriffe:

- a) Hieroglyphen: **Die Schrift der Ägypter.**
- b) Pyramide: **Grabstätte für Pharaonen.**
- c) Pharao: **Großes weißes Haus.**



Wann wurde die Cheops-Pyramide bei Giseh erbaut?

- ca. 5000 v. Chr. ca. 2500 v. Chr. ca. 1300 v. Chr.

Hier stimmt etwas nicht.

Ordne die Gruppen der ägyptischen Gesellschaft nach ihrer richtigen Hierarchie!

Schreiber	Pharao
Pharao	Priester, Schreiber
	Händler
Bauern Priester	Bauern, Handwerker
Sklassen Händler	
Handwerker	Sklassen

Erkläre die Aussage „Ägypten ist ein Geschenk des Nils.“

**Der Nil überschwemmt einmal im Jahr das Land und versorgt es mit Wasser.
Der schwarze Schlamm der dadurch auch kommt macht das Land fruchtbar.**

Die Ägypter teilten das Jahr in 3 wichtige Teile ein:

- 1. Zeit der **Überschwemmung**
- 2. Zeit der **Aussaat**
- 3. Zeit der **Ernte**

Fülle die Lücken.

Ägypten liegt in **Afrika** zwischen **Mittelmeer** und **rotem Meer**.

Das Land besteht fast nur aus **Wüste**.

Nenne 3 Aufgaben des Pharaos!

- a) **Er ist Oberbefehlshaber**
- b) **Er ist oberster Richter**
- c) **Er ist oberster Priester**



Nenne die 3 Herrschaftszeichen des Pharaos!

- a) **Geier und Kobra**
- b) **Krummstab und Wedel**
- c) **Geflochtener Bart**

Warum wird Ägypten als Hochkultur bezeichnet?

Weil die Ägypter in der Entwicklung andern Kulturen weit voraus waren.

Der griechische Historiker Herodot behauptete, die Pharaonen hätten die Ägypter zum Pyramidenbau gezwungen.

Nenne 2 Gründe, die die Menschen veranlasst haben könnten, freiwillig beim Bau der Pyramiden mitzuarbeiten.

Um Arbeit zu haben und Geld zu verdienen.

Um dem verehrten Pharao zu dienen und ihn zu huldigen.

