

Du willst an einer Kreuzung ohne Verkehrszeichen nach links abbiegen.
Schreibe in der richtigen Reihenfolge auf, wie du dich verhalten sollst!

1. _____
2. _____
3. _____
4. _____
5. _____
6. _____
7. _____
8. _____

Bei diesen Verkehrszeichen musst du dich unterschiedlich verhalten!



Genaue Bedeutung:

Verhalten:



Genaue Bedeutung:

Verhalten:

Beim Anfahren vom Fahrbahnrand musst du vieles beachten.

Kreuze die richtigen Sätze an.

- Ich fahre mit dem Fahrrad zum Fahrbahnrand.
- Ich schaue links, rechts, links.
- Ich schaue nach hinten links um.
- Ich fahre mit der linken Hand am Lenker los.
- Ich steige von links auf mein Fahrrad auf.
- Ich gebe deutlich ein linkes Handzeichen.



Es gibt vier verschiedene Möglichkeiten die Vorfahrt zu regeln. Nenne sie!





1. _____
2. _____
3. _____
4. _____

Notiere mit den gegebenen Nummern alle Dinge, die zu einem verkehrssicheren Fahrrad gehören.



Du kommst mit deinem Fahrrad aus einer Grundstückseinfahrt und willst nach rechts auf die Straße fahren. Was musst du alles beachten?

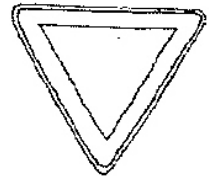
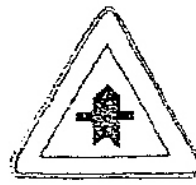
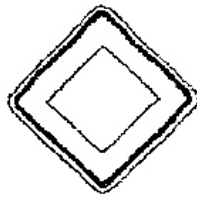
Welche Verkehrszeichen sind das? Nenne sie und die jeweiligen Farben!

Früher, z.B. vor 30 Jahren, gab es nur Scheinwerfer und Rücklicht.
Warum sind jetzt diese Reflektoren nötig?

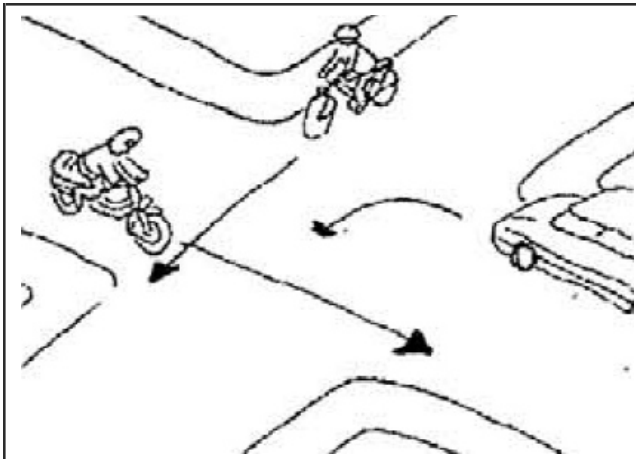
Welches Verkehrszeichen passt nicht in die Reihe?

Kreuze an und begründe genau, warum!



Wer darf fahren?

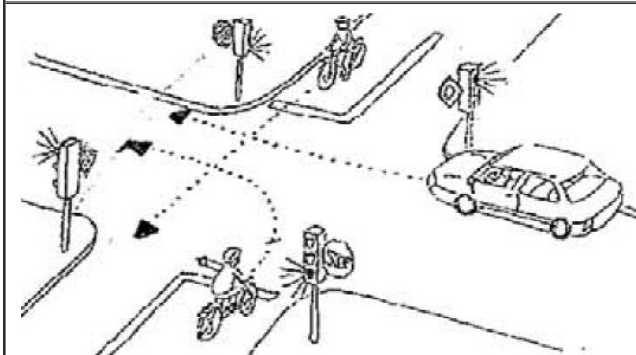
Nummeriere in der richtigen Reihenfolge!




- 1. = _____
- 2. = _____
- 3. = _____



- 1. = _____
- 2. = _____
- 3. = _____



- 1. = _____
- 2. = _____
- 3. = _____



- 1. = _____
- 2. = _____
- 3. = _____

Du willst an einer Kreuzung ohne Verkehrszeichen nach links abbiegen.
Schreibe in der richtigen Reihenfolge auf, wie du dich verhalten sollst!

1. **Nach hinten links umsehen**
2. **Handzeichen geben**
3. **Einordnen**
4. **Vorfahrtsregel beachten**
5. **Gegenverkehr Vorrang gewähren**
6. **Nochmals umsehen**
7. **In großen Bogen abbiegen**
8. **Auf Fußgänger achten**

Bei diesen Verkehrszeichen musst du dich unterschiedlich verhalten!



Genaue Bedeutung:

Halt! Vorfahrt gewähren

Verhalten:

Ich bleibe stehen! Mein Fuß muss auf dem Boden sein! Ich muss auch, wenn kein Auto kommt stehen bleiben.



Genaue Bedeutung:

Vorfahrt gewähren!

Verhalten:

Ich fahre vorsichtig an die Kreuzung heran, beachte die Vorfahrt und wenn kein Auto kommt, fahre ich weiter.

Beim Anfahren vom Fahrbahnrand musst du vieles beachten.

Kreuze die richtigen Sätze an.

- Ich fahre mit dem Fahrrad zum Fahrbahnrand.
- Ich schaue links, rechts, links.
- Ich schaue nach hinten links um.
- Ich fahre mit der linken Hand am Lenker los.
- Ich steige von links auf mein Fahrrad auf.
- Ich gebe deutlich ein linkes Handzeichen.



Es gibt vier verschiedene Möglichkeiten die Vorfahrt zu regeln. Nenne sie!

1. **rechts vor links**
2. **ein Polizist regelt den Verkehr**
3. **eine Ampel regelt den Verkehr**
4. **Ein Verkehrsschild regelt den Verkehr**

Notiere mit den gegebenen Nummern alle Dinge, die zu einem verkehrssicheren Fahrrad gehören.






1. Glocke, 2. roter Großflächenrückstrahler, 3. Vorderbremse,
4. rote Schlussleuchte, 5. weißer Frontreflektor,
6. Scheinwerfer, 7. Dynamo, 8. Kette,
9. gelber Speichenrückstrahler, 10. Pedale

Du kommst mit deinem Fahrrad aus einer Grundstückseinfahrt und willst nach rechts auf die Straße fahren. Was musst du alles beachten?

- Ich schiebe das Fahrrad bis zum Fahrbahnrand.
- Ich achte auf den fließenden Verkehr (links, rechts, links schauen).
- Ich stelle das Fahrrad in Fahrtrichtung.
- Ich sehe mich nach hinten links um.
- Ich gebe das linke Handzeichen.
- Mit beiden Händen am Lenker fahre ich los und halte Spur.

Welche Verkehrszeichen sind das? Nenne sie und die jeweiligen Farben!

			
Getrennter Fuß- und Radweg	Gemeinsamer Rad- und Fußweg	Sonderweg für Fußgänger	Vorfahrt gewähren
blau und weiß	blau und weiß	blau und weiß	rot und weiß

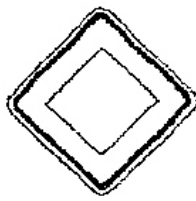
Früher, z.B. vor 30 Jahren, gab es nur Scheinwerfer und Rücklicht.
Warum sind jetzt diese Reflektoren nötig?

Damit man am Tag und in der Nacht immer gut von den Autos gesehen wird.

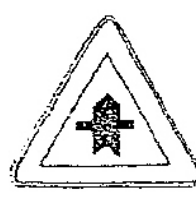
Welches Verkehrszeichen passt nicht in die Reihe?

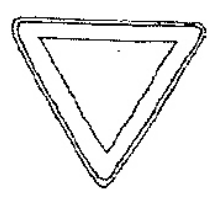
Kreuze an und begründe genau, warum!







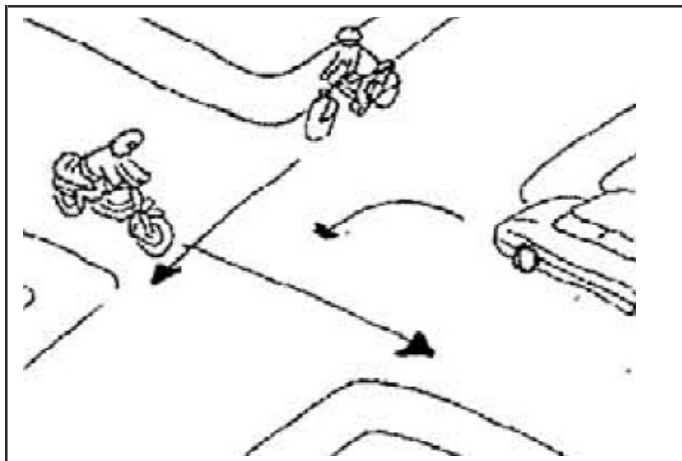




Gefahrenstelle gehört nicht dazu, weil alle Schilder die Vorfahrt regeln und Gefahrenstelle zeigt an, dass vor dir eine Gefahr lauert.

Wer darf fahren?

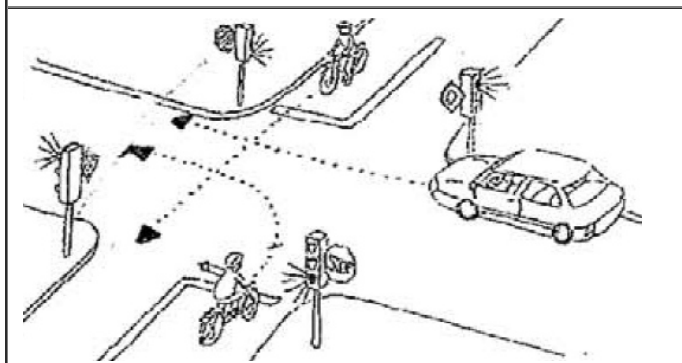
Nummeriere in der richtigen Reihenfolge!




- 1. = **Motorrad**
- 2. = **Fahrrad**
- 3. = **Auto**



- 1. = **Auto**
- 2. = **LKW**
- 3. = **Fahrrad**



- 1. = **Fahrrad (geradeaus)**
- 2. = **Fahrrad (links abbiegen)**
- 3. = **Auto**



- 1. = **Fahrrad (Straße)**
- 2. = **Auto**
- 3. = **Fahrrad (Feldweg)**