


Rechne! Achte auf das Rechenzeichen!



$5 \cdot 3 =$	$2 \cdot 5 =$	$64 - 28 =$
$3 \cdot 8 =$	$7 \cdot 4 =$	$85 - 39 =$
$8 \cdot 9 =$	$6 \cdot 8 =$	$74 - 49 =$
$6 \cdot 5 =$	$3 \cdot 9 =$	$91 - 83 =$
$9 \cdot 6 =$	$4 \cdot 8 =$	$52 - 38 =$

Zahlenrätsel!



Meine Zahl ist um 8 kleiner als das Doppelte von  $5 \cdot 6$ .

Die Zahl heißt: \_\_\_\_\_

In der Gärtnerei Rosenbaum werden Sträuße gebunden.  
In einem Strauß kommen 9 Rosen.  
45 Rosen müssen zu Sträußen gebunden werden.



Frage: \_\_\_\_\_

Rechnung: \_\_\_\_\_

Antwort: \_\_\_\_\_




Auf einem Kinderspielplatz stehen Vierradautos und Dreiräder.  
Die Autos haben zusammen ebenso viele Räder wie die Dreiräder.  
Auf dem Platz befinden sich sechs Vierradautos.  
Wie viele Dreiräder stehen auf dem Spielplatz?



Rechnung: \_\_\_\_\_

Antwort: \_\_\_\_\_

Immer die Hälfte. Zeichne und schreibe die Geteiltaufgabe dazu.

		
$\underline{\quad} : \underline{\quad} = \underline{\quad}$	$\underline{\quad} : \underline{\quad} = \underline{\quad}$	$\underline{\quad} : \underline{\quad} = \underline{\quad}$

Schreibe alle Quadratzahlen von 1 bis 100 auf!

---

**Textaufgabe!**

Die Klasse 2a bestellt 6 Hamburger, 8 Schnitzel mit Pommes und 2 Steaks mit Kartoffel.

Speisekarte	
Hamburger	3 Euro
Schnitzel mit Pommes	6 Euro
Steak mit Kartoffeln	9 Euro

a) Wie viel Euro müssen jeweils für Hamburger, Schnitzel mit Pommes und Steaks bezahlt werden ?

R.:

---

A.:

---



---

b) Wie viel Euro müssen insgesamt bezahlt werden?

R.:

---

A.:

---

Wie viele Stücke sind es?



1 Apfel

2 Äpfel

4 Äpfel

3 Äpfel

4 Stücke

\_\_\_\_ Stücke

\_\_\_\_ Stücke

\_\_\_\_ Stücke

**Willi hat 20 Blumen.**

**Er möchte immer 4 davon zu einem Strauß binden.**



Frage: \_\_\_\_\_

Rechnung: \_\_\_\_\_

Antwort: \_\_\_\_\_

**Löse die Aufgaben!**

$$4 \cdot 2 = \underline{\quad} \cdot 8$$

$$\underline{\quad} \cdot 4 = 6 \cdot 2$$

$$6 \cdot 5 = \underline{\quad} \cdot 10$$


$$5 \cdot \underline{\quad} = 10 \cdot 4$$

Rechne! Achte auf das Rechenzeichen!



$5 \cdot 3 = 15$	$2 \cdot 5 = 10$	$64 - 28 = 36$
$3 \cdot 8 = 24$	$7 \cdot 4 = 28$	$85 - 39 = 46$
$8 \cdot 9 = 72$	$6 \cdot 8 = 48$	$74 - 49 = 25$
$6 \cdot 5 = 30$	$3 \cdot 9 = 27$	$91 - 83 = 8$
$9 \cdot 6 = 54$	$4 \cdot 8 = 32$	$52 - 38 = 14$

Zahlenrätsel!



Meine Zahl ist um 8 kleiner als das Doppelte von  $5 \cdot 6$ .

Die Zahl heißt: **52**

In der Gärtnerei Rosenbaum werden Sträuße gebunden.  
In einem Strauß kommen 9 Rosen.  
45 Rosen müssen zu Sträußen gebunden werden.



Frage: **Wie viele Sträuße sind es?**

Rechnung:  **$45 : 9 = 5$**

Antwort: **5 Sträuße sind es insgesamt.**




Auf einem Kinderspielplatz stehen Vierradautos und Dreiräder.  
Die Autos haben zusammen ebenso viele Räder wie die Dreiräder.  
Auf dem Platz befinden sich sechs Vierradautos.  
Wie viele Dreiräder stehen auf dem Spielplatz?

Rechnung:  **$6 \cdot 4 = 24$        $24 : 3 = 8$**

Antwort: **8 Dreiräder stehen auf dem Spielplatz.**



Immer die Hälfte. Zeichne und schreibe die Geteiltaufgabe dazu.

		
$8 : 2 = 4$	$18 : 2 = 9$	$6 : 2 = 3$

Schreibe alle Quadratzahlen von 1 bis 100 auf!

**1, 4, 9, 16, 25, 36, 49, 64, 81, 100**

**Textaufgabe!**

**Die Klasse 2a bestellt 6 Hamburger, 8 Schnitzel mit Pommes und 2 Steaks mit Kartoffel.**

a) Wie viel Euro müssen jeweils für Hamburger, Schnitzel mit Pommes und Steaks bezahlt werden ?

**R.:**

**$3 \cdot 6 = 18$        $8 \cdot 6 = 48$        $2 \cdot 9 = 18$**

**A.:**

**Für Hamburger muss die Klasse 2a 18 Euro, für Schnitzel mit Pommes 48 Euro und für Steak mit Kartoffeln 18 Euro bezahlen.**

b) Wie viel Euro müssen insgesamt bezahlt werden?

**R.:  $18 + 48 + 18 = 84$**

**A.: Insgesamt müssen 84 Euro bezahlt werden.**

Speisekarte	
Hamburger	3 Euro
Schnitzel mit Pommes	6 Euro
Steak mit Kartoffeln	9 Euro

Wie viele Stücke sind es?



1 Apfel

2 Äpfel

4 Äpfel

3 Äpfel

4 Stücke

**8 Stücke**

**16 Stücke**

**12 Stücke**

Willi hat 20 Blumen.

Er möchte immer 4 davon zu einem Strauß binden.



Frage: **Wie viele Sträuße muss er binden?**

Rechnung:  **$20 : 4 = 5$**

Antwort: **Willi muss 5 Sträuße binden.**

**Löse die Aufgaben!**

$$4 \cdot 2 = 1 \cdot 8$$

$$3 \cdot 4 = 6 \cdot 2$$

$$6 \cdot 5 = 3 \cdot 10$$

$$5 \cdot 8 = 10 \cdot 4$$