

Klassenarbeit - Getreide

Getreidearten; Kulturpflanzen; Verwendung

Aufgabe 1

An der „Blüte“ erkennen wir die Getreideart.

mittellange Grannen, lange, schlanke Ähre, hat manchmal ein Mutterkorn	
keine Grannen, lockere Rispe	
ganz kurze (fast keine) Grannen, dicke Ähre	
sehr lange Grannen, lange, schmale Ähre	

___/4P

Aufgabe 2

Benenne die folgenden Getreidepflanzen (P) und den Fruchtstand (F)!



P: _____

F: _____

___/8P

Aufgabe 3

Das Getreide gehört zu den Kulturpflanzen. Erkläre den Begriff. Beginne so:

Kulturpflanzen sind Pflanzen, die

Nenne drei weitere Kulturpflanzen!

1. _____
2. _____
3. _____



___ /4P

Aufgabe 4

Der Mensch nutzt das Getreide für seine Ernährung und als Viehfutter. Wozu verwendet man:

Weizen	
Roggen	
Hafer	
Gerste	

___ /4P

Aufgabe 5

Aus welchem Getreide wurden diese Nahrungsmittel hergestellt?

Nudeln




Malzkaffee



Müsliflocken




Kuchen



___ /4P

Aufgabe 6

Benenne die Teile der Getreidepflanze!



___/6P

Aufgabe 7

Nenne drei Tiere, die großen Schaden auf den Feldern anrichten können!



___/3P

Aufgabe 8

Ergänze die Berufe!

Der _____ sät und erntet das Korn.

Der _____ backt herrliches Brot und leckeren Kuchen.

Der _____ mahlt das Korn zu Mehl.

Der _____ dankt am Erntedankfest für die gute Ernte.



___/4P

Aufgabe 9

Wie heißen die Fruchtstände der verschiedenen Getreidearten?

Getreideart	Fruchtstand
Mais	_____
Roggen	_____
Hafer	_____

___ /3P

Aufgabe 10

Setze das richtige Wort ein!

In früheren Zeiten benutzten die Bauern zum Dreschen einen

_____ ,

heute haben sie dafür einen _____ .

___ /2P

Aufgabe 11

Wozu wird Weizen verwendet?

___ /4P

Lösung Klassenarbeit - Getreide

Getreidearten; Kulturpflanzen; Verwendung

Aufgabe 1

An der „Blüte“ erkennen wir die Getreideart.

mittellange Grannen, lange, schlanke Ähre, hat manchmal ein Mutterkorn	Roggen
keine Grannen, lockere Rispe	Hafer
ganz kurze (fast keine) Grannen, dicke Ähre	Weizen
sehr lange Grannen, lange, schmale Ähre	Gerste

___/4P

Aufgabe 2

Benenne die folgenden Getreidepflanzen (P) und den Fruchtstand (F)!



P: **Gerste**

Hafer

Roggen

Weizen

F: **Ähre**

Rispen

Ähre

Ähre

___/8P

Aufgabe 3

Das Getreide gehört zu den Kulturpflanzen. Erkläre den Begriff. Beginne so:

Kulturpflanzen sind Pflanzen, die

aus Wildpflanzen vom Menschen gezüchtet, gepflegt und genutzt werden.

Nenne drei weitere Kulturpflanzen!

1. **Reis**
2. **Mais**
3. **Hirse**



___ /4P

Aufgabe 4

Der Mensch nutzt das Getreide für seine Ernährung und als Viehfutter. Wozu verwendet man:

Weizen	Mehl für Brote und Brötchen, Tierfutter
Roggen	dunkles Mehl für Brote, Tierfutter
Hafer	Haferflocken, Pferdefutter
Gerste	Malz für Kaffee und Bier

___ /4P

Aufgabe 5

Aus welchem Getreide wurden diese Nahrungsmittel hergestellt?

Nudeln



Weizen

Malzkaffee




Gerste

Müsliflocken



Hafer

Kuchen




Weizen

___ /4P

Aufgabe 6

Benenne die Teile der Getreidepflanze!



___ /6P

Aufgabe 7

Nenne drei Tiere, die großen Schaden auf den Feldern anrichten können!

Sperling, Hamster, Feldmaus



___ /3P

Aufgabe 8

Ergänze die Berufe!

Der **Bauer** sät und erntet das Korn.

Der **Bäcker** backt herrliches Brot und leckeren Kuchen.

Der **Müller** mahlt das Korn zu Mehl.

Der **Pastor** dankt am Erntedankfest für die gute Ernte.



___ /4P

Aufgabe 9

Wie heißen die Fruchtstände der verschiedenen Getreidearten?

Getreideart	Fruchtstand
Mais	Kolben
Roggen	Ähre
Hafer	Rispe

___ /3P

Aufgabe 10

Setze das richtige Wort ein!

In früheren Zeiten benutzten die Bauern zum Dreschen einen **Dreschflegel**, heute haben sie dafür einen **Mähdrescher**.

___ /2P

Aufgabe 11

Wozu wird Weizen verwendet?

Brötchen, Weißbrot, Kuchen, Nudeln

___ /4P

Viel Erfolg!!

Gesamt: ___/46P

Note	1	1-	1-2	2+	2	2-	2-3	3+	3	3-	3-4	4+	4	4-	4-5	5+	5	5-	5-6	6+
Punkte	41	39	37	36	34	32	31	29	27	25	23	20	18	16	14	13	11	9	8	6