

Klassenarbeit - Getreide

Getreidesorten; Getreideanbau heute; Fruchtstand; Getreideanbau früher; Mehl; Getreidekorn; Backen; Verarbeitung zu Mehl; Getreideprodukte

Aufgabe 1

Nenne drei Tiere, die großen Schaden auf den Feldern anrichten können!

___/3P



Aufgabe 2

Welche Getreidesorten außer Weizen, Roggen, Hafer und Gerste kennst du noch?

___/2P

Aufgabe 3

Nenne die drei Arbeitsschritte des Bauern in der richtigen Reihenfolge, bevor das Getreide wächst!

1. _____ 2. _____ 3. _____

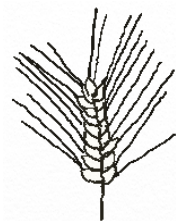
___/3P

Aufgabe 4

Schreibe neben die Zeichnung, um welche Getreidesorte es sich handelt.





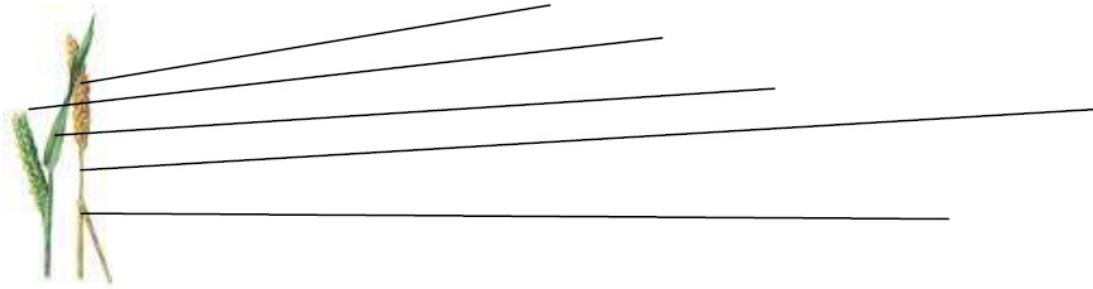




___/4P

Aufgabe 5

Beschrifte die Abbildung!



___ /5P

Aufgabe 6

Worin wachsen die Körner beim Hafer und worin beim Mais?

___ /2P

Aufgabe 7

Welche Getreidesorten haben Ähren?

___ /3P

Aufgabe 8

Wozu nutzte man früher eine Sense?

___ /1P

Aufgabe 9

Warum ist Vollkornmehl für unsere Ernährung so gesund?

___ /2P

Aufgabe 10

Wer zog früher den Pflug?

___ /1P

Aufgabe 11

Zeichne ein Korn und beschrifte die drei wichtigsten Teile!

___/3P

Aufgabe 12

Was verwendet der Bäcker auch statt Hefe?

___/1P

Aufgabe 13

Wozu nutzte man früher einen Dreschflegel?



___/1P

Aufgabe 14

Welche Teile des Korns werden beim Mahlen zu Weizenmehl entfernt?

___/2P

Aufgabe 15

Schreibe zu den Getreidesorten je ein Produkt außer Mehl auf!

Weizen: _____

Mais: _____

Gerste: _____

Roggen: _____

Hafer: _____

___/5P

Aufgabe 16

Wie heißt der Teil des Getreidekorns, aus dem die neue Pflanze wächst?

___/1P

Aufgabe 17

Wie lautet der andere Name für Weißmehl?

___/1P

Aufgabe 18

Warum wird beim Backen Hefe verwendet?

___/1P



Lösung Klassenarbeit - Getreide

Getreidesorten; Getreideanbau heute; Fruchtstand; Getreideanbau früher; Mehl; Getreidekorn; Backen; Verarbeitung zu Mehl; Getreideprodukte

Aufgabe 1

Nenne drei Tiere, die großen Schaden auf den Feldern anrichten können!

Sperling, Hamster, Feldmaus

___ /3P



Aufgabe 2

Welche Getreidesorten außer Weizen, Roggen, Hafer und Gerste kennst du noch?

Mais, Reis, Hirse, Dinkel

___ /2P

Aufgabe 3

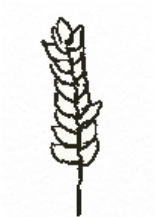
Nenne die drei Arbeitsschritte des Bauern in der richtigen Reihenfolge, bevor das Getreide wächst!

1. **Acker pflügen** 2. **eggen** 3. **Körner einsähen**

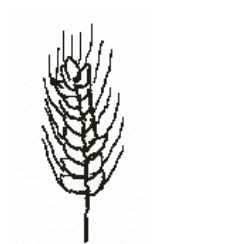
___ /3P

Aufgabe 4

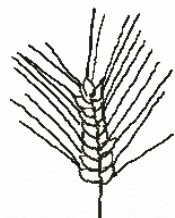
Schreibe neben die Zeichnung, um welche Getreidesorte es sich handelt.



Weizen



Roggen



Gerste



Hafer

___ /4P

Aufgabe 5

Beschrifte die Abbildung!



Aufgabe 6

Worin wachsen die Körner beim Hafer und worin beim Mais?

Beim Hafer wachsen die Körner an Rispen, beim Mais an Kolben.

___ /5P

___ /2P

Aufgabe 7

Welche Getreidesorten haben Ähren?

Weizen, Roggen, Gerste

___ /3P

Aufgabe 8

Wozu nutzte man früher eine Sense?

Um das Getreide zu mähen.

___ /1P

Aufgabe 9

Warum ist Vollkornmehl für unsere Ernährung so gesund?

**Es enthält viele Vitamine und Mineralstoffe.
Man wird davon nicht dick. Es macht länger satt.**

___ /2P

Aufgabe 10

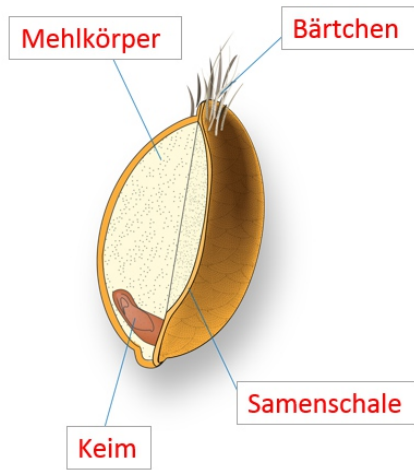
Wer zog früher den Pflug?

In der Regel ein Pferd.

___ /1P

Aufgabe 11

Zeichne ein Korn und beschrifte die drei wichtigsten Teile!



___/3P

Aufgabe 12

Was verwendet der Bäcker auch statt Hefe?

Sauerteig

___/1P

Aufgabe 13

Wozu nutzte man früher einen Dreschflegel?

Um die Körner aus den Ähren zu schlagen.



___/1P

Aufgabe 14

Welche Teile des Korns werden beim Mahlen zu Weizenmehl entfernt?

Der fetthaltige Keim.

___/2P

Aufgabe 15

Schreibe zu den Getreidesorten je ein Produkt außer Mehl auf!

- Weizen: **Brot, Müsli, Kuchen**
- Mais: **Cornflakes, Grieß, Popkorn**
- Gerste: **Malzbier, Bier, Kornkaffee**
- Roggen: **Kornkaffee, Brot**
- Hafer: **Haferflocken, Auflauf, Suppen**

___/5P

Aufgabe 16

Wie heißt der Teil des Getreidekorns, aus dem die neue Pflanze wächst?

Keim

___/1P

Aufgabe 17

Wie lautet der andere Name für Weißmehl?

Auszugsmehl

___/1P

Aufgabe 18

Warum wird beim Backen Hefe verwendet?

Damit der Teig aufgeht.

Viel Glück!!

___/1P
Gesamt: ___/41P



Note	1	1-	1-2	2+	2	2-	2-3	3+	3	3-	3-4	4+	4	4-	4-5	5+	5	5-	5-6	6+
Punkte	36	35	33	32	30	29	27	26	24	22	20	18	16	14	13	11	10	8	7	5