

# Klassenarbeit - Instrumente

Klavier; Blasinstrumente; Streichinstrumente

## Aufgabe 1

**Nenne die zwei Formen des Klaviers.**

1. \_\_\_\_\_

2. \_\_\_\_\_



\_\_\_ /2P

## Aufgabe 2

**Welches Merkmal haben alle Blechblasinstrumente gemeinsam?**

\_\_\_\_\_

\_\_\_\_\_



\_\_\_ /1P

## Aufgabe 3

**Wie lang ist die Röhre der Trompete und der Tuba?**



Trompete: \_\_\_\_\_

Tuba: \_\_\_\_\_

\_\_\_ /2P

## Aufgabe 4

**Welche Holzbläser kennst du?**

1. \_\_\_\_\_

3. \_\_\_\_\_

2. \_\_\_\_\_

\_\_\_ /3P

## Aufgabe 5

**Welche 2 große Vorteile hat der Flügel gegenüber dem Piano?**

1. \_\_\_\_\_

2. \_\_\_\_\_

\_\_\_ /2P

Aufgabe 6

Nenne die vier Streichinstrumente (Geigen).

1. \_\_\_\_\_
2. \_\_\_\_\_
3. \_\_\_\_\_
4. \_\_\_\_\_



\_\_\_ /4P

Aufgabe 7

Blockflöten werden in verschiedenen Größen gebaut. Nenne 4!

1. \_\_\_\_\_
2. \_\_\_\_\_
3. \_\_\_\_\_
4. \_\_\_\_\_

\_\_\_ /4P

Aufgabe 8

In welche zwei Gruppen kann man die Blasinstrumente unterteilen (man unterscheidet sie nach dem Material, aus dem sie gemacht sind)?

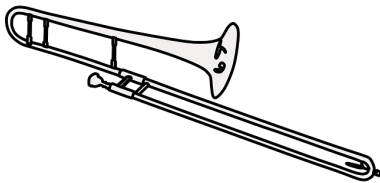
1. \_\_\_\_\_
2. \_\_\_\_\_

\_\_\_ /2P

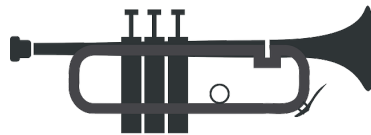
Aufgabe 9

Trage die Namen der Blasinstrumente ein.

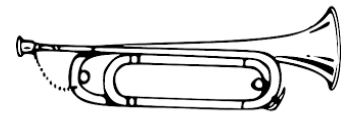
**Tuba, Trompete, Fanfare, Posaune, Jagdhorn, Horn**



\_\_\_\_\_




\_\_\_\_\_



\_\_\_\_\_



\_\_\_\_\_



\_\_\_\_\_



\_\_\_\_\_

\_\_\_ /6P

## Aufgabe 10

### Welche Höhe und welche Breite hat ein Klavier?

- Höhe: 1,30 cm, Breite: 1,50 cm
- Höhe: 0,50 cm Breite: 2,50 cm
- Höhe: 2,30 cm Breite: 1,00 cm

### Wie viel wiegt ein Klavier?

- ca 50 kg
- ca 100 kg
- ca 200 kg

### Wie viel wiegt ein Flügel?

- ca 50 kg
- ca 500 kg
- ca 5000 kg

### Wie oft passt das Klavier in den Flügel (in kg)?

- 0,5 mal
- 1 mal
- 2 mal

### Wie viele Tasten hat ein Klavier?

- 33 Tasten
- 88 Tasten
- 99 Tasten

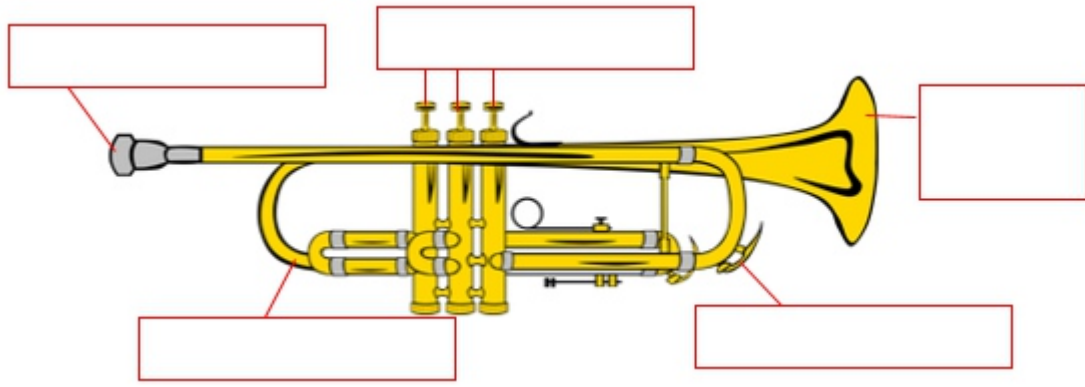
### Wie viele Metallsaiten hat ein Klavier?

- 67
- 115
- 216

\_\_\_/6P

## Aufgabe 11

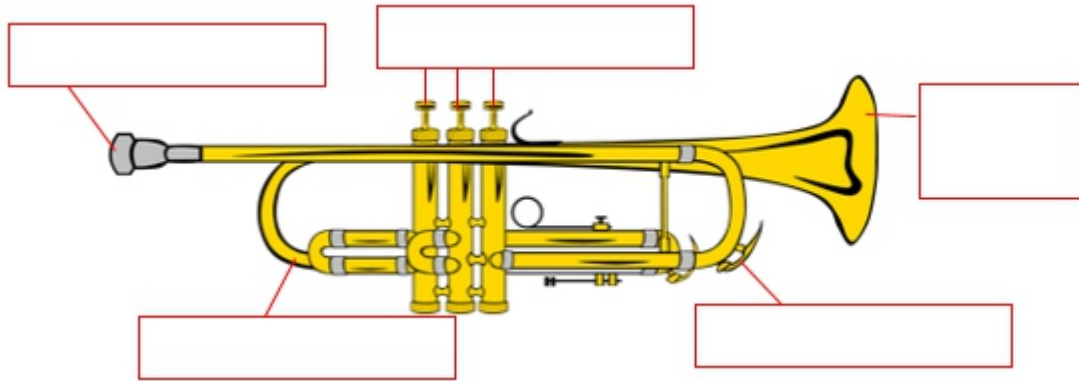
**Schreibe den Namen der Trompetenteile an die richtige Stelle.**



\_\_\_/5P

Aufgabe 11

Schreibe den Namen der Trompetenteile an die richtige Stelle.



\_\_\_/5P

Aufgabe 12

Warum gibt es auf dem Klavier auch schwarze Tasten?

---

\_\_\_/1P

# Lösung Klassenarbeit - Instrumente

Klavier; Blasinstrumente; Streichinstrumente

## Aufgabe 1

Nenne die zwei Formen des Klaviers.

1. **Flügel**
2. **Pianoforte (kurz Pinano genannt)**



\_\_\_ /2P

## Aufgabe 2

Welches Merkmal haben alle Blechblasinstrumente gemeinsam?

**abnehmbares Mundstück, lange Schallröhre, einen Schallbecher**



\_\_\_ /1P

## Aufgabe 3

Wie lang ist die Röhre der Trompete und der Tuba?



Trompete: **1,30 m lang**

Tuba: **über 4 m lang**

\_\_\_ /2P

## Aufgabe 4

Welche Holzbläser kennst du?

1. **Fagott**
2. **Pikkoloflöte**
3. **Querflöte**

\_\_\_ /3P

## Aufgabe 5

Welche 2 große Vorteile hat der Flügel gegenüber dem Piano?

1. **Es lassen sich mehr unterscheidliche Töne erzeugen**
2. **größere Lautstärke durch großen Klankörper**

\_\_\_ /2P

Aufgabe 6

Nenne die vier Streichinstrumente (Geigen).

1. **Viola**
2. **Violine**
3. **Cello**
4. **Kontrabass**



\_\_\_ /4P

Aufgabe 7

Blockflöten werden in verschiedenen Größen gebaut. Nenne 4!

1. **Sopranblockflöte**
2. **Tenorblockflöte**
3. **Altblockflöte**
4. **Bassblockflöte**

\_\_\_ /4P

Aufgabe 8

In welche zwei Gruppen kann man die Blasinstrumente unterteilen (man unterscheidet sie nach dem Material, aus dem sie gemacht sind)?

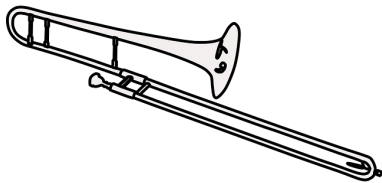
1. **Blechblasinstrumente**
2. **Holzblasinstrumente**

\_\_\_ /2P

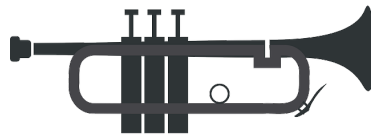
Aufgabe 9

Trage die Namen der Blasinstrumente ein.

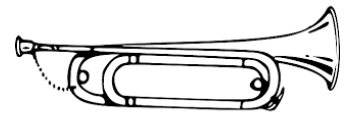
**Tuba, Trompete, Fanfare, Posaune, Jagdhorn, Horn**



**Posaune**




**Trompete**



**Fanfare**



**Jagdhorn**



**Horn**



**Tuba**

\_\_\_ /6P

## Aufgabe 10

### Welche Höhe und welche Breite hat ein Klavier?

- Höhe: 1,30 cm, Breite: 1,50 cm
- Höhe: 0,50 cm Breite: 2,50 cm
- Höhe: 2,30 cm Breite: 1,00 cm

### Wie viel wiegt ein Klavier?

- ca 50 kg
- ca 100 kg
- ca 200 kg

### Wie viel wiegt ein Flügel?

- ca 50 kg
- ca 500 kg
- ca 5000 kg

### Wie oft passt das Klavier in den Flügel (in kg)?

- 0,5 mal
- 1 mal
- 2 mal

### Wie viele Tasten hat ein Klavier?

- 33 Tasten
- 88 Tasten
- 99 Tasten

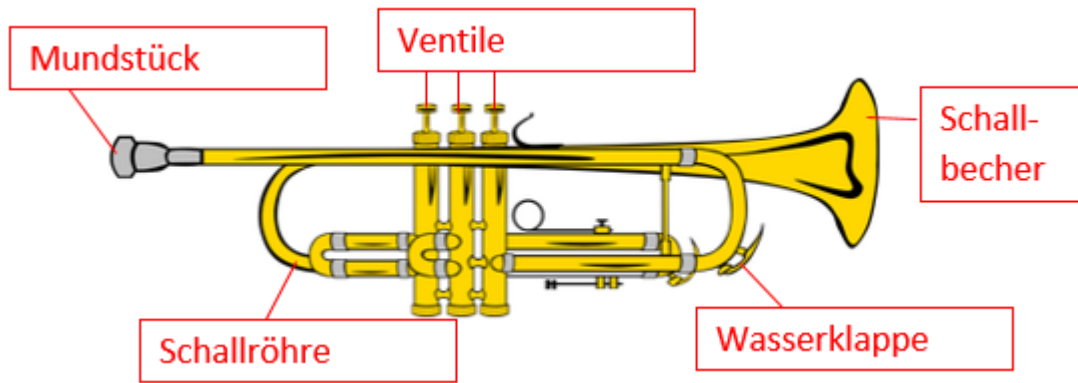
### Wie viele Metallsaiten hat ein Klavier?

- 67
- 115
- 216



Aufgabe 11

Schreibe den Namen der Trompetenteile an die richtige Stelle.



\_\_\_/5P

Aufgabe 12

Warum gibt es auf dem Klavier auch schwarze Tasten?

**Sie heißen Zwischentöne und sind höher.**

\_\_\_/1P

*Viel Erfolg!!*

Gesamt: \_\_\_/38P

Note	1	1-	1-2	2+	2	2-	2-3	3+	3	3-	3-4	4+	4	4-	4-5	5+	5	5-	5-6	6+
Punkte	34	32	31	29	28	27	25	24	22	20	19	17	15	13	12	10	9	8	6	5