

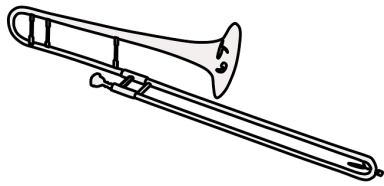
Klassenarbeit - Instrumente

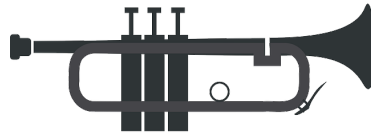
Blasinstrumente; Streichinstrumente; Klavier

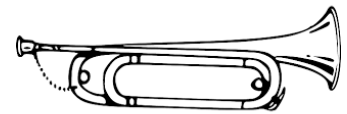
Aufgabe 1

Trage die Namen der Blasinstrumente ein.


Tuba, Trompete, Fanfare, Posaune, Jagdhorn, Horn













_____/6P

Aufgabe 2

Welche Streichinstrumente kennst du?

1. _____

3. _____

2. _____

4. _____

_____/4P

Aufgabe 3

Aus welchen drei Teilen besteht jedes Blechblasinstrument?

1. _____

2. _____

3. _____



_____/3P

Aufgabe 4

Welche 2 große Vorteile hat der Flügel gegenüber dem Piano?

1. _____
2. _____

___ /2P

Aufgabe 5

Zu welcher Instrumentengruppe gehört das Klavier?



Nenne drei weitere Instrumente, die zu dieser Gruppe gehören!

Nenne 3 Unterschiede zwischen einem dieser Instrumente und dem Klavier!

___ /7P

Aufgabe 6

Welche Blechblasinstrumente haben kein Ventil?

1. _____
2. _____

___ /2P

Aufgabe 7

Schreibe die Instrumente, die zu einer Gruppe gehören, jeweils in eine Spalte. Finde jeweils noch ein weiteres Instrument.

Cello, Fagott, Bratsche, Tuba, Geige, Oboe, Trompete, Klarinette, Posaune

Streichinstrumente	Holzblasinstrumente	Blechblasinstrumente

___ /12P

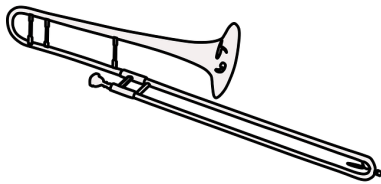
Lösung Klassenarbeit - Instrumente

Blasinstrumente; Streichinstrumente; Klavier

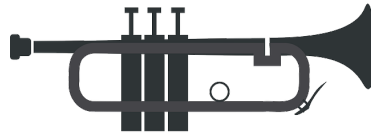
Aufgabe 1

Trage die Namen der Blasinstrumente ein.

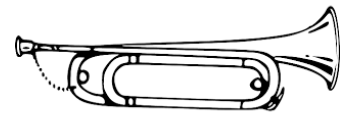
Tuba, Trompete, Fanfare, Posaune, Jagdhorn, Horn



Posaune




Trompete



Fanfare



Jagdhorn



Horn



Tuba

___ /6P

Aufgabe 2

Welche Streichinstrumente kennst du?

1. **Geige**
2. **Cello**
3. **Violine**
4. **Baß**

___ /4P

Aufgabe 3

Aus welchen drei Teilen besteht jedes Blechblasinstrument?

1. **Schalltrichter**
2. **Schallrohr**
3. **Mundstück**



___ /3P

Aufgabe 4

Welche 2 große Vorteile hat der Flügel gegenüber dem Piano?

1. **Es lassen sich mehr unterscheidliche Töne erzeugen**
2. **größere Lautstärke durch großen Klankörper**

___ /2P

Aufgabe 5

Zu welcher Instrumentengruppe gehört das Klavier?

Zu den Tasteninstrumenten.

Nenne drei weitere Instrumente, die zu dieser Gruppe gehören!

Orgel, Akkordeon, Keyboard

Nenne 3 Unterschiede zwischen einem dieser Instrumente und dem Klavier!

- z. B. Akkordeon:**
1. **Es kann in die Hand genommen werden**
 2. **Es wird gezogen**
 3. **Es hat weniger Tasten**



___ /7P

Aufgabe 6

Welche Blechblasinstrumente haben kein Ventil?

1. **Fanfare und Jagdhorn - man kann nur wenige Töne spielen.**
2. **Posaune - hat statt dessen einen Zug.**

___ /2P

Aufgabe 7

Schreibe die Instrumente, die zu einer Gruppe gehören, jeweils in eine Spalte. Finde jeweils noch ein weiteres Instrument.

Cello, Fagott, Bratsche, Tuba, Geige, Oboe, Trompete, Klarinette, Posaune

Streichinstrumente	Holzblasinstrumente	Blechblasinstrumente
Cello	Klarinette	Tuba
Bratsche	Oboe	Posaune
Geige	Fagott	Trompete
Kontrabass	Piccoloflöte	Horn

___ /12P

Viel Erfolg!!

Gesamt: ___ /36P

Note	1	1-	1-2	2+	2	2-	2-3	3+	3	3-	3-4	4+	4	4-	4-5	5+	5	5-	5-6	6+
Punkte	32	31	29	28	27	25	24	22	21	19	18	16	14	13	11	10	9	7	6	4