

# Klassenarbeit - Zahlenraum bis 100

Zahlengitter; Zahlen ordnen; Nachbarzahlen; Zahlenfolgen; Vergleichszeichen (kleiner, größer, gleich)

## Aufgabe 1

1	2							10
			■			18		
		23				●		
	■				◇			40
			44					●
		◇				■		
●				65				◇
			●			77		
81						■		
	◇							100

Wie heißen die Zahlen auf den Plätzen?

■ \_\_\_\_\_, \_\_\_\_\_, \_\_\_\_\_, \_\_\_\_\_

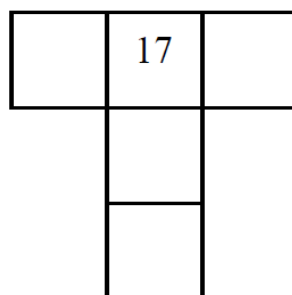

● \_\_\_\_\_, \_\_\_\_\_, \_\_\_\_\_, \_\_\_\_\_

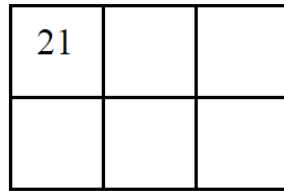
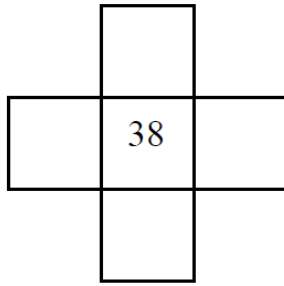
◇ \_\_\_\_\_, \_\_\_\_\_, \_\_\_\_\_, \_\_\_\_\_

\_\_\_ /12P

## Aufgabe 2

Ausschnitte aus dem Hunderterfeld. Fülle aus!





\_\_\_/17P

Aufgabe 3

**Ordne die Zahlen: Beginne mit der kleinsten Zahl!**

24, 51, 36, 15, 68, 49

---

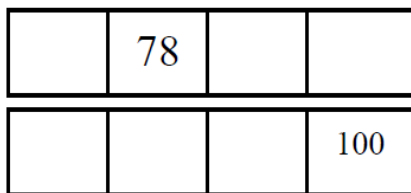
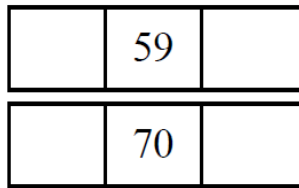
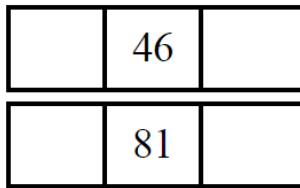
91, 70, 43, 22, 54, 34

---

\_\_\_/12P

Aufgabe 4

**Trage die Nachbarzahlen ein.**



\_\_\_/14P

Aufgabe 5

**Vervollständige die Zahlenfolge.**



80, 82, 84, \_\_\_\_\_, \_\_\_\_\_, \_\_\_\_\_


35, 40, 45, \_\_\_\_\_, \_\_\_\_\_, \_\_\_\_\_

92, 91, 90, \_\_\_\_\_, \_\_\_\_\_, \_\_\_\_\_

\_\_\_/9P

Aufgabe 6

**Größer >, kleiner < oder gleich = ?**



**Setze richtig ein!**

60 \_\_\_\_ 59

73 \_\_\_\_  $69 + 4$

23 \_\_\_\_ 32

43 \_\_\_\_ 54

72 \_\_\_\_ 27

\_\_\_\_ /5P

# Lösung Klassenarbeit - Zahlenraum bis 100

Zahlengitter; Zahlen ordnen; Nachbarzahlen; Zahlenfolgen; Vergleichszeichen (kleiner, größer, gleich)

## Aufgabe 1

1	2								10
				■			18		
		23					●		
	■				◇				40
			44						●
		◇					■		
●				65				◇	
81			●			77			
	◇					■			
									100

Wie heißen die Zahlen auf den Plätzen?

■ **15, 32, 58, 87**

● **28, 50, 61, 74**

◇ **36, 53, 69, 92**

\_\_\_/12P

## Aufgabe 2

Ausschnitte aus dem Hunderterfeld. Fülle aus!

		60
		70
78	79	80

16	17	18
	27	
	37	

	28	
37	38	39
	48	

21	22	23
31	32	33

\_\_\_/17P

Aufgabe 3

**Ordne die Zahlen: Beginne mit der kleinsten Zahl!**

24, 51, 36, 15, 68, 49      **15, 24, 36, 49, 51, 68**

91, 70, 43, 22, 54, 34      **22, 34, 43, 54, 70, 91**

\_\_\_/12P

Aufgabe 4

**Trage die Nachbarzahlen ein.**

45	46	47
80	81	82

58	59	60
69	70	71

77	78	79	80
97	98	99	100

\_\_\_/14P

Aufgabe 5

**Vervollständige die Zahlenfolge.**



80, 82, 84, **86, 88, 90**


35, 40, 45, **50, 55, 60**

92, 91, 90, **89, 88, 87**

\_\_\_/9P

Aufgabe 6

**Größer >, kleiner < oder gleich = ?**



**Setze richtig ein!**

60 > 59

73 = 69 + 4

23 < 32

43 < 54

72 > 27

\_\_\_/5P

*Viel Glück!!*

Gesamt: \_\_\_\_/69P

<b>Note</b>	<b>1</b>	<b>1-</b>	<b>1-2</b>	<b>2+</b>	<b>2</b>	<b>2-</b>	<b>2-3</b>	<b>3+</b>	<b>3</b>	<b>3-</b>	<b>3-4</b>	<b>4+</b>	<b>4</b>	<b>4-</b>	<b>4-5</b>	<b>5+</b>	<b>5</b>	<b>5-</b>	<b>5-6</b>	<b>6+</b>
<b>Punkte</b>	65	62	60	57	55	52	50	47	44	41	37	34	31	27	24	20	17	14	12	9

klassenarbeiten.de - Klassenarbeit 86 - Grundschule, 2. Klasse, Mathematik