

Klassenarbeit - Noten

Notenwerte; Pausen; Notensystem

Aufgabe 1

Schreibe die Namen der Noten unter die Töne.



___/7P

Aufgabe 2

Male je vier.

Achtelnoten	Halbe Noten
Ganze Noten	Viertelnoten

___/4P

Aufgabe 3

Kreuze das richtige an.

Four eighth notes are shown in a row.	<input type="checkbox"/> vier Achtelnoten <input type="checkbox"/> vier Viertelnoten <input type="checkbox"/> vier Viertelpausen
---------------------------------------	--

Two half notes are shown in a row.	<input type="checkbox"/> zwei ganze Noten <input type="checkbox"/> zwei Achtelnoten <input type="checkbox"/> zwei halbe Noten
------------------------------------	---



- eine ganze Note
- eine ganze Pause
- eine halbe Note



- eine ganze Pause
- eine halbe Pause
- eine Viertelpause



- eine Achtelpause
- eine Viertelpause
- eine halbe Pause



- vier Achtelnoten
- vier Viertelnoten
- vier Sechzehntelnoten



- eine Achtelnote
- eine ganze Note
- eine Dreiviertelnote




- eine halbe Pause
- eine ganze Pause
- eine Viertelpause




- drei Viertelnoten
- drei Achtelnoten
- drei Sechzehntelnoten



- eine Viertelpause
- eine Achtelpause
- ein Taktstrich

	<input type="checkbox"/> eine punktierte Viertelnote <input type="checkbox"/> eine punktierte Achtelnote <input type="checkbox"/> eine punktierte halbe Note
---	--

	<input type="checkbox"/> eine Viertelpause <input type="checkbox"/> eine Achtelpause <input type="checkbox"/> eine Sechzehntelpause
---	---

___ /12P

Aufgabe 4

Ergänze die Sätze.

Eine Ganze Note dauert solange wie _____ Viertelnoten.

Zwei Halbe Noten dauern solange wie _____ Achtelnoten.









Vier _____ dauern solange wie eine Halbe Note.

Zwei _____ dauern solange wie eine Ganze Note.

___ /4P

Aufgabe 5

Welche Noten dauern gleich lang? Verbinde.

___ /4P

Aufgabe 6

Schreibe die Wörter AFFE und DACH als Noten.



___ /16P

Lösung Klassenarbeit - Noten

Notenwerte; Pausen; Notensystem

Aufgabe 1

Schreibe die Namen der Noten unter die Töne.

A musical staff with seven notes. The notes are: C (first space), A (second space), F (first space), G (second space), D (first space), H (second space), and E (first space). Below the staff, the letters C, A, F, G, D, H, and E are written in red.

___/7P

Aufgabe 2








Male je vier.






<p>Four eighth notes (quaternoten) are shown in a row.</p>	<p>Four half notes (halbe Noten) are shown in a row.</p>
Achtelnoten	Halbe Noten
<p>Four whole notes (ganze Noten) are shown in a row.</p>	<p>Four quarter notes (viertelnoten) are shown in a row.</p>
Ganze Noten	Viertelnoten

___/4P

Aufgabe 3

Kreuze das richtige an.

	<input type="checkbox"/> vier Achtelnoten <input checked="" type="checkbox"/> vier Viertelnoten <input type="checkbox"/> vier Viertelpausen
	<input type="checkbox"/> zwei ganze Noten <input type="checkbox"/> zwei Achtelnoten <input checked="" type="checkbox"/> zwei halbe Noten
	<input checked="" type="checkbox"/> eine ganze Note <input type="checkbox"/> eine ganze Pause <input type="checkbox"/> eine halbe Note
	<input checked="" type="checkbox"/> eine ganze Pause <input type="checkbox"/> eine halbe Pause <input type="checkbox"/> eine Viertelpause
	<input type="checkbox"/> eine Achtelpause <input checked="" type="checkbox"/> eine Viertelpause <input type="checkbox"/> eine halbe Pause
	<input checked="" type="checkbox"/> vier Achtelnoten <input type="checkbox"/> vier Viertelnoten <input type="checkbox"/> vier Sechzehntelnoten
	<input type="checkbox"/> eine Achtelnote <input type="checkbox"/> eine ganze Note <input checked="" type="checkbox"/> eine Dreiviertelnote

	<input checked="" type="checkbox"/> eine halbe Pause <input type="checkbox"/> eine ganze Pause <input type="checkbox"/> eine Viertelpause
	<input type="checkbox"/> drei Viertelnoten <input type="checkbox"/> drei Achtelnoten <input checked="" type="checkbox"/> drei Sechzehntelnoten
	<input type="checkbox"/> eine Viertelpause <input checked="" type="checkbox"/> eine Achtelpause <input type="checkbox"/> ein Taktstrich
	<input checked="" type="checkbox"/> eine punktierte Viertelnote <input type="checkbox"/> eine punktierte Achtelnote <input type="checkbox"/> eine punktierte halbe Note
	<input type="checkbox"/> eine Viertelpause <input type="checkbox"/> eine Achtelpause <input checked="" type="checkbox"/> eine Sechzehntelpause

___/12P

Aufgabe 4

Ergänze die Sätze.

Eine Ganze Note dauert solange wie **vier** Viertelnoten.

Zwei Halbe Noten dauern solange wie **acht** Achtelnoten.

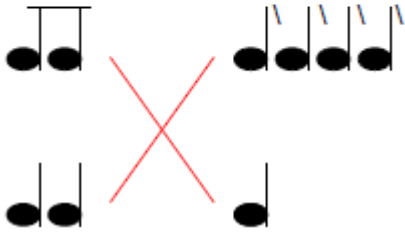
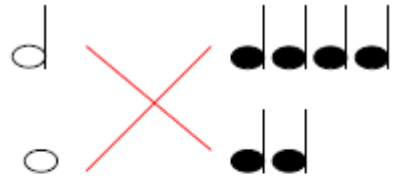
Vier **Achtelnoten** dauern solange wie eine Halbe Note.

Zwei **Halbe Noten** dauern solange wie eine Ganze Note.

___/4P

Aufgabe 5

Welche Noten dauern gleich lang? Verbinde.



Aufgabe 6

Schreibe die Wörter **AFFE** und **DACH** als Noten.

A musical staff in treble clef showing the notes for the words 'af' and 'dach'. The notes are: a' (first line), f' (second line), f' (second line), e' (first space), d' (first space), a' (first space), c' (first space), h' (second line).

___/16P

Viel Erfolg!!

Gesamt: ___/47P

Note	1	1-	1-2	2+	2	2-	2-3	3+	3	3-	3-4	4+	4	4-	4-5	5+	5	5-	5-6	6+
Punkte	42	40	38	37	35	33	31	29	28	25	23	21	18	17	15	13	11	9	8	6