

Klassenarbeit - Noten

Notenwerte; Pausen; Notensystem

Aufgabe 1

Was gehört zusammen? Verbinde!

Achtelnote

Halbe Pause

Ganze Note


Achtelpause

Ganze Pause

Viertelnote

Viertelpause

Halbe Note



___/8P

Aufgabe 2

Ergänze.

Ein Notensystem hat _____ Linien und _____ Zwischenräume.

___/2P

Aufgabe 3

Schreibe die Namen der Noten unter die Töne.



___/7P

Aufgabe 4

In der Musik wird die Dauer von Geräuschen, Klängen und Tönen mit Zeichen dargestellt. Man nennt diese Zeichen Noten. Schreibe die vier wichtigsten Noten als Wörter auf.







- 1. _____
- 2. _____
- 3. _____
- 4. _____

___/4P

Aufgabe 5

Wie heißen die Noten?






	_____		_____
	_____		_____

___/4P

Aufgabe 6

Welche Wörter passen zu folgenden Notenbausteinen? Schreibe die Wörter richtig unter die Bausteine!

Rad, Sommertag, mitfahren, Vanilleeis, Rutschbahn

	_____		_____
	_____		_____
	_____		

___/5P

Aufgabe 7

Schreibe den Notennamen auf.

Handelt es sich um eine ganze Note, halbe Note, Achtelnote oder Viertelnote?

Wie viele Schläge hat die jeweilige Note.



Notennamen:				
Notenwert:				
Anzahl der Schläge:				

___/12P

Aufgabe 8

Was bedeutet der Punkt hinter einer Note?











___/1P

Lösung Klassenarbeit - Noten

Notenwerte; Pausen; Notensystem

Aufgabe 1

Was gehört zusammen? Verbinde!

Achtelnote	
Halbe Pause	
Ganze Note	
Achtelpause	
Ganze Pause	
Viertelnote	
Viertelpause	
Halbe Note	

Note: Red lines connect the text labels to the corresponding musical symbols on the staves.

___ /8P

Aufgabe 2

Ergänze.

Ein Notensystem hat **fünf** Linien und **vier** Zwischenräume.

___ /2P

Aufgabe 3

Schreibe die Namen der Noten unter die Töne.



C A F G D H E

___ /7P

Aufgabe 4

In der Musik wird die Dauer von Geräuschen, Klängen und Tönen mit Zeichen dargestellt. Man nennt diese Zeichen Noten. Schreibe die vier wichtigsten Noten als Wörter auf.

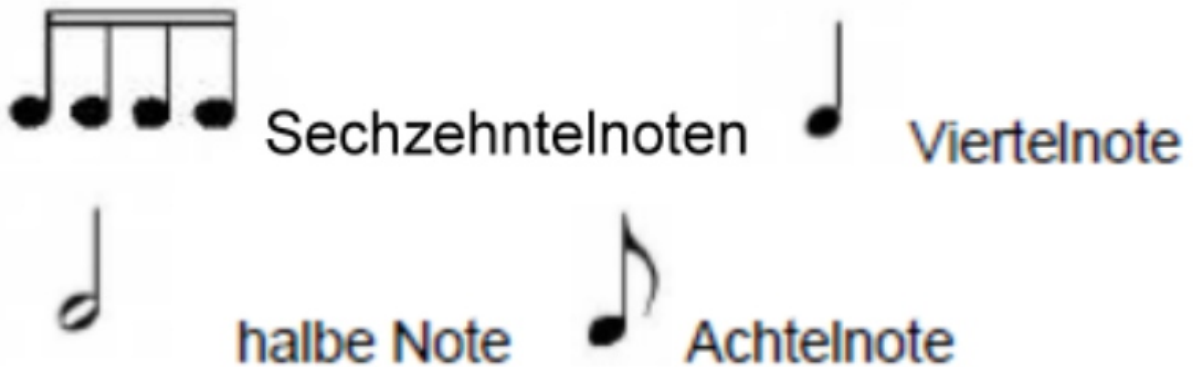


1. **Ganze Note**
2. **Halbe Note**
3. **Viertelnote**
4. **Achtelnote**

___/4P

Aufgabe 5

Wie heißen die Noten?



___/4P

Aufgabe 6

Welche Wörter passen zu folgenden Notenbausteinen? Schreibe die Wörter richtig unter die Bausteine!

Rad, Sommertag, mitfahren, Vanilleeis, Rutschbahn



Vanilleeis



Rutschbahn



Rad



Sommertag



mitfahren

___/5P

Aufgabe 8

Was bedeutet der Punkt hinter einer Note?



Ein Punkt hinter der Note bedeutet eine Verlängerung ihrer Dauer um die Hälfte ihres Wertes

____/1P

Viel Glück!!

Gesamt: ____/43P

Note	1	1-	1-2	2+	2	2-	2-3	3+	3	3-	3-4	4+	4	4-	4-5	5+	5	5-	5-6	6+
Punkte	38	37	35	33	32	30	29	27	25	23	21	19	17	15	13	12	10	9	7	5