

Klassenarbeit - Lebensraum Teich

Zonen des Teiches; Tiere am Teich; Frösche; Libelle; Amphibien

Aufgabe 1

Nenne zwei Unterschiede zwischen Teich und Tümpel!

___ /2P

Aufgabe 2

Diese Tiere haben wir beim Tümpeln entdeckt. Schreibe zu jedem Tier den Namen.



___ /4P

Aufgabe 3

Wie viele Eier legt ein Froschweibchen ungefähr ab?

Warum sind es so viele?



___ /3P


Aufgabe 4

**Wie läuft der Jahreskreislauf eines Frosches ab.
Schreibe Stichpunkte zu den Monaten auf.**

___ /6P

Aufgabe 5

Nenne fünf Frosch- bzw. Krötenarten!



___ /5P

Aufgabe 6

Warum gibt es immer weniger Frösche und Kröten. Nenne zwei Gründe.

___ /2P


Aufgabe 7

Wie heißt eine Libelle bevor sie fliegen kann und wo lebt sie in dieser Zeit?

___ /2P

Aufgabe 8

Erkläre folgenden Begriff: Amphibie



___/2P

Lösung Klassenarbeit - Lebensraum Teich

Zonen des Teiches; Tiere am Teich; Frösche; Libelle; Amphibien

Aufgabe 1

Nenne zwei Unterschiede zwischen Teich und Tümpel!

Teiche haben Zuflüsse und Abflüsse, Tümpel nicht. Teiche werden von Menschen gebaut und die Tümpel entstehen in der Natur.

___ /2P

Aufgabe 2

Diese Tiere haben wir beim Tümpeln entdeckt. Schreibe zu jedem Tier den Namen.



Wasserskorpion



Wasserläufer



Libellenlarve



Rückenschwimmer

___ /4P

Aufgabe 3

Wie viele Eier legt ein Froschweibchen ungefähr ab?

ca. 4000

Warum sind es so viele?

Weil sie viele Feinde haben und die Eier von diesen gefressen werden.



___ /3P

Aufgabe 4

Wie läuft der Jahreskreislauf eines Frosches ab.
Schreibe Stichpunkte zu den Monaten auf.

Dezember bis Februar: Er befindet sich in der Kältestarre.

~ März: Paarung und Laichzeit

April: Es entstehen Kaulquappen

Mai: Die Kaulquappen wachsen, es entstehen Hinter,-Vorderbeine. Sie atmen jetzt durch die Kiemen + Lunge.


Juni: Jetzt ist es ein winziger Frosch

Juli bis Oktober: Nun sind es Jungfrösche, ausgewachsen sind sie nach 3 Jahren

___ /6P

Aufgabe 5

Nenne fünf Frosch- bzw. Krötenarten!



Gelbbauchunke

Grasfrosch

Kreuzkröte

Wasserfrosch

Laubfrosch

___ /5P

Aufgabe 6

Warum gibt es immer weniger Frösche und Kröten. Nenne zwei Gründe.

1. Sie haben viele Feinde

2. Wenn sie sich einen Winterstarrenplatz suchen, hüpfen sie über die Straße und werden überfahren.

___ /2P

Aufgabe 7


Wie heißt eine Libelle bevor sie fliegen kann und wo lebt sie in dieser Zeit?

Sie heißt Libellenlarve und lebt im Wasser.

___ /2P

Aufgabe 8

Erkläre folgenden Begriff: Amphibie



- Dies sind Tiere, die**
- Eier legen
- Wasser und Land benötigen

___/2P

Viel Erfolg!!

Gesamt: ___/26P

Note	1	1-	1-2	2+	2	2-	2-3	3+	3	3-	3-4	4+	4	4-	4-5	5+	5	5-	5-6	6+
Punkte	23	22	21	20	19	18	17	16	15	14	13	11	10	9	8	7	6	5	4	3