

Klassenarbeit - Verkehrserziehung

Verhalten im Straßenverkehr; Verkehrssicheres Fahrrad; Vorfahrtsregeln; Verkehrsschilder; Radfahren; Verkehrsregeln

Aufgabe 1

Beim Anfahren vom Fahrbahnrand musst du vieles beachten.

Kreuze die richtigen Sätze an.

- Ich fahre mit dem Fahrrad zum Fahrbahnrand.
- Ich schaue links, rechts, links.
- Ich schaue nach hinten links um.
- Ich fahre mit der linken Hand am Lenker los.
- Ich steige von links auf mein Fahrrad auf.
- Ich gebe deutlich ein linkes Handzeichen.



___/3P

Aufgabe 2

Notiere mit den gegebenen Nummern alle Dinge, die zu einem verkehrssicheren Fahrrad gehören.



___/10P

Aufgabe 3





Du willst an einer Kreuzung ohne Verkehrszeichen nach links abbiegen.
Schreibe in der richtigen Reihenfolge auf, wie du dich verhalten sollst!

1. _____
2. _____
3. _____
4. _____
5. _____
6. _____
7. _____
8. _____

___ /4P

Aufgabe 4

Welche Verkehrszeichen sind das? Nenne sie und die jeweiligen Farben!

___ /8P

Aufgabe 5

Du kommst mit deinem Fahrrad aus einer Grundstückseinfahrt und willst nach rechts auf die Straße fahren. Was musst du alles beachten?

___ /6P

Aufgabe 6

Bei diesen Verkehrszeichen musst du dich unterschiedlich verhalten!



Genaue Bedeutung:

Verhalten:



Genaue Bedeutung:

Verhalten:

___ /6P

Aufgabe 7

**Früher, z.B. vor 30 Jahren, gab es nur Scheinwerfer und Rücklicht.
Warum sind jetzt diese Reflektoren nötig?**

___ /2P

Aufgabe 8

Es gibt vier verschiedene Möglichkeiten die Vorfahrt zu regeln. Nenne sie!

1. _____

2. _____

3. _____

4. _____

___ /4P

Lösung Klassenarbeit - Verkehrserziehung

Verhalten im Straßenverkehr; Verkehrssicheres Fahrrad; Vorfahrtsregeln;
Verkehrsschilder; Radfahren; Verkehrsregeln

Aufgabe 1

Beim Anfahren vom Fahrbahnrand musst du vieles beachten.

Kreuze die richtigen Sätze an.

- Ich fahre mit dem Fahrrad zum Fahrbahnrand.
- Ich schaue links, rechts, links.
- Ich schaue nach hinten links um.
- Ich fahre mit der linken Hand am Lenker los.
- Ich steige von links auf mein Fahrrad auf.
- Ich gebe deutlich ein linkes Handzeichen.



___/3P

Aufgabe 2

Notiere mit den gegebenen Nummern alle Dinge, die zu einem verkehrssicheren Fahrrad gehören.



**1. Glocke, 2. roter Großflächenrückstrahler, 3. Vorderbremse,
4. rote Schlussleuchte, 5. weißer Frontreflektor,
6. Scheinwerfer, 7. Dynamo, 8. Kette,
9. gelber Speichenrückstrahler, 10. Pedale**

___/10P

Aufgabe 3





Du willst an einer Kreuzung ohne Verkehrszeichen nach links abbiegen.
Schreibe in der richtigen Reihenfolge auf, wie du dich verhalten sollst!

1. **Nach hinten links umsehen**
2. **Handzeichen geben**
3. **Einordnen**
4. **Vorfahrtsregel beachten**
5. **Gegenverkehr Vorrang gewähren**
6. **Nochmals umsehen**
7. **In großen Bogen abbiegen**
8. **Auf Fußgänger achten**

___ /4P

Aufgabe 4

Welche Verkehrszeichen sind das? Nenne sie und die jeweiligen Farben!

			
Getrennter Fuß- und Radweg	Gemeinsamer Rad- und Fußweg	Sonderweg für Fußgänger	Vorfahrt gewähren
blau und weiß	blau und weiß	blau und weiß	rot und weiß

___ /8P

Aufgabe 5

Du kommst mit deinem Fahrrad aus einer Grundstückseinfahrt und willst nach rechts auf die Straße fahren. Was musst du alles beachten?

- Ich schiebe das Fahrrad bis zum Fahrbahnrand.**
- Ich achte auf den fließenden Verkehr (links, rechts, links schauen).**
- Ich stelle das Fahrrad in Fahrtrichtung.**
- Ich sehe mich nach hinten links um.**
- Ich gebe das linke Handzeichen.**
- Mit beiden Händen am Lenker fahre ich los und halte Spur.**

___ /6P

Aufgabe 6

Bei diesen Verkehrszeichen musst du dich unterschiedlich verhalten!



Genaue Bedeutung:

Halt! Vorfahrt gewähren

Verhalten:

Ich bleibe stehen! Mein Fuß muss auf dem Boden sein! Ich muss auch, wenn kein Auto kommt stehen bleiben.



Genaue Bedeutung:

Vorfahrt gewähren!

Verhalten:

Ich fahre vorsichtig an die Kreuzung heran, beachte die Vorfahrt und wenn kein Auto kommt, fahre ich weiter.

___ /6P

Aufgabe 7

Früher, z.B. vor 30 Jahren, gab es nur Scheinwerfer und Rücklicht.
Warum sind jetzt diese Reflektoren nötig?

Damit man am Tag und in der Nacht immer gut von den Autos gesehen wird.

___ /2P

Aufgabe 8

Es gibt vier verschiedene Möglichkeiten die Vorfahrt zu regeln. Nenne sie!

1. **rechts vor links**
2. **ein Polizist regelt den Verkehr**
3. **eine Ampel regelt den Verkehr**
4. **Ein Verkehrsschild regelt den Verkehr**

___ /4P

Viel Glück!!

Gesamt: ___/43P

Note	1	1-	1-2	2+	2	2-	2-3	3+	3	3-	3-4	4+	4	4-	4-5	5+	5	5-	5-6	6+
Punkte	38	37	35	33	32	30	29	27	25	23	21	19	17	15	13	12	10	9	7	5