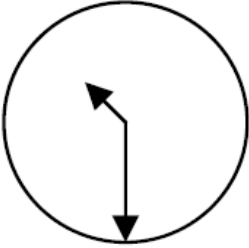
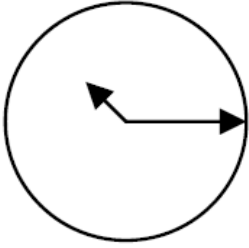
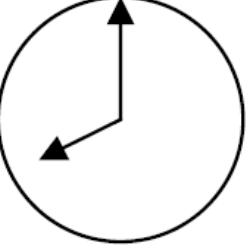
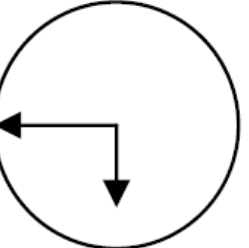


Klassenarbeit - Raum und Zeit

Uhr; Jahreszeiten; Kalender; Datum

Aufgabe 1

Schreibe zu jeder Uhr 2 Möglichkeiten auf!
(digitale Zeit und Sprechweise)

___/8P

Aufgabe 2

Schreibe die 4 Jahreszeiten auf!



___/4P

Aufgabe 3

Ordne die Tageszeit richtig zu!

Morgen, Vormittag, Mittag, Nachmittag, Abend, Nacht

19 Uhr	
1 Uhr	
12 Uhr	
10 Uhr	

___/4P

Aufgabe 4

Schreibe die Wochentage in der richtigen Reihenfolge auf.

___/7P

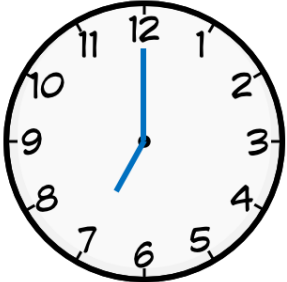
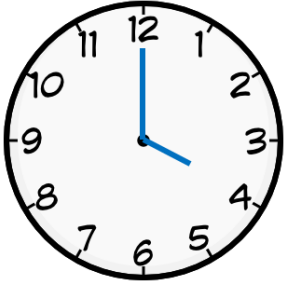



Aufgabe 5

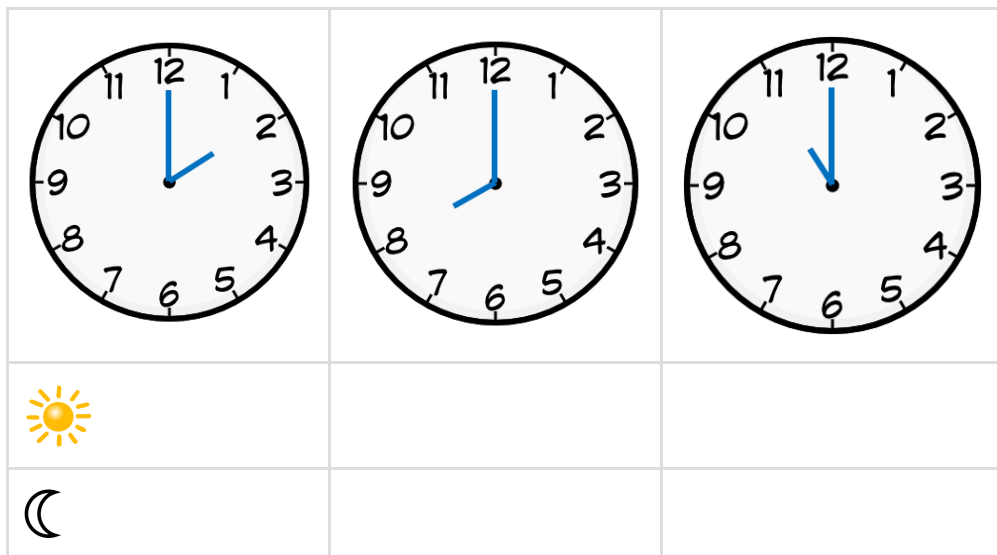
Schreibe das heutige Datum auf zwei verschiedene Arten.

___/1P

Aufgabe 6

Gib die ganzen Stunden und beiden Möglichkeiten an!



___/12P

Aufgabe 7

Schreibe die vier Jahreszeiten auf.

___/4P

Aufgabe 8

Kreuze an.



Weil die Erde sich dreht, wird es dunkel und hell.	<input type="checkbox"/> ja	<input type="checkbox"/> nein
Die Erde braucht eine Woche, um sich einmal um sich selbst zu drehen.	<input type="checkbox"/> ja	<input type="checkbox"/> nein
Im Moment ist es bei uns Tag.	<input type="checkbox"/> ja	<input type="checkbox"/> nein

___/3P

Aufgabe 9

Wie viel Tage haben diese Monate?

März	
Februar	
Juni	
Oktober	

___/4P

Aufgabe 10

Zu welcher Jahreszeit gehört der Oktober?

Zu welcher Jahreszeit gehört der Januar?

___/2P

Aufgabe 11

Ordne die Monate eines Jahres zu!




Frühlingsmonate	
Sommermonate	
Herbstmonate	
Wintermonate	

___/12P

Aufgabe 12

Was feiern wir an Silvester?



___/1P

Aufgabe 13

Wie lange braucht die Erde um sich einmal um sich selbst zu drehen?

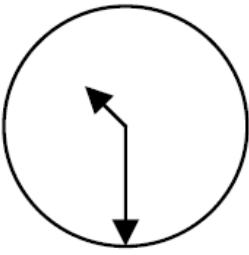
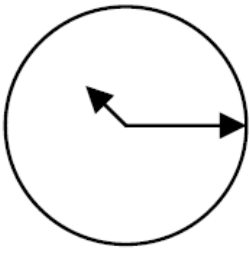
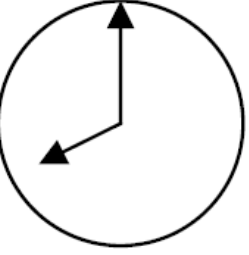
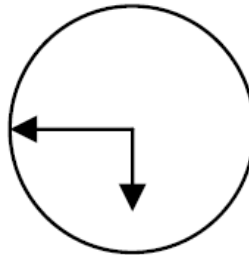
___/1P

Lösung Klassenarbeit - Raum und Zeit

Uhr; Jahreszeiten; Kalender; Datum

Aufgabe 1

Schreibe zu jeder Uhr 2 Möglichkeiten auf!
(digitale Zeit und Sprechweise)

			
10:30	10:15	8:00	5:45
halb elf	viertel elf	acht	dreiviertel sechs

___/8P

Aufgabe 2

Schreibe die 4 Jahreszeiten auf!



Frühling, Sommer, Herbst, Winter

___/4P

Aufgabe 3

Ordne die Tageszeit richtig zu!

Morgen, Vormittag, Mittag, Nachmittag, Abend, Nacht

19 Uhr	Abend
1 Uhr	Nacht
12 Uhr	Mittag
10 Uhr	Vormittag

___/4P

Aufgabe 4

Schreibe die Wochentage in der richtigen Reihenfolge auf.

Montag, Dienstag, Mittwoch, Donnerstag, Freitag, Samstag, Sonntag

___/7P

Aufgabe 5

Schreibe das heutige Datum auf zwei verschiedene Arten.

individuelle Lösung z.B. 10.10.2015 und 10. Oktober 2015

___/1P

Aufgabe 6

Gib die ganzen Stunden und beiden Möglichkeiten an!

		
 7.00 Uhr	4.00 Uhr	9.00 Uhr
 19.00 Uhr	16.00 Uhr	21.00 Uhr

		
 2.00 Uhr	8.00 Uhr	11.00 Uhr
 14.00 Uhr	20.00 Uhr	23.00 Uhr

___/12P

Aufgabe 7

Schreibe die vier Jahreszeiten auf.

Frühling, Sommer, Herbst, Winter

___/4P

Aufgabe 8

Kreuze an.



Weil die Erde sich dreht, wird es dunkel und hell.	<input checked="" type="checkbox"/> ja	<input type="checkbox"/> nein
Die Erde braucht eine Woche, um sich einmal um sich selbst zu drehen.	<input type="checkbox"/> ja	<input checked="" type="checkbox"/> nein
Im Moment ist es bei uns Tag.	<input checked="" type="checkbox"/> ja	<input type="checkbox"/> nein

___/3P

Aufgabe 9

Wie viel Tage haben diese Monate?

März	31
Februar	28
Juni	30
Oktober	31

___/4P

Aufgabe 10

Zu welcher Jahreszeit gehört der Oktober?

Zum Herbst

Zu welcher Jahreszeit gehört der Januar?

Zum Winter

___/2P

Aufgabe 11

Ordne die Monate eines Jahres zu!



Frühlingsmonate	März, April, Mai
Sommermonate	Juni, Juli, August
Herbstmonate	September, Oktober, November
Wintermonate	Dezember, Januar, Februar

___/12P

Aufgabe 12

Was feiern wir an Silvester?

Den Jahresabschluß



___/1P

Aufgabe 13

Wie lange braucht die Erde um sich einmal um sich selbst zu drehen?

24 Stunden braucht die Erde um sich einmal um sich selbst zu drehen.

___/1P

Viel Erfolg!!

Gesamt: ___/63P

Note	1	1-	1-2	2+	2	2-	2-3	3+	3	3-	3-4	4+	4	4-	4-5	5+	5	5-	5-6	6+
Punkte	56	54	51	49	47	44	42	40	37	34	31	28	25	22	20	18	15	13	11	8