

Klassenarbeit - Sinnesorgane

Haut; Auge; Zunge; Nase

Aufgabe 1

Ordne die Sinne den entsprechenden Sinnesorganen zu!

Auge _____

Zunge _____

Haut _____

Nase _____

Ohr _____

___ /5P

Aufgabe 2

Welche Dinge kann jemand erkennen, der blind und taub ist?

Meeresrauschen

Musik

Käse

Blütenduft

Ananas

Bild

Sahne

Fotos

Schnee

Kuchen

Uhrzeit

Klingeln

___ /6P

Aufgabe 3

Welches ist dein größtes Sinnesorgan?

___ /1P

Aufgabe 4

Wofür benötigen wir unsere Sinne?

___ /1P

Aufgabe 5

Welche Aufgaben haben Wimpern und Augenbrauen?

___ /1P

Aufgabe 6

Wie nennt man die Blindenschrift?

___/1P

Aufgabe 7

Kreuze die richtigen Sätze an!

- Die Augen liegen auf der Rückseite unseres Körpers.
- Wenn ich rieche, dann benutze ich meine Nase.
- Wenn du nicht gut siehst, brauchst du eine Brille.
- Wir sehen mit der Nase.
- Mit der Haut fühlen wir Wärme und Kälte.
- Mit den Ohren schmecken wir.
- Wir sehen mit den Augen.
- Mit der Haut hören wir.

___/4P

Aufgabe 8

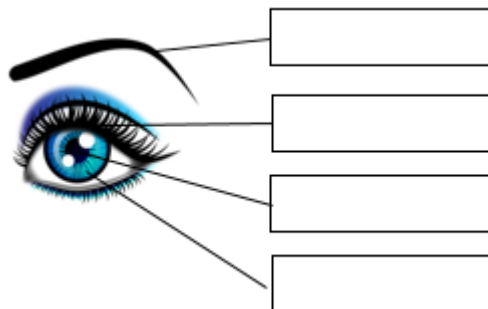
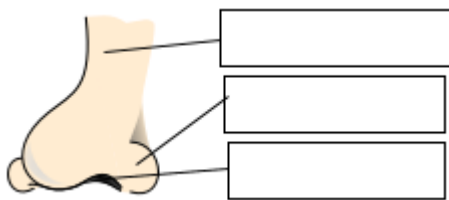
An welcher Stelle deiner Zunge kannst du Zucker am besten schmecken?



___/1P

Aufgabe 9

Beschrifte diese Sinnesorgane mit den Fachbegriffen!



___/7P

Lösung Klassenarbeit - Sinnesorgane

Haut; Auge; Zunge; Nase

Aufgabe 1

Ordne die Sinne den entsprechenden Sinnesorganen zu!

Auge	Sehen
Zunge	Schmecken
Haut	Fühlen
Nase	Riechen
Ohr	Hören

___ /5P

Aufgabe 2

Welche Dinge kann jemand erkennen, der blind und taub ist?

- | | | |
|--|--|--|
| <input type="checkbox"/> Meeresrauschen | <input type="checkbox"/> Musik | <input checked="" type="checkbox"/> Käse |
| <input checked="" type="checkbox"/> Blütenduft | <input checked="" type="checkbox"/> Ananas | <input type="checkbox"/> Bild |
| <input checked="" type="checkbox"/> Sahne | <input type="checkbox"/> Fotos | <input checked="" type="checkbox"/> Schnee |
| <input checked="" type="checkbox"/> Kuchen | <input type="checkbox"/> Uhrzeit | <input type="checkbox"/> Klingeln |

___ /6P

Aufgabe 3

Welches ist dein größtes Sinnesorgan?

Die Haut.

___ /1P

Aufgabe 4

Wofür benötigen wir unsere Sinne?

Damit können wir verstehen und die Welt entdecken!

___ /1P

Aufgabe 5

Welche Aufgaben haben Wimpern und Augenbrauen?

Wimpern und Augenbrauen schützen das Auge vor Schmutz und Schweiß.

___ /1P

Aufgabe 6

Wie nennt man die Blindenschrift?

Die Blindenschrift heißt Braille

___/1P

Aufgabe 7

Kreuze die richtigen Sätze an!

- Die Augen liegen auf der Rückseite unseres Körpers.
- Wenn ich rieche, dann benutze ich meine Nase.
- Wenn du nicht gut siehst, brauchst du eine Brille.
- Wir sehen mit der Nase.
- Mit der Haut fühlen wir Wärme und Kälte.
- Mit den Ohren schmecken wir.
- Wir sehen mit den Augen.
- Mit der Haut hören wir.

___/4P

Aufgabe 8

An welcher Stelle deiner Zunge kannst du Zucker am besten schmecken?

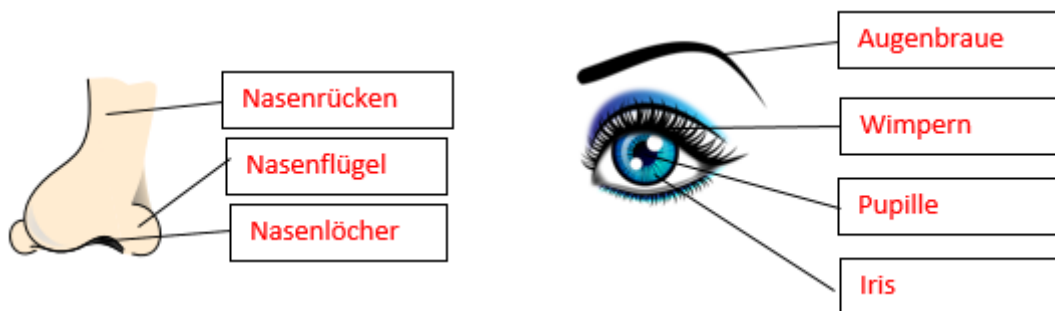
An der Zungenspitze.



___/1P

Aufgabe 9

Beschrifte diese Sinnesorgane mit den Fachbegriffen!



___/7P

Viel Glück!!

Gesamt: ___/27P

Note	1	1-	1-2	2+	2	2-	2-3	3+	3	3-	3-4	4+	4	4-	4-5	5+	5	5-	5-6	6+
Punkte	24	23	22	21	20	19	18	17	16	14	13	12	10	9	8	7	6	5	4	3