

# Klassenarbeit - Karten lesen

## Legende

### Aufgabe 1

#### Fülle die Lücken aus.


Auf Karten ist die wirkliche Landschaft \_\_\_\_\_ und von \_\_\_\_\_ dargestellt. \_\_\_\_\_ ist auf der Karte oben.

\_\_\_ /3P


### Aufgabe 2

#### Zeichne die Kartenzeichen für.

Mischwald



Stadt mit Straße



Fluss und Eisenbahn



See



\_\_\_ /4P

Aufgabe 3

**Nenne die fünf Kontinente!**

---

\_\_\_/5P

Aufgabe 4

**Was ist eine Legende?**

---

\_\_\_/1P

Aufgabe 5

**Zeichne ein einfaches Höhenmodell (4 Stufen) und beschrifte in Metern.**



\_\_\_/1P

Aufgabe 6

**Was bedeutet Vogelsicht?**

---



\_\_\_/1P

Aufgabe 7

**Nenne 3 verschiedene Arten von Karten!**

---



\_\_\_/3P

Aufgabe 8

**Höhenfarben: Vervollständige den Lückentext.**

Alle Gewässer werden auf der Karte \_\_\_\_\_ gezeichnet.

Alle \_\_\_\_\_ sind rot dargestellt.

Grüne, gelbe und \_\_\_\_\_ Farbtöne geben an, wie \_\_\_\_\_ das

Land über dem \_\_\_\_\_ (0-Meter) liegt.

\_\_\_/5P

# Lösung Klassenarbeit - Karten lesen

Legende

Aufgabe 1

**Fülle die Lücken aus.**

Auf Karten ist die wirkliche Landschaft **verkleinert** und von **oben** dargestellt.

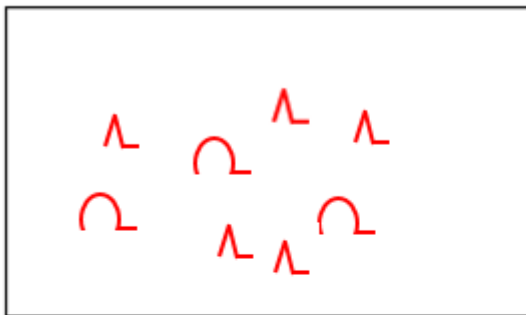
**Norden** ist auf der Karte oben.

\_\_\_ /3P

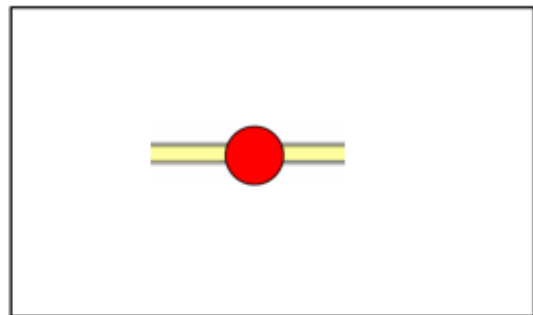
Aufgabe 2

**Zeichne die Kartenzeichen für.**

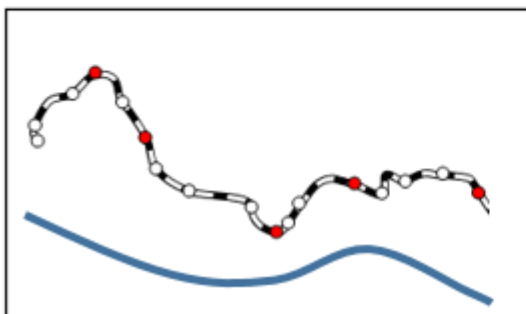
Mischwald




Stadt mit Straße



Fluss und Eisenbahn



See



\_\_\_ /4P

Aufgabe 3

**Nenne die fünf Kontinente!**

**Europa, Amerika, Afrika, Asien, Australien**

\_\_\_ /5P

Aufgabe 4

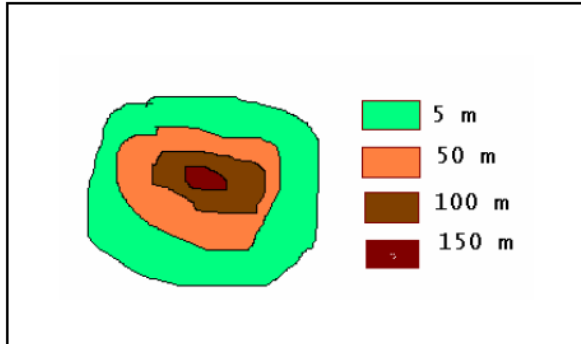
**Was ist eine Legende?**

**In einer Legende werden die Zeichen erklärt.**

\_\_\_/1P

Aufgabe 5

**Zeichne ein einfaches Höhenmodell (4 Stufen) und beschrifte in Metern.**



\_\_\_/1P

Aufgabe 6

**Was bedeutet Vogelsicht?**

**Der Blick von oben herunter.**



\_\_\_/1P

Aufgabe 7

**Nenne 3 verschiedene Arten von Karten!**

**Straßenkarte, Weltkarte, Länderkarte**



\_\_\_/3P

Aufgabe 8

**Höhenfarben: Vervollständige den Lückentext.**

Alle Gewässer werden auf der Karte **blau** gezeichnet.

Alle **Städte** sind rot dargestellt.

Grüne, gelbe und **braune** Farbtöne geben an, wie **hoch** das Land über dem **Meeresspiegel** (0-Meter) liegt.

\_\_\_/5P

*Viel Glück!!*

Gesamt: \_\_\_/23P

Note	1	1-	1-2	2+	2	2-	2-3	3+	3	3-	3-4	4+	4	4-	4-5	5+	5	5-	5-6	6+
Punkte	20	19	18	18	17	16	15	14	13	12	11	10	9	8	7	6	5	4	4	3