

# Klassenarbeit - Zahlenraum bis 1000

Textzahlen; Nachbarzahlen; Zahlenreihen; Zahlen ordnen; Vielfache;  
Zahlenrätsel; Sachaufgaben; Muster fortsetzen

## Aufgabe 1

### Schreibe als Zahl!

Neunhundertvierunddreißig: \_\_\_\_\_

\_\_\_/1P

## Aufgabe 2

### Rechne bis zum Nachbarzehner!

$748 + \underline{\quad\quad} = \underline{\quad\quad}$

$748 - \underline{\quad\quad} = \underline{\quad\quad}$

\_\_\_/2P

## Aufgabe 3

### Setze fort:

		250	300				500	
				550	440			110
50	100	110	220					950

\_\_\_/6P

Aufgabe 4

**Fülle die Tabelle!**

Nachbarzehner:

520	523	530
	871	
430		
	912	
		760




Nachbarhunderter:

400	486	500
	725	
900		
	356	
		200

\_\_\_/6P

Aufgabe 5

**Welche verschiedenen 3-stelligen Zahlen kannst**

**du aus den Ziffern  ,  und  bilden?"**

\_\_\_\_\_ < \_\_\_\_\_ < \_\_\_\_\_ < \_\_\_\_\_ < \_\_\_\_\_ < \_\_\_\_\_

\_\_\_/6P

Aufgabe 6

**Schreibe als Wort!**

306: \_\_\_\_\_



\_\_\_/1P

Aufgabe 7

**Rechne bis zum Nachbarhunderter!**

440 + \_\_\_\_\_ = \_\_\_\_\_

440 - \_\_\_\_\_ = \_\_\_\_\_

356 + \_\_\_\_\_ = \_\_\_\_\_

356 - \_\_\_\_\_ = \_\_\_\_\_

\_\_\_/4P

Aufgabe 8

**Fülle die Tabellen!**

:	3	6
24	8	4
12		
	10	
36		6
54		

· 4	
0	
9	
7	
4	

· 8	
7	
1	
	16
5	

\_\_\_ /7P

Aufgabe 9

**Wenn du zu meiner Zahl 400 addierst und dann 30 subtrahierst, erhältst du 600.**

**Schreibe deinen Lösungsweg auf:**



Rechnung: \_\_\_\_\_  
\_\_\_\_\_

Zahl: \_\_\_\_\_


\_\_\_ /3P

Aufgabe 10

**Knobelaufgabe**

**In einem Stall sind Kaninchen und Hühner. Sie haben zusammen 12 Köpfe und 34 Füße. Wie viele Kaninchen sind es?**

**Tipp: Mache eine Zeichnung.**



\_\_\_\_\_

\_\_\_\_\_

\_\_\_\_\_

\_\_\_\_\_

\_\_\_\_\_

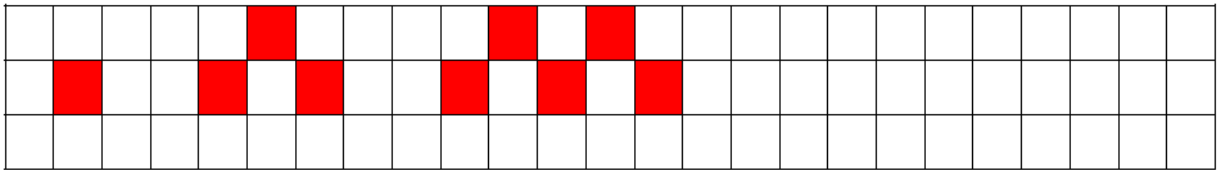
\_\_\_\_\_

\_\_\_ /4P

Aufgabe 11

**Muster fortsetzen.**

**Zeichne die 4. Figur in das Karofeld.**



**Fülle die Tabelle aus.**

Figur	1	2	3	4	5
Anzahl der Kästchen	1	3			

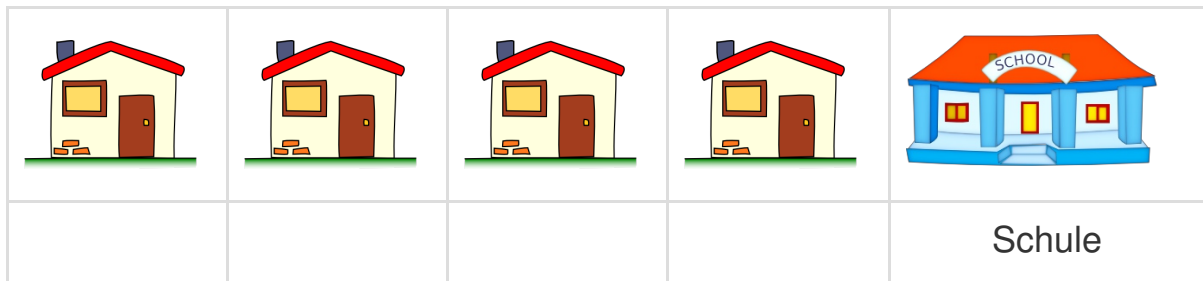
\_\_\_/5P

Aufgabe 12

**Sachaufgabe:**

**Serkan wohnt 1000 m von der Schule entfernt. Maïke wohnt 500 m von der Schule entfernt. Nabil wohnt genau in der Mitte zwischen Serkan und Maïke. Ronja hat den kürzesten Schulweg.**

**Wer wohnt in welchem Haus? Schreibe die Namen dazu.**



\_\_\_/4P

# Lösung Klassenarbeit - Zahlenraum bis 1000

Textzahlen; Nachbarzahlen; Zahlenreihen; Zahlen ordnen; Vielfache;  
Zahlenrätsel; Sachaufgaben; Muster fortsetzen

## Aufgabe 1

### Schreibe als Zahl!

Neunhundertvierunddreißig: **934**

\_\_\_ /1P

## Aufgabe 2

### Rechne bis zum Nachbarzehner!

$$748 + 2 = 750$$

$$748 - 8 = 740$$

\_\_\_ /2P

## Aufgabe 3

### Setze fort:

<b>150</b>	<b>200</b>	250	300	<b>350</b>	<b>400</b>	<b>450</b>	500	<b>550</b>
<b>990</b>	<b>880</b>	<b>770</b>	<b>660</b>	550	440	<b>330</b>	<b>220</b>	110
50	100	110	220	<b>230</b>	<b>460</b>	<b>470</b>	<b>940</b>	950

\_\_\_ /6P

Aufgabe 4

**Fülle die Tabelle!**

Nachbarzehner:

520	523	530
<b>870</b>	871	<b>880</b>
430	<b>431-439</b>	<b>440</b>
<b>910</b>	912	<b>920</b>
<b>750</b>	<b>751-759</b>	760




Nachbarhunderter:

400	486	500
<b>700</b>	725	<b>800</b>
900	<b>901-901</b>	<b>1000</b>
<b>300</b>	356	<b>400</b>
<b>100</b>	<b>101-199</b>	200

\_\_\_/6P

Aufgabe 5

**Welche verschiedenen 3-stelligen Zahlen kannst**

**du aus den Ziffern  ,  und  bilden?"**

**136 < 163 < 316 < 361 < 613 < 631**

\_\_\_/6P

Aufgabe 6

**Schreibe als Wort!**

306: **dreihundertsechs**

\_\_\_/1P 

Aufgabe 7

**Rechne bis zum Nachbarhunderter!**

$440 + 60 = 500$

$440 - 40 = 400$

$356 + 44 = 400$

$356 - 56 = 300$

\_\_\_/4P

## Aufgabe 8

### Fülle die Tabellen!

:	3	6
24	8	4
12	4	2
30	10	5
36	12	6
54	18	9

· 4	
0	0
9	36
7	28
4	16

· 8	
7	56
1	8
2	16
5	40

\_\_\_/7P

## Aufgabe 9

Wenn du zu meiner Zahl 400 addierst und dann 30 subtrahierst, erhältst du 600.

Schreibe deinen Lösungsweg auf:



Rechnung: **Rechne rückwärts!!!**

$$600 + 30 - 400 = 230$$

Zahl: **230**


\_\_\_/3P

## Aufgabe 10

### Knobelaufgabe

In einem Stall sind Kaninchen und Hühner.  
Sie haben zusammen 12 Köpfe und 34 Füße.  
Wie viele Kaninchen sind es?

Tipp: Mache eine Zeichnung.



Die 12 Köpfe bekommen zuerst je 2 Füße.

34 Füße – 24 Füße = 10 Füße bleiben übrig

Die übrigen 10 Füße durch 2 teilen:  $10 : 2 = 5$

So bekommen noch 5 Köpfe je 2 Füße.

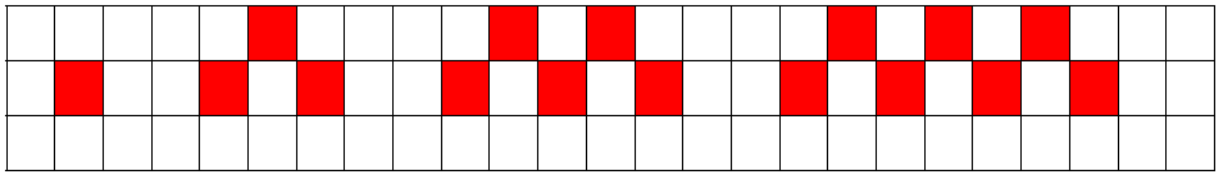
Das macht 5 Kaninchen mit je 4 Füßen und 7 Hühner mit je 2 Füßen.

\_\_\_/4P

Aufgabe 11

**Muster fortsetzen.**

**Zeichne die 4. Figur in das Karofeld.**



**Fülle die Tabelle aus.**

Figur	1	2	3	4	5
Anzahl der Kästchen	1	3	5	7	9






\_\_\_/5P

Aufgabe 12

**Sachaufgabe:**

**Serkan wohnt 1000 m von der Schule entfernt. Maike wohnt 500 m von der Schule entfernt. Nabil wohnt genau in der Mitte zwischen Serkan und Maike. Ronja hat den kürzesten Schulweg.**

**Wer wohnt in welchem Haus? Schreibe die Namen dazu.**

				
<b>Serkan</b>	<b>Nabil</b>	<b>Maike</b>	<b>Ronja</b>	Schule

\_\_\_/4P

*Viel Glück!!*

Gesamt: \_\_\_/49P

Note	1	1-	1-2	2+	2	2-	2-3	3+	3	3-	3-4	4+	4	4-	4-5	5+	5	5-	5-6	6+
Punkte	46	44	42	41	39	37	35	33	31	29	26	24	22	19	17	14	12	10	8	6