

# Klassenarbeit - Gemischte Themen

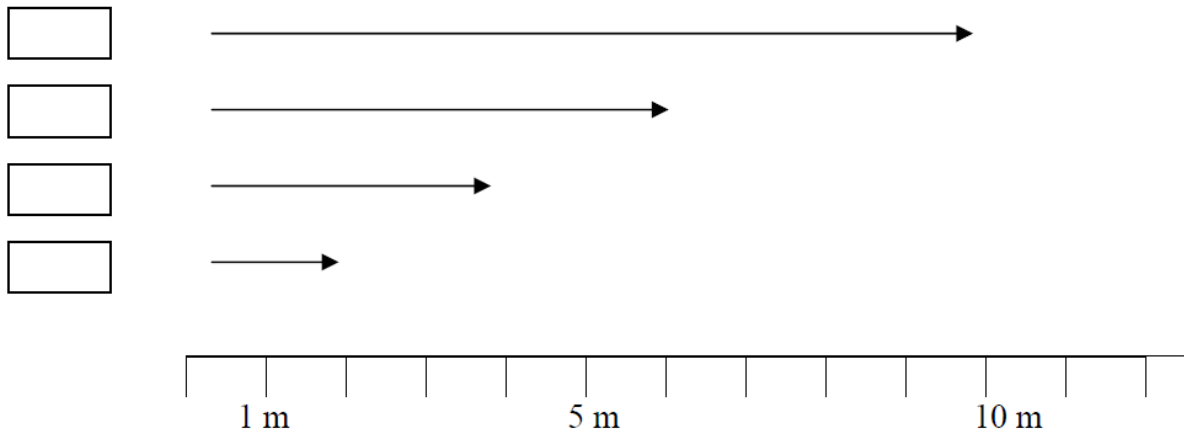
## 2. Halbjahr

Längenmaße; Sonstiges; Rechnen mit Geld; Addition und Subtraktion;  
 Geometrische Körper; Sachaufgaben; Kleines Einmaleins; Zeitspannen;  
 Uhrzeit; Kopfrechnen; Textaufgaben; Zahlenrätsel

### Aufgabe 1

#### Tiere können weit springen:









- Ein Frosch schafft 2 m.
- Ein Löwe springt 3 mal so weit wie der Frosch.
- Ein Känguru springt doppelt so weit wie der Löwe.
- Ein Hase springt 2 m weniger weit als der Löwe.



\_\_\_/4P

### Aufgabe 2

#### Welches Fach ist leer?

- unten rechts
- oben rechts
- unten links
- oben links

\_\_\_/1P

Aufgabe 3

**Mutter bezahlt 64 €.**

**Male ein Kreuz in die Scheine und Münzen, die sie braucht.**

20 €	20 €	20 €	20 €	20 €			
20 €	20 €	20 €	20 €	20 €			
1 €	1 €	1 €	1 €	1 €	1 €	1 €	1 €

\_\_\_/3P

Aufgabe 4

**Rechne aus!**


a)  $34 + 42 =$  \_\_\_\_\_

b)  $92 - 71 =$  \_\_\_\_\_

\_\_\_/2P

Aufgabe 5

**Wie heißen die Körper?**



\_\_\_/3P

Aufgabe 6

**Bastis Lehrerin fährt eine Woche lang jeden Tag mit dem Rad zum Unterricht in die Schule und wieder heim. Sie wohnt 6 km von der Schule entfernt.**

**Wie viele Kilometer fährt sie?**



Rechnung:

---

---

---

Antwort: Sie fährt \_\_\_\_\_ Kilometer.

\_\_\_/2P

Aufgabe 7

**Rechne aus:**

$64 : 8 = \underline{\hspace{2cm}}$

$8 : 8 = \underline{\hspace{2cm}}$

\_\_\_/2P

Aufgabe 8

Zoo  
Öffnungszeiten  
Mo – Fr 9 - 18 Uhr  
Sa, So 8 - 19 Uhr

**Wie viele Stunden ist der Zoo am Samstag geöffnet?**

\_\_\_\_\_ Stunden

\_\_\_/2P

Aufgabe 9

**Kennzeichne mit den Zahlen 2, 3, 4 und 5 die richtige Reihenfolge.**

Lisa wacht auf.

Der Schulbus bringt Lisa nach Hause.

Lisa spielt in der Pause.

Lisa isst beim Frühstück zu Hause ein Brot.

Lisa fährt in die Schule.



\_\_\_/5P

Aufgabe 10

**Rechne aus:**

$$46 + 39 = \underline{\hspace{2cm}}$$

\_\_\_/1P

Aufgabe 11

**Julia hat 3 Sammelbilder mehr als ihre Freundin Anja.  
Zusammen haben sie 21 Sammelbilder.**

Julia hat \_\_\_ Bilder.

Anja hat \_\_\_ Bilder.



\_\_\_/4P

Aufgabe 12

**Wenn ich von meiner Zahl 6 abziehe, erhalte ich 30.**

Meine Zahl heißt \_\_\_\_\_.

\_\_\_/2P

Aufgabe 13

**Rechne aus:**

$$73 - 58 = \underline{\hspace{2cm}}$$

\_\_\_/1P

Aufgabe 14

**Meine Zahl ist um 8 kleiner als das Doppelte von  $5 \cdot 8$ .  
Wie heißt meine Zahl?**

Rechnung:

---

---

---

Antwort: Die Zahl heißt \_\_\_\_\_.



\_\_\_/3P

# Lösung Klassenarbeit - Gemischte Themen 2. Halbjahr

Längenmaße; Sonstiges; Rechnen mit Geld; Addition und Subtraktion;  
Geometrische Körper; Sachaufgaben; Kleines Einmaleins; Zeitspannen;  
Uhrzeit; Kopfrechnen; Textaufgaben; Zahlenrätsel

## Aufgabe 1

### Tiere können weit springen:

- Ein Frosch schafft 2 m.
- Ein Löwe springt 3 mal so weit wie der Frosch.
- Ein Känguru springt doppelt so weit wie der Löwe.
- Ein Hase springt 2 m weniger weit als der Löwe.

**1. Känguru (12 m)**

**2. Löwe ( 6 m)**









**3. Hase ( 4 m)**

**4. Frosch ( 2 m)**

\_\_\_ /4P

## Aufgabe 2

### Welches Fach ist leer?

unten rechts

**oben rechts**

**X**

unten links

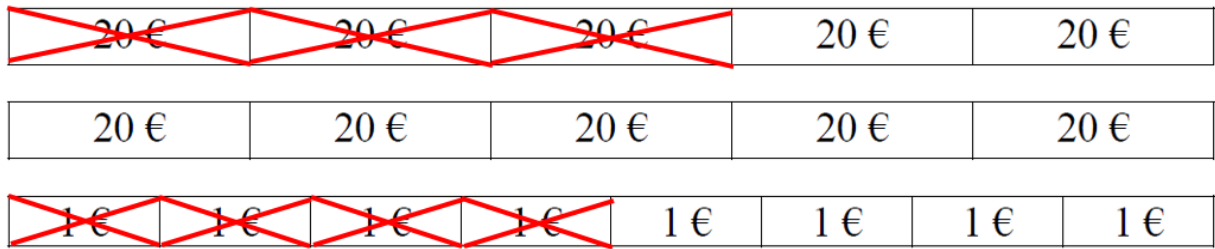
oben links

\_\_\_ /1P

Aufgabe 3

Mutter bezahlt 64 €.

Male ein Kreuz in die Scheine und Münzen, die sie braucht.



\_\_\_/3P

Aufgabe 4

Rechne aus!


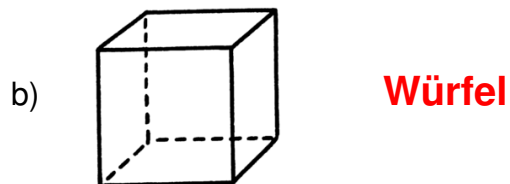
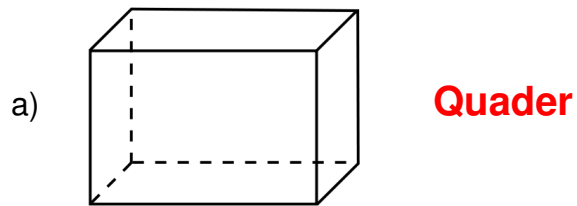
a)  $34 + 42 = 76$

b)  $92 - 71 = 21$

\_\_\_/2P

Aufgabe 5

Wie heißen die Körper?



\_\_\_/3P

### Aufgabe 6

**Bastis Lehrerin fährt eine Woche lang jeden Tag mit dem Rad zum Unterricht in die Schule und wieder heim. Sie wohnt 6 km von der Schule entfernt.  
Wie viele Kilometer fährt sie?**



Rechnung:

**Beachte: Unterricht von Mo.-Fr. also 5 Tage**

$$5 \cdot 6 = 30$$

$$30 \cdot 2 = 60$$

Antwort: Sie fährt **60** Kilometer.

\_\_\_ /2P

### Aufgabe 7

**Rechne aus:**

$$64 : 8 = 8$$

$$8 : 8 = 1$$

\_\_\_ /2P

### Aufgabe 8

Zoo  
Öffnungszeiten  
Mo – Fr 9 - 18 Uhr  
Sa, So 8 - 19 Uhr

**Wie viele Stunden ist der Zoo am Samstag geöffnet?**

**11** Stunden

\_\_\_ /2P

### Aufgabe 9

**Kennzeichne mit den Zahlen 2, 3, 4 und 5 die richtige Reihenfolge.**

- 1** Lisa wacht auf.
- 5** Der Schulbus bringt Lisa nach Hause.
- 4** Lisa spielt in der Pause.
- 2** Lisa isst beim Frühstück zu Hause ein Brot.
- 3** Lisa fährt in die Schule.



\_\_\_ /5P

### Aufgabe 10

**Rechne aus:**

$$46 + 39 = 85$$

\_\_\_ /1P

Aufgabe 11

**Julia hat 3 Sammelbilder mehr als ihre Freundin Anja.  
Zusammen haben sie 21 Sammelbilder.**

Julia hat **12** Bilder.

Anja hat **9** Bilder.



\_\_\_ /4P

Aufgabe 12

**Wenn ich von meiner Zahl 6 abziehe, erhalte ich 30.**

Meine Zahl heißt **36**.

\_\_\_ /2P

Aufgabe 13

**Rechne aus:**

$$73 - 58 = \mathbf{15}$$

\_\_\_ /1P

Aufgabe 14

**Meine Zahl ist um 8 kleiner als das Doppelte von  $5 \cdot 8$ .  
Wie heißt meine Zahl?**

Rechnung:

$$\mathbf{5 \cdot 2 = 40}$$

$$\mathbf{40 \cdot 2 = 80}$$

$$\mathbf{80 - 8 = 72}$$

Antwort: Die Zahl heißt **72**.



\_\_\_ /3P

*Viel Erfolg!!*

Gesamt: \_\_\_/35P

Note	1	1-	1-2	2+	2	2-	2-3	3+	3	3-	3-4	4+	4	4-	4-5	5+	5	5-	5-6	6+
Punkte	33	31	30	29	28	26	25	24	22	21	19	17	15	14	12	10	8	7	6	4