


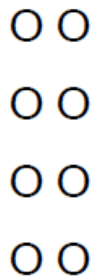

Klassenarbeit - Gemischte Themen

2. Halbjahr

Tauschaufgaben; Aufgabenbilder; Kernaufgaben; Kleines Einmaleins;
Sachaufgaben; Zahlenrätsel

Aufgabe 1

Wie viele? Schreibe die Malaufgabe und die Tauschaufgabe!



M: _____

M: _____

M: _____

T: _____

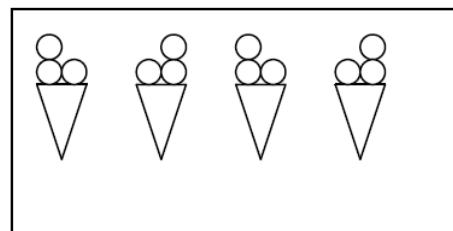
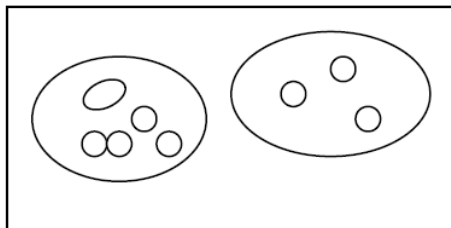
T: _____

T: _____

___/6P

Aufgabe 2

Welche Aufgabe gehört zu welchem Bild? Verbinde mit dem Lineal!



$5 + 3$

$4 \cdot 6$

$4 \cdot 3$

$4 + 3$

$5 \cdot 3$

___/4P

Aufgabe 3

Kernaufgaben!

$2 \cdot 5 =$

$2 \cdot 9 =$

$2 \cdot 6 =$

$2 \cdot 8 =$

$5 \cdot 5 =$

$5 \cdot 9 =$

$5 \cdot 6 =$

$5 \cdot 8 =$

$10 \cdot 5 =$

$10 \cdot 9 =$

$10 \cdot 6 =$

$10 \cdot 8 =$

___/6P

Aufgabe 4

Zerlege in Kernaufgaben!

$6 \cdot 4 = 5 \cdot 4 + 1 \cdot 4$

$9 \cdot 7 = 10 \cdot 7 - 1 \cdot 7$

$7 \cdot 3 =$ _____

$8 \cdot 9 =$ _____


$7 \cdot 8 =$ _____

$4 \cdot 7 =$ _____

___/4P

Aufgabe 5

Wie viele Beine haben

6 Hunde: 

7 Vögel: 

8 Goldfische: 

___/3P

Aufgabe 6

Wie viele Stücke sind es? 

1 Apfel

2 Äpfel

4 Äpfel

3 Äpfel

4 Stücke

___ Stücke

___ Stücke


___ Stücke

___/3P

Aufgabe 7

Tiere können weit springen.

- Ein Frosch schafft 2 m.
- Ein Löwe springt viermal so weit wie ein Frosch.
Er springt _____ m.
- Ein Känguru springt sechsmal so weit wie ein Frosch. Es springt _____ m.
- Ein Hase springt doppelt so weit wie ein Frosch. Er springt _____ m.



___ /3P

Aufgabe 8

Zahlenrätsel!



Meine Zahl ist um 8 kleiner als das Doppelte von $5 \cdot 6$.

Die Zahl heißt: _____


___ /2P

Lösung Klassenarbeit - Gemischte Themen 2. Halbjahr

Tauschaufgaben; Aufgabenbilder; Kernaufgaben; Kleines Einmaleins; Sachaufgaben; Zahlenrätsel

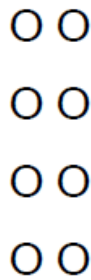
Aufgabe 1

Wie viele? Schreibe die Malaufgabe und die Tauschaufgabe!




M: $4 \cdot 5 = 20$

T: $5 \cdot 4 = 20$



M: $4 \cdot 2 = 8$

T: $2 \cdot 4 = 8$



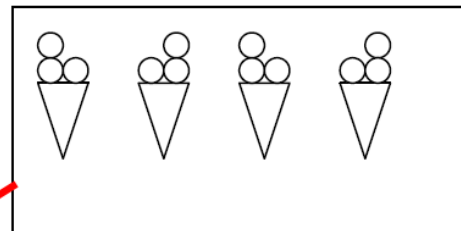
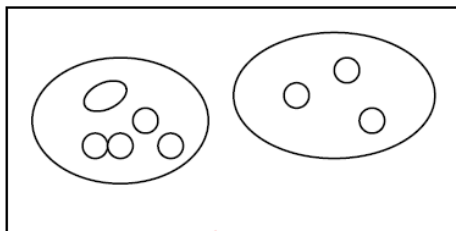
M: $3 \cdot 8 = 24$

T: $8 \cdot 3 = 24$

___/6P

Aufgabe 2

Welche Aufgabe gehört zu welchem Bild? Verbinde mit dem Lineal!



$5 + 3$

$4 \cdot 6$

$4 \cdot 3$

$4 + 3$

$5 \cdot 3$

___/4P

Aufgabe 3

Kernaufgaben!

$2 \cdot 5 = 10$

$2 \cdot 9 = 18$

$2 \cdot 6 = 12$

$2 \cdot 8 = 16$

$5 \cdot 5 = 25$

$5 \cdot 9 = 45$

$5 \cdot 6 = 30$

$5 \cdot 8 = 40$

$10 \cdot 5 = 50$

$10 \cdot 9 = 90$

$10 \cdot 6 = 60$

$10 \cdot 8 = 80$

___/6P

Aufgabe 4

Zerlege in Kernaufgaben!

$6 \cdot 4 = 5 \cdot 4 + 1 \cdot 4$

$9 \cdot 7 = 10 \cdot 7 - 1 \cdot 7$

$7 \cdot 3 = 5 \cdot 3 + 2 \cdot 3$

$8 \cdot 9 = 10 \cdot 9 - 2 \cdot 9$

$7 \cdot 8 = 5 \cdot 8 + 2 \cdot 8$

$4 \cdot 7 = 5 \cdot 7 - 1 \cdot 7$

___/4P

Aufgabe 5


Wie viele Beine haben

6 Hunde: 

24

7 Vögel: 

14

8 Goldfische: 

0

___/3P

Aufgabe 6

Wie viele Stücke sind es? 

1 Apfel

2 Äpfel

4 Äpfel

3 Äpfel

4 Stücke

8 Stücke

16 Stücke


12 Stücke

___/3P

Aufgabe 7

Tiere können weit springen.

- Ein Frosch schafft 2 m.
- Ein Löwe springt viermal so weit wie ein Frosch.
Er springt **8** m.
- Ein Känguru springt sechsmal so weit wie ein Frosch. Es springt **12** m.
- Ein Hase springt doppelt so weit wie ein Frosch. Er springt **4** m.



___ /3P

Aufgabe 8

Zahlenrätsel! 

Meine Zahl ist um 8 kleiner als das Doppelte von $5 \cdot 6$.

Die Zahl heißt: **52**

___ /2P

Viel Erfolg!!

Gesamt: ___ /31P

| Note | 1 | 1- | 1-2 | 2+ | 2 | 2- | 2-3 | 3+ | 3 | 3- | 3-4 | 4+ | 4 | 4- | 4-5 | 5+ | 5 | 5- | 5-6 | 6+ |
|--------|----|----|-----|----|----|----|-----|----|----|----|-----|----|----|----|-----|----|---|----|-----|----|
| Punkte | 29 | 28 | 27 | 25 | 24 | 23 | 22 | 21 | 20 | 18 | 17 | 15 | 13 | 12 | 10 | 9 | 7 | 6 | 5 | 4 |