

# Klassenarbeit - Gemischte Themen

## 1. Halbjahr

Addieren; Subtrahieren; Zehnerübergang; Rechenpfeil; Zahlenrätsel;  
Zahlenreihen; Geschicktes Rechnen; Rechnen mit Geld; Zehner und Einer

### Aufgabe 1

**Rechne Plus.**



$48 + 7 = \underline{\quad}$	$68 + 4 = \underline{\quad}$	$65 + 8 = \underline{\quad}$
$76 + 7 = \underline{\quad}$	$55 + 8 = \underline{\quad}$	$86 + 7 = \underline{\quad}$

\_\_\_/6P

### Aufgabe 2

**Rechne Minus.**



$74 - 5 = \underline{\quad}$	$76 - 9 = \underline{\quad}$	$46 - 8 = \underline{\quad}$
$82 - 8 = \underline{\quad}$	$32 - 8 = \underline{\quad}$	$42 - 9 = \underline{\quad}$

\_\_\_/6P

### Aufgabe 3

**Berechne und trage das Ergebnis ein!**

$$\begin{array}{r} - 7 \\ \hline \text{-----} > \\ \hline 35 \quad | \\ \hline 62 \quad | \\ \hline \text{-----} \end{array}$$

$$\begin{array}{r} - 8 \\ \hline \text{-----} > \\ \hline 64 \quad | \\ \hline 33 \quad | \\ \hline \text{-----} \end{array}$$

$$\begin{array}{r} - 9 \\ \hline \text{-----} > \\ \hline 83 \quad | \\ \hline 65 \quad | \\ \hline \text{-----} \end{array}$$

\_\_\_/6P

Aufgabe 4

**Berechne!**



$62 - 9 = \underline{\hspace{2cm}}$

$56 + 9 = \underline{\hspace{2cm}}$

$83 - 9 = \underline{\hspace{2cm}}$

$74 - 9 = \underline{\hspace{2cm}}$

$37 + 9 = \underline{\hspace{2cm}}$

$83 + 9 = \underline{\hspace{2cm}}$

$45 - 9 = \underline{\hspace{2cm}}$

$63 + 9 = \underline{\hspace{2cm}}$

$73 - 9 = \underline{\hspace{2cm}}$

\_\_\_/9P

Aufgabe 5

**Vor oder Zurück? Plus oder Minus?**

**Schreibe über den Pfeil.**



$35 \text{ -----} > 38$

$100 \text{ -----} > 92$

$86 \text{ -----} > 83$

$74 \text{ -----} > 68$

$45 \text{ -----} > 52$

$64 \text{ -----} > 70$

$57 \text{ -----} > 52$


$78 \text{ -----} > 71$

$43 \text{ -----} > 36$

\_\_\_/9P

Aufgabe 6

**Welche Zahl ist es?**



a) 6 weniger als 54 = \_\_\_\_\_

b) 7 mehr als 75 = \_\_\_\_\_


c) 8 mehr als 92 = \_\_\_\_\_

d) 9 weniger als 72 = \_\_\_\_\_

\_\_\_/4P

Aufgabe 7

**Setze die Zahlenreihen fort.**



a) 4 , 10 , 16 , \_\_\_\_\_ , \_\_\_\_\_ , \_\_\_\_\_ , \_\_\_\_\_ , \_\_\_\_\_

b) 5 , 9 , 6 , 10 , 7 , \_\_\_\_\_ , \_\_\_\_\_ , \_\_\_\_\_ , \_\_\_\_\_

\_\_\_ /10P

Aufgabe 8

**Zähle immer alle Zahlen zusammen. Rechne geschickt.**

a) Die Zahlen von 1 bis 6

Rechnung: \_\_\_\_\_

b) Die Zahlen von 1 bis 10

Rechnung: \_\_\_\_\_

c) Die Zahlen von 3 bis 12

Rechnung: \_\_\_\_\_

\_\_\_ /3P

Aufgabe 9

**Mia hat 53 € gespart. Sie kauft ein Buch für 8 €.**

**Wie viel Geld hat sie noch?**



Rechnung: \_\_\_\_\_

Antwort: \_\_\_\_\_

\_\_\_ /2P

Aufgabe 10

**Schreibe zwei Zahlen**



a) in denen der Zehner um 2 größer als der Einer ist.

---

b) in denen der Einer um 2 größer ist als der Zehner.

---

\_\_\_/4P

# Lösung Klassenarbeit - Gemischte Themen 1. Halbjahr

Addieren; Subtrahieren; Zehnerübergang; Rechenpfeil; Zahlenrätsel; Zahlenreihen; Geschicktes Rechnen; Rechnen mit Geld; Zehner und Einer

## Aufgabe 1

Rechne Plus.



$48 + 7 = 55$	$68 + 4 = 72$	$65 + 8 = 73$
$76 + 7 = 83$	$55 + 8 = 63$	$86 + 7 = 93$

\_\_\_/6P

## Aufgabe 2

Rechne Minus.



$74 - 5 = 69$	$76 - 9 = 67$	$46 - 8 = 38$
$82 - 8 = 74$	$32 - 8 = 24$	$42 - 9 = 33$

\_\_\_/6P

## Aufgabe 3

Berechne und trage das Ergebnis ein!

$$\begin{array}{r} -7 \\ \hline \phantom{35} \longrightarrow \\ \hline 35 \mid 28 \\ \hline 62 \mid 55 \\ \hline \phantom{35} \end{array}$$

$$\begin{array}{r} -8 \\ \hline \phantom{64} \longrightarrow \\ \hline 64 \mid 56 \\ \hline 33 \mid 25 \\ \hline \phantom{64} \end{array}$$

$$\begin{array}{r} -9 \\ \hline \phantom{83} \longrightarrow \\ \hline 83 \mid 74 \\ \hline 65 \mid 56 \\ \hline \phantom{83} \end{array}$$

\_\_\_/6P

Aufgabe 4

**Berechne!**



$62 - 9 = 53$

$56 + 9 = 65$

$83 - 9 = 74$

$74 - 9 = 65$

$37 + 9 = 46$

$83 + 9 = 92$

$45 - 9 = 36$

$63 + 9 = 72$

$73 - 9 = 64$

\_\_\_/9P

Aufgabe 5

**Vor oder Zurück? Plus oder Minus?**

**Schreibe über den Pfeil.**



$35 \xrightarrow{+3} 38$

$100 \xrightarrow{-8} 92$

$86 \xrightarrow{-3} 83$

$74 \xrightarrow{-6} 68$

$45 \xrightarrow{+7} 52$

$64 \xrightarrow{+6} 70$

$57 \xrightarrow{-5} 52$


$78 \xrightarrow{-7} 71$

$43 \xrightarrow{-7} 36$

\_\_\_/9P

Aufgabe 6

**Welche Zahl ist es?**



a) 6 weniger als 54 = **48**

b) 7 mehr als 75 = **82**

c) 8 mehr als 92 = **100**

d) 9 weniger als 72 = **63**

\_\_\_/4P

Aufgabe 7

**Setze die Zahlenreihen fort.**



a) 4 , 10 , 16 , **22, 28, 34, 40, 46, 52**

b) 5 , 9 , 6 , 10 , 7, **11, 8, 12, 9**

\_\_\_/10P

Aufgabe 8

**Zähle immer alle Zahlen zusammen. Rechne geschickt.**

a) Die Zahlen von 1 bis 6

Rechnung:  $1+2+3+4+5+6 = 21$

b) Die Zahlen von 1 bis 10

Rechnung:  $1+2+3+4+5+6+7+8+9+10 = 55$

c) Die Zahlen von 3 bis 12

Rechnung:  $3+4+5+6+7+8+9+10+11+12 = 75$

\_\_\_/3P

Aufgabe 9

**Mia hat 53 € gespart. Sie kauft ein Buch für 8 €.**

**Wie viel Geld hat sie noch?**



Rechnung:  $53 \text{ Euro} - 8 \text{ Euro} = 45 \text{ Euro}$

Antwort: **Mia hat noch 45 Euro.**

\_\_\_/2P

Aufgabe 10

**Schreibe zwei Zahlen**



a) in denen der Zehner um 2 größer als der Einer ist.

**Zum Beispiel: 42 und 75**

b) in denen der Einer um 2 größer ist als der Zehner.

**Zum Beispiel: 24 und 57**

\_\_\_/4P

*Viel Erfolg!!*

Gesamt: \_\_\_/59P

Note	1	1-	1-2	2+	2	2-	2-3	3+	3	3-	3-4	4+	4	4-	4-5	5+	5	5-	5-6	6+
Punkte	56	53	51	49	47	44	42	40	38	35	32	29	26	23	20	17	14	12	10	8

