

Klassenarbeit - Gemischte Themen

2. Halbjahr

Addition und Subtraktion; Kleines Einmaleins; Sachaufgaben; Textaufgaben;
Uhrzeit; Zeitspannen; Rechenschlange; Verdoppeln; Halbieren; Rechnen mit
Geld

Aufgabe 1

Berechne!

$34 + 24 = \underline{\quad}$

$34 - 24 = \underline{\quad}$

$23 + 66 = \underline{\quad}$

$56 - 38 = \underline{\quad}$

$19 + 37 = \underline{\quad}$

$52 - 33 = \underline{\quad}$

$45 + 18 = \underline{\quad}$

$74 - 29 = \underline{\quad}$

$16 + 20 = \underline{\quad}$

$79 - 17 = \underline{\quad}$

$15 + 19 = \underline{\quad}$

$51 - 24 = \underline{\quad}$

$22 + 28 = \underline{\quad}$

$19 - 14 = \underline{\quad}$



___ /14P

Aufgabe 2

Berechne!



$6 \cdot 6 = \underline{\quad}$

$32 : 8 = \underline{\quad}$

$5 \cdot 7 = \underline{\quad}$

$24 : 6 = \underline{\quad}$

$8 \cdot 3 = \underline{\quad}$

$45 : 9 = \underline{\quad}$

$4 \cdot 7 = \underline{\quad}$

$56 : 8 = \underline{\quad}$

$7 \cdot 5 = \underline{\quad}$

$21 : 7 = \underline{\quad}$

$9 \cdot 8 = \underline{\quad}$

$32 : 4 = \underline{\quad}$

$3 \cdot 9 = \underline{\quad}$

$81 : 9 = \underline{\quad}$

___/14P

Aufgabe 3

Anna gibt in jede Schüssel 5 Beeren. Sie hat 45 Beeren.

Wie viele Schüsseln braucht sie?



Zeichnung:

Rechnung: _____

Kontrolle: _____

Antwort: _____

___/4P


Aufgabe 4

**Tim klebt 7 Briefmarken auf eine Seite.
Sein Album hat 8 Seiten.**

Wie viele Briefmarken passen in sein Album?



Zeichnung:



Rechnung: _____

Kontrolle: _____

Antwort: _____

___/4P

Aufgabe 5

**Tilos Auto ist 23 cm groß, Kens Auto ist 33 cm groß.
Wie viel Platz brauchen die beiden Autos,**

wenn sie hintereinander geparkt sind?



Rechnung: _____

Antwort: _____

___/2P

Aufgabe 6

**Silas hat 25 Gummibärchen und Thomas 15.
Sie wollen die Gummibärchen gleichmäßig unter sich verteilen.**

Wie viele bekommt jeder? 

Rechnung: _____

Antwort: _____

___/2P

Aufgabe 7

Lina hat um 12:30 Schule aus. Um 13:15 kommt sie zu Hause an.

Wie lange braucht sie für die Strecke?



Rechnung: _____

Antwort: _____

___/2P

Aufgabe 8

Rechenschlange. Berechne!



+3 -8 -4 +10 +18 -19 +5 -11 +4 -8
25 → □ → □ → □ → □ → □ → □ → □ → □ → □ → □ → □ .

-8 -7 +15 +10 +5 -11 +7 -8 +5
67 → □ → □ → □ → □ → □ → □ → □ → □ → □ → □ .
___/11P

Aufgabe 9

Berechne!



Verdoppele die Zahl 14: _____

Verdoppele die Zahl 44: _____

Verdoppele die Zahl 26: _____

Halbiere die Zahl 56: _____

Halbiere die Zahl 84: _____

Halbiere die Zahl 72: _____

___/6P

Aufgabe 10

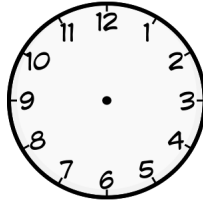



Zeichne für die folgenden Geldbeträge die Münzen und Scheine.

25 Euro	66 Euro	18,20 Euro	19,07 Euro

___/4P

Aufgabe 11

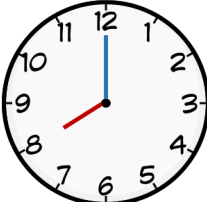



Zeichne die Stundenzeiger in rot und die Minutenzeiger in blau ein.

15:00	7:50	12:15	18:30
			

___/4P

Aufgabe 12

Schreibe immer 2 Uhrzeiten (morgens und abends).

_____ _____	_____ _____	_____ _____	_____ _____
			

___/4P

Lösung Klassenarbeit - Gemischte Themen 2. Halbjahr

Addition und Subtraktion; Kleines Einmaleins; Sachaufgaben; Textaufgaben; Uhrzeit; Zeitspannen; Rechenschlange; Verdoppeln; Halbieren; Rechnen mit Geld

Aufgabe 1

Berechne!

$34 + 24 = 58$

$34 - 24 = 10$

$23 + 66 = 89$

$56 - 38 = 18$

$19 + 37 = 56$

$52 - 33 = 19$

$45 + 18 = 63$

$74 - 29 = 45$

$16 + 20 = 36$

$79 - 17 = 62$

$15 + 19 = 34$

$51 - 24 = 27$

$22 + 28 = 50$

$19 - 14 = 5$



Aufgabe 2

Berechne!



$6 \cdot 6 = 36$

$32 : 8 = 4$

$5 \cdot 7 = 35$

$24 : 6 = 4$

$8 \cdot 3 = 24$

$45 : 9 = 5$

$4 \cdot 7 = 28$

$56 : 8 = 7$

$7 \cdot 5 = 35$

$21 : 7 = 3$

$9 \cdot 8 = 72$

$32 : 4 = 8$

$3 \cdot 9 = 27$

$81 : 9 = 9$

___/14P


Aufgabe 3

Anna gibt in jede Schüssel 5 Beeren. Sie hat 45 Beeren.

Wie viele Schüsseln braucht sie?



Zeichnung:



Rechnung:

$45 : 5 = 9$

Kontrolle:

$9 \cdot 5 = 45$

Antwort:


Sie braucht 9 Schüsseln.

___/4P

Aufgabe 4

**Tim klebt 7 Briefmarken auf eine Seite.
Sein Album hat 8 Seiten.
Wie viele Briefmarken passen in sein Album?**

Zeichnung:



Rechnung: $7 \cdot 8 = 56$
Kontrolle: $56 : 8 = 7$
Antwort: **Er kann 56 Briefmarken in ein Album kleben.**

___ /4P

Aufgabe 5

**Tilos Auto ist 23 cm groß, Kens Auto ist 33 cm groß.
Wie viel Platz brauchen die beiden Autos,
wenn sie hintereinander geparkt sind?**



Rechnung: $23 \text{ cm} + 33 \text{ cm} = 56 \text{ cm}$
Antwort: **Hintereinander sind die Autos 56 cm lang.**

___ /2P

Aufgabe 6

**Silas hat 25 Gummibärchen und Thomas 15.
Sie wollen die Gummibärchen gleichmäßig unter sich verteilen.
Wie viele bekommt jeder?**



Rechnung: $25 + 15 = 40$ $40 : 2 = 20$
Antwort: **Jeder bekommt 20 Gummibärchen.**

___ /2P

Aufgabe 7

Lina hat um 12:30 Schule aus. Um 13:15 kommt sie zu Hause an.

Wie lange braucht sie für die Strecke?



Rechnung: **12:30 + 45 Min = 13:15**

Antwort: **Sie braucht 45 Minuten.**

___/2P

Aufgabe 8

Rechenschlange. Berechne!



$25 \xrightarrow{+3} 28 \xrightarrow{-8} 20 \xrightarrow{-4} 16 \xrightarrow{+10} 26 \xrightarrow{+18} 44 \xrightarrow{-19} 25 \xrightarrow{+5} 30 \xrightarrow{-11} 19 \xrightarrow{+4} 23 \xrightarrow{-8} \boxed{}$

$67 \xrightarrow{-8} 59 \xrightarrow{-7} 52 \xrightarrow{+15} 67 \xrightarrow{+10} 77 \xrightarrow{+5} 82 \xrightarrow{-11} 71 \xrightarrow{+7} 78 \xrightarrow{-8} 70 \xrightarrow{+5} 75$

___/11P

Aufgabe 9

Berechne!



Verdoppele die Zahl 14: **28**

Verdoppele die Zahl 44: **88**

Verdoppele die Zahl 26: **52**

Halbiere die Zahl 56: **28**

Halbiere die Zahl 84: **42**

Halbiere die Zahl 72: **36**

___/6P

Aufgabe 10

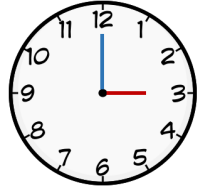
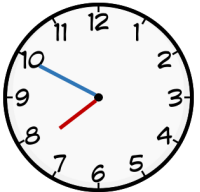
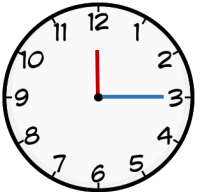

Zeichne für die folgenden Geldbeträge die Münzen und Scheine.

25 Euro	66 Euro	18,20
		

___/4P


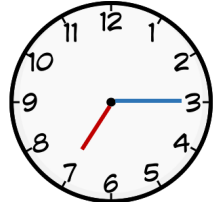


Aufgabe 11

Zeichne die Stundenzeiger in rot und die Minutenzeiger in blau ein.

15:00	7:50	12:15	18:30
			

___/4P

Aufgabe 12

<p style="color: red; text-align: center;">8:00 20:00</p>	<p style="color: red; text-align: center;">7:17 19:15</p>	<p style="color: red; text-align: center;">6:30 18:30</p>	<p style="color: red; text-align: center;">7:55 19:55</p>
			

___/4P

Viel Glück!!

Gesamt: ___/71P

Note	1	1-	1-2	2+	2	2-	2-3	3+	3	3-	3-4	4+	4	4-	4-5	5+	5	5-	5-6	6+
Punkte	67	64	62	59	56	54	51	48	46	42	39	35	31	28	24	21	17	15	12	9