

1. Rechne aus!

$48 : 8 = \underline{\quad}$

$10 : \underline{\quad} = 5$

$\underline{\quad} : 4 = 2$

$24 : 4 = \underline{\quad}$

$12 : \underline{\quad} = 3$

$\underline{\quad} : 5 = 10$

$30 : 5 = \underline{\quad}$


$45 : \underline{\quad} = 9$

$\underline{\quad} : 8 = 3$

$18 : 2 = \underline{\quad}$

$64 : \underline{\quad} = 8$

$\underline{\quad} : 2 = 8$



2. Welche Geteiltaufgaben haben das Ergebnis 8?

Finde fünf Aufgaben.

$\underline{\quad} : \underline{\quad} = 8$

$\underline{\quad} : \underline{\quad} = 8$

$\underline{\quad} : \underline{\quad} = 8$

$\underline{\quad} : \underline{\quad} = 8$

$\underline{\quad} : \underline{\quad} = 8$

3. Verteile 40 Karten an 8 Kinder. Wie viele Karten bekommt jeder?

Jeder bekommt $\underline{\quad}$ Karten.

Verteile 36 Karten an 4 Kinder. Wie viel Karten bekommt jeder?

Jeder bekommt $\underline{\quad}$ Karten.

4. Verteile 18 Stück Kekse gerecht. Wie viele Möglichkeiten findest du?

Schreibe sie alle auf!

5. Rechne aus!

$50 : 5 = \underline{\quad}$

$40 : 8 = \underline{\quad}$

$10 : 5 = \underline{\quad}$

$32 : 4 = \underline{\quad}$

$45 : 5 = \underline{\quad}$

$48 : 8 = \underline{\quad}$

$10 : 2 = \underline{\quad}$

$32 : 8 = \underline{\quad}$

$12 : 5 = \underline{\quad}$

$13 : 2 = \underline{\quad}$

$34 : 10 = \underline{\quad}$

$25 : 5 = \underline{\quad}$

6. Multiplikation!

6	•	8	=	
3	•	2	=	
5	•	7	=	
9	•	9	=	
3	•	8	=	

4	•	7	=	
8	•	8	=	
9	•	3	=	
4	•	2	=	
5	•	8	=	

9	•	5	=	
4	•	5	=	
3	•	6	=	
7	•	2	=	
6	•	7	=	

5	•	3	=	
1	•	9	=	
6	•	8	=	
7	•	6	=	
3	•	8	=	
			=	

6	•	7	=	
3	•	8	=	
4	•	4	=	
9	•	5	=	
5	•	3	=	
			=	

7	•	4	=	
4	•	3	=	
9	•	2	=	
4	•	6	=	
4	•	9	=	
			=	

1. Division:

45	:	9	=	
36	:	6	=	
42	:	6	=	
24	:	6	=	
81	:	9	=	

21	:	3	=	
38	:	8	=	
56	:	8	=	
30	:	5	=	
45	:	5	=	

70	:	7	=	
12	:	3	=	
74	:	9	=	
34	:	4	=	
9	:	3	=	

60	:	10	=	
40	:	4	=	
80	:	10	=	
30	:	3	=	
20	:	4	=	

66	:	8	=	
28	:	7	=	
18	:	9	=	
48	:	6	=	
30	:	5	=	

6	:	2	=	
24	:	7	=	
86	:	9	=	
49	:	7	=	
54	:	6	=	

2. Multiplikation und Division!

30	:	10	=	
7	•	6	=	
6	:	9	=	
34	:	8	=	
64	:	8	=	

45	:	5	=	
3	•	2	=	
25	:	5	=	
9	•	6	=	
23	:	4	=	

4	•	8	=	
35	:	5	=	
3	•	8	=	
5	•	4	=	
6	•	8	=	

81	:	9	=	
7	•	7	=	
55	:	7	=	
80	:	10	=	
45	:	6	=	


8	•	7	=	
45	:	9	=	
90	:	10	=	
56	:	7	=	
4	•	6	=	

2	•	9	=	
6	•	4	=	
8	•	3	=	
8	•	9	=	
5	•	0	=	

3. < , > oder =

6	•	5		38
9	•	4		53
8	•	2		6

45		9	•	5
81		9	•	7
36		6	•	6



1. Mal und Geteiltaufgaben. Fülle die Lücken!

4	•	3	=	
6	•	5	=	
9	•	8	=	
2	•	7	=	
3	•	6	=	
4	•	9	=	
3	•	7	=	
8	•	8	=	
9	•	7	=	
5	•	8	=	

6	•		=	18
	•	3	=	27
9	•		=	36
	•	6	=	42
	•		=	81
	•		=	25
2	•		=	6
	•	9	=	72
	•	4	=	32
7	•		=	63

24	:	6	=	
32	:	4	=	
28	:	7	=	
48	:	6	=	
14	:	7	=	
21	:	3	=	
15	:	5	=	
45	:	5	=	
72	:	8	=	
63	:	9	=	

58	:	7	=	8 R 2
49	:	6	=	
37	:	5	=	
19	:	3	=	
11	:	2	=	
27	:	4	=	
67	:	8	=	
38	:	4	=	
45	:	6	=	
84	:	9	=	



2. Rechne!

•	3	8	5	2
4				
6				
9				

•	6			10
2		10		
7			63	
		40		

1. Fülle die Lücken!

	•	4	=	16
	•	7	=	42
	•	8	=	64



7	•		=	21
9	•		=	63
6	•		=	30

2. Welche Zahlen gehören zur Neuner- Reihe?

Schreibe die Malaufgaben dazu!

16	18	24	35	36	45	54	56	64	72
----	----	----	----	----	----	----	----	----	----

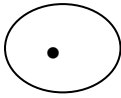
3. Rechne!

9	•	4	=	
8	•	8	=	
7	•	6	=	
7	•	8	=	
9	•	8	=	
6	•	4	=	
6	•	9	=	
3	•	7	=	
2	•	9	=	
3	•	2	=	
8	•	1	=	
10	•	7	=	
4	•	8	=	
5	•	7	=	
6	•	8	=	
9	•	5	=	
7	•	9	=	
8	•	9	=	
10	•	5	=	
8	•	3	=	

18	:	9	=	
24	:	6	=	
28	:	4	=	
42	:	7	=	
48	:	6	=	
24	:	3	=	
56	:	7	=	
54	:	9	=	
30	:	6	=	
36	:	4	=	
49	:	7	=	
40	:	5	=	
10	:	2	=	
64	:	8	=	
63	:	9	=	
50	:	5	=	
8	:	2	=	
24	:	8	=	
28	:	7	=	
32	:	8	=	

11	-	6	=	
9	+	2	=	
18	:	3	=	
7	•	6	=	
15	-	7	=	
28	:	4	=	
12	-	8	=	
9	•	7	=	
6	+	5	=	
18	-	9	=	
32	:	4	=	
45	:	9	=	
17	-	8	=	
5	•	5	=	
8	+	5	=	
15	•	3	=	
7	•	8	=	
6	+	6	=	
4	•	7	=	
8	+	3	=	

1. Rechne!



2	5	6	10	7	8	1	3	9	4

2. Fülle die Lücken!

6	•		=	30
8	•		=	64
4	•		=	28
5	•		=	25
9	•		=	63

2	•		=	14
7	•		=	21
10	•		=	100
3	•		=	24
6	•		=	48

4	•		=	32
8	•		=	48
4	•		=	16
7	•		=	49
9	•		=	18

3. Karlchen hat im Wald sieben Kuckucksvögel gesehen. Jeder Kuckuck hat 6 Eier in fremde Nester gelegt.

Frage: Wie viele junge Kuckucksvögel schlüpfen?

Rechnung: _____

Antwort: _____

4. Von den sieben Kuckucksvögeln in Karlchens Wald frisst jeder Kuckuck am Tag 9 haarige Raupen.

Frage: Wie viele Raupen werden am Tag verzehrt?

Rechnung: _____

Antwort: _____

5. Tabellenrechnen:

•	6	9	5	4
8				
2				
6				



Multiplikation und Division üben Lösung Arbeitsblatt 1

1. Rechne aus!

$48 : 8 = 6$	$10 : 2 = 5$	$8 : 4 = 2$
$24 : 4 = 6$	$12 : 4 = 3$	$50 : 5 = 10$
$30 : 5 = 6$	$45 : 5 = 9$	$24 : 8 = 3$
$18 : 2 = 9$	$64 : 8 = 8$	$16 : 2 = 8$

2. Welche Geteiltaufgaben haben das Ergebnis 8?

z.B.: $8 : 1 = 8$ $16 : 2 = 8$ $24 : 3 = 8$ $32 : 4 = 8$ $40 : 5 = 8$

3. Verteile 40 Karten an 8 Kinder. Wie viele Karten bekommt jeder?

Jeder bekommt **5** Karten.

Verteile 36 Karten an 4 Kinder. Wie viel Karten bekommt jeder?

Jeder bekommt **9** Karten.

4. Verteile 18 Stück Kekse gerecht. Wie viele Möglichkeiten findest du?

Schreibe sie alle auf!

$18 : 1 = 18,$	$18 : 2 = 9,$	$18 : 3 = 6,$
$18 : 6 = 3,$	$18 : 9 = 2,$	$18 : 18 = 1$

5. Rechne aus!

$50 : 5 = 10$	$40 : 8 = 5$	$10 : 5 = 2$	$32 : 4 = 8$
$45 : 5 = 9$	$48 : 8 = 6$	$10 : 2 = 5$	$32 : 8 = 4$
$12 : 5 = 2 \text{ R } 2$	$13 : 2 = 6 \text{ R } 1$	$34 : 10 = 3 \text{ R } 4$	$25 : 5 = 5$

6. Multiplikation!

$6 \cdot 8 = 48$
$3 \cdot 2 = 6$
$5 \cdot 7 = 35$
$9 \cdot 9 = 81$
$3 \cdot 8 = 24$

$4 \cdot 7 = 28$
$8 \cdot 8 = 64$
$9 \cdot 3 = 27$
$4 \cdot 2 = 8$
$5 \cdot 8 = 40$

$9 \cdot 5 = 45$
$4 \cdot 5 = 20$
$3 \cdot 6 = 18$
$7 \cdot 2 = 14$
$6 \cdot 7 = 42$

$5 \cdot 3 = 15$
$1 \cdot 9 = 9$
$6 \cdot 8 = 48$
$7 \cdot 6 = 42$
$3 \cdot 8 = 24$

$6 \cdot 7 = 42$
$3 \cdot 8 = 24$
$4 \cdot 4 = 16$
$9 \cdot 5 = 45$
$5 \cdot 3 = 15$

$7 \cdot 4 = 28$
$4 \cdot 3 = 12$
$9 \cdot 2 = 18$
$4 \cdot 6 = 24$
$4 \cdot 9 = 36$

Multiplikation und Division üben Lösung Arbeitsblatt 2

1. Division:

$45 : 9 = 5$
$36 : 6 = 6$
$42 : 6 = 7$
$24 : 6 = 4$
$81 : 9 = 9$

$21 : 3 = 7$
$40 : 8 = 5$
$56 : 8 = 7$
$30 : 5 = 6$
$45 : 5 = 9$

$70 : 7 = 10$
$12 : 3 = 4$
$72 : 9 = 8$
$32 : 4 = 8$
$9 : 3 = 3$

60	:	10	=	6
40	:	4	=	10
80	:	10	=	8
30	:	3	=	10
20	:	4	=	5

64	:	8	=	8
28	:	7	=	4
18	:	9	=	2
48	:	6	=	8
30	:	5	=	6

6	:	2	=	3
24	:	7	=	4
81	:	9	=	9
49	:	7	=	7
54	:	6	=	9

2. Multiplikation und Division!

30	:	10	=	3
7	•	6	=	42
6	:	9	=	54
32	:	8	=	4
64	:	8	=	8

45	:	5	=	9
3	•	2	=	6
25	:	5	=	5
9	•	6	=	54
20	:	4	=	5

4	•	8	=	32
35	:	5	=	7
3	•	8	=	24
5	•	4	=	20
6	•	8	=	48

81	:	9	=	9
7	•	7	=	49
56	:	7	=	8
80	:	10	=	8
42	:	6	=	7

8	•	7	=	56
45	:	9	=	5
90	:	10	=	9
56	:	7	=	8
4	•	6	=	24

2	•	9	=	18
6	•	4	=	24
8	•	3	=	24
8	•	9	=	72
5	•	0	=	0

3. < , > oder =

6	•	5	<	38
9	•	4	<	53
8	•	2	>	6

45	=	9	•	5
81	>	9	•	7
36	=	6	•	6

Multiplikation und Division üben Lösung Arbeitsblatt 3

1. Mal und Geteiltaufgaben. Fülle die Lücken!

4	•	3	=	12
6	•	5	=	30
9	•	8	=	72
2	•	7	=	14
3	•	6	=	18
4	•	9	=	36
3	•	7	=	21
8	•	8	=	64
9	•	7	=	63
5	•	8	=	40

6	•	3	=	18
9	•	3	=	27
9	•	4	=	36
7	•	6	=	42
9	•	9	=	81
5	•	5	=	25
2	•	3	=	6
8	•	9	=	72
8	•	4	=	32
7	•	9	=	63

24	:	6	=	4
32	:	4	=	8
28	:	7	=	4
48	:	6	=	8
14	:	7	=	2
21	:	3	=	7
15	:	5	=	3
45	:	5	=	9
72	:	8	=	9
63	:	9	=	7

58	:	7	=	8 R 2
49	:	6	=	8 R 1
37	:	5	=	7 R 2
19	:	3	=	6 R 1
11	:	2	=	5 R 1
27	:	4	=	6 R 3
67	:	8	=	8 R 3
38	:	4	=	9 R 2
45	:	6	=	7 R 3
84	:	9	=	9 R 3

2. Rechne!

•	3	8	5	2
4	12	32	20	8
6	18	48	30	12
9	27	72	45	18

•	6	5	9	10
2	12	10	18	20
7	42	35	63	70
8	48	40	72	50

Multiplikation und Division üben Lösung Arbeitsblatt 4

1. Fülle die Lücken!

4	•	4	=	16
6	•	7	=	42
8	•	8	=	64

7	•	3	=	21
9	•	4	=	63
6	•	5	=	30

2. Welche Zahlen gehören zur Neuner- Reihe?

Schreibe die Malaufgaben dazu!

16	18	24	35	36	45	54	56	64	72
	9 • 2			9 • 4	9 • 5	9 • 6			9 • 8

3. Rechne!

9	•	4	=	36	18	:	9	=	2	11	-	6	=	5
8	•	8	=	64	24	:	6	=	4	9	+	2	=	11
7	•	6	=	42	28	:	4	=	7	18	:	3	=	6
7	•	8	=	56	42	:	7	=	6	7	•	6	=	42
9	•	8	=	72	48	:	6	=	8	15	-	7	=	8
6	•	4	=	24	24	:	3	=	8	28	:	4	=	7

6	•	9	=	54		56	:	7	=	8		12	-	8	=	4
3	•	7	=	21		54	:	9	=	6		9	•	7	=	63
2	•	9	=	18		30	:	6	=	5		6	+	5	=	11
3	•	2	=	6		36	:	4	=	9		18	-	9	=	9
8	•	1	=	8		49	:	7	=	7		32	:	4	=	8
10	•	7	=	70		40	:	5	=	8		45	:	9	=	5
4	•	8	=	32		10	:	2	=	5		17	-	8	=	9
5	•	7	=	35		64	:	8	=	8		5	•	5	=	25
6	•	8	=	48		63	:	9	=	7		8	+	5	=	13
9	•	5	=	45		50	:	5	=	10		15	•	3	=	5
7	•	9	=	63		8	:	2	=	4		7	•	8	=	56
8	•	9	=	72		24	:	8	=	3		6	+	6	=	12
10	•	5	=	50		28	:	7	=	4		4	•	7	=	28
8	•	3	=	24		32	:	8	=	4		8	+	3	=	11

Multiplikation und Division üben Lösung Arbeitsblatt 5

1. Kreuze an, durch welche Zahlen du 32 teilen kannst.

1	2	3	4	5	6	7	8	9	10
x	x		x				x		

Teile 32 durch alle Zahlen, die du nicht angekreuzt hast.

a) $32 : 3 =$ _____
 $30 : 3 = 10$
 2
 $32 : 3 = 10 \text{ Rest } 2$

c) $32 : 6 =$ _____
 $30 : 6 = 5$
 2
 $32 : 6 = 5 \text{ Rest } 2$

c) $32 : 9 =$ _____
 $27 : 9 = 3$
 5
 $32 : 9 = 3 \text{ Rest } 5$

b) $32 : 5 =$ _____
 $30 : 5 = 6$
 2
 $32 : 5 = 6 \text{ Rest } 2$

d) $32 : 7 =$ _____
 $28 : 7 = 4$
 4
 $32 : 7 = 4 \text{ Rest } 4$

f) $32 : 10 =$ _____
 $30 : 10 = 3$
 2
 $32 : 10 = 3 \text{ Rest } 2$

2. Kreuze an, durch welche Zahlen du 30 teilen kannst.

1	2	3	4	5	6	7	8	9	10
x	x	x		x	x				x

Teile 30 durch alle Zahlen, die du nicht angekreuzt hast.

$30 : 4 =$	$30 : 7 =$	$30 : 8 =$	$30 : 9 =$
$28 : 4 = 7$	$28 : 7 = 4$	$24 : 8 = 3$	$27 : 9 = 3$
4	2	6	3
$30 : 4 = 7 \text{ R } 4$	$30 : 7 = 4 \text{ R } 2$	$30 : 8 = 3 \text{ R } 6$	$30 : 9 = 3 \text{ R } 3$

3. Kreuze an, durch welche Zahlen du 36 teilen kannst.

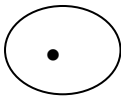
1	2	3	4	5	6	7	8	9	10
X	X	X	X		X			X	

Teile 36 durch alle Zahlen, die du nicht angekreuzt hast.

$36 : 5 =$	$36 : 7 =$	$36 : 8 =$	$36 : 10 =$
$35 : 5 = 7$	$35 : 7 = 5$	$32 : 8 = 4$	$30 : 10 = 3$
1	1	4	6
$36 : 5 = 7 \text{ R } 1$	$36 : 7 = 5 \text{ R } 1$	$36 : 8 = 4 \text{ R } 4$	$36 : 10 = 3 \text{ R } 6$

Multiplikation und Division üben Lösung Arbeitsblatt 6

1. Rechne!



2	5	6	10	7	8	1	3	9	4
14	35	42	70	49	56	7	21	63	28

2. Fülle die Lücken!

6	•	5	=	30
8	•	8	=	64
4	•	7	=	28
5	•	5	=	25
9	•	7	=	63

2	•	7	=	14
7	•	3	=	21
10	•	10	=	100
3	•	8	=	24
6	•	8	=	48

4	•	8	=	32
8	•	6	=	48
4	•	4	=	16
7	•	7	=	49
9	•	2	=	18

3. Karlchen hat im Wald sieben Kuckucksvögel gesehen. Jeder Kuckuck hat 6 Eier in fremde Nester gelegt.

Frage: Wie viele junge Kuckucksvögel schlüpfen?

Rechnung: $7 \cdot 6 = 42$

Antwort: **Es schlüpfen 42 Kuckucksvögel.**

4. Von den sieben Kuckucksvögeln in Karlchens Wald frisst jeder Kuckuck am Tag 9 haarige Raupen.

Frage: Wie viele Raupen werden am Tag verzehrt?

Rechnung: $7 \cdot 9 = 63$

Antwort: **Am Tag werden 63 Raupen verzehrt.**

5. Tabellenrechnen:

•	6	9	5	4
8	48	72	40	32
2	12	18	10	8
6	36	54	30	24