



1. Denke dir eine Plusaufgabe aus, bei der das Ergebnis eine Schnapszahl ist.
(22, 33, 44, 55, 66,...)

Was geschieht mit dem Ergebnis, wenn ...

> die erste Zahl um 3 größer wird?

> die zweite Zahl um 9 größer wird?

> beide Zahlen um 1 größer werden?

> der erste Zahl um 2 und die zweite Zahl um 1 größer wird?
.....

> die erste Zahl um 5 und die zweite Zahl um 10 größer wird?
.....

> die erste Zahl um 1 größer und die zweite Zahl um 1 kleiner werden?
.....

> die erste Zahl um 1 kleiner und die zweite Zahl um 1 größer werden?
.....

> die erste Zahl um 7 kleiner wird?

2. Sortier - Tabelle (Plus-Aufgaben)


Trage die Aufgaben in die Tabelle ein und rechne aus!

24 + 8	46 + 2	25 + 5	89 + 2	51 + 8	68 + 2	76 + 7	26 + 3	37 + 3
96 + 6	86 + 3	76 + 4	34 + 8	56 + 2	35 + 5	79 + 2	41 + 8	58 + 2

<p>Beide Einer zusammen sind kleiner als 10. Das Ergebnis liegt im selben Zehner</p>	<p>Beide Einer zusammen ergeben genau 10. Das Ergebnis ist der nächste reine Zehner</p>	<p>Beide Einer zusammen sind größer als 10. Das Ergebnis liegt im nächsten Zehner</p>
---	--	--

.....
.....
.....
.....
.....
.....

Tipp! Wenn du alles richtig sortiert hast, sind alle Linien besetzt!



1. Sortier - Tabelle (Minus-Aufgaben)

Trage die Aufgaben in die Tabelle ein und rechne aus!

41 - 1	58 - 3	36 - 6	46 - 5	99 - 9	64 - 7	29 - 8	31 - 1	41 - 8
48 - 3	46 - 6	82 - 9	89 - 9	54 - 7	72 - 9	36 - 5	51 - 8	93 - 2

Der erste Einer ist größer als der zweite.
Das Ergebnis liegt im selben Zehner

Beide Einer sind gleich.
Das Ergebnis ist der reine Zehner

Der erste Einer ist kleiner als der zweite.
Das Ergebnis liegt im niedrigeren Zehner

.....
.....
.....
.....
.....
.....

Tipp! Wenn du alles richtig sortiert hast, sind alle Linien besetzt!

2. Rechne folgende Aufgaben! Was fällt dir auf?

- 30 + 50 =
- 80 + 5 + 3 + 2 =
- 90 + 5 =
- 8 + 7 =
- 30 + 50 =
- 15 + 80 =
- 30 + 50 + 10 + 3 + 2 =
- 38 + 50 =
- 88 + 7 =
- 50 + 30 =
- 80 + 7 =
- 87 + 8 =
- 40 + 50 + 5 =
- 30 + 50 =
- 8 + 7 =
- 80 + 15 =
- 50 + 30 =
- 80 + 7 =

Das ist mir aufgefallen:

.....

.....

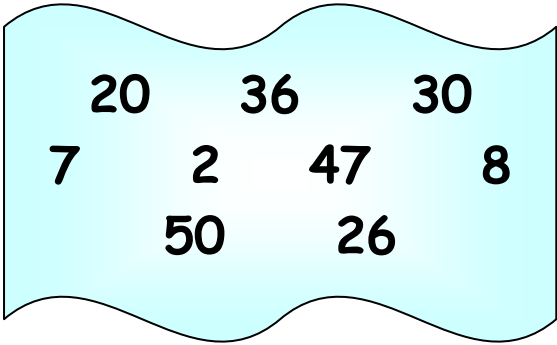
.....

.....

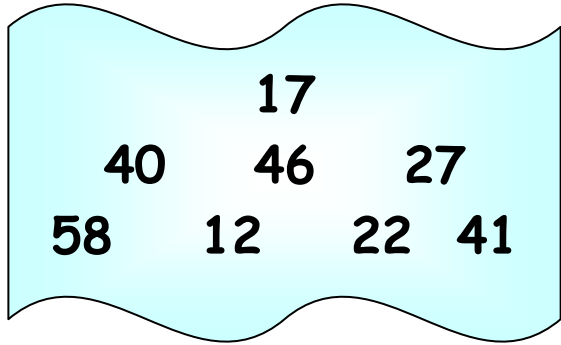
.....

- 87 + 3 =
- 90 + 8 - 3 =
- 38 + 2 =
- 40 + 50 =
- 90 + 5 =
- 30 + 50 =
- 80 + 8 =
- 88 + 7 =





+



1. Mit diesen Zahlen kannst du ganz viele Plus-Aufgaben bilden.
Schreibe sie auf und versuche sie auszurechnen.
Ordne sie dann nach 'leicht' oder 'schwer'.



.....

.....

.....

.....

.....

.....

.....

.....

.....

.....

.....

.....



2. Welches ist für dich wohl die schwierigste Aufgabe?

.....

Warum findest du sie schwerer als die anderen Aufgaben?

.....

Und welches ist deine leichteste Aufgabe?

.....

Kannst du auch schon drei Zahlen zusammenrechnen?


.....

.....

.....

.....

Mit Zehnern und Einern in zwei Schritten rechnen (Teil 1)

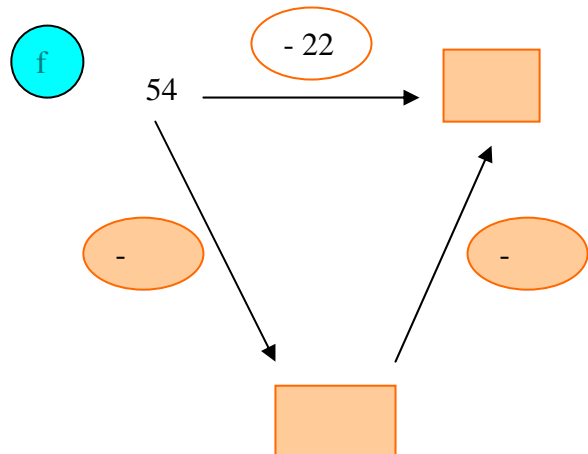
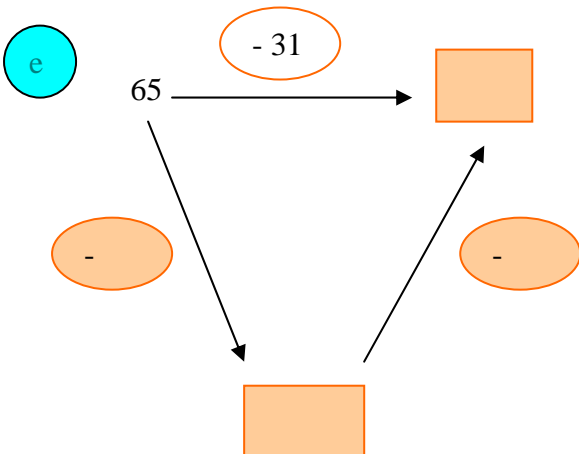
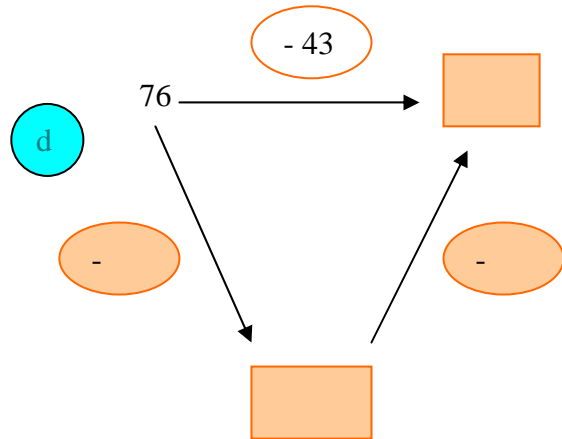
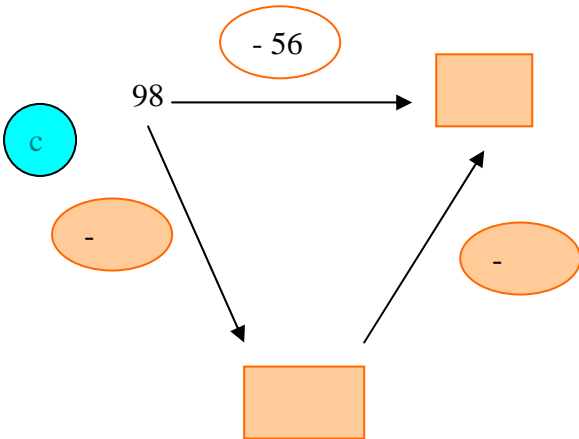
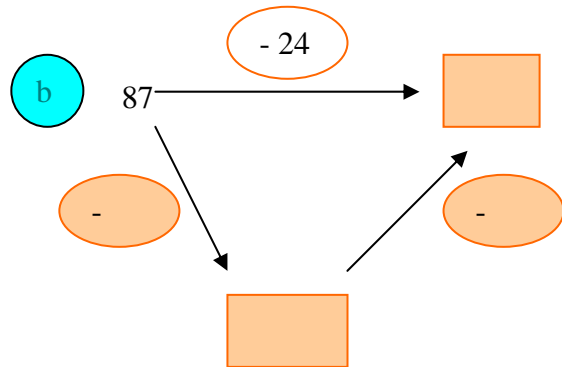
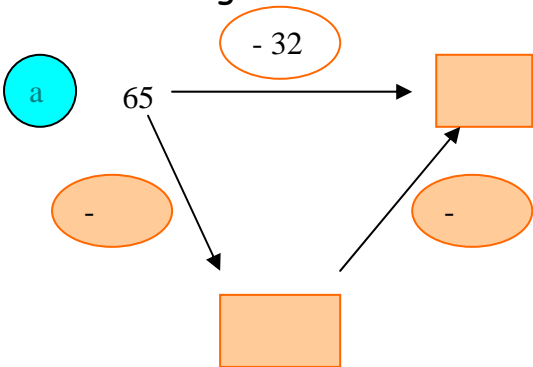


Soll ich die Zehner
oder die Einer zuerst
abziehen?

1

Wie rechnest du?

Trage deine beiden Rechenschritte ein.



1. Schreibe deine zwei Rechenschritte auf.

a $96 - 35 = 96 - \square - \square = \square$

b $85 - 42 = 85 - \square - \square = \square$

c $59 - 24 = 59 - \square - \square = \square$

d $76 - 33 = 76 - \square - \square = \square$

e $68 - 25 = 68 - \square - \square = \square$

f $47 - 32 = 47 - \square - \square = \square$

g $80 - 48 = 80 - \square - \square = \square$

h $37 - 23 = 37 - \square - \square = \square$



2. Ergänze bis 100!

$60 + \underline{\quad} = 100$

$15 + \underline{\quad} = 100$

$75 + \underline{\quad} = 100$

$33 + \underline{\quad} = 100$

$82 + \underline{\quad} = 100$

$63 + \underline{\quad} = 100$



3. Aus der großen Minustabelle.

-	0	1	2	3	4
17					
18					

-	12	13	14	15	16
16					
17					

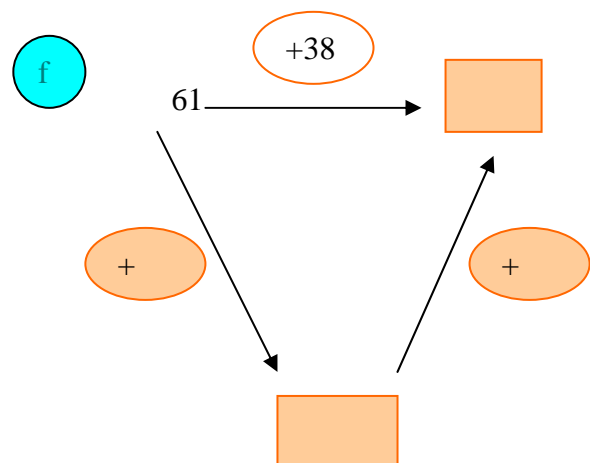
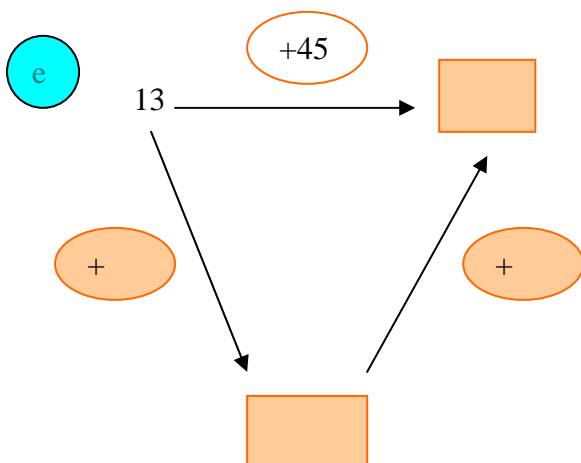
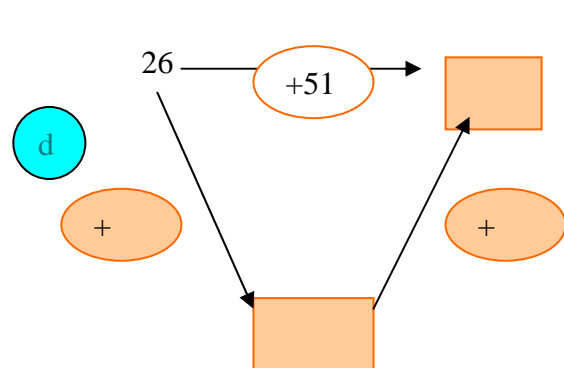
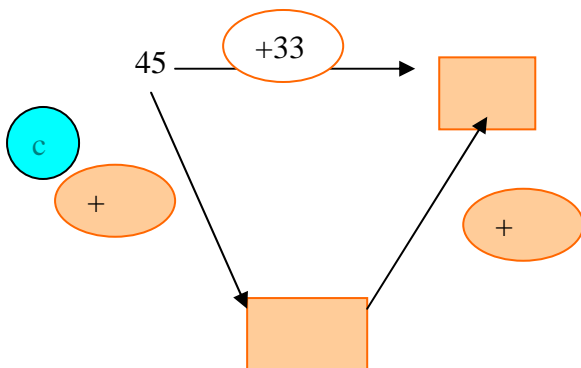
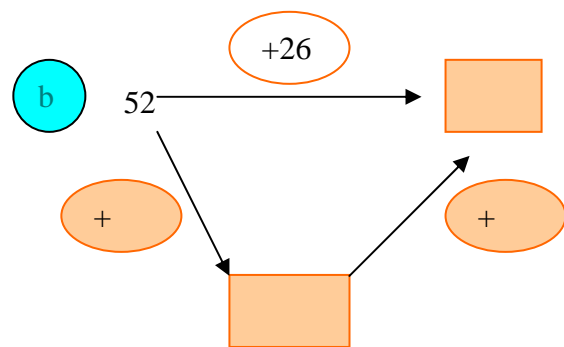
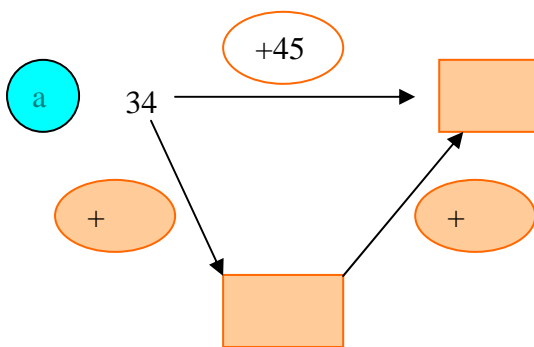
1. Mit Zehnern und Einern in zwei Schritten rechnen (Teil 2)



Was ist für mich leichter!
 $34 + 40 + 5$ oder
 $34 + 5 + 40$!

1

Wie rechnest du?
 Trage deine beiden Rechenschritte ein.



1 Schreibe deine zwei Rechenschritte auf.

a $33 + 52 = 33 + \square + \square = \square$

b $54 + 35 = 54 + \square + \square = \square$

c $62 + 26 = 62 + \square + \square = \square$

d $71 + 28 = 71 + \square + \square = \square$

e $45 + 43 = 45 + \square + \square = \square$

f $82 + 17 = 82 + \square + \square = \square$

g $43 + 25 = 43 + \square + \square = \square$

h $65 + 34 = 65 + \square + \square = \square$



2 Aus der großen Plustabelle

+	3	4	5	6	7
11					
12					

+	5	6	7	8	9
8					
9					

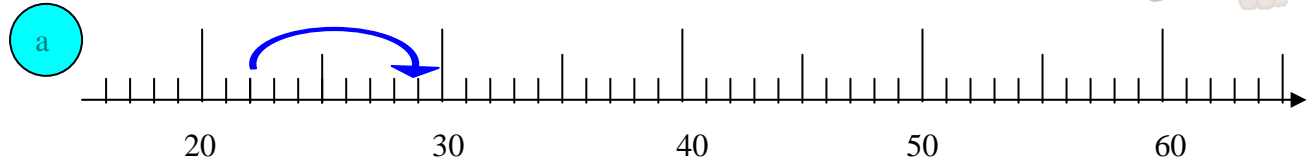
+	23	24	25	26	27
11					
12					

+	25	26	27	28	29
8					
9					



Plusrechnen mit Einern am Zahlenstrahl

1 Zeichne Rechenpfeile in den Farben der Aufgaben ein.
Ergänze die Ergebnisse.

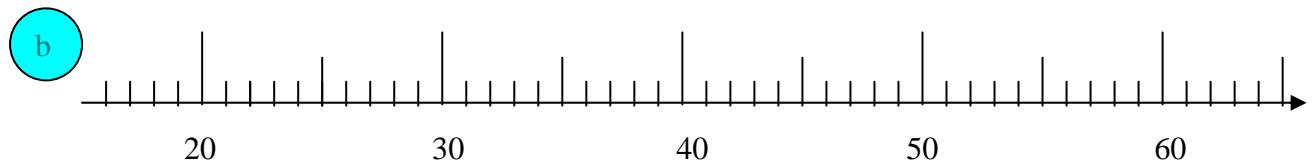


$22 + 7 = \boxed{29}$

$43 + 5 = \boxed{}$

$51 + 6 = \boxed{}$

$30 + 8 = \boxed{}$

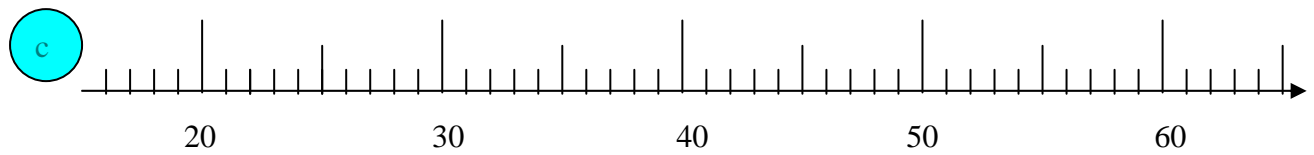


$12 + 7 = \boxed{}$

$46 + 4 = \boxed{}$

$31 + 8 = \boxed{}$

$52 + 6 = \boxed{}$

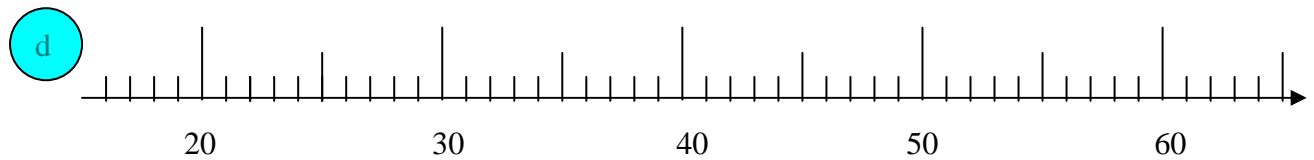


$21 + 9 = \boxed{}$

$53 + 6 = \boxed{}$

$42 + 5 = \boxed{}$

$30 + 8 = \boxed{}$

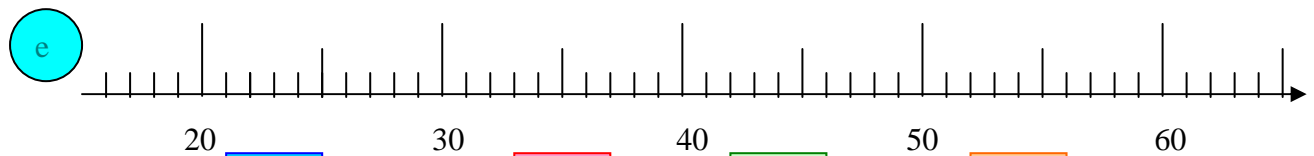


$33 + 4 = \boxed{}$

$22 + 8 = \boxed{}$

$51 + 7 = \boxed{}$

$44 + 3 = \boxed{}$



$11 + 8 = \boxed{}$

$35 + 3 = \boxed{}$

$23 + 7 = \boxed{}$

$52 + 7 = \boxed{}$

Wir rechnen schon bis 100 - Lösung - Station 8

1. Denke dir eine Plusaufgabe aus, bei der das Ergebnis eine Schnapszahl ist.

Beispiel: $34 + 21 = 55$

Was geschieht mit dem Ergebnis, wenn ...

- > die erste Zahl um 3 größer wird? $37 + 21 = 58$
- > die zweite Zahl um 9 größer wird? $34 + 30 = 64$
- > beide Zahlen um 1 größer werden? $35 + 22 = 57$
- > der erste Zahl um 2 und die zweite Zahl um 1 größer wird?
 $36 + 22 = 58$
- > die erste Zahl um 5 und die zweite Zahl um 10 größer wird?
 $39 + 31 = 70$
- > die erste Zahl um 1 größer und die zweite Zahl um 1 kleiner werden?
 $35 + 20 = 55$
- > die erste Zahl um 1 kleiner und die zweite Zahl um 1 größer werden?
 $33 + 22 = 55$
- > die erste Zahl um 7 kleiner wird? $27 + 21 = 48$

2. Sortier - Tabelle (Plus-Aufgaben)

Trage die Aufgaben in die Tabelle ein und rechne aus!

Beide Einer zusammen sind kleiner als 10. Das Ergebnis liegt im selben Zehner	Beide Einer zusammen ergeben genau 10. Das Ergebnis ist der nächste reine Zehner	Beide Einer zusammen sind größer als 10. Das Ergebnis liegt im nächsten Zehner
--	---	---

$46 + 2 = 48$

$51 + 8 = 59$

$26 + 3 = 29$

$86 + 3 = 89$

$56 + 2 = 58$

$41 + 8 = 49$

$25 + 5 = 30$

$68 + 2 = 70$

$37 + 3 = 40$

$76 + 4 = 80$

$35 + 5 = 40$

$58 + 2 = 60$

$24 + 8 = 32$

$89 + 2 = 91$

$76 + 7 = 83$

$96 + 6 = 102$

$34 + 8 = 42$

$79 + 2 = 81$

Wir rechnen schon bis 100 - Lösung - Station 9

1. Sortier - Tabelle (Minus-Aufgaben)

Trage die Aufgaben in die Tabelle ein und rechne aus!

Der erste Einer ist größer als der zweite. Das Ergebnis liegt im selben Zehner	Beide Einer sind gleich. Das Ergebnis ist der reine Zehner	Der erste Einer ist kleiner als der zweite. Das Ergebnis liegt im niedrigeren Zehner
---	---	---

$58 - 3 = 55$

$46 - 5 = 41$

$29 - 8 = 21$

$48 - 3 = 45$

$36 - 5 = 31$

$93 - 2 = 91$

$41 - 1 = 40$

$36 - 6 = 40$

$99 - 9 = 90$

$31 - 1 = 30$

$46 - 6 = 40$

$89 - 9 = 80$

$64 - 7 = 57$

$41 - 8 = 33$

$82 - 9 = 73$

$54 - 7 = 47$

$72 - 9 = 63$

$51 - 8 = 43$

2. Rechne folgende Aufgaben

$$30 + 50 = 80$$

$$80 + 5 + 3 + 2 = 90$$

$$90 + 5 = 95$$

$$8 + 7 = 15$$

$$30 + 50 = 80$$

$$15 + 80 = 95$$

$$30 + 50 + 10 + 3 + 2 = 95$$

$$38 + 50 = 88$$

$$88 + 7 = 95$$

$$50 + 30 = 80 + 7 = 87 + 8 = 95$$

$$40 + 50 + 5 = 95$$

$$30 + 50 = 80$$

$$8 + 7 = 15$$

$$80 + 15 = 95$$

$$50 + 30 = 80$$

$$80 + 7 = 87$$

$$87 + 3 = 90$$

$$90 + 8 - 3 = 95$$

$$38 + 2 = 40$$

$$40 + 50 = 90$$

$$90 + 5 = 95$$

$$30 + 50 = 80$$

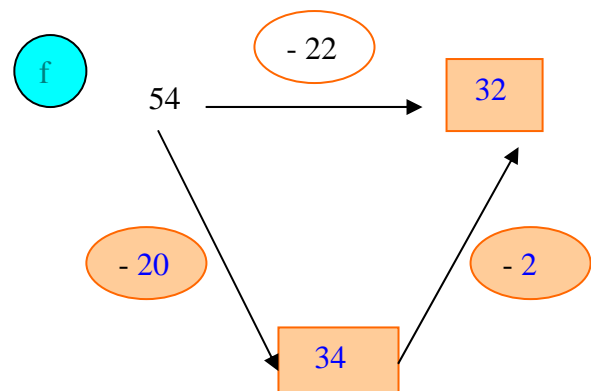
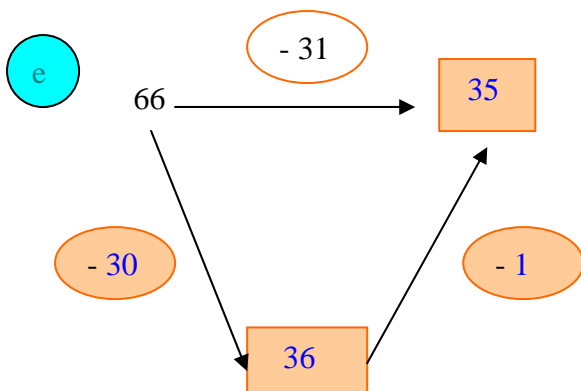
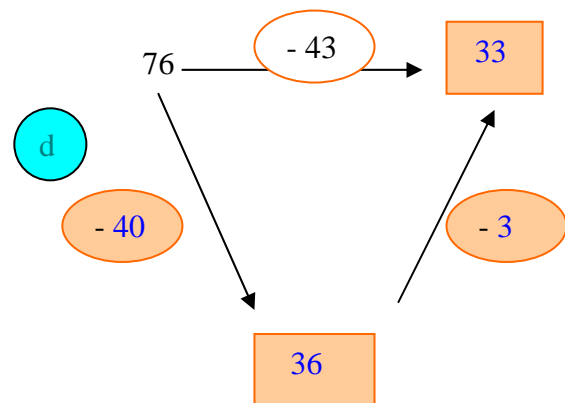
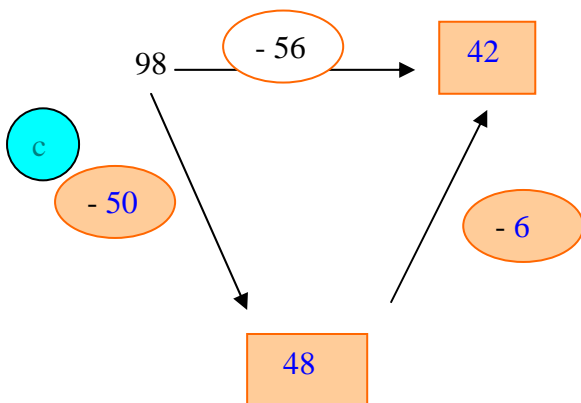
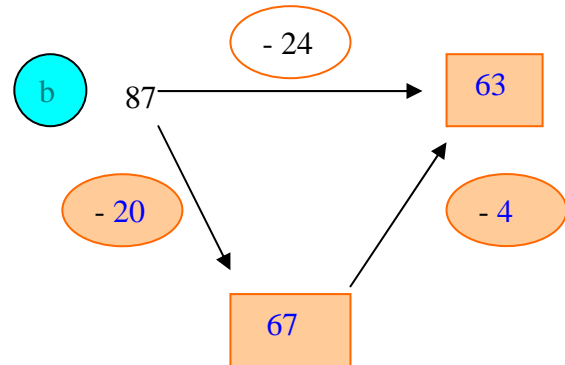
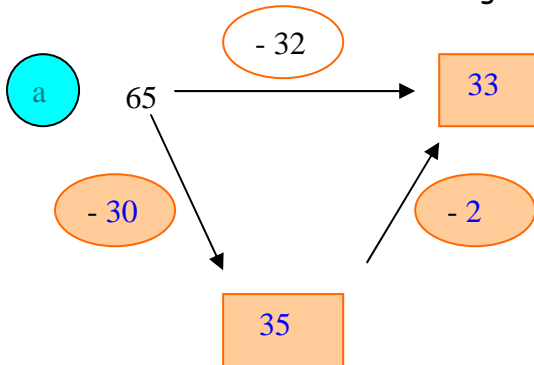
$$80 + 8 = 88$$

$$88 + 7 = 95$$

Was fällt dir auf? Es gibt für gleiche Aufgaben verschiedene Rechenwege!

Wir rechnen schon bis 100 - Lösung - Station II

1. Wie rechnest du? Trage deine beiden Rechenschritte ein.



Wir rechnen schon bis 100 - Lösung - Station 12

1. Schreibe deine zwei Rechenschritte auf.

a $96 - 35 = 96 - 30 - 5 = 61$

b $85 - 42 = 85 - 40 - 2 = 43$

c $59 - 24 = 59 - 20 - 4 = 35$

d $76 - 33 = 76 - 30 - 3 = 43$

e $68 - 25 = 68 - 20 - 5 = 43$

f $47 - 32 = 47 - 30 - 2 = 15$

g $80 - 48 = 80 - 40 - 8 = 32$

h $37 - 23 = 37 - 20 - 3 = 14$

2. Ergänze bis 100!

$60 + 40 = 100$

$15 + 85 = 100$

$75 + 25 = 100$

$33 + 67 = 100$

$82 + 18 = 100$

$63 + 37 = 100$

3. Aus der großen Minustabelle.

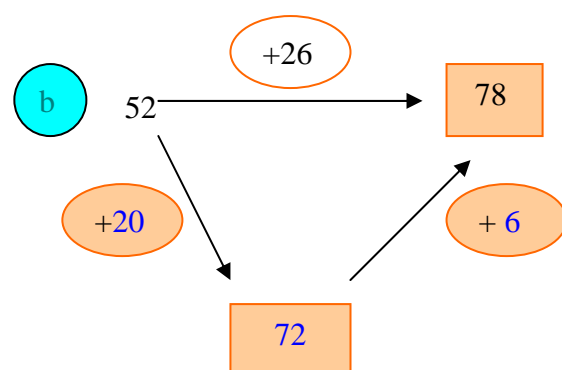
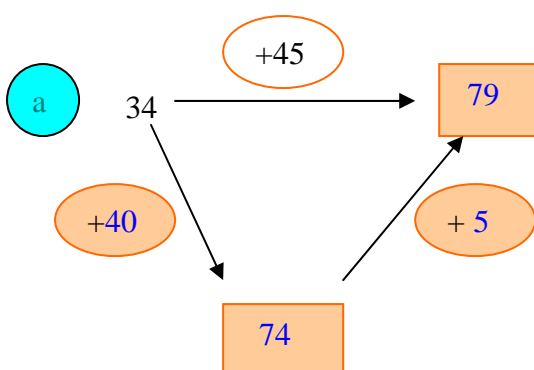
-	0	1	2	3	4
17	17	16	15	14	13
18	18	17	16	15	14

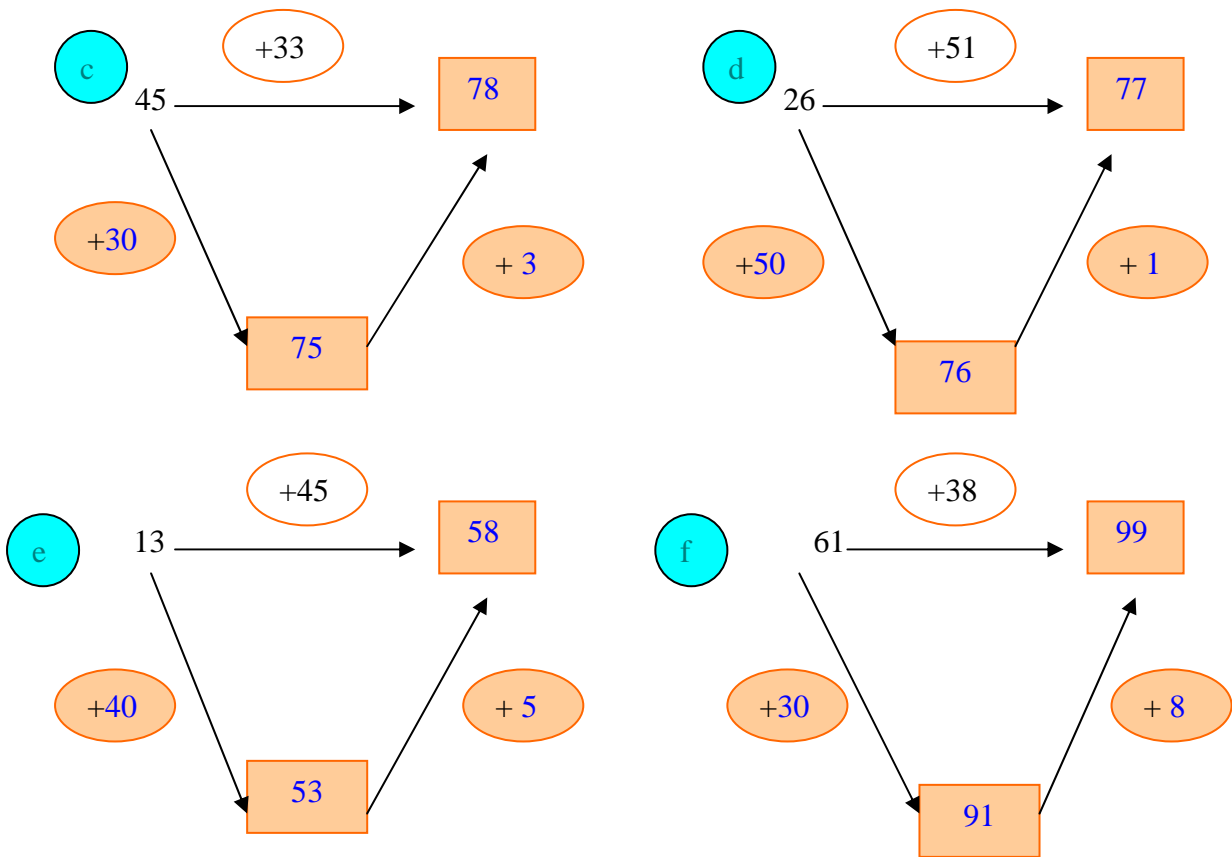
-	12	13	14	15	16
16	4	3	2	1	0
17	5	4	3	2	1

Wir rechnen schon bis 100 - Lösung - Station 13

1. Wie rechnest du?

Trage deine beiden Rechenschritte ein.





Wir rechnen schon bis 100 - Lösung - Station 14

1. Schreibe deine zwei Rechenschritte auf.

- a $33 + 52 = \boxed{33} + \boxed{50} + \boxed{2} = \boxed{85}$
- b $54 + 35 = \boxed{54} + \boxed{30} + \boxed{5} = \boxed{89}$
- c $62 + 26 = \boxed{62} + \boxed{20} + \boxed{6} = \boxed{88}$
- d $71 + 28 = \boxed{71} + \boxed{20} + \boxed{8} = \boxed{99}$
- e $45 + 43 = \boxed{45} + \boxed{40} + \boxed{3} = \boxed{88}$
- f $82 + 17 = \boxed{82} + \boxed{10} + \boxed{7} = \boxed{99}$
- g $43 + 25 = \boxed{43} + \boxed{20} + \boxed{5} = \boxed{68}$
- h $65 + 34 = \boxed{65} + \boxed{30} + \boxed{4} = \boxed{99}$

2. Aus der großen Plustabelle

+	3	4	5	6	7
11	14	15	16	17	18
12	15	16	17	18	19

+	5	6	7	8	9
8	13	14	15	16	17
9	14	15	16	17	18

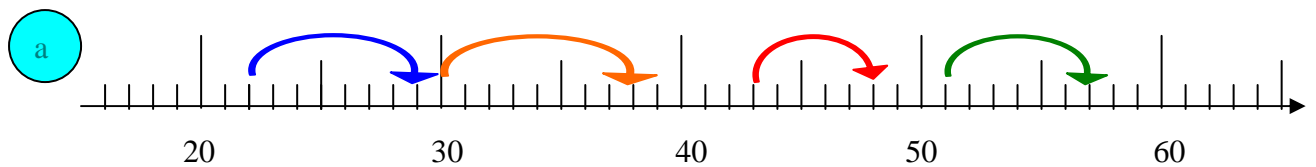
+	23	24	25	26	27
11	34	35	36	37	38
12	35	36	37	38	39

+	25	26	27	28	29
8	33	34	35	36	37
9	34	35	36	37	38

Wir rechnen schon bis 100 - Lösung - Station 15

Lösungen:

- 1 Zeichne Rechenpfeile in den Farben der Aufgaben ein.
Ergänze die Ergebnisse.

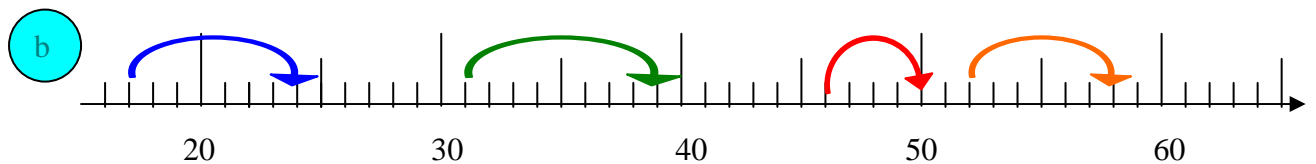


$22 + 7 = 29$

$43 + 5 = 48$

$51 + 6 = 57$

$30 + 8 = 38$

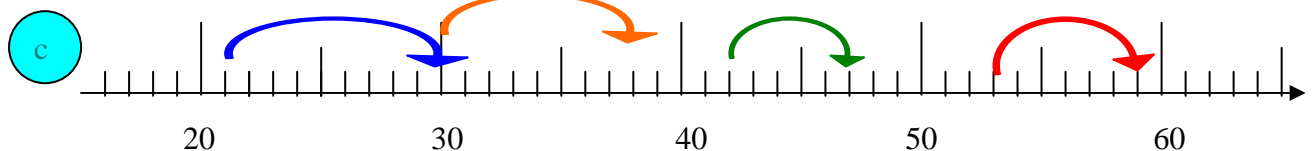


$17 + 7 = 24$

$46 + 4 = 50$

$31 + 8 = 39$

$52 + 6 = 58$



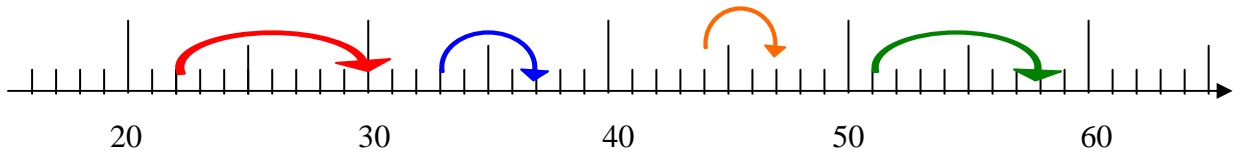
$21 + 9 = 30$

$53 + 6 = 59$

$42 + 5 = 47$

$30 + 8 = 38$

d



$$33 + 4 = 37$$

$$22 + 8 = 30$$

$$51 + 7 = 58$$

$$44 + 3 = 47$$



$$21 + 8 = 29$$

$$35 + 3 = 38$$

$$23 + 7 = 30$$

$$52 + 7 = 59$$