

Klassenarbeit - Abschlussarbeit

Sachkunde 4. Klasse

Deutschland; Europa; Menschlicher Körper; Magnetfeld der Erde; Frühblüher;
Verkehrszeichen; Vulkane

Aufgabe 1

**Du hast zu jeder Deutschland-Frage drei Antwortmöglichkeiten.
Kreuze jeweils die richtige Antwort an!**

(Es können auch mehrere Möglichkeiten richtig sein!!)

a. Die Hauptstadt Deutschlands heißt ...

<input type="checkbox"/>	Bonn	<input type="checkbox"/>	Berlin	<input type="checkbox"/>	Frankfurt
--------------------------	------	--------------------------	--------	--------------------------	-----------

b. In Deutschland gibt es seit 1990 Bundesländer

<input type="checkbox"/>	11	<input type="checkbox"/>	6	<input type="checkbox"/>	16
--------------------------	----	--------------------------	---	--------------------------	----

c. Folgende Flüsse fließen durch Deutschland.....

<input type="checkbox"/>	Rhein	<input type="checkbox"/>	Elbe	<input type="checkbox"/>	Weser
--------------------------	-------	--------------------------	------	--------------------------	-------

d. Die Hauptstadt des Bundeslandes Niedersachsen heißt ...

<input type="checkbox"/>	Hamburg	<input type="checkbox"/>	Stuttgart	<input type="checkbox"/>	Hannover
--------------------------	---------	--------------------------	-----------	--------------------------	----------

e. Die Hauptstadt des Bundeslandes Baden-Württemberg heißt ...

<input type="checkbox"/>	Frankfurt	<input type="checkbox"/>	Stuttgart	<input type="checkbox"/>	Dresden
--------------------------	-----------	--------------------------	-----------	--------------------------	---------

f. Die Hauptstadt des Bundeslandes Thüringen heißt ...

<input type="checkbox"/>	Erfurt	<input type="checkbox"/>	Magdeburg	<input type="checkbox"/>	Schwerin
--------------------------	--------	--------------------------	-----------	--------------------------	----------

g. Die Hauptstadt des Bundeslandes Rheinland-Pfalz heißt ...

<input type="checkbox"/>	Wiesbaden	<input type="checkbox"/>	Mainz	<input type="checkbox"/>	Saarbrücken
--------------------------	-----------	--------------------------	-------	--------------------------	-------------

Aufgabe 2

Du hast zu jeder Europa-Frage drei Antwortmöglichkeiten.

Kreuze jeweils die richtige Antwort an!

(Es können auch mehrere Möglichkeiten richtig sein!!)

a. Zu den direkten europäischen Nachbarn Deutschlands zählt ...

<input type="checkbox"/>	Italien	<input type="checkbox"/>	Österreich	<input type="checkbox"/>	Niederlande
--------------------------	---------	--------------------------	------------	--------------------------	-------------

b. Zu den direkten europäischen Nachbarn Deutschlands zählt ...

<input type="checkbox"/>	Schweiz	<input type="checkbox"/>	Frankreich	<input type="checkbox"/>	Polen
--------------------------	---------	--------------------------	------------	--------------------------	-------

c. Paris ist die Hauptstadt ...

<input type="checkbox"/>	der Slowakei	<input type="checkbox"/>	Frankreichs	<input type="checkbox"/>	der Schweiz
--------------------------	--------------	--------------------------	-------------	--------------------------	-------------

d. Zu Polen gehört ...

<input type="checkbox"/>	Moskau	<input type="checkbox"/>	Prag	<input type="checkbox"/>	Warschau
--------------------------	--------	--------------------------	------	--------------------------	----------

e. Zur Europäischen Union zählen ...

<input type="checkbox"/>	6 Länder	<input type="checkbox"/>	12 Länder	<input type="checkbox"/>	27 Länder
--------------------------	----------	--------------------------	-----------	--------------------------	-----------

f. Folgende Flüsse fließen durch bzw. in Europa ...

<input type="checkbox"/>	der Nil	<input type="checkbox"/>	der Amazonas	<input type="checkbox"/>	die Donau
--------------------------	---------	--------------------------	--------------	--------------------------	-----------

g. Folgende Länder liegen westlich von Deutschland ...

<input type="checkbox"/>	Polen	<input type="checkbox"/>	Niederlande	<input type="checkbox"/>	Frankreich
--------------------------	-------	--------------------------	-------------	--------------------------	------------

h. Folgende Länder liegen südlich von Deutschland ...

<input type="checkbox"/>	Italien	<input type="checkbox"/>	Österreich	<input type="checkbox"/>	Dänemark
--------------------------	---------	--------------------------	------------	--------------------------	----------

i. Folgende Länder liegen östlich von Deutschland ...

<input type="checkbox"/>	Belgien	<input type="checkbox"/>	Litauen	<input type="checkbox"/>	Estland
--------------------------	---------	--------------------------	---------	--------------------------	---------

j. Folgende europäische Länder grenzen nicht an Deutschland ...

<input type="checkbox"/>	Dänemark	<input type="checkbox"/>	Lettland	<input type="checkbox"/>	Italien
--------------------------	----------	--------------------------	----------	--------------------------	---------

Aufgabe 3

Kreuze in der folgenden Liste die Länder an, die nicht zu Europa gehören!

	Polen		Luxemburg
	China		Kanada
	Deutschland		Schweiz
	Italien		Slowakei
	Ägypten		Polen
	Kanada		Japan
	Niederlande		Lettland
	Belgien		Litauen
	Mexiko		Estland
	Frankreich		Norwegen

___/3P

Aufgabe 4

Entscheide, ob folgende Aussagen wahr (w) oder falsch (f) sind. Kreuze entsprechend an!

Aussage	w	f
Alle europäischen Länder gehören automatisch der Europäischen Union an.		
Der Euro ist eine europäische Währung.		
Mit dem Euro kann man nicht in allen europäischen Ländern bezahlen.		
Europa ist ein Kontinent. Darüber hinaus gibt es fünf weitere Kontinente.		
Pinguine und Eisbären können sich in der freien Natur jeden Morgen begrüßen.		
Wien ist die Hauptstadt Italiens.		
Die Elbe fließt durch Paris.		
Die Zugspitze ist der höchste Berg in Europa.		
Tokio ist die Hauptstadt Polens.		
Die Europäische Union besteht aus 25 Ländern.		

___/5P

Aufgabe 5

Welches Organ gehört zu welchem Sinn? Trage in die Tabelle ein!

Ohr	Auge	Haut	Zunge	Nase

___ /2P

Aufgabe 6

Schreibe die fünf Sinne des Menschen in die Felder!

___ /2P

Aufgabe 7

Ergänze!

Ein Magnet hat zwei Pole, einen _____ und einen
 _____. Der _____ des Magneten
 zeigt zum _____ der Erde,
 der _____ des Magneten zum
 _____ der Erde.

___ /3P

Aufgabe 8










Kreuze in der Tabelle an, welche Pflanzen zu den Frühblühern zählen.

	Märzenbecher		Rosen
	Dahlien		Narzisse
	Krokus		Forsythie
	Schneeglöckchen		Goldstern
	Hyazinthe		Primel

___ /5P

Aufgabe 9

Schreibe die Bedeutung des jeweiligen Verkehrszeichens in die Tabelle!

Aufgabe 10

Fragen zum Thema „Vulkane“

a. Wie nennt man Vulkane, die Wasserfontänen in die Luft schleudern?

b. Wie nennt man eine riesige Welle, die bei der Explosion eines Kraters oder durch ein Erdbeben erzeugt werden kann?

c. Warum können Vulkane nicht gelöscht werden?

d. Können sich Vulkane neu bilden?

e. Wie nennt man die Öffnung eines Vulkans am Vulkankegel?

f. Wie heißen neben dem Vulkankegel die beiden übrigen Teile eines Vulkans?

g. In welchem Vulkanteil sammeln sich Gas und Gesteinsschmelze aus dem oberen Erdmantel?

h. Wenn Magma an die Erdoberfläche tritt, wird es _____ genannt.

i. Das austretende Magma ist _____ (fest, flüssig, gasförmig)

j. Warum bezeichnet man ausgetretenes Magma (wenn es z.B. den Berg hinab fließt) als Lavastrom?

___/10P

Lösung Klassenarbeit - Abschlussarbeit Sachkunde 4. Klasse

Deutschland; Europa; Menschlicher Körper; Magnetfeld der Erde; Frühblüher;
Verkehrszeichen; Vulkane

Aufgabe 1

**Du hast zu jeder Deutschland-Frage drei Antwortmöglichkeiten.
Kreuze jeweils die richtige Antwort an!
(Es können auch mehrere Möglichkeiten richtig sein!!)**

a. Die Hauptstadt Deutschlands heißt ...

<input type="checkbox"/>	Bonn	<input checked="" type="checkbox"/>	Berlin	<input type="checkbox"/>	Frankfurt
--------------------------	------	-------------------------------------	--------	--------------------------	-----------

b. In Deutschland gibt es seit 1990 Bundesländer

<input type="checkbox"/>	11	<input type="checkbox"/>	6	<input checked="" type="checkbox"/>	16
--------------------------	----	--------------------------	---	-------------------------------------	----

c. Folgende Flüsse fließen durch Deutschland.....

<input checked="" type="checkbox"/>	Rhein	<input checked="" type="checkbox"/>	Elbe	<input checked="" type="checkbox"/>	Weser
-------------------------------------	-------	-------------------------------------	------	-------------------------------------	-------

d. Die Hauptstadt des Bundeslandes Niedersachsen heißt ...

<input type="checkbox"/>	Hamburg	<input type="checkbox"/>	Stuttgart	<input checked="" type="checkbox"/>	Hannover
--------------------------	---------	--------------------------	-----------	-------------------------------------	----------

e. Die Hauptstadt des Bundeslandes Baden-Württemberg heißt ...

<input type="checkbox"/>	Frankfurt	<input checked="" type="checkbox"/>	Stuttgart	<input type="checkbox"/>	Dresden
--------------------------	-----------	-------------------------------------	-----------	--------------------------	---------

f. Die Hauptstadt des Bundeslandes Thüringen heißt ...

<input checked="" type="checkbox"/>	Erfurt	<input type="checkbox"/>	Magdeburg	<input type="checkbox"/>	Schwerin
-------------------------------------	--------	--------------------------	-----------	--------------------------	----------

g. Die Hauptstadt des Bundeslandes Rheinland-Pfalz heißt ...

	Wiesbaden	X	Mainz		Saarbrücken
--	-----------	---	-------	--	-------------

___/6P

Aufgabe 2

Du hast zu jeder Europa-Frage drei Antwortmöglichkeiten.

Kreuze jeweils die richtige Antwort an!

(Es können auch mehrere Möglichkeiten richtig sein!!)

a. Zu den direkten europäischen Nachbarn Deutschlands zählt ...

	Italien	X	Österreich	X	Niederlande
--	---------	---	------------	---	-------------

b. Zu den direkten europäischen Nachbarn Deutschlands zählt ...

X	Schweiz	X	Frankreich	X	Polen
---	---------	---	------------	---	-------

c. Paris ist die Hauptstadt ...

	der Slowakei	X	Frankreichs		der Schweiz
--	--------------	---	-------------	--	-------------

d. Zu Polen gehört ...

	Moskau		Prag	X	Warschau
--	--------	--	------	---	----------

e. Zur Europäischen Union zählen ...

	6 Länder		12 Länder	X	27 Länder
--	----------	--	-----------	---	-----------

f. Folgende Flüsse fließen durch bzw. in Europa ...

	der Nil		der Amazonas	X	die Donau
--	---------	--	--------------	---	-----------

g. Folgende Länder liegen westlich von Deutschland ...

	Polen	X	Niederlande	X	Frankreich
--	-------	---	-------------	---	------------

h. Folgende Länder liegen südlich von Deutschland ...

X	Italien	X	Österreich		Dänemark
---	---------	---	------------	--	----------

i. Folgende Länder liegen östlich von Deutschland ...

	Belgien	X	Litauen	X	Estland
--	---------	---	---------	---	---------

j. Folgende europäische Länder grenzen nicht an Deutschland ...

	Dänemark	X	Lettland	X	Italien
--	----------	---	----------	---	---------

___/8P

Aufgabe 3

Kreuze in der folgenden Liste die Länder an, die nicht zu Europa gehören!

	Polen		Luxemburg
X	China	X	Kanada
	Deutschland		Schweiz
	Italien		Slowakei
X	Ägypten		Polen
X	Kanada	X	Japan
	Niederlande		Lettland
	Belgien		Litauen
X	Mexiko		Estland
	Frankreich		Norwegen

___/3P

Aufgabe 4

**Entscheide, ob folgende Aussagen wahr (w) oder falsch (f) sind.
Kreuze entsprechend an!**

Aussage	w	f
Alle europäischen Länder gehören automatisch der Europäischen Union an.		X
Der Euro ist eine europäische Währung.	X	
Mit dem Euro kann man nicht in allen europäischen Ländern bezahlen.	X	
Europa ist ein Kontinent. Darüber hinaus gibt es fünf weitere Kontinente.		X
Pinguine und Eisbären können sich in der freien Natur jeden Morgen begrüßen.		X
Wien ist die Hauptstadt Italiens.		X
Die Elbe fließt durch Paris.		X
Die Zugspitze ist der höchste Berg in Europa.		X
Tokio ist die Hauptstadt Polens.		X
Die Europäische Union besteht aus 25 Ländern.	X	

___/5P

Aufgabe 5

Welches Organ gehört zu welchem Sinn? Trage in die Tabelle ein!

Ohr	Auge	Haut	Zunge	Nase
hören	sehen	fühlen	schmecken	riechen

___/2P

Aufgabe 6

Schreibe die fünf Sinne des Menschen in die Felder!

Fühlen	Sehen	Hören
Riechen	Schmecken	

___/2P

Aufgabe 7

Ergänze!

Ein Magnet hat zwei Pole, einen **Nordpol** und einen

Südpol. Der **Nordpol** des Magneten

zeigt zum **Südpol** der Erde,

der **Südpol** des Magneten zum

Nordpol der Erde.

___ /3P

Aufgabe 8




Kreuze in der Tabelle an, welche Pflanzen zu den Frühblühern zählen.

X	Märzenbecher		Rosen
	Dahlien	X	Narzisse
X	Krokus	X	Forsythie
X	Schneeglöckchen	X	Goldstern
X	Hyazinthe	X	Primel

___ /5P

Aufgabe 9

Schreibe die Bedeutung des jeweiligen Verkehrszeichens in die Tabelle!

	Fußgängerüberweg Fahrzeuge müssen warten, um Fußgänger überqueren zu lassen
	Fußgängerweg Radfahrerweg Hier dürfen Fahrräder und Fußgänger gehen / fahren
	Verbot der Einfahrt Hier darf kein Fahrzeug weiterfahren

	Fußgängerweg Keine Autos / Fahrräder
	Spielstraße Hier müssen Autofahrer / Fahrradfahrer langsam fahren
	KEIN Fahrradweg Hier dürfen keine Fahrradfahrer fahren!
	KEIN Fußgängerweg Hier dürfen keine Fußgänger gehen!
	Stoppschild HALT! Vorfahrt gewähren!
	Vorfahrtschild Vorfahrt gewähren
	Fußgängerzone KEINE Fahrzeuge zugelassen
	Rechter Pfeil Hier darf nur nach rechts gefahren werden.
	Kreuzung oder Einmündung mit gleichberechtigten Straßen d.h. Vorfahrt hat der von rechts kommende
	Verengte Fahrbahn Fahrbahn wurde verengt

	Lichtanlage Gleich kommt eine Ampel. Langsam fahren.
	Sonderweg für Radfahrer KEINE Fußgänger zugelassen, KEINE Autofahrer zugelassen
	Baustelle Hier ist eine Baustelle. Langsam fahren
	Fußgänger / Radfahrer Rechts Fußgängerweg / Links Radfahrer

___/17P

Aufgabe 10

Fragen zum Thema „Vulkane“

a. Wie nennt man Vulkane, die Wasserfontänen in die Luft schleudern?

Geysir

b. Wie nennt man eine riesige Welle, die bei der Explosion eines Kraters oder durch ein Erdbeben erzeugt werden kann?

Tsunami

c. Warum können Vulkane nicht gelöscht werden?

Vulkane reichen ins Erdinnere und somit ist immer Lava vorhanden.

d. Können sich Vulkane neu bilden?

Ja, wenn sich Erdplatten neu verschieben und weitere Krater sich bilden.

e. Wie nennt man die Öffnung eines Vulkans am Vulkankegel?

Krater

f. Wie heißen neben dem Vulkankegel die beiden übrigen Teile eines Vulkans?

Schlot, Krater

g. In welchem Vulkanteil sammeln sich Gas und Gesteinsschmelze aus dem oberen Erdmantel?

Magmakammer / Kegel

h. Wenn Magma an die Erdoberfläche tritt, wird es **Lava** genannt.

i. Das austretende Magma ist **flüssig** (fest, flüssig, gasförmig)

j. Warum bezeichnet man ausgetretenes Magma (wenn es z.B. den Berg hinab fließt) als Lavastrom?

Weil es einem Fluss aus Wasser ähnelt, aber statt Wasser Lava vorhanden ist.

___/10P

Viel Erfolg!!

Gesamt: ___/61P

Note	1	1-	1-2	2+	2	2-	2-3	3+	3	3-	3-4	4+	4	4-	4-5	5+	5	5-	5-6	6+
Punkte	54	52	50	48	45	43	41	38	36	33	30	27	24	22	19	17	15	12	10	8