

2. Schuljahr (Rechnen mit Geld) (1)

1.

Rudi hat 34 Euro gespart. Mama schenkt ihm 7 Euro.



Frage: Wie viele Euro hat Rudi gespart?

Rechnung: _____

Antwort: _____

2.

Susi hatte 31 Kuscheltiere. 5 Tiere hat sie am Flohmarkt verkauft.



Frage: Wie viele Kuscheltiere hat sie noch?

Rechnung: _____

Antwort: _____

3.

Opa kauft Lisa eine Hose für 37 Euro und eine Bluse für 9 Euro.

Frage: Wie viel Geld bekommt er zurück, wenn er mit einem 50€-Schein bezahlt?

Rechnung: _____

Antwort: _____

4.

Heini möchte sich ein Spiel für 52 € kaufen. Er selbst hat 29 € gespart. Mama gibt ihm noch 6 €, Papa 9 €. Den Rest bekommt er von Tante Klara.

Frage: Wie viel bekommt er von Tante Klara?

Rechnung: _____

Antwort: _____

5.

Ich habe vier Münzen in der Hand. Zusammen sind es 3 EURO. Was für Münzen habe ich in der Hand?



Bild:

Antwort: _____

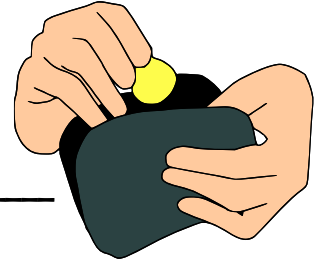
2. Schuljahr (Rechnen mit Geld) (2)

1.

Elli hat 25 EURO im Portemonnaie. Sie soll 2 Salatgurken (1 kostet 1 EURO), 1 Pfund Tomaten (2 EURO), eine Kiste Sprudel (6 EURO), 8 Brötchen (4 EURO), 3 Hörnchen (1 kostet 1 EURO) kaufen und das bestellte Buch aus der Buchhandlung abholen. Das Buch kostet 7 EURO. Reicht ihr das Geld?

Rechnung: _____

Antwort: _____



2.

Tim geht einkaufen und bekommt von seiner Mutter 20 €. Er soll 5 Äpfel kaufen für je 1 € und 3 Melonen zu je 2 €.


Frage: _____

Rechnung: _____

Antwort: _____

3.

Peter und Maria haben zusammen 20 Euro. Maria hat 4 Euro mehr als Peter.



Frage: _____

Rechnung: _____

Peter hat Euro. Maria hat Euro.

4.

Sabine und Tom haben zusammen 24 Euro. Tom hat 4 Euro weniger als Sabine.

Frage: _____

Rechnung: _____

Sabine hat Euro. Tom hat Euro.

5.

Zu meinem gesparten Geld habe ich 8 Euro dazu bekommen. Jetzt habe ich 36 Euro. Wie viel Geld war es vorher?

Rechnung: _____

Antwort: _____



2. Schuljahr (Rechnen mit Geld) (3)

1. Zähle das Geld:

_____ Ct	_____ €
_____ €	_____ €

2. Ordne die Geldbeträge von Aufgabe 1 der Größe nach (von wenig nach viel):

3. Wechsel 10 € wie im Text angeben:

2 Scheine		6 Münzen	
1 Schein		1 Schein	
3 Münzen		6 Münzen	


4. Wie viel Geld (Scheine oder Münzen) fehlt? Zeichne und schreibe die Rechnung (unten) auf.

10 €	1 €	100 €
		<div style="border: 1px solid black; padding: 5px; margin-bottom: 5px; width: 60px; margin-left: auto; margin-right: auto;">10 €</div> <div style="border: 1px solid black; padding: 5px; margin-bottom: 5px; width: 60px; margin-left: auto; margin-right: auto;">20 €</div> <div style="border: 1px solid black; padding: 5px; width: 60px; margin-left: auto; margin-right: auto;">50 €</div>

5 € + = 10 €

57 ct + =€

..... + = €



2. Schuljahr (Rechnen mit Geld) (4)

1.

Von meinem Geld habe ich 6 Euro ausgegeben.
Jetzt habe ich nur noch 28 Euro. Wie viel Geld war es vorher?



Rechnung: _____

Antwort: _____

2.

Max geht einkaufen. Seine Mutter gibt ihm 20 Euro mit.
Er kauft eine Zeitung für 2 Euro und ein Brot für 3 Euro.

Frage: _____

Rechnung: _____

Antwort: _____

3.

Lisa und Tina gehen in den Zoo. Sie haben 30 Euro dabei.
Der Eintritt für Kinder kostet 4 Euro. Tina kauft noch Tierfutter für 3 Euro.

Frage: _____

Rechnung: _____

Antwort: _____



4.

Frau Hildebrandt kauft Katzenfutter. Sie hat 25 € dabei. Eine Dose Futter kostet 4 €. Sie möchte 6 Dosen kaufen. Wie viel Geld bleibt übrig?

Rechnung: _____

Antwort: _____

5.

Ulla sagt: "Mein Vater arbeitet 40 Stunden in einer Woche. Am Wochenende hat er frei." Wie viele Stunden arbeitet Ullas Vater an einem Arbeitstag?

Rechnung: _____

Antwort: _____

6.

Lisa hat 50 Euro gespart. Sie kauft ein Spiel für 19 Euro.

Rechnung: _____

Antwort: _____



2. Schuljahr (Rechnen mit Geld) (5)



1.

Berechne die fehlenden Beträge:

Preis	Gegeben	zurück
8,50 €	10 €	
12,50 €	20 €	
27 €	50 €	
12 €	100 €	

Preis	Gegeben	zurück
	10 €	2 €
	50 €	15 €
25 €		25 €
	20 €	12 €

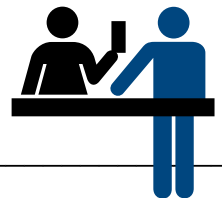


2.

a) Wie viel Geld bekommt ein Kunde zurück?
Fülle die Tabelle aus.

	Hose	Spiel	Buch	Pulli	Schuhe
Preis	22 €	35 €	18 €	37 €	65 €
gegeben	30 €	50 €	50 €	100 €	100 €
zurück					

b) Bei der Hose gibt die Kassiererin 6 Münzen zurück.
Welche Münzen könnten es sein?



c) Bei den Schuhen gibt die Kassiererin 7 Scheine zurück.
Welche sind es?

3.

Schreibe die Geldbeträge immer in der anderen Schreibweise!

0,76 € = _____

4 € 7 Ct = _____

32 € 23 Ct = _____

0 € 32 Ct = _____

61,03 € = _____

12,48 € = _____

4.

Rechne aus!

71 € - 62 € = _____

73 Ct - 36 Ct = _____

32 Ct + 49 Ct = _____

57 € + 18 € = _____

0,03 € + 79 Ct = _____

26 Ct + 0,27 € = _____

2. Schuljahr (Rechnen mit Geld) (6)


1.

Horst kauft sich Bonbons für 54 Cent. Er bezahlt mit einer 1 Euro Münze.

Frage: _____

Rechnung: _____

Antwort: _____



2.

Lena, Susi und Eva legen ihr Geld für die Ferien zusammen. Lena hat 32 Euro und damit 9 Euro mehr als Susi. Susi hat 6 Euro weniger als Eva.

Frage: _____

Rechnung: _____

Antwort: _____

3.

Kim kauft sich ein neues Buch. Sie bezahlt mit einem 20-Euro-Schein. Wie viel Geld bekommt sie zurück?



Rechnung: _____

Antwort: _____

4.

Peter hat 10 Euro gespart. Sein Opa schenkt ihm zum Geburtstag 6 Euro.
Frage: Wie viel Geld hat er jetzt?

Rechnung: _____

Antwort: _____



5.

Karin hat 45 € gespart. Sie kauft ein Buch für 8 €.

Frage: _____

Rechnung: _____

Antwort: _____

2. Schuljahr (Rechnen mit Geld) Lösung (1)

1. Rudi hat 34 Euro gespart. Mama schenkt ihm 7 Euro.

Frage: Wie viele Euro hat Rudi gespart?

Rechnung: $34 + 7 = 41$

Antwort: Rudi hat jetzt 41 €.

2. Susi hatte 31 Kuscheltiere. 5 Tiere hat sie am Flohmarkt verkauft.

Frage: Wie viele Kuscheltiere hat sie noch?

Rechnung: $31 - 5 = 26$

Antwort: Susi hat noch 26 Kuscheltiere.

3. Opa kauft Lisa eine Hose für 37 Euro und eine Bluse für 9 Euro.

Frage: Wie viel Geld bekommt er zurück, wenn er mit einem 50€-Schein bezahlt?

Rechnung: $37 + 9 = 46$ $50 - 46 = 4$

Antwort: Er bekommt noch 4 € zurück.

4. Heini möchte sich ein Spiel für 52 € kaufen. Er selbst hat 29 € gespart. Mama gibt ihm noch 6 €, Papa 9 €. Den Rest bekommt er von Tante Klara.

Frage: Wie viel bekommt er von Tante Klara?

Rechnung: $29 + 6 + 9 = 44$ $52 - 44 = 8$

Antwort: Er bekommt noch 8 € von Tante Klara.

5. Ich habe vier Münzen in der Hand. Zusammen sind es 3 EURO. Was für Münzen habe ich in der Hand?

R: $50 \text{ ct} + 50 \text{ ct} + 1 \text{ EURO} + 1 \text{ EURO} = 3 \text{ EURO}$

A: Ich habe zwei 50ct-Münzen und zwei 1-EURO-Münzen in der Hand.

2. Schuljahr (Rechnen mit Geld) Lösung (2)

1. Elli hat 25 EURO im Portemonnaie.

R: $2 + 2 + 6 + 4 + 3 + 7 = 24$ R: $25 - 24 = 1$

A: Elli hat noch 1 EURO übrig.

2. Tim geht einkaufen und bekommt von seiner Mutter 20 €.

Frage: Wie viel Geld hat Tim übrig?

Rechnung: $1€ + 1€ + 1€ + 1€ + 1€ = 5€$

$2€ + 2€ + 2€ = 6€$

$6€ + 5€ = 11€$

$20€ - 11€ = 9€$

Antwort: Tim hat noch 9 € übrig.

3. Peter und Maria haben zusammen 20 Euro. Maria hat 4 Euro mehr als Peter.

Peter hat 8 Euro. Maria hat 12 Euro.

4. Sabine und Tom haben zusammen 24 Euro. Tom hat 4 Euro weniger als Sabine.

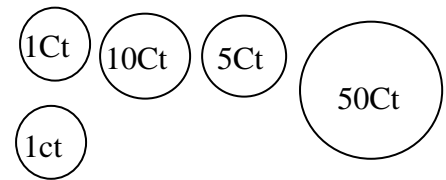
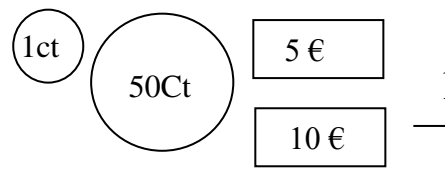
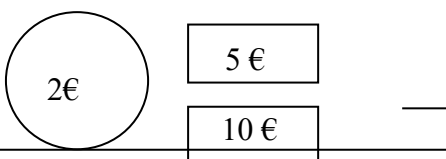
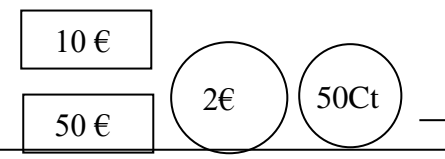
Sabine hat 14 Euro. Tom hat 10 Euro.

5. Zu meinem gesparten Geld habe ich 8 Euro dazu bekommen. Jetzt habe ich 36 Euro. Wie viel Geld war es vorher?

$36 - 8 = 28 \text{ Euro}$

2. Schuljahr (Rechnen mit Geld) Lösung (3)

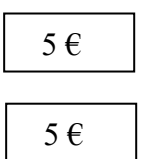
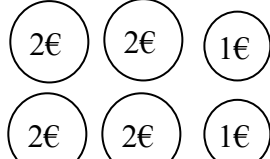
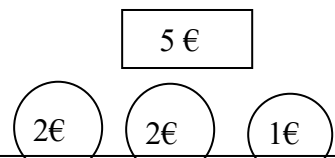
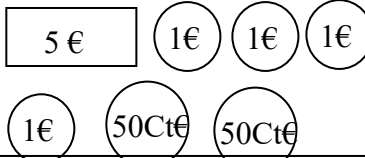
1. Zähle das Geld:

 67 Ct	 $15,51\text{€}$
 17 €	 $62,50 \text{ €}$

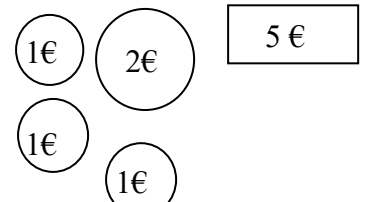
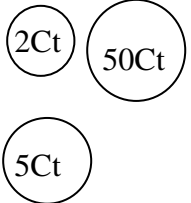
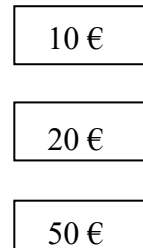
2. Ordne die Geldbeträge von Aufgabe 1 der Größe nach (von wenig nach viel):

67 Ct 15,51€ 17 € 62,50 €

3. Wechsel 10 € wie im Text angeben:

2 Scheine		6 Münzen	
1 Schein 3 Münzen		1 Schein 6 Münzen	

4. Wie viel Geld (Scheine oder Münzen) fehlt? Zeichne und schreibe die Rechnung (unten) auf.

10 €	1 €	100 €
		

$5 \text{ €} + \dots 5 \text{ €} = 10 \text{ €}$
 $57 \text{ Ct} + \dots 43 \text{ Ct} = 1 \text{ €}$
 $1 \text{ €} + \dots 80 \text{ €} = 81 \text{ €}$
 $20 \text{ €} + 80 \text{ €} = 100 \text{ €}$

2. Schuljahr (Rechnen mit Geld) Lösung (4)

1. Von meinem Geld habe ich 6 Euro ausgegeben. Jetzt habe ich nur noch 28 Euro.
Wie viel Geld war es vorher? 34 Euro

2. Max geht einkaufen. Seine Mutter gibt ihm 20 Euro mit. Er kauft eine Zeitung für 2 Euro und ein Brot für 3 Euro.

F: Wie viel Euro bringt Max wieder mit nach Hause?

R: $20 - 2 - 3 = 15$

A: Er bringt 15 Euro wieder mit nach Hause.

3. Lisa und Tina gehen in den Zoo. Sie haben 30 Euro dabei. Der Eintritt für Kinder kostet 4 Euro. Tina kauft noch Tierfutter für 3 Euro.

F: Wie viel Geld bleibt noch übrig?

R: $30 - 8 - 3 = 19$

A: Es bleiben noch 19 Euro übrig.

4. Frau Hildebrandt kauft Katzenfutter. Sie hat 25 € dabei. Eine Dose Futter kostet 4 €. Sie möchte 6 Dosen kaufen. Wie viel Geld bleibt übrig?

Rechnung: $6 \cdot 4 \text{ €} = 24 \text{ €}$ $25 \text{ €} - 24 \text{ €} = 1 \text{ €}$

Antwort: Das Futter kostet 24 € und es bleibt 1 € übrig.

5. Ulla sagt: "Mein Vater arbeitet 40 Stunden in einer Woche. Am Wochenende hat er frei." Wie viele Stunden arbeitet Ullas Vater an einem Arbeitstag?

Rechnung: $40 \text{ Std.} : 5 \text{ Arbeitstage} = 8 \text{ Std. (pro Arbeitstag)}$

Antwort: Ullas Vater arbeitet 8 Stunden an einem Arbeitstag.

6. Lisa hat 50 Euro gespart. Sie kauft ein Spiel für 19 Euro.

Wie viel Euro bleibt übrig ?

Rechnung: $50 - 19 = 31 \text{ Euro}$ Antwort: 31 Euro bleiben übrig.

2. Schuljahr (Rechnen mit Geld) Lösung (5)

1. Berechne die fehlenden Beträge:

Preis	Gegeben	zurück
8,50 €	10€	1.50€
12,50€	20€	7.50€
27€	50€	23€
12€	100€	88€

Preis	Gegeben	zurück
8€	10€	2€
35€	50€	15€
25€	50€	25€
8€	20€	12€

2a) Wie viel Geld bekommt ein Kunde zurück?

Fülle die Tabelle aus.

	Hose	Spiel	Buch	Pulli	Schuhe
Preis	22 €	35 €	18 €	37 €	65 €
gegeben	30 €	50 €	50 €	100 €	100 €
zurück	8 €	14 €	32 €	63 €	35 €

b) Bei der Hose gibt die Kassiererin 6 Münzen zurück.

Welche Münzen könnten es sein?

2 € 2 € 1 € 1 € 1 € 1 € (eine Möglichkeit)

c) Bei den Schuhen gibt die Kassiererin 7 Scheine zurück.

Welche sind es? 5 € 5 € 5 € 5 € 5 € 5 € 5 €

Schreibe die Geldbeträge immer in der anderen Schreibweise!

0,76 € = 0 € 76 Ct

4 € 7 Ct = 4,07 €

32 € 23 Ct = 32,23 €

0 € 32 Ct = 0,32 €

61,03 € = 61 € 3 Ct

12,48 € = 12 € 48 Ct

Rechne aus!

71 € - 62 € = 9 €

73 Ct - 36 Ct = 37 Ct

32 Ct + 49 Ct = 81 Ct

57 € + 18 € = 75 €

0,03 € + 79 Ct = 0,82 €

26 Ct + 0,27 € = 0,53 €

2. Schuljahr (Rechnen mit Geld) Lösung (b)

1. Horst kauft sich Bonbons für 54 Cent. Er bezahlt mit einer 1 Euro Münze.

F: Wie viel Cent bekommt Horst zurück?

R: $100 \text{ Ct} - 54 \text{ Ct} = 46 \text{ Ct}$

A: Horst bekommt 46 Cent zurück.

2. Lena, Susi und Eva legen ihr Geld für die Ferien zusammen. Lena hat 32 Euro und damit 9 Euro mehr als Susi. Susi hat 6 Euro weniger als Eva.

F: Wie viel Geld haben alle zusammen?

R: $32 \text{ €} - 9 \text{ €} = 23 \text{ €}$ (Susi) $23 \text{ €} + 6 \text{ €} = 29 \text{ €}$ (Eva) $32 \text{ €} + 23 \text{ €} + 29 \text{ €} = 84 \text{ €}$

A: Sie haben zusammen 84 Euro.

3. Kim kauft sich ein neues Buch. Sie bezahlt mit einem 20-Euro-Schein. Wie viel Geld bekommt sie zurück?

Rechnung: $20 \text{ €} - 17 \text{ €} = 3 \text{ €}$

Antwort: Kim bekommt 3 Euro zurück.

4. Peter hat 10 Euro gespart. Sein Opa schenkt ihm zum Geburtstag 6 Euro.

Frage: Wie viel Geld hat er jetzt?

Rechnung: $10 \text{ Euro} + 6 \text{ Euro} = 16 \text{ Euro}$ Antwort: Er hat jetzt 16 Euro.

5. Karin hat 45 € gespart. Sie kauft ein Buch für 8 €.

Frage: Wie viele Euro bleiben übrig?

Rechnung: $45 \text{ €} - 8 \text{ €} = 37 \text{ €}$ Antwort: Karin hat nun noch 37 Euro übrig.