

Klassenarbeit - Zahlenraum bis 1000

Nachbarzahlen; Zahlenreihen; Zahlenstrahl; Zahlenrätsel; Addition; Subtraktion; Multiplikation; Division; Sachaufgaben; Zahlen ordnen; Zahlen vergleichen; Tausenderfeld

Aufgabe 1

Lies genau und trage die Zahlen ein.

Nachbareiner < Zahl < Nachbarzehner
 _____ < **601** < _____

Nachbarhunderter < Zahl < Nachfolger
 _____ < **898** < _____

Vorgänger < Zahl < Nachbarhunderter
 799 < _____ < _____

___/3P

Aufgabe 2

Setze die Zahlenfolge fort.

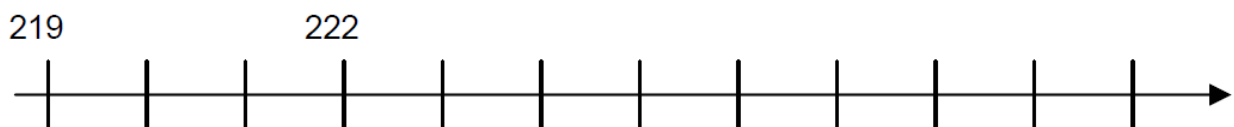
Vorschrift: $\cdot 2 + 2$

Zahlfolge: 2, 4, _____, _____, _____, _____, _____

___/2P

Aufgabe 3

Markiere die Nachbarzehner von 222 auf dem Zahlenstrahl.



___/2P

Aufgabe 4

Kannst du die Zahlenrätsel lösen?

Die kleinste dreistellige Zahl heißt: _____

Die Zahl ist die erste auf dem Hundertfeld, das mit 200 endet: _____

Die Zahl ist um 7 Zehner größer als 300: _____

___/3P

Aufgabe 5

Wie heißt die Vorschrift bei dieser Zahlenfolge?

520, 510, 500, 490, 480, _____, _____, _____, _____

___/3P

Aufgabe 6

Welche Rechenausdrücke passen zusammen? Verbinde sie.

$$2 \cdot 300$$

$$1000 - 300$$

$$800 : 2$$

$$200 + 200$$

$$300 + 400$$

$$900 - 300$$

___/3P

Aufgabe 7

Hier kannst du lesen, wie viel die verschiedenen Möbelstücke bei den Geschäften „Hol ab“ und „Mit und weg“ kosten.

Lies die Sätze unten genau und kreuze an, was stimmt.

Hol ab	
Schreibtisch	289 Euro
Stuhl	91 Euro
Schrank	375 Euro

Mit und weg	
Schrankwand	400 Euro
Stuhl	91 Euro
Schreibtisch	190 Euro

- Bei „Hol ab“ kostet der Schreibtisch fast 300 Euro.
- Der Schrank bei „Hol ab“ ist wesentlich billiger als die Schrankwand bei „Mit und weg“.
- Der Stuhl kostet rund 50 Euro.
- Bei „Mit und weg“ würde alles zusammen rund 1000 Euro kosten.
- Für Stuhl und Schrank reichen 500 Euro.

___/3P

Aufgabe 8

Ordne die Zahlen nach der Größe. Beginne mit der kleinsten Zahl.

131 829 113 264 289 892

___/2P

Aufgabe 9

Vergleiche die Zahlen. (>,<,&=)

254 _____ 245

542 _____ 452

289 _____ 289 - 100

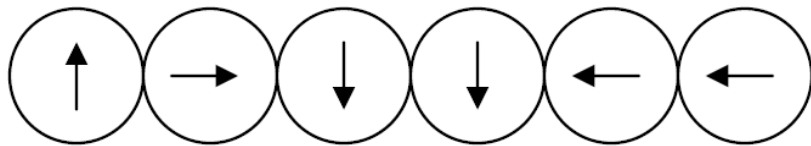
_____/3P

Aufgabe 10

**Verfolge mit Hilfe der Pfeile den Weg durch das Zahlenfeld.
Schreibe auf, bei welcher Zahl das Ziel liegt.**

	START 339	

Hannes geht diesen Weg:



Das Ziel liegt bei: _____

_____/2P

Aufgabe 4

Kannst du die Zahlenrätsel lösen?

Die kleinste dreistellige Zahl heißt: **100**

Die Zahl ist die erste auf dem Hundertfeld, das mit 200 endet: **101**

Die Zahl ist um 7 Zehner größer als 300: **370**

___/3P

Aufgabe 5

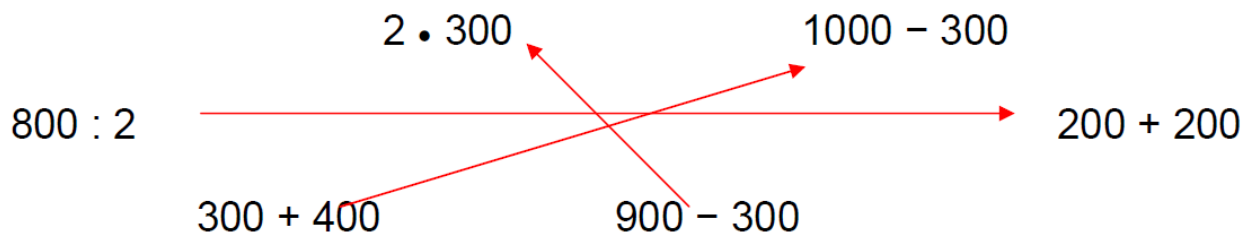
Wie heißt die Vorschrift bei dieser Zahlenfolge?

520, 510, 500, 490, 480, **470, 460, 450, 440 (- 10)**

___/3P

Aufgabe 6

Welche Rechenausdrücke passen zusammen? Verbinde sie.



___/3P

Aufgabe 7

Hier kannst du lesen, wie viel die verschiedenen Möbelstücke bei den Geschäften „Hol ab“ und „Mit und weg“ kosten.

Lies die Sätze unten genau und kreuze an, was stimmt.

Hol ab	
Schreibtisch	289 Euro
Stuhl	91 Euro
Schrank	375 Euro

Mit und weg	
Schrankwand	400 Euro
Stuhl	91 Euro
Schreibtisch	190 Euro

- Bei „Hol ab“ kostet der Schreibtisch fast 300 Euro.
- Der Schrank bei „Hol ab“ ist wesentlich billiger als die Schrankwand bei „Mit und weg“.
- Der Stuhl kostet rund 50 Euro.
- Bei „Mit und weg“ würde alles zusammen rund 1000 Euro kosten.
- Für Stuhl und Schrank reichen 500 Euro.

___/3P

Aufgabe 8

Ordne die Zahlen nach der Größe. Beginne mit der kleinsten Zahl.

113, 131, 264, 289, 829, 892

___/2P

Aufgabe 9

Vergleiche die Zahlen. (>,<,<=)

254 > 245

542 > 452

289 > 289 – 100

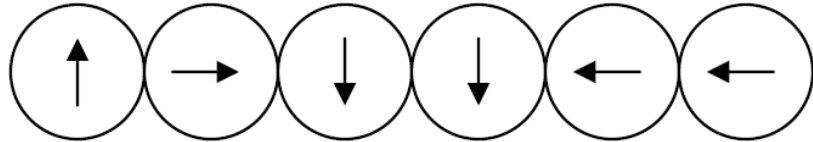
___/3P

Aufgabe 10

Verfolge mit Hilfe der Pfeile den Weg durch das Zahlenfeld. Schreibe auf, bei welcher Zahl das Ziel liegt.

328	329	330
338	START 339	340
348	349	350

Hannes geht diesen Weg:



Das Ziel liegt bei: **348**

___/2P

Viel Glück!!

Gesamt: ___/26P

Note	1	1-	1-2	2+	2	2-	2-3	3+	3	3-	3-4	4+	4	4-	4-5	5+	5	5-	5-6	6+
Punkte	24	23	22	21	20	19	18	17	16	15	14	13	11	10	9	7	6	5	4	3