


# Klassenarbeit - Ägypten

Lage; Pyramiden; Ägypten heute; Nil; Götter; Papierherstellung; Hochkultur; Hieroglyphen

## Aufgabe 1

**Wo liegt Ägypten?**

---




## Aufgabe 2

**Warum bauten die Ägypter diese riesigen Pyramiden?  
Nenne die Gründe!**

---

---

---



\_\_\_/3P

## Aufgabe 3

**Der Assuanstaudamm bringt dem heutigen Ägypten viele Vorteile. Nenne sie!**

---

---

---

\_\_\_/4P

## Aufgabe 4

**Ägypten war und ist ein Geschenk des Nils.  
Der Nil führt zu drei Jahreszeiten, die das Leben der Ägypter prägen.  
Füge die Jahreszeiten in folgende Tabelle ein, wann sie stattfinden ebenso.**

Jahreszeit	Zeitraum

\_\_\_/6P

Aufgabe 5

**Götter wachen über das Leben der Ägypter. Nenne einen!**

---

\_\_\_/2P

Aufgabe 6

**Woraus machen die Ägypter Papier?**

---



\_\_\_/1P

Aufgabe 7

**Ägypten war eine Hochkultur. Nenne die 4 Kennzeichen einer Hochkultur!**

---

---

---

---

\_\_\_/4P

Aufgabe 8

**Wie heißt die ägyptische Schrift?**

---



\_\_\_/1P

Aufgabe 9

**Was konnten die Ägypter in der Zeit des Hochwassers tun?**

---

---

\_\_\_/2P


# Lösung Klassenarbeit - Ägypten

Lage; Pyramiden; Ägypten heute; Nil; Götter; Papierherstellung; Hochkultur; Hieroglyphen

Aufgabe 1

**Wo liegt Ägypten?**


**Im Norden Afrikas**



Aufgabe 2

**Warum bauten die Ägypter diese riesigen Pyramiden?  
Nenne die Gründe!**

- Sie glaubten an ein Leben nach dem Tod
- Reichtum für den Pharao
- Schutz vor Grabräubern



\_\_\_ /3P

Aufgabe 3

**Der Assuanstaudamm bringt dem heutigen Ägypten viele Vorteile. Nenne sie!**

- Mehre Ernten im Jahr möglich
- Geregelte Schifffahrt
- Verhinderung von Austrocknung
- Verhindert Hochwasser
- Stromgewinnung

\_\_\_ /4P

Aufgabe 4

**Ägypten war und ist ein Geschenk des Nils.  
Der Nil führt zu drei Jahreszeiten, die das Leben der Ägypter prägen.  
Füge die Jahreszeiten in folgende Tabelle ein, wann sie stattfinden ebenso.**

Jahreszeit	Zeitraum
<b>Überschwemmung</b>	<b>Juli bis Oktober</b>
<b>Aussaat</b>	<b>November bis Februar</b>
<b>Ernte</b>	<b>März bis Juni</b>

\_\_\_ /6P

Aufgabe 5

**Götter wachen über das Leben der Ägypter. Nenne einen!**


**Ra - der Sonnengott**

\_\_\_ /2P

Aufgabe 6

Woraus machen die Ägypter Papier?

**Papyrus**



\_\_\_/1P

Aufgabe 7

Ägypten war eine Hochkultur. Nenne die 4 Kennzeichen einer Hochkultur!

- Geometrie**
- Bewässerung**
- Kalender**
- Schrift und Papier**

\_\_\_/4P

Aufgabe 8

Wie heißt die ägyptische Schrift?

**Hieroglyphen**



\_\_\_/1P

Aufgabe 9

Was konnten die Ägypter in der Zeit des Hochwassers tun?

- **Arbeiten für den Pharao**
- **Bau von Pyramiden**

\_\_\_/2P

*Viel Erfolg!!*

Gesamt: \_\_\_/25P

Note	1	1-	1-2	2+	2	2-	2-3	3+	3	3-	3-4	4+	4	4-	4-5	5+	5	5-	5-6	6+
Punkte	22	21	20	19	18	17	16	15	15	13	12	11	10	9	8	7	6	5	4	3