

Klassenarbeit - Rechnen bis 100

Addieren und Subtrahieren; Plusaufgaben; links und rechts; oben und unten;
Rechenmauer; Textaufgabe; Uhrzeit

Aufgabe 1

Rechne.

$6 + 6 = \underline{\quad\quad\quad}$

$8 + 8 = \underline{\quad\quad\quad}$

$5 + 5 = \underline{\quad\quad\quad}$

$6 + 5 = \underline{\quad\quad\quad}$

$8 + 7 = \underline{\quad\quad\quad}$

$5 + 4 = \underline{\quad\quad\quad}$

$8 - 4 = \underline{\quad\quad\quad}$

$14 - 7 = \underline{\quad\quad\quad}$

$18 - 9 = \underline{\quad\quad\quad}$

$8 - 3 = \underline{\quad\quad\quad}$

$14 - 6 = \underline{\quad\quad\quad}$

$18 - 8 = \underline{\quad\quad\quad}$

___ /6P

Aufgabe 2

Berechne.

$7 + 6 = \underline{\quad\quad\quad}$

$12 - 5 = \underline{\quad\quad\quad}$

$3 + \underline{\quad\quad\quad} = 9$

$5 + 9 = \underline{\quad\quad\quad}$

$13 - 8 = \underline{\quad\quad\quad}$

$2 + \underline{\quad\quad\quad} = 10$

$4 + 8 = \underline{\quad\quad\quad}$


$11 - 7 = \underline{\quad\quad\quad}$

$3 + \underline{\quad\quad\quad} = 7$

___ /9P

Aufgabe 3

Streiche die falschen Sachen durch.



oben links:



oben rechts:



unten links:



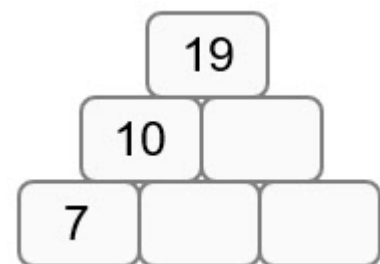
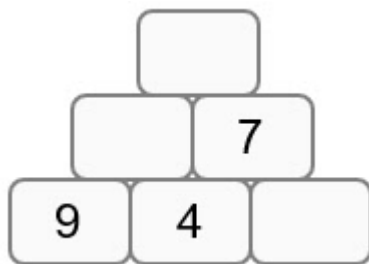
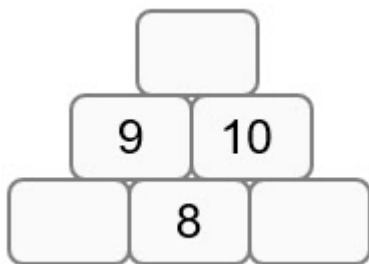
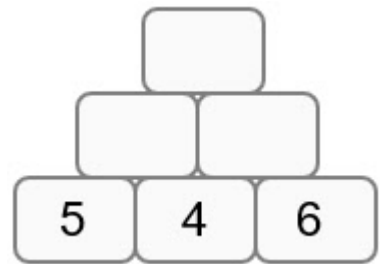
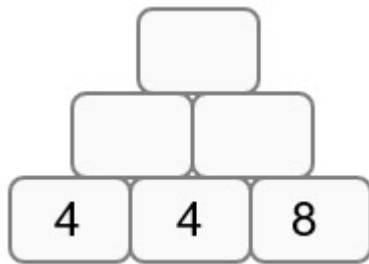
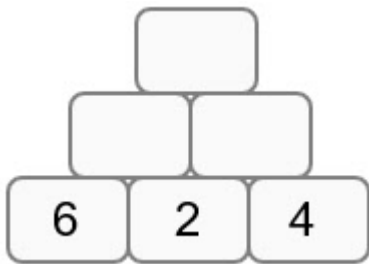
unten rechts:



___/4P

Aufgabe 4

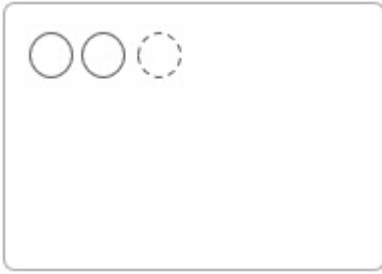
Rechne.



___/9P

Aufgabe 5

Zeichne und rechne!



Lea hat 4 blaue Murmeln und 7 rote Murmeln.

F: Wie viele Murmeln hat Lea?

R: _____

A: Lea hat _____ Murmeln.



Kurt hat 16 blaue Murmeln. Er verschenkt 7 Murmeln.

F: Wie viele Murmeln hat Kurt noch?


R: _____

A: Kurt hat noch _____ Murmeln.

___/8P

Aufgabe 6

Lies und rechne.



Leo hat _____ Euro. Er zahlt _____ Euro.

F: Wie viel Euro hat Leo dann noch?

R: _____

A: Leo hat noch _____ Euro.

___/6P

Aufgabe 7

Wie viel Uhr ist es? Schreibe beide Uhrzeiten auf.

_____ Uhr



_____ Uhr

_____ Uhr



_____ Uhr

_____ Uhr



_____ Uhr

_____/6P

Lösung Klassenarbeit - Rechnen bis 100

Addieren und Subtrahieren; Plusaufgaben; links und rechts; oben und unten; Rechenmauer; Textaufgabe; Uhrzeit

Aufgabe 1

Rechne.

$6 + 6 = 12$

$8 + 8 = 16$

$5 + 5 = 10$

$6 + 5 = 11$

$8 + 7 = 15$

$5 + 4 = 9$

$8 - 4 = 4$

$14 - 7 = 7$

$18 - 9 = 9$

$8 - 3 = 5$

$14 - 6 = 8$

$18 - 8 = 10$

___ /6P

Aufgabe 2

Berechne.

$7 + 6 = 13$

$12 - 5 = 7$

$3 + 6 = 9$

$5 + 9 = 14$

$13 - 8 = 5$

$2 + 8 = 10$

$4 + 8 = 12$


$11 - 7 = 4$

$3 + 4 = 7$

___ /9P

Aufgabe 3

Streiche die falschen Sachen durch.



oben links:



oben rechts:



unten links:



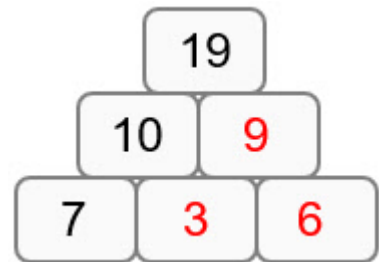
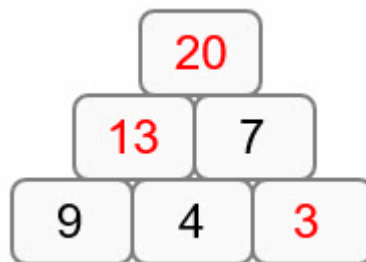
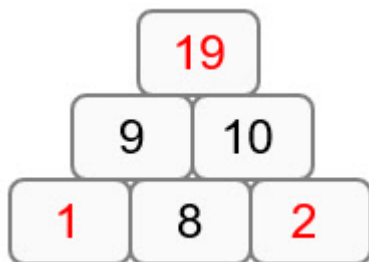
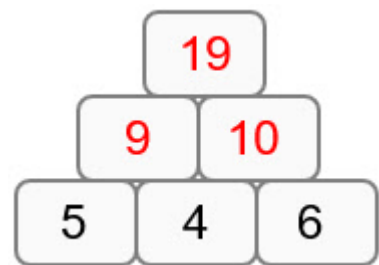
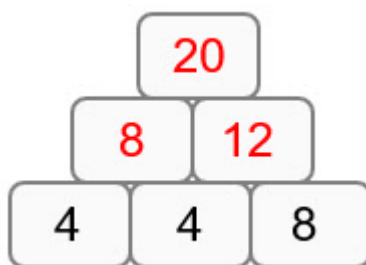
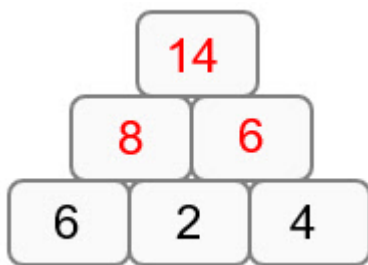
unten rechts:



___/4P

Aufgabe 4

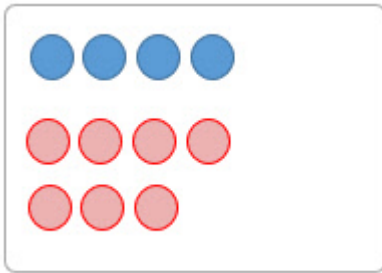
Rechne.



___/9P

Aufgabe 5

Zeichne und rechne!

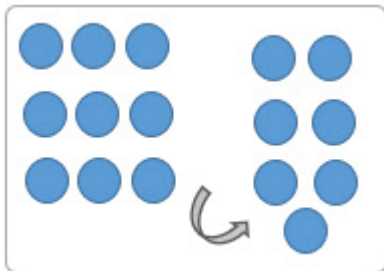


Lea hat 4 blaue Murmeln und 7 rote Murmeln.

F: Wie viele Murmeln hat Lea?

R: $4 + 7 = 11$

A: Lea hat **11** Murmeln.



Kurt hat 16 blaue Murmeln. Er verschenkt 7 Murmeln.

F: Wie viele Murmeln hat Kurt noch?


R: $16 - 7 = 9$

A: Kurt hat noch **9** Murmeln.

___/8P

Aufgabe 6

Lies und rechne.



Leo hat **20** Euro. Er zahlt **10** Euro.

F: Wie viel Euro hat Leo dann noch?

R: $20 - 6 - 4 = 10$


A: Leo hat noch **10** Euro.

___/6P

Aufgabe 7


Wie viel Uhr ist es? Schreibe beide Uhrzeiten auf.

7 Uhr




19 Uhr

11 Uhr



23 Uhr

4 Uhr



16 Uhr

___/6P

Viel Glück!!

Gesamt: ___/48P

Note	1	1-	1-2	2+	2	2-	2-3	3+	3	3-	3-4	4+	4	4-	4-5	5+	5	5-	5-6	6+
Punkte	45	43	42	40	38	36	34	33	31	28	26	24	21	19	16	14	12	10	8	6