

Klassenarbeit - Rechnen bis 100

Addieren und Subtrahieren; Rechenpyramiden; Zehner und Einer; Zeichnen und Rechnen

Aufgabe 1

Berechne.

$4 + 5 = \underline{\quad}$

$9 + 9 = \underline{\quad}$

$11 + 5 + 2 = \underline{\quad}$

$8 + 6 = \underline{\quad}$

$14 - 4 = \underline{\quad}$

$16 - 7 - 7 = \underline{\quad}$

$19 - 7 = \underline{\quad}$

$13 - 6 = \underline{\quad}$

$20 - 10 + 3 = \underline{\quad}$

$14 + \underline{\quad} = 20$

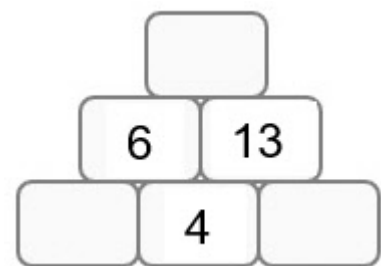
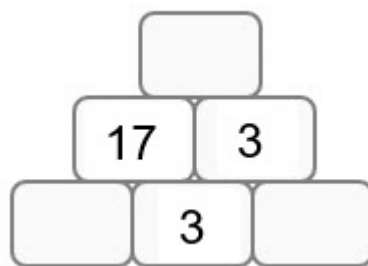
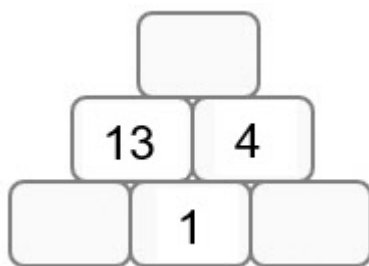
$11 - \underline{\quad} = 6$

$5 + 5 + 10 = \underline{\quad}$

___/6P

Aufgabe 2

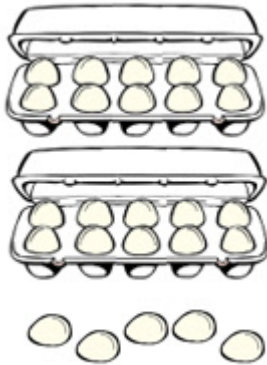
Rechne.



___/9P

Aufgabe 3


Rechnen mit Zehnern und Einern.



Z	E
2	5

2 Z + 5 E = ___


20 + ___ = ___



Z	E

___ Z + ___ E = ___

___ + ___ = ___



Z	E

___ Z + ___ E = ___

___ + ___ = ___

___/7P

Aufgabe 4

Zeichne die Zahlen in Geheimschrift.

Zehner: _____

Einer: •

a) 33



b) 22



c) 60



d) vierundzwanzig



e) dreiundfünfzig



f) dreizehn



___/6P

Aufgabe 5

Zerlege in Zehner und Einer.

$38 = _ \text{ Z} + _ \text{ E}$

$85 = _ \text{ Z} + _ \text{ E}$

$50 = _ \text{ Z} + _ \text{ E}$

$38 = _ + _$

$85 = _ + _$

$50 = _ + _$

___/6P

Aufgabe 6

Zeichne und rechne.



$45 + 30 = _$



$22 + 40 = _$



$54 - 30 = _$



$71 - 40 = _$

___/4P

Aufgabe 7

Berechne.

a) $60 + 20 = \underline{\quad}$

$63 + 20 = \underline{\quad}$

b) $40 + 30 = \underline{\quad}$

$49 + 30 = \underline{\quad}$

c) $20 + 50 = \underline{\quad}$

$27 + 50 = \underline{\quad}$

d) $90 - 40 = \underline{\quad}$

$96 - 40 = \underline{\quad}$

e) $60 - 30 = \underline{\quad}$

$68 - 30 = \underline{\quad}$

f) $70 - 20 = \underline{\quad}$

$73 - 20 = \underline{\quad}$

 /12P

Lösung Klassenarbeit - Rechnen bis 100

Addieren und Subtrahieren; Rechenpyramiden; Zehner und Einer; Zeichnen und Rechnen

Aufgabe 1

Berechne.

$4 + 5 = 9$

$9 + 9 = 18$

$11 + 5 + 2 = 18$

$8 + 6 = 14$

$14 - 4 = 10$

$16 - 7 - 7 = 2$

$19 - 7 = 12$

$13 - 6 = 7$

$20 - 10 + 3 = 13$

$14 + 6 = 20$

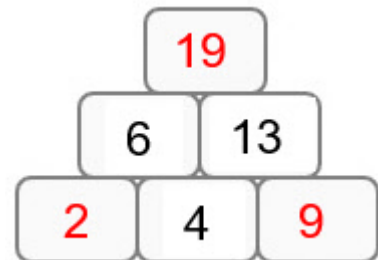
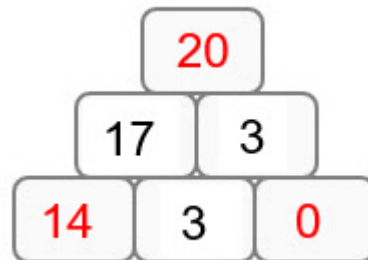
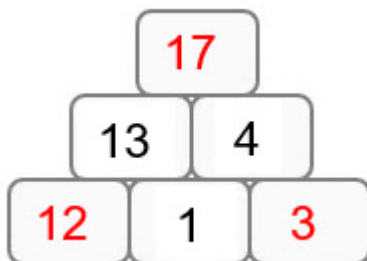
$11 - 5 = 6$

$5 + 5 + 10 = 20$

___/6P

Aufgabe 2

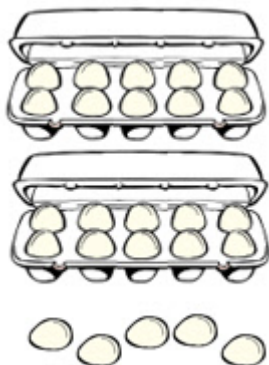
Rechne.



___/9P

Aufgabe 3

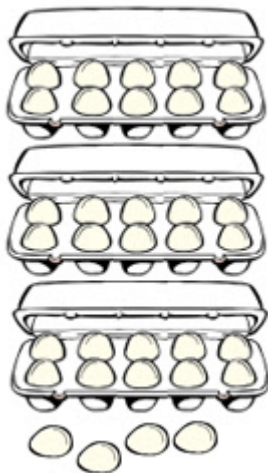
Rechnen mit Zehnern und Einern.



Z	E
2	5

$$2 \text{ Z} + 5 \text{ E} = 25$$


$$20 + 5 = 25$$



Z	E
3	4

$$3 \text{ Z} + 4 \text{ E} = 34$$

$$30 + 4 = 34$$



Z	E
4	7

$$4 \text{ Z} + 7 \text{ E} = 47$$

$$40 + 7 = 47$$

___/7P

Aufgabe 4

Zeichne die Zahlen in Geheimschrift.

Zehner: _____

Einer: •

a) 33



b) 22



c) 60



d) vierundzwanzig



e) dreiundfünfzig



f) fünfzehn



___/6P

Aufgabe 5

Zerlege in Zehner und Einer.

$$38 = 3 \text{ Z} + 8 \text{ E}$$

$$85 = 8 \text{ Z} + 5 \text{ E}$$

$$50 = 5 \text{ Z} + 0 \text{ E}$$

$$38 = 30 + 8$$


$$85 = 80 + 5$$

$$50 = 50 + 0$$

___/6P

Aufgabe 6


Zeichne und rechne.




$$45 + 30 = 75$$



$$22 + 40 = 62$$



$$54 - 30 = 24$$



$$71 - 40 = 31$$

___/4P

Aufgabe 7

Berechne.

a) $60 + 20 = 80$

$63 + 20 = 83$

b) $40 + 30 = 70$

$49 + 30 = 79$

c) $20 + 50 = 70$

$27 + 50 = 77$

d) $90 - 40 = 50$

$96 - 40 = 56$

e) $60 - 30 = 30$

$68 - 30 = 38$

f) $70 - 20 = 50$

$73 - 20 = 53$

____/12P

Viel Glück!!

Gesamt: ____/50P

Note	1	1-	1-2	2+	2	2-	2-3	3+	3	3-	3-4	4+	4	4-	4-5	5+	5	5-	5-6	6+
Punkte	47	45	43	41	40	38	36	34	32	30	27	25	22	20	17	15	12	10	8	6