
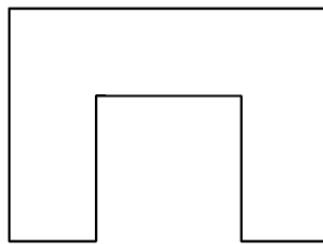
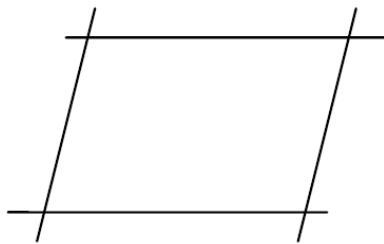


Klassenarbeit - Geometrie

Parallelität; Geometrische Formen; Senkrechte Geraden

Aufgabe 1

Zeichne parallele Strecken mit derselben Farbe nach!



___/3P

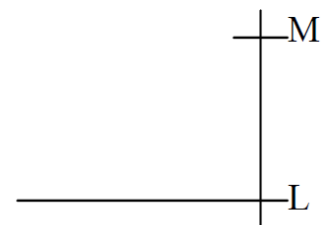
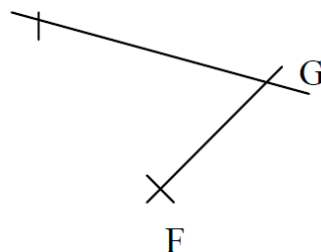
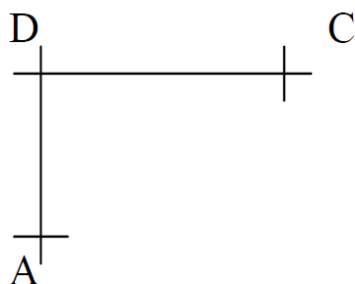
Aufgabe 2

Ergänze zu einem:

Rechteck ABCD

Parallelogramm EFGH

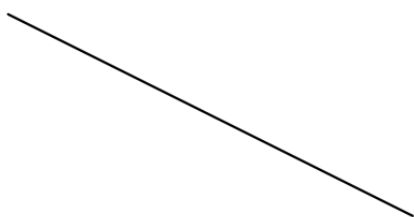
Quadrat KLMN



___/3P

Aufgabe 3

Zeichne Geraden ein, die senkrecht aufeinander stehen!



___/2P

Aufgabe 4

Zeichne Kreise mit

einem Radius von 2 cm	einem Durchmesser von 5 cm
-----------------------	----------------------------

___ /2P

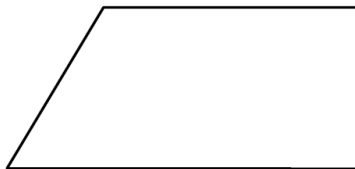
Aufgabe 5

Zerlege mit einer geraden Linie in:

2 Dreiecke



1 Rechteck, 1 Dreieck



1 Dreieck, 1 Parallelogramm



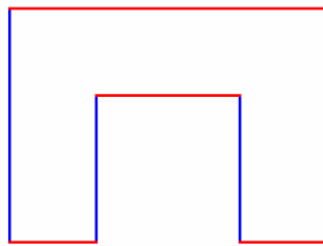
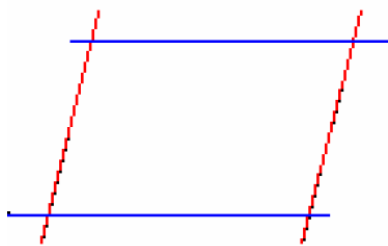
___ /3P

Lösung Klassenarbeit - Geometrie

Parallelität; Geometrische Formen; Senkrechte Geraden

Aufgabe 1

Zeichne parallele Strecken mit derselben Farbe nach!

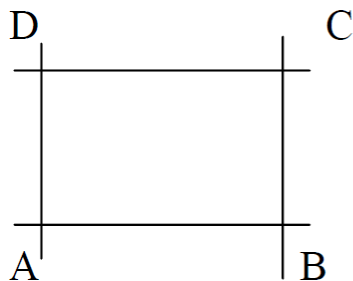


___/3P

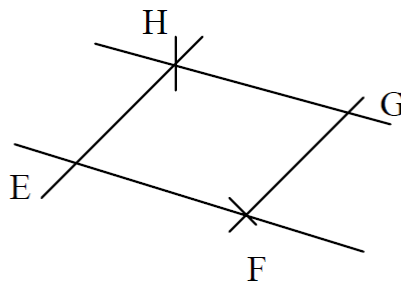
Aufgabe 2

Ergänze zu einem:

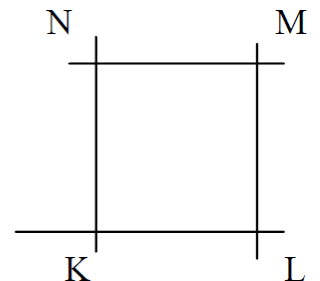
Rechteck ABCD



Parallelogramm EFGH



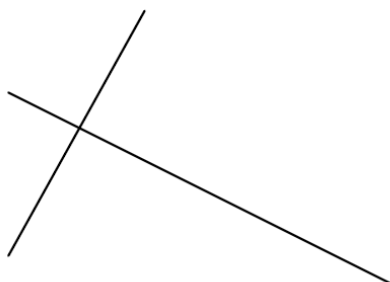
Quadrat KLMN



___/3P

Aufgabe 3

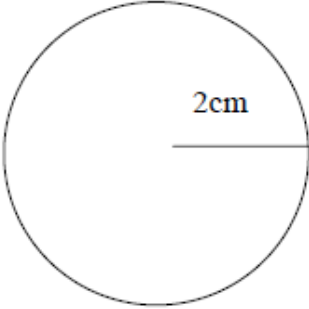
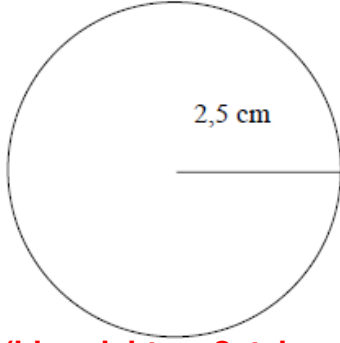
Zeichne Geraden ein, die senkrecht aufeinander stehen!



___/2P

Aufgabe 4

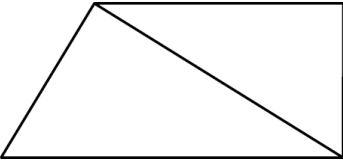


Zeichne Kreise mit

<p>einem Radius von 2 cm</p> <div style="text-align: center;">  </div> <p style="color: red; font-weight: bold;">(hier nicht maßstabsgetreu)</p>	<p>einem Durchmesser von 5 cm</p> <div style="text-align: center;">  </div> <p style="color: red; font-weight: bold;">(hier nicht maßstabsgetreu)</p>
---	---

___/2P

Aufgabe 5

Zerlege mit einer geraden Linie in:

2 Dreiecke	1 Rechteck, 1 Dreieck	1 Dreieck, 1 Parallelogramm
		

___/3P

Viel Glück!!

Gesamt: ___/13P

Note	1	1-	1-2	2+	2	2-	2-3	3+	3	3-	3-4	4+	4	4-	4-5	5+	5	5-	5-6	6+
Punkte	12	11	11	10	10	9	9	8	8	7	7	6	5	5	4	3	3	2	2	1