



1. Schreibe immer die Zahl auf.

 <input style="width: 50px; height: 20px;" type="text"/>	 <input style="width: 50px; height: 20px;" type="text"/>	 <input style="width: 50px; height: 20px;" type="text"/>	 <input style="width: 50px; height: 20px;" type="text"/>
---	---	---	---

2. Schreibe die Zahlen mit Ziffern.

einundzwanzig	dreißig	vierundsiebzig	
elf	fünfunddreißig	vierundvierzig	

3. Ordne die Zahlen.

- a) 71 17 35 53 _____
- b) 19 99 91 89 _____
- c) 25 19 73 68 _____




4. Trage die Nachbarzehner ein.

<input style="width: 50px; height: 40px;" type="text"/>	36	<input style="width: 50px; height: 40px;" type="text"/>	<input style="width: 50px; height: 40px;" type="text"/>	41	<input style="width: 50px; height: 40px;" type="text"/>
<input style="width: 50px; height: 40px;" type="text"/>	74	<input style="width: 50px; height: 40px;" type="text"/>	<input style="width: 50px; height: 40px;" type="text"/>	96	<input style="width: 50px; height: 40px;" type="text"/>

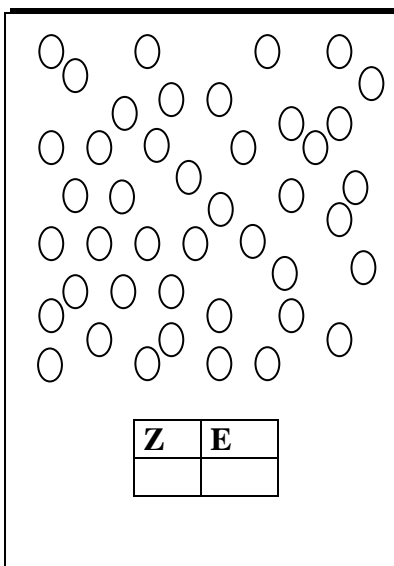
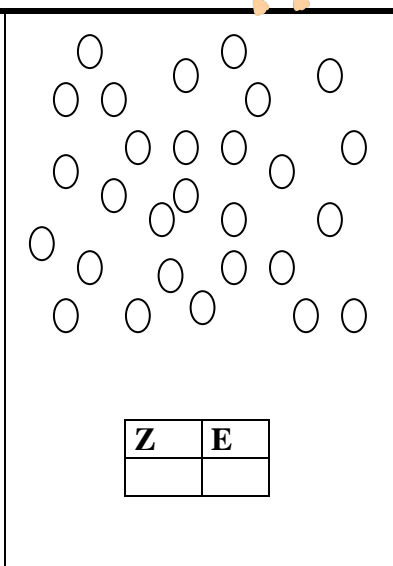
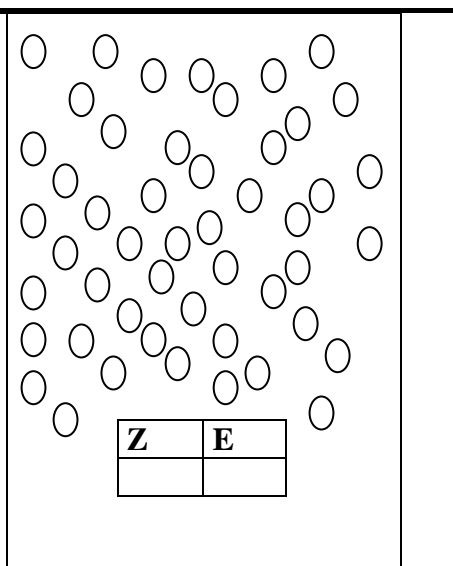
5. Lies und schreib die Zahlen.

dreiundsechzig _____ fünfundvierzig _____

vierunddreißig _____ sechsundfünfzig _____



1. Wie viele ?

 <table border="1" style="margin-left: auto; margin-right: auto;"> <tr> <td style="padding: 2px;">Z</td> <td style="padding: 2px;">E</td> </tr> <tr> <td style="height: 20px;"> </td> <td style="height: 20px;"> </td> </tr> </table>	Z	E			 <table border="1" style="margin-left: auto; margin-right: auto;"> <tr> <td style="padding: 2px;">Z</td> <td style="padding: 2px;">E</td> </tr> <tr> <td style="height: 20px;"> </td> <td style="height: 20px;"> </td> </tr> </table>	Z	E			 <table border="1" style="margin-left: auto; margin-right: auto;"> <tr> <td style="padding: 2px;">Z</td> <td style="padding: 2px;">E</td> </tr> <tr> <td style="height: 20px;"> </td> <td style="height: 20px;"> </td> </tr> </table>	Z	E		
Z	E													
Z	E													
Z	E													

2. Schreibe Zahlen

...
= _____

.....
.....
= _____


.....
= _____

3. Zeichne die Zahlenbilder


23



41



32



57



4. Schreibe Nachbarzahlen

..... , 47 , , 29 , , 40 , , 56 ,
..... , 57 , , 39 , , 70 , , 92 ,
..... , 67 , , 49 , , 90 , , 71 ,



Rennst du dich aus in dem Hunderterfeld?

1.

				X					
							0		
	X				#				
									0
		#					X		
0								#	
			0						
						X			
	#								

1a. Wie heißen die Zahlen auf den Plätzen?

= -----

X = -----

0 = -----

1b. Male folgende Zahlenfelder rot aus:

34, 47, 13, 85

2. Ausschnitte aus dem Hunderterfeld

		80

	17	

	38	

21		



3. Trage die Zahlen in die Stellenwerttabelle ein. Zeichne.


Zehner	Einer	
		...
		..
		.

Zehner	Einer	
2	7	
7	1	
5	6	

4. Ordne die Zahlen:

24, 51, 36, 15, 68, 49 -----, -----, -----, -----, -----, -----

91, 70, 43, 22, 54, 34 -----, -----, -----, -----, -----, -----



1. Zerlege.

Z	E	→	Z	+	E	=	ZE
2	9			+		=	
				+		=	85
	2		7	+		=	
5				+	1	=	

2. Zahlenfolgen

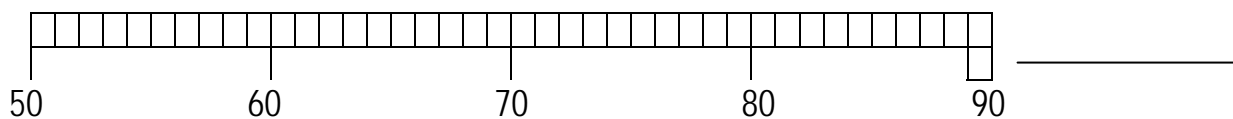
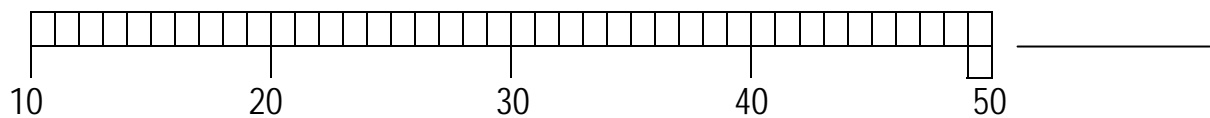
83	,	73	,	63	,		,	
35	,	40	,	45	,		,	
92	,	91	,	90	,		,	



3. Ich denke mir drei Zahlen.

Sie sind kleiner als 71 und größer als 67. -----

4. Wie heißen die Zahlen



5.

70	+	20	=	-----	-----	+	40	=	80
60	+	40	=	-----	-----	-	20	=	70
90	-	60	=	-----	60	-	-----	=	10
80	-	50	=	-----	60	+	5	=	65
50	+	5	=	-----	-----	+	4	=	44
80	+	7	=	-----	-----	-	6	=	70
70	-	8	=	-----	98	-	-----	=	90
30	-	9	=	-----					
80	+	-----	=	100					



1. Vergleiche! Setze das richtige Zeichen!


37 68
 56 54
 46 46
 73 37

2. Ordne ! Beginne mit >

46 29 17 8 65

3. Bestimme Vorgänger und Nachfolger!

74 _____
 _____ 60
 _____ 50



4. Setze das richtige Zeichen ein: < > =

47 |<| 96 - 48 68 |<| 41 + 25

5. Trage die fehlenden Zahlen ein.

1	2	3	4	5	6		8	9	10
	12		14	15		17	18		20
	22			25		27		29	
31		33		35	36			39	40
41	42			45		47			50
		53			56		58		60
61			64			67		69	
	72			75			78		
81			84		86		88		90
	92			95			98		

Name: _____

Hunderterfeld

Trage die Zahlen ein. Färbe die Felder. Du siehst dann zwei Buchstaben.

22, 48, 57, 84, 30, 44, 96, 75, 33, 53, 26
 93, 54, 37, 66, 94, 55, 35, 56, 97, 39, 95

1										
11										
21										
31		✱						✱		
41										
51										
61	✱								✱	
71							✱			
81								✱		
91										✱

Zeichne in diese Felder rote Punkte:

9, 92, 12, 49, 52, 2, 89, 19, 42, 59, 82, 99

Zeichne in diese Felder blaue Punkte:

5, 62, 41, 6, 73, 51, 14, 23, 17, 32, 28

In welchen Feldern ist ein Stern?

* _____


1. Trage die fehlenden Zahlen ein.

a)

		6	
14			
	25		
			37
	45		
		56	
64			
		86	
		96	

b)

		9
27	28	



c)

	66	
75		

d)

36	37		
46			

e)

		67
84		

f)

13			

g)


	56	
	75	

h)

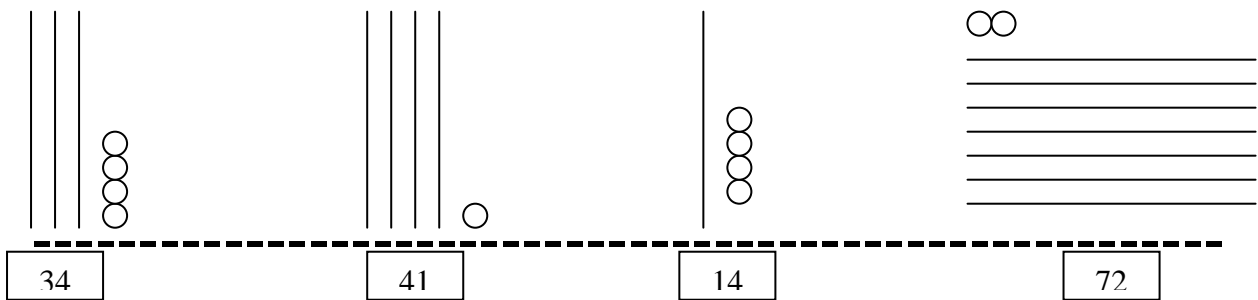
	78		

i)

11			
		25	
			39



1. Schreibe immer die Zahl auf.



2. Schreibe die Zahlen mit Ziffern.

einundzwanzig	21
elf	11

dreiundfünfzig	53
fünfunddreißig	35

vierundsiebzig	74
vierundvierzig	44

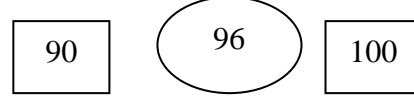
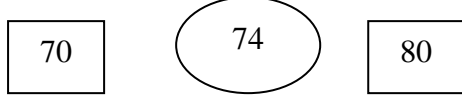
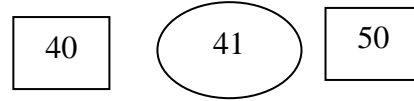
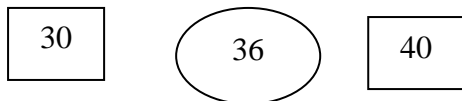
3. Ordne die Zahlen.

a) 71 17 35 53 17 35 53 71

b) 19 99 91 89 19 89 91 99

c) 25 19 73 68 19 25 68 73

4. Trage die Nachbarzehner ein.






10. Lies und schreib die Zahlen.

dreiundsechzig 63
vierunddreißig 34

fünfundvierzig 45
sechsfundfünfzig 56

1. Wie viele ?

 <table border="1" style="margin-left: auto; margin-right: auto;"> <tr> <th>Z</th> <th>E</th> </tr> <tr> <td>4</td> <td>3</td> </tr> </table>	Z	E	4	3	 <table border="1" style="margin-left: auto; margin-right: auto;"> <tr> <th>Z</th> <th>E</th> </tr> <tr> <td>2</td> <td>8</td> </tr> </table>	Z	E	2	8	 <table border="1" style="margin-left: auto; margin-right: auto;"> <tr> <th>Z</th> <th>E</th> </tr> <tr> <td>4</td> <td>9</td> </tr> </table>	Z	E	4	9
Z	E													
4	3													
Z	E													
2	8													
Z	E													
4	9													

2. Schreibe Zahlen

...
...53.....

.....
...38.....

.....
.....64.....
.

3. Zeichne die Zahlenbilder

23

...

41

.

32

..

57

.....

4. Schreibe Nachbarzahlen

46 , 47 , 48	28 , 29 , 30 39 , 40 , 41 55 , 56 , 57
56 , 57 , 58	38 , 39 , 40 69 , 70 , 71 91 , 92 , 93
66 , 67 , 68	48 , 49 , 50 89 , 90 , 91 70 , 71 , 72

1. # 36, 53, 69, 92
 X 15, 32, 58, 87
 0 28, 50, 61, 74

2.

		60	16	17	18
		70		27	
78	79	80		37	

	28		21	22	23
37	38	39	31		33
	48				

3. Trage die Zahlen in die Stellenwerttabelle ein. Zeichne.

Zehner	Einer	
4	4	...
3	2	..
5	1	.

Zehner	Einer	
2	7
7	1	. .
5	6

4. Ordne die Zahlen:

- 24, 51, 36, 15, 68, 49 --15--, -24-, --36--, --49--, --51--, --68--
 91, 70, 43, 22, 54, 34 --22--, --34--, --43--, --54-, --70--, --91—

1. Zerlege.

Z	E	→	Z	+	E	=	ZE
2	9		2	+	9	=	29
8	5		8	+	5	=	85
7	2		7	+	2	=	72
5	1		5	+	1	=	51

2. Zahlenfolgen

83, 73, 63, 53, 43

35, 40, 45, 50, 55

92, 91, 90, 89, 88

3. Ich denke mir drei Zahlen.

Sie sind kleiner als 71 und größer als 67. ---70- --69--- --68---

4.

$$70 + 20 = \text{---}90\text{---}$$

$$60 + 40 = \text{---}100\text{--}$$

$$90 - 60 = \text{---}30\text{---}$$

$$80 - 50 = \text{---}30\text{---}$$

$$50 + 5 = \text{---}55\text{---}$$

$$80 + 7 = \text{---}87\text{---}$$

$$70 - 8 = \text{---}62\text{---}$$

$$30 - 9 = \text{---}21\text{---}$$

$$80 + \text{---}20\text{---} = 100$$

$$\text{---}40\text{---} + 40 = 80$$

$$\text{---}90\text{--} - 20 = 70$$

$$60 - \text{---}50\text{--} = 10$$

$$60 + 5 = 65$$

$$40\text{---} + 4 = 44$$

$$76\text{---} - 6 = 70$$

$$98 - 8\text{---} = 90$$

Die Zahlen bis 100 Station 5 - Lösung

1. Vergleiche! Setze das richtige Zeichen!

$$37 < 68$$

$$56 > 54$$

$$46 = 46$$

$$73 > 37$$

2. Ordne ! Beginne mit >

..65..... ..46..... ..29.....17... ...8....

3. Bestimme Vorgänger und Nachfolger!

74 75 76

59 60 61

48 49 50

4. Setze das richtige Zeichen ein: < > =

$48 < 96 - 48$ $68 > 41 + 25$

5. Trage die fehlenden Zahlen ein.

1	2	3	4	5	6	7	8	9	10
11	12	13	14	15	16	17	18	19	20
21	22	23	24	25	26	27	28	29	30
31	32	33	34	35	36	37	38	39	40
41	42	43	44	45	46	47	48	49	50
51	52	53	54	55	56	57	58	59	60
61	62	63	64	65	66	67	68	69	70
71	72	73	74	75	76	77	78	79	80
81	82	83	84	85	86	87	88	89	90
91	92	93	94	95	96	97	98	99	100

Die Zahlen bis 100 Station 7 - Lösung

1. Trage die fehlenden Zahlen ein.

a)

4	5	6	
14	15	16	17
24	25	26	27
34	35	36	37
44	45	46	47
54	55	56	57
64	65	66	67
74	75	76	
84	85	86	
94	95	96	

b)

		9
17	18	19
27	28	29

c)

	56	57
65	66	67
75	76	77

d)

36	37	38	39
46	47		
56			

e)

		66	67
		75	
84			

f)

13			
23			
33	34	35	36

g)

	55	56	
64	65	66	67
	75	76	

h)

56				60
	67		69	
		78		
	87		89	
96				100

i)

	2	3			7	8	
11			14		16		19
21				25			29
31			34		36		39
	42	43				47	48