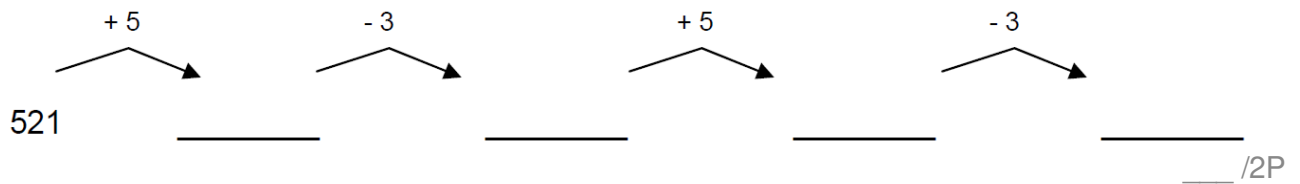


# Klassenarbeit - Zahlenraum bis 1000

Zahlenreihen; Tausenderfeld; Zahlenstrahl

## Aufgabe 1

**Setze die Zahlenfolge fort.**



## Aufgabe 2

**Ergänze das Zahlenfeld. Verfolge dann mit Hilfe der Pfeile den Weg durch das Zahlenfeld. Schreibe auf, bei welcher Zahl das Ziel liegt.**

	329	
338	Start 339	
	349	

↑ nach oben

→ nach rechts

↓ nach unten

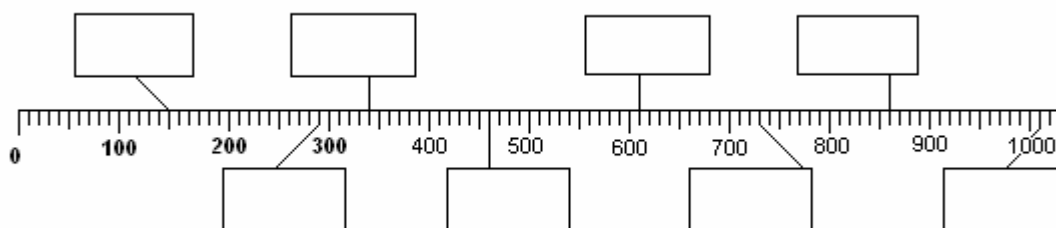
← nach links

ZIEL? \_\_\_\_\_

\_\_\_\_\_/2P

## Aufgabe 3

**Wie heißen die Zahlen? Trage sie ein.**



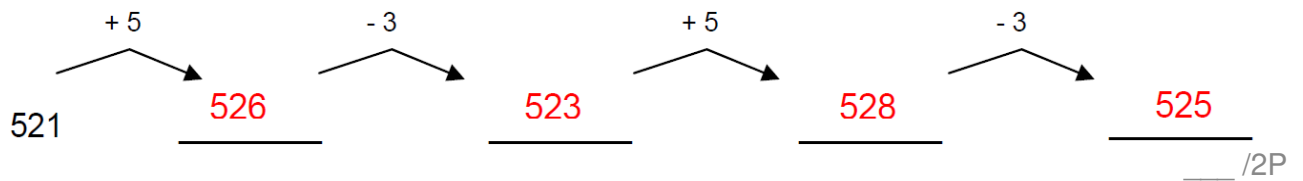
\_\_\_\_\_/4P

# Lösung Klassenarbeit - Zahlenraum bis 1000

Zahlenreihen; Tausenderfeld; Zahlenstrahl

## Aufgabe 1

Setze die Zahlenfolge fort.







## Aufgabe 2

Ergänze das Zahlenfeld. Verfolge dann mit Hilfe der Pfeile den Weg durch das Zahlenfeld.

Schreibe auf, bei welcher Zahl das Ziel liegt.

328	329	330
338	Start 339	340
348	349	350

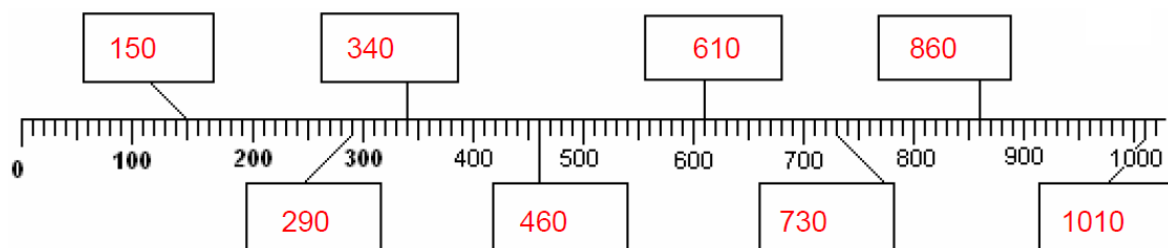
-  nach oben
-  nach rechts
-  nach unten
-  nach links

ZIEL? **339**

\_\_\_/2P

## Aufgabe 3

Wie heißen die Zahlen? Trage sie ein.



\_\_\_/4P

*Viel Erfolg!!*

Gesamt: \_\_\_\_/8P

<b>Note</b>	<b>1</b>	<b>1-</b>	<b>1-2</b>	<b>2+</b>	<b>2</b>	<b>2-</b>	<b>2-3</b>	<b>3+</b>	<b>3</b>	<b>3-</b>	<b>3-4</b>	<b>4+</b>	<b>4</b>	<b>4-</b>	<b>4-5</b>	<b>5+</b>	<b>5</b>	<b>5-</b>	<b>5-6</b>	<b>6+</b>
<b>Punkte</b>	7	7	7	6	6	6	5	5	5	4	4	4	3	3	2	2	2	1	1	1

klassenarbeiten.de - Klassenarbeit 3341 - Grundschule, 3. Klasse, Mathematik