

1. Wie geht es weiter?

32, 34, 36,
11, 22, 33,
35, 40, 45,
9, 18, 27,

53, 52, 51,
68, 66, 64,
74, 69, 64,
5, 50, 10, 45,

2. Setze die Zahlenreihe fort

a) 2, 9, 16, _____

b) 5, 9, 7, 11, 9, _____



3. Setze die Reihe fort!

47, 51, 55,, 71

4. Setze die Zahlenfolgen fort.

12, 18, 17, 23, _____

63, 53, 55, 45, _____

5. Setze die Reihen fort!

0, 3, 6, 9, 12,

0, 4, 8, , 16, 20, , , 32,

0, 10, 20, , , , 60,



6. Setze die Folgen fort!

7, 18, 29, _____

90, 83, 76, _____

19, 33, 47, _____

5, 20, 35, _____

3, 6, 9, _____, 18, _____, 30

80, 72, _____, 40, _____, 16, _____

1. Trage die fehlenden Zahlen ein.

a

26	27			30				34	
----	----	--	--	----	--	--	--	----	--

b

49				53					58
----	--	--	--	----	--	--	--	--	----

c

51				55					60
----	--	--	--	----	--	--	--	--	----

d

			65						71
--	--	--	----	--	--	--	--	--	----

e

88						94			
----	--	--	--	--	--	----	--	--	--

f

35					40				
----	--	--	--	--	----	--	--	--	--

g

	80						86		
--	----	--	--	--	--	--	----	--	--

h

74							81		
----	--	--	--	--	--	--	----	--	--

2. Setze fort.

8, 10, 12, _____, _____, 4, 6, 8, _____, _____, 12, 14, 16, _____, _____,
 20, 18, 16, _____, _____, 16, 14, 12, _____, _____, 10, 8, 6, _____, _____,
 15, 20, 25, _____, _____, 20, 25, 30, _____, _____, 5, 10, 15, _____, _____,
 50, 45, 40, _____, _____, 35, 30, 25, _____, _____,

3. Setze fort.

1, 11, 21, 31, , , , , ,
 16, 21, 26, 31, , , , , , , ,
 5, 15, 25, 35, , , , , ,

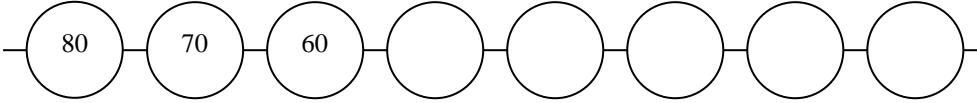
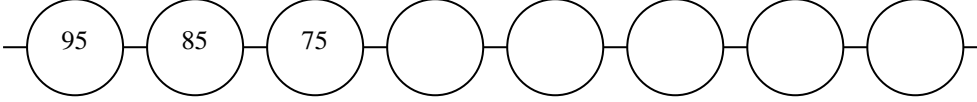
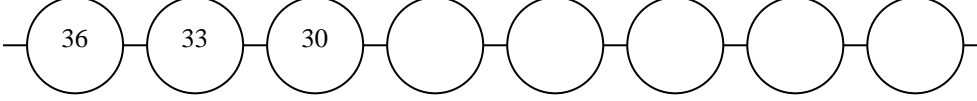
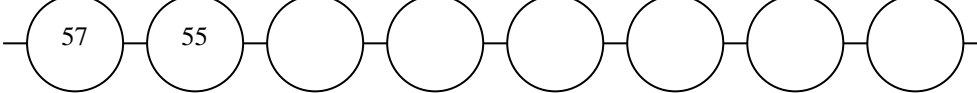


4. Immer der Reihe nach. Ordne die Zahlen. Fangе mit der kleinsten Zahl an.

a) 41, 23, 52, 49, 37, 70, 31, 53, 12, 80

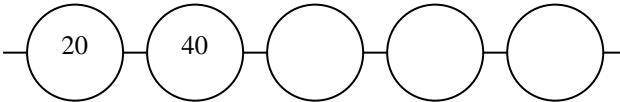
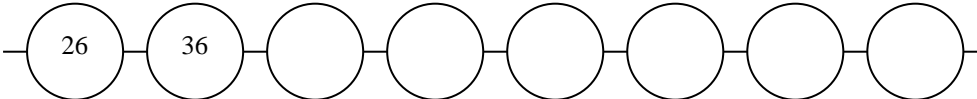
b) 78, 32, 66, 76, 100, 91, 77, 87, 23, 15

1. Wie geht es hier weiter?

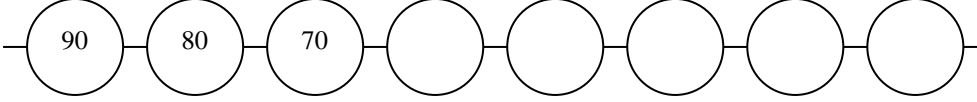
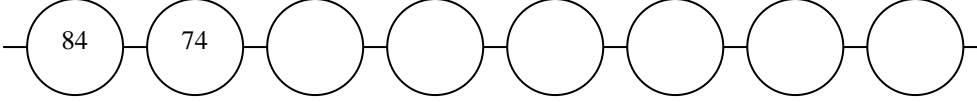
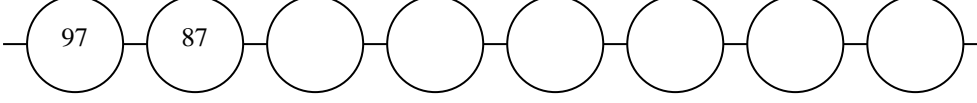
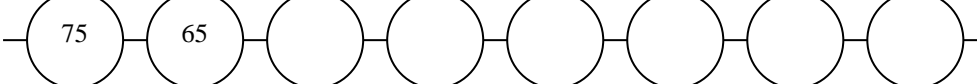
- a) 
- b) 
- c) 
- d) 



2. Petis Ketten sind kleiner. Wie heißen seine Zahlen?

- 
- 

3. Welche Zahlen fehlen hier?

- a) 
- b) 
- c) 
- d) 



1. Wie geht es hier weiter?

4, 14, 24, _____, _____, _____, _____, _____, _____
 80, 79, _____, _____, _____, _____, 74, _____, _____, 71
 34, 35, _____, _____, _____, _____, _____, _____, _____, 43
 99, 98, _____, _____, _____, _____, _____, _____, _____, 90
 _____, 53, 63, 73, _____, _____,
 _____, 20, 30, _____, _____, _____, _____, _____, _____
 4, 14, _____, _____, _____, _____, _____, _____, _____, _____
 5, 10, 15, _____, _____ 100, 98, 96, _____, _____
 0, 12, 24, _____, _____, _____ 50, 46, 42, _____, _____, _____

2. Trage die fehlenden Zahlen ein.

___	27	___	___	30	___	___	___	34	___
49	___	___	___	53	___	___	___	___	58
51	___	___	___	55	___	___	___	___	60
___	___	___	65	___	___	___	___	___	71
88	___	___	___	___	___	94	___	___	___
35	___	___	___	40	___	___	___	___	___
___	80	___	___	___	___	___	86	___	___



3. Zahlenfolgen! Wie geht es weiter?

17 14 11 _____ / _____ 8 6 4
 2, 9, 16, _____, _____, _____, _____, _____
 5, 9, 7, 11, 9, _____, _____, _____, _____
 15, 20, 25, ____, 35, 40 85, 80, 75, ____, ____, 60, 55
 33, 44, 55, ____, 77, ____ 21, 32, 43, ____, 65, ____, 87

4. Zahlenfolgen! Wie geht es weiter?

7 ; 14 ; _____
 4 ; 8 ; _____
 5 ; 10 ; _____

1. Trage die fehlenden Zahlen ein.

1 2 3 4 ___ 6 7 ___ 9 10 11 ___ ___ 14 15



20 22 24 26 ___ 30 32 ___ 36 38 ___ 42 ___

80 75 70 ___ 60 55 50 45 ___ 35 30 ___ 20

2. Trage die fehlenden Zahlen ein.

0 3 6 9 ___ 15 18 21 ___ 27 ___ 33 36 ___

100 96 92 88 ___ 80 76 ___ 68 64 ___ ___ 52

3. Wie geht es weiter?

0 1 2 3 4 _____

0 2 4 6 8 _____

0 3 6 _____

0 5 10 15 _____

20 19 18 17 16 15 _____

30 25 20 _____

4. Aufgabe:

Ordne. Beginne mit der kleinsten Zahl.



24, 16, 30, 35 _____	55, 44, 57, 50 _____	19, 91, 49, 27 _____
19, 8, 25, 52 _____	27, 67, 62, 54 _____	10, 1, 32, 23 _____

1. Wie geht es weiter?

20	25				
22	24				
40	44				
70	65				
60	58				
88	84				
100	96				
90	92				
75	78				
86	82				
68	71				
64	59				
77	79				
61	56				
79	82				
96	92				



Das hast du toll gemacht!!!

Zahlenfolgen – Wer kann das? Lösung Station 1

1. Wie geht es weiter ?

32 , 34 , 36 , 38 , 40 , 42 , 44

53 , 52 , 51 , 50 , 49 , 48 , 47

11 , 22 , 33 , 44 , 55 , 66 , 77

68 , 66 , 64 , 62 , 60 , 58 , 56

35 , 40 , 45 , 50 , 55 , 60 , 65

74 , 69 , 64 , 59 , 54 , 49 , 44

9 , 18 , 27 , 36 , 45 , 54 , 63

5 , 50 , 10 , 45 , 15 , 40 , 20 , 35

2. Setze die Zahlenreihe fort

a) 2, 9, 16, 23, 30, 37, 44, 51, 58

b) 5, 9, 7, 11, 9, 13, 11, 15, 13

3. Setze die Reihe fort!

47, 51, 55, 59, 63, 67, 71

4. Setze die Zahlenfolgen fort.

12, 18, 17, 23, 22, 28, 27, 33

63, 53, 55, 45, 47, 37, 39, 28

5. Setze die Reihen fort!

0, 3, 6, 9, 12, 15 18 21 24

0, 4, 8, 15, 16, 20, 24, 28, 32, 36

0, 10, 20, 30, 40, 50, 60, 70

6. Setze die Folgen fort!

7, 18, 29, 40, 51, 62 90, 83, 76, 69, 62, 56

19, 33, 47, 61, 75, 89, 5, 20, 35, 50, 65, 80,

3, 6, 9, 12, 15, 18, 21, 24, 27, 30

80, 72, 64, 56, 48, 40, 32, 24, 16, 8, 0 .

Zahlenfolgen – Wer kann das? Lösung Station 2

1 Trage die fehlenden Zahlen ein.

a	26	27	28	29	30	31	32	33	34	35
b	49	50	51	52	53	54	55	56	57	58
c	51	52	53	54	55	56	57	58	59	60
d	62	63	64	65	66	67	68	69	70	71
e	88	89	90	91	92	93	94	95	96	97
f	35	36	37	38	39	40	41	42	43	44
g	79	80	81	82	83	84	85	86	87	88
h	74	75	76	77	78	79	80	81	82	83

2. Setze fort

8, 10, 12, **14,16,** 4, 6, 8, **10, 12,** 12, 14, 16, **18,20,**
20, 18, 16, **14, 12,** 16, 14, 12, 10, **8 ,6,** 10, 8, 6, **4, 2,**
15, 20, 25, **30, 35,** 20, 25, 30, **40 , 45,** 5, 10, 15, **20, 25,**
50, 45, 40, **35, 30,** 35, 30, 25, **20, 15,**

3. Setze fort.

1 , 11 , 21 , 31 , **41 , 51 , 61 , 71 , 81 , 91**
16 , 21 , 26 , 31 , **36 , 41 , 46 , 51 , 56 , 61 , 66 , 71 , 76**
5 , 15 , 25 , 35 , **45 , 55 , 65 , 75 , 85 , 95**

4. Immer der Reihe nach. Ordne die Zahlen. Fange mit der kleinsten Zahl an.

- a) 12, 23, 31, 37, 41, 49, 52, 53, 70, 80
b) 15, 23, 32, 66, 76, 77, 78, 87, 91, 100

Zahlenfolgen – Wer kann das? Lösung Station 3

1. Wie geht es hier weiter?

80, 70, 60, 50, 40, 30, 20, 10
95, 85, 75, 65, 55, 45, 35, 25,
36, 33, 30, 27, 24, 21, 18, 15
57, 55, 53, 51, 49, 47, 45, 43

2. Petis Ketten sind kleiner. Wie heißen seine Zahlen?

20, 40, 60, 80, 100
26, 36, 46, 56, 66, 76, 86, 96

3. Welche Zahlen fehlen hier?

90, 80, 70, 60, 50, 40, 30, 20
84, 74, 64, 54, 44, 34, 24, 14
97, 87, 77, 67, 57, 47, 37, 27
75, 65, 55, 45, 35, 25, 15, 5

1. Wie geht es hier weiter?

4, 14, 24, 34, 44, 54, 64, 74, 84, 94

80, 79, 78, 77, 76, 75, 74, 73, 72, 71

34, 35, 36, 37, 38, 39, 40, 41, 42, 43

99, 98, 97, 96, 95, 94, 93, 92, 91, 90

43, 53, 63, 73, 83, 93,

10, 20, 30, 40, 50, 60, 70, 80, 90

4, 14, 24, 34, 44, 54, 64, 74, 84, 94

5, 10, 15, 20, 25 100, 98, 96, 94, 92

0, 12, 24, 48, 96, 192 50, 46, 42, 38, 34, 30

2. Trage die fehlenden Zahlen ein.

a) 26 27 28 29 30 31 32 33 34 35

b) 49 50 51 52 53 54 55 56 57 58

c) 51 52 53 54 55 56 57 58 59 60

d) 62 63 64 65 66 67 68 69 70 71

e) 88 89 90 91 92 93 94 95 96 97

f) 35 36 37 38 39 40 41 42 43 44

g) 79 80 81 82 83 84 85 86 87 88

h) 74 75 76 77 78 79 80 81 82 83

3. Zahlenfolgen! Wie geht es weiter?

17 14 11 8 5 2 / 14 12 10 8 6 4

2, 9, 16, 23, 30, 37, 44, 51, 58

5, 9, 7, 11, 9, 13, 11, 15, 13

15, 20, 25, 30, 35, 40

33, 44, 55, 66, 77, 88

85, 80, 75, 70, 65, 60, 55

21, 32, 43, 54, 65, 76, 87

4. Zahlenfolgen! Wie geht es weiter?

7 ; 14 ; 21 ; 28 ; 35 ; 42 ; 49 ; 56 ; 63 ; 70

4 ; 8 ; 12 ; 16 ; 20 ; 24 ; 28 ; 32 ; 36 ; 40

5 ; 10 ; 15 ; 20 ; 25 ; 30 ; 35 ; 40 ; 45 ; 50

1. Trage die fehlenden Zahlen ein.

1 2 3 4 5 6 7 8 9 10 11 12 13 14 15
 20 22 24 26 28 30 32 34 36 38 40 42 44
 80 75 70 65 60 55 50 45 40 35 30 25 20

2. Trage die fehlenden Zahlen ein.

0 3 6 9 12 15 18 21 24 27 30 33 36 39
 100 96 92 88 84 80 76 72 68 64 60 56 52

3. Wie geht es weiter?

0 1 2 3 4 5 6 7 8 9 10 11 12 13 14 15 16 17 18 19 20 21 22
 0 2 4 6 8 10 12 14 16 18 20 22 24
 0 3 6 9 12 15 18 21
 0 5 10 15 20 25 30 35 40
 20 19 18 17 16 15 14 13 12 11 10 9 8 7 6 5 4 3 2 1 0
 30 25 20 15 10 5 0

4. Aufgabe:

Ordne. Beginne mit der kleinsten Zahl.

24, 16, 30, 35	55, 44, 57, 50	19, 91, 49, 27
16, 24, 30, 35	44, 50, 55, 57	19, 27, 49, 91
19, 8, 25, 52	27, 67, 62, 54	10, 1, 32, 23
8, 19, 25, 52	27, 54, 62, 67	1, 10, 23, 32

1. Wie geht es weiter?

20	25	30	35	40	45
22	24	26	28	30	32
40	44	48	52	56	60
70	65	60	55	50	45
60	58	56	54	52	50
88	84	80	76	72	68
100	96	92	88	84	80
90	92	94	96	98	100
75	78	81	84	87	90
86	82	78	74	70	66
68	71	74	77	80	83
64	59	54	49	44	39
77	79	81	83	85	87
61	56	51	46	41	36
79	82	85	88	91	94
96	92	88	84	80	76