

1. Stell dir vor, du bist Wissenschaftler und sollst das Leben der Mensch in der Steinzeit erforschen. Welche Möglichkeiten hast du?

2. Geschichtsforscher gaben dieser frühen Entwicklungsstufe der Menschheitsgeschichte den Namen „Steinzeit“. Findest du diese Bezeichnung treffend? Begründe deine Antwort!

2. Zähle auf welche Bedeutung das Feuer für Urmenschen hatte!

3. Beantworte die folgenden Fragen. Auf jeden Strich gehört ein Buchstabe.

a) Wie nennen wir heute den Zeitabschnitt von 1,5 Mio Jahre vor unserer Zeit bis etwa 10 000 vor unserer Zeit?

A _ _ _ _ _

b) Welche Tätigkeiten mussten die Menschen in dieser Zeit ausüben, um ihr Leben zu erhalten?

J _ _ _ _ und _ _ _ _ _

In welcher Gemeinschaft lebten die Menschen in dieser Zeit?

H _ _ _ _

Wie nennt man die Zeit in der der Norden Europas und die Alpen unter einer dicken Eisschicht lagen?

E _ _ _ _ _

Unter welchem Namen sind uns die ersten Menschen in Europa bekannt?

N _ _ _ _ _

1. Beantworte die folgenden Fragen. Auf jeden Strich gehört ein Buchstabe.

Wie nennen wir heute ein (Allzweck-) Werkzeug dieser Menschen?

F _____

Wie nennen wir die Zeit, die vor ungefähr 8000 Jahren begann?

J _____

Dann entdeckten die Menschen die Erze und was man daraus gewinnen kann. Die Zeit, die jetzt beginnt heißt: M _____

Die Menschen lernten BRONZE herzustellen. Bronze ist eine L _____

Sie besteht aus ___ Teilen _____ und ___ Teilen _____.

2. Nach gelungener Jagd konnten die Menschen vom erbeuteten Wild fast alles gebrauchen. Wie wurde z. B. das Mammut verwertet?

3. Ergänze den folgenden Lückentext „Ackerbau und Viehzucht“!

In der Zeit vor 10 000 bis 5 000 wurden die Menschen allmählich Sie ernährten sich nicht mehr allein durch und, sondern lernten anzubauen und wilde Tiere zu Von dem, was sie ernteten, legten sie an. Sie hielten Haustiere, z. B. den als Wächter, Schweine zum, Schafe, um zu gewinnen, als Zugtiere und Kühe als Durch diese Fortschritte wurden die Menschen von derunabhängiger.

(Hilfen: Getreide, Hund, Jagen, Jahren, Milchvieh, Natur, Rinder, Sammeln, Schlachten, sesshaft, Vorräte, Wolle, zähmen).

1. Vergleiche die Lebensweise der Altsteinzeit mit der Jungsteinzeit!

| | Altsteinzeit | Jungsteinzeit |
|---------------------------|--------------|---------------|
| Nahrung | | |
| Wohnung | | |
| Werkzeuge | | |
| Wirtschaftsweise | | |
| Leben in der Gemeinschaft | | |

2. Ordne die Kästchen der Alt- oder der Jungsteinzeit zu.

Altsteinzeit

Jungsteinzeit

Werkzeuge und Waffen aus Holz und Knochen

Häuser

Vor ca. 2 Millionen Jahren bis ca. 8000 vor Chr.

Jagen und Sammeln

Ackerbau und Viehzucht

Höhlen, Zelte, Erdgruben

8000 vor Chr. Bis 3000 vor Chr.

Webstuhl, Steinbohrer, Tonwaren

1. Was veränderte sich in der Lebensweise der Menschen beim Übergang von der Altsteinzeit in die Jungsteinzeit?

2. Warum trägt diese Epoche der Menschheitsgeschichte diesen eigenartigen Namen?

3. Welches Klima herrschte während der Altsteinzeit? Wie versuchten sich die Menschen gegen das Klima zu schützen?

4. Ergänze folgenden Lückentext mit den passenden Begriffen!

Die Menschen in der Altsteinzeit lebten als _____ und folgten den Tierherden. Dabei gingen die Männer meist auf die _____, während die Frauen eher _____ (2 Beispiele) sammelten.

5. Beschreibe das folgende Bild! Was ist zu sehen und was kann daraus geschlossen werden?



1. Nenne zwei Werkzeuge, welche die Menschen während der Steinzeit verwendeten und gib ein Beispiel, wofür sie diese nutzten:

2. Kreuze die richtige Antwort an:

In der Steinzeit...

- ...lebten alle Menschen in Höhlen
- ... übernachteten die Menschen im Freien, in Zelten, Hütten oder Höhlen.

3. Grundwissen:

4. Quellen geben uns Auskunft, was in früheren Zeiten passiert ist. Nenne zwei Quellarten und gib jeweils ein Beispiel dafür.

5. Auf welchem Kontinent entstanden die ersten Menschen? Markiere den Kontinent in der Weltkarte unten. Wie lange ist das ungefähr her?



1. Wenn wir uns mit Geschichte beschäftigen, bekommen wir uns Wissen aus Quellen. Vervollständige folgende Tabelle, indem du entweder, je nach Lücke, die Quellenart oder das Beispiel ergänzt!

| Quellenart | Schriftliche Quelle | Mündliche Quelle | Bildliche Quelle | |
|------------|---------------------|------------------|------------------|---------|
| Beispiel 1 | Brief | | | Gebäude |
| Beispiel 2 | | | | |

2. In der Altsteinzeit hat man viele "Bestandteile" der Jagdbeute verwendet. Vervollständige folgende Tabelle, indem du ergänzt, wie die Jagdbeute genutzt wurde! (1 Beispiel genügt)

| Bestandteil | Nutzung |
|-------------|---------|
| Fell | |
| Sehnen | |
| Tierfett | |
| Knochen | |

3. Warum war es so wichtig, dass die Menschen der Altsteinzeit möglichst viele Bestandteile der Jagdbeute nutzten?

4. Rechts siehst du das Bild eines Werkzeuges aus der Steinzeit

a) Nenne die Bezeichnung dieses Werkzeuges

b) Erkläre kurz, für welche Aufgaben dieses Werkzeug genutzt wurde!



1a) Nenne den wesentlichen Unterschied zwischen Altsteinzeit und Jungsteinzeit!

b) Der Übergang von der Altsteinzeit zur Jungsteinzeit wird auch als landwirtschaftliche oder neolithische Revolution bezeichnet, weil...

2. Wie heißt das Universalwerkzeug der Menschen aus der Altsteinzeit?

3. Wie nennt man Menschen ohne Wohnsitz?

4. Was war die Voraussetzung, dass die Menschen der Jungsteinzeit sesshaft werden konnten?

5. Aus welchem Material wurden die steinzeitlichen Werkzeuge hergestellt?


**6. Der Ötztalman- ein Vertreter der Alt- oder Jungsteinzeit?
Begründe deine Meinung.**

7. Wann und wo wurde der Ötzi gefunden? Beschreibe so genau wie möglich.

8. Warum fehlten an der Mumie des Ötztalmannes die Fingernägel?



1. Nenne die 4 Entwicklungsstufen des Menschen



2. Während der Steinzeit gab es aufgrund klimatischer Veränderungen einen Wechsel

3. Beschreibe kurz, wie die Landschaft während der verschiedenen Zeiten aussah und wie das Wetter war.

4. Woher hat die Steinzeit ihren Namen?

5. Woher weiß man so viel über die Steinzeit?


6. Wo wohnten die Menschen in der Altsteinzeit?

7. Die Menschen waren nicht sesshaft, sondern zogen umher. Man nennt sie deshalb

8. Die Menschen konnten nur in großen Gruppen überleben. Man nannte diese Gruppen

9. Nenne 2 Gründe, warum die Menschen in so großen Gruppen lebten

10. Die Frauen, Männer und Kinder aus diesen Gruppen hatten jeweils besondere Aufgaben für die Gemeinschaft zu erledigen. Schreibe je 2 Aufgaben auf.



1. Nenne 6 Tiere, die die Menschen damals jagten

2. Die Jäger hatten unterschiedliche Jagdmethoden. Nenne 3 und beschreibe eine davon näher.

3. Nenne 4 Körperteile eines Rentiers und die daraus hergestellten Produkte

4. Eine der wichtigsten Fähigkeiten des Menschen war die Beherrschung des Feuers. Nenne 2 Vorteile, die die Menschen dadurch hatten.

5. Wann etwa endete die Altsteinzeit?

6. Setze in die Lücken die folgenden Wörter richtig ein:

Schutz, 700 000 Jahren, Licht, veränderte, Jagd, Höhlenbär, rohes Fleisch, mieden, Wärme, Feuer

Die Menschen der Altsteinzeit lernten das _____ zu zähmen. Es _____ das Leben der Menschen entscheidend. Seit ungefähr _____ wird es genutzt. Es war faszinierend als _____, spendete _____, garte _____ und andere Nahrung, konnte zur _____ genutzt werden.

Erstaunlich war, dass große Tiere wie der _____ das Feuer _____ . Es diente auch als _____ .



**1.) Das Feuer zähmen war das eine, das Feuer selbst entzünden, das andere.
Beschreibe 4 verschiedene Möglichkeiten, wie die Menschen zu Feuer kamen.
Erkläre, wie die Methoden jeweils funktionierten!**

a) _____

b) _____

c) _____

d) _____

2. Nenne 3 Hauptwildarten der Altsteinzeit.

3. Nenne 4 Erfindungen der Jungsteinzeit.

4. Erkläre den Begriff Nomaden.

5. Nenne drei neue Berufe die sich in der Jungsteinzeit entwickelt haben.

Lösung Arbeitsblatt 1

1. Stell dir vor, du bist Wissenschaftler und sollst das Leben der Mensch in der Steinzeit erforschen. Welche Möglichkeiten hast du?

Ich kann Ausgrabungen anschauen, ins Museum gehen, an die Universität oder in die Bibliothek

2. Geschichtsforscher gaben dieser frühen Entwicklungsstufe der Menschheitsgeschichte den Namen „Steinzeit“. Findest du diese Bezeichnung treffend? Begründe deine Antwort!

Ja die Namensgebung war gut, denn die Menschen haben in der Steinzeit ihre Werkzeuge, Aufbewahrungsbehälter und Waffen aus Stein gefertigt. Sie haben das getan, da andere Stoffe (z.B. Holz oder Leder) zu schnell verrotteten.

3. Zähle auf welche Bedeutung das Feuer für Urmenschen hatte!

Es war wichtig zum Warmhalten der Wohnstätte und der Speisen. Aber auch als Licht und zum Abhalten der wilden Tiere!

4. Beantworte die folgenden Fragen. Auf jeden Strich gehört ein Buchstabe.

a) Wie nennen wir heute den Zeitabschnitt von 1,5 Mio Jahre vor unserer Zeit bis etwa 10 000 vor unserer Zeit?

ALTSTEINZEIT

b) Welche Tätigkeiten mussten die Menschen in dieser Zeit ausüben, um ihr Leben zu erhalten?

JAGEN und SAMMELN

In welcher Gemeinschaft lebten die Menschen in dieser Zeit?

HORDE

Wie nennt man die Zeit in der der Norden Europas und die Alpen unter einer dicken Eisschicht lagen?

EISZEIT

Unter welchem Namen sind uns die ersten Menschen in Europa bekannt?

NEANDERTALER

Lösung Arbeitsblatt 2

1. Beantworte die folgenden Fragen. Auf jeden Strich gehört ein Buchstabe.

Wie nennen wir heute ein (Allzweck-) Werkzeug dieser Menschen?

FAUSTKEIL

Wie nennen wir die Zeit, die vor ungefähr 8000 Jahren begann?

JUNGSTEINZEIT

Dann entdeckten die Menschen die Erze und was man daraus gewinnen kann.

Die Zeit, die jetzt beginnt heißt: METALLZEIT

Die Menschen lernten BRONZE herzustellen. Bronze ist eine

LEGIERUNG

Sie besteht aus 9 Teilen KUPFER und 1 Teilen ZINN

2. Nach gelungener Jagd konnten die Menschen vom erbeuteten Wild fast alles gebrauchen. Wie wurde z. B. das Mammut verwertet?

Das Fell wurde für die Kleidung benutzt. Das Fleisch diente als Nahrung, aus den Knochen wurden Werkzeuge und Waffen hergestellt und aus der Haut machten sie Leder für Riemen und Kleidung.

3. Ergänze den folgenden Lückentext „Ackerbau und Viehzucht“!

In der Zeit vor 10 000 bis 5 000 Jahren wurden die Menschen allmählich sesshaft. Sie ernährten sich nicht mehr allein durch jagen und sammeln sondern lernten Getreide anzubauen und wilde Tiere zu zähmen. Von dem, was sie ernteten, legten sie Vorräte an. Sie hielten Haustiere, z. B. den Hund als Wächter, Schweine zum Schlachten, Schafe, um Wolle zu gewinnen, Rinder als Zugtiere und Kühe als Milchvieh. Durch diese Fortschritte wurden die Menschen von der Natur unabhängiger.

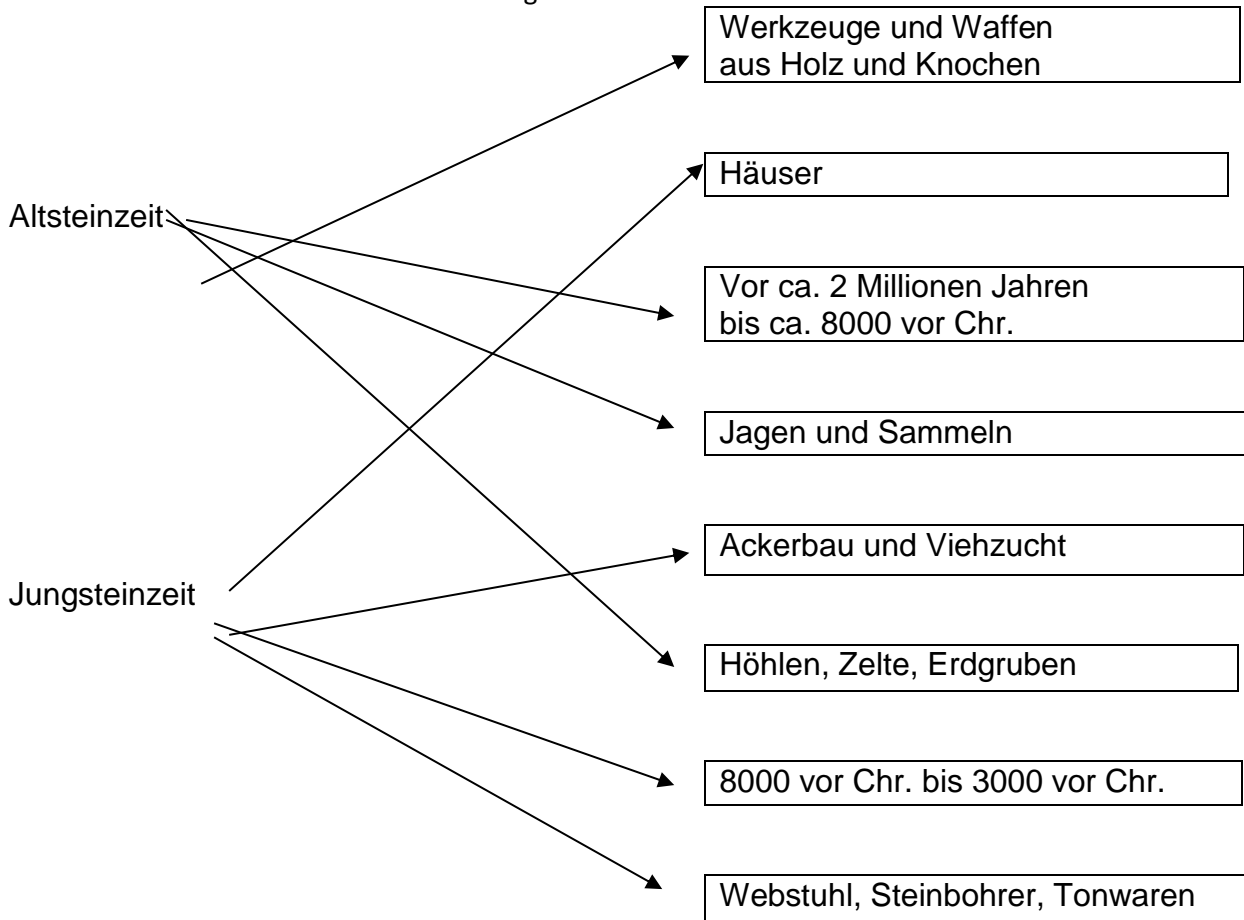
(Hilfen: Getreide, Hund, Jagen, Jahren, Milchvieh, Natur, Rinder, Sammeln, Schlachten, sesshaft, Vorräte, Wolle, zähmen).

Lösung Arbeitsblatt 3

1. Vergleiche die Lebensweise der Altsteinzeit mit der Jungsteinzeit!

| | Altsteinzeit | Jungsteinzeit |
|---------------------------|--|--|
| Nahrung | Tierfleisch, Pflanzen, Jagen und Sammeln | Getreideanbau, Pflanzen, Ackerbau, Vorräte, Jagd |
| Wohnung | Zelte, Höhlen | Langhäuser |
| Werkzeuge | Speer, Bogen, Stein-klingen, Faustkeil | Sichel, Axt, Beil, Messer, Speer, Harpune, Bogen |
| Wirtschaftsweise | Jäger und Sammler | Bauern, Ackerbau |
| Leben in der Gemeinschaft | Leben in einzelnen Zelten jedoch als Horde | Alleiniges Leben in Langhäusern |

2. Ordne die Kästchen der Alt- oder der Jungsteinzeit zu.



Lösung Arbeitsblatt 4

1. Was veränderte sich in der Lebensweise der Menschen beim Übergang von der Altsteinzeit in die Jungsteinzeit?

Altsteinzeit: Jagen und Sammeln, Nomadenleben ohne feste Wohnung in Höhlen, Zelten oder Felsüberhänge. Kleidung aus Fell, grobe Werkzeuge aus Stein.

Jungsteinzeit: Sesshaft in Häusern, Bildung von ersten Dörfern. Kleidung bestand aus Stoff (Erfindung des Webstuhls). Die Werkzeuge verfeinerten sich (Erfindung des Steinbohrers, Herstellung von Tonwaren). Entstehung sozialer Gefüge, Arbeitsteilungen zwischen Mann und Frau aus denen neue Berufe entstanden die heute noch bekannt sind.

2. Warum trägt diese Epoche der Menschheitsgeschichte diesen eigenartigen Namen?

Weil die Menschen dieser Zeit ihre Werkzeuge überwiegend aus Stein hergestellt haben.

3. Welches Klima herrschte während der Altsteinzeit? Wie versuchten sich die Menschen gegen das Klima zu schützen?

Das Klima der Altsteinzeit war kalt und feucht, die Menschen schützten sich dagegen, indem sie sich warme „Mäntel“ aus Tierfellen herstellten.

4. Ergänze folgenden Lückentext mit den passenden Begriffen!

Die Menschen in der Altsteinzeit lebten als **Nomaden** und folgten den Tierherden. Dabei gingen die Männer meist auf die **Jagd**, während die Frauen eher **Beeren und Pilze (Insekten, Wurzeln, Pflanzen)** (2 Beispiele) sammelten.

5. Beschreibe das folgende Bild! Was ist zu sehen und was kann daraus geschlossen werden?

Auf dem Bild ist ein Skelett in einem mit Grabbeigaben versehenem Grab zu sehen. Daraus lässt sich schließen, dass die Steinzeitmenschen ihre Toten bestatteten und an ein Leben nach dem Tod glaubten.

Lösung Arbeitsblatt 5

1. Nenne zwei Werkzeuge, welche die Menschen während der Steinzeit verwendeten und gib ein Beispiel, wofür sie diese nutzten:

Messer aus Stein: Zerlegen von erlegten Tieren,

2. Kreuze die richtige Antwort an:

In der Steinzeit...

X.. übernachteten die Menschen im Freien, in Zelten, Hütten oder Höhlen.

3. Grundwissen:

4. Quellen geben uns Auskunft, was in früheren Zeiten passiert ist. Nenne zwei Quellarten und gib jeweils ein Beispiel dafür.

Bildquellen: Fotos

Sachquellen: Schmuck

5. Auf welchem Kontinent entstanden die ersten Menschen? Markiere den Kontinent in der Weltkarte unten. Wie lange ist das ungefähr her?

ca. 5 Mio. Jahre



Lösung Arbeitsblatt 6

1. Wenn wir uns mit Geschichte beschäftigen, bekommen wir uns Wissen aus Quellen.

Vervollständige folgende Tabelle, indem du entweder, je nach Lücke, die Quellenart oder das Beispiel ergänzt!

| Quellenart | Schriftliche Quelle | Mündliche Quelle | Bildliche Quelle | Gegenständliche Quelle |
|------------|---------------------|------------------|------------------|------------------------|
| Beispiel 1 | Brief | Sagen | Gemälde | Gebäude |
| Beispiel 2 | Zeugnisse | / | Fotos | Denkmal |

2. In der Altsteinzeit hat man viele "Bestandteile" der Jagdbeute verwendet. Vervollständige folgende Tabelle, indem du ergänzt, wie die Jagdbeute genutzt wurde!

| Bestandteil | Nutzung |
|-------------|-----------------------|
| Fell | Zelt |
| Sehnen | Schnüre |
| Tierfett | Brennstoff für Lampen |
| Knochen | Werkzeuge |

3. Warum war es so wichtig, dass die Menschen der Altsteinzeit möglichst viele Bestandteile der Jagdbeute nutzten?

Es war wichtig alle Bestandteile der Jagdbeute zu nutzen, weil sie hatten nicht alles. Sie waren gezwungen dazu, jeden Bestandteil der Jagdbeute zu nutzen, weil in der Altsteinzeit gab es keinen Laden, wo sie das kaufen konnten und hätten sie die Bestandteile nicht genutzt, wären sie gestorben.

Es war nicht sicher, wann eine Jagd wieder erfolgreich war. Sie waren Jäger und Sammler. Es gab keine Arbeitsteilung. Jeder machte jedes.

4. Rechts siehst du das Bild eines Werkzeuges aus der Steinzeit

a) Nenne die Bezeichnung dieses Werkzeuges.....Faustkeil.....

b) Erkläre kurz, für welche Aufgaben dieses Werkzeug genutzt wurde!

Zum Jagen, Schnitzen, Als Messer verwendet, zum Zerkleinern von Nahrung, zur Herstellung von Werkzeug



Lösung Arbeitsblatt 7

a) Nenne den wesentlichen Unterschied zwischen Altsteinzeit und Jungsteinzeit!

Die Menschen sind sesshaft geworden, keine Nomaden mehr

Bauern und Viehzüchter

b) Der Übergang von der Altsteinzeit zur Jungsteinzeit wird auch als landwirtschaftliche oder neolithische Revolution bezeichnet, weil...

Sesshaft, Bauern und Viehzüchter, die Familien lebten in einem Haus

Arbeitsteilung, nicht jeder musste alles können, keine Nomaden, Handel kam auf

2. Wie heißt das Universalwerkzeug der Menschen aus der Altsteinzeit?

Faustkeil

3. Wie nennt man Menschen ohne Wohnsitz?

Nomaden

4. Was war die Voraussetzung, dass die Menschen der Jungsteinzeit sesshaft werden konnten?

Sie konnten selber Häuser bauen und sie konnten auch züchten, was die Nomaden nicht konnten.

5. Aus welchem Material wurden die steinzeitlichen Werkzeuge hergestellt?

Stein, Holz, Fell

6. Der Ötztalmann- ein Vertreter der Alt- oder Jungsteinzeit?

Begründe deine Meinung.

Er war ein Vertreter der Jungsteinzeit er hatte Pfeil und Bogen

7. Wann und wo wurde der Ötzi gefunden? Beschreibe so genau wie möglich.

Er wurde am 19.9.1991 am Tisenjoch im Ötztal um 3210m Höhe gefunden.

8. Warum fehlten an der Mumie des Ötztalmannes die Fingernägel?

Weil sie mehrmals aufgetaut und wieder gefroren waren.

Lösung Arbeitsblatt 8

1. Nenne die 4 Entwicklungsstufen des Menschen

Vormensch, Frühmensch, Altmensch, Jetztmensch

2. Während der Steinzeit gab es aufgrund klimatischer Veränderungen einen Wechsel

Zwischen Eis - und Warmzeiten

3. Beschreibe kurz, wie die Landschaft während der verschiedenen Zeiten aussah und wie das Wetter war.

In den Eiszeiten war die Landschaft mit Schnee und Eis bedeckt, es gab häufig Schneestürme. In der Warmzeit blühte die Landschaft, es war ein warmes Klima.

4. Woher hat die Steinzeit ihren Namen?

In der Steinzeit wurden viele Steinwerkzeuge hergestellt. Man arbeitete hauptsächlich mit Steinen.

5. Woher weiß man so viel über die Steinzeit?

Man hat viele Sachen gefunden, die von Forschern untersucht und analysiert wurden.

6. Wo wohnten die Menschen in der Altsteinzeit?

In Höhlen oder Felsvorsprüngen oder Fellzelten.

7. Die Menschen waren nicht sesshaft, sondern zogen umher. Man nennt sie deshalb

Nomaden

8. Die Menschen konnten nur in großen Gruppen überleben. Man nannte diese Gruppen

Horden

9. Nenne 2 Gründe, warum die Menschen in so großen Gruppen lebten

Einer allein konnte im Kampf gegen ein großes Tier umkommen und wäre bei der Jagd lange nicht so erfolgreich gewesen.

10. Die Frauen, Männer und Kinder aus diesen Gruppen hatten jeweils besondere Aufgaben für die Gemeinschaft zu erledigen. Schreibe je 2 Aufgaben auf.

Frauen: Beeren sammeln, bei der Treibjagd helfen

Männer: Jagen, manchmal beim Beerensammeln helfen

Kinder: beim Beeren sammeln helfen, ältere Kinder bei der Jagd helfen

Lösung Arbeitsblatt 9

1. Nenne 6 Tiere, die die Menschen damals jagten

Rentiere, Mammuts, Wildpferde, Auerochsen, Wollnashörner und Kaninchen

2. Die Jäger hatten unterschiedliche Jagdmethoden. Nenne 3 und beschreibe 1 davon näher.

Treiben, Fangen, Jagen

Die Jäger gruben ein Loch und bedeckten es mit Gras und Moos; dann schreckten sie die Tiere auf. Wenn ein Tier in der Grube gefangen war, bewarfen sie es mit Steinen, speziell den Kopf, bis es tot war.

3. Nenne 4 Körperteile eines Rentiers und die daraus hergestellten Produkte

Fell Zelte, Kleidung

Knochen.....Schmuck, Werkzeug

SehnenSchnüre und Angelsehnen

Geweih.....Schaufeln

4. Eine der wichtigsten Fähigkeiten des Menschen war die Beherrschung des Feuers. Nenne 2 Vorteile, die die Menschen dadurch hatten.

- Sie konnten sich wärmen und kochen

- Sie konnten wilde Tiere abschrecken

5. Wann etwa endete die Altsteinzeit?

200 000 Jahre v. Chr.

6. Die Menschen der Altsteinzeit lernten das Feuer zu zähmen. Es

veränderte das Leben der Menschen entscheidend. Seit ungefähr 700 000

Jahren wird es genutzt. Es war faszinierend als Licht, spendete Wärme,

garte rohes Fleisch und andere Nahrung, konnte zur Jagd genutzt werden.

Erstaunlich war, dass große Tiere wie der Höhlenbär das Feuer mieden. Es diente auch als Schutz.

Lösung Arbeitsblatt 10

1.a.) Der Blitz schlug in die Bäume ein, und sie fingen an zu brennen. Jetzt musste man es nur noch holen, Nun hatte man Feuer.

b.) Man rieb ein Stück Holz auf einem Baumstamm hin und her, so entstand Reibung und es fing an zu brennen.

c.) Man schlug zwei Feuersteine aneinander und die Funken flogen auf trockenes Gras. Das fing an zu brennen, und man hatte Feuer.

d.) Man musste ein Stück Holz in einem hohlen, alten Baumstamm stecken und den Bogen mit der Schnur, die am Holz festgebunden war, immer hin und her bewegen. So entstand Reibung, und man bekam Feuer.

2. Nenne 3 Hauptwildarten der Altsteinzeit.

Mammut, Wisent, Bär

3. Nenne 4 Erfindungen der Jungsteinzeit.

Steinbohrer, Rad, Wagen, Webstuhl

4. Erkläre den Begriff Nomaden.

(Sippe) Mehrere Leute lebten zusammen, sie hatten aber keinen festen Wohnsitz

5. Nenne drei neue Berufe die sich in der Jungsteinzeit entwickelt haben.

Fischer, Viehzüchter, Bauer