

# Klassenarbeit - Ägypten

Nil; Lage; Soziale Ordnung; Hochkultur; Hieroglyphen; Pyramiden; Leben nach dem Tod

## Aufgabe 1

**Erkläre was der Spruch bedeutet:**

- vier Monate eine schwarze Haut
- vier Monate ein grüner Edelstein
- vier Monate leuchtendes Gold

---

---

---

\_\_\_ /3P

## Aufgabe 2

**Die Lage Ägyptens**



Auf welchem Kontinent befindet sich Ägypten? \_\_\_\_\_

Hauptstadt des heutigen Ägyptens ist: \_\_\_\_\_

Welches Meer liegt östlich von Ägypten? \_\_\_\_\_

\_\_\_ /3P

## Aufgabe 3

**Der Nil**

Der Nil ist ca \_\_\_\_\_ km lang und fließt von \_\_\_\_\_ nach \_\_\_\_\_.

Welches Naturereignis war früher sehr wichtig für das Leben der Menschen und kehrte jedes Jahr wieder? \_\_\_\_\_

Was geschah, wenn die Flut des Nils höher als normal anstieg?

---

---

Womit wird heute die Wasserversorgung geregelt? \_\_\_\_\_

\_\_\_ /7P

Aufgabe 4

**Die soziale Ordnung in Ägypten**

**Setze ein:** Bauern, Pharao, Kaufleute, Handwerker und Arbeiter, Wesir, Beamte und Priester

---

---

---

---

---

\_\_\_ /5P

Aufgabe 5

**Welche Zeichen der Macht trug ein Pharao? (Mindestens vier nennen)**

---

\_\_\_ /4P

Aufgabe 6

**Nenne mindestens vier ägyptische Herrscher:**

---

\_\_\_ /4P

Aufgabe 7

**Bei uns herrschte noch die Steinzeit als die Ägypter viele Dinge erfanden die wir später von ihnen übernommen haben. Welche waren das?**

---

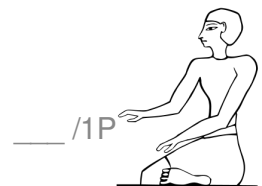
---

\_\_\_ /3P

Aufgabe 8

**Die meisten Ägypter waren Bauern. Wie heißen sie?**

---



Aufgabe 9

**Wie wohnten die Nilbauern? (Zusatzaufgabe: Was weißt du noch über ihr Leben?)**

---

---

\_\_\_ /1P

Aufgabe 10

**Wie heißen die heiligen Zeichen (Bilderschrift) der alten Ägypter?**

\_\_\_\_\_

\_\_\_/1P

Aufgabe 11

**Auf welchen Materialien schrieben die alten Ägypter? (mindestens zwei nennen)**

\_\_\_\_\_

\_\_\_/2P

Aufgabe 12

**Wozu und für wen wurden Pyramiden gebaut?**

\_\_\_\_\_

\_\_\_/2P

Aufgabe 13

**Die größte Pyramide heißt:**

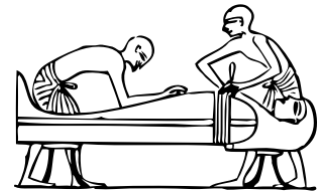
\_\_\_\_\_

\_\_\_/1P

Aufgabe 14

**Beschreibe wie ein Pharao auf das ewige Leben im Reich der Toten vorbereitet wurde?**

\_\_\_\_\_  
\_\_\_\_\_  
\_\_\_\_\_  
\_\_\_\_\_  
\_\_\_\_\_



\_\_\_/2P

Aufgabe 15

**Ägypten ist ein Geschenk des Nils. Erkläre diese Aussage!**

\_\_\_\_\_  
\_\_\_\_\_  
\_\_\_\_\_



\_\_\_/2P

# Lösung Klassenarbeit - Ägypten

Nil; Lage; Soziale Ordnung; Hochkultur; Hieroglyphen; Pyramiden; Leben nach dem Tod

## Aufgabe 1

**Erkläre was der Spruch bedeutet:**

- vier Monate eine schwarze Haut
- vier Monate ein grüner Edelstein
- vier Monate leuchtendes Gold

**Schwarz steht für Überschwemmung und Nilschlamm.**

**Grün steht für das Sprießen des Getreides.**

**Leuchtendes Gold für erntereifes Getreide.**

\_\_\_/3P

## Aufgabe 2

**Die Lage Ägyptens**



Auf welchem Kontinent befindet sich Ägypten? **In der Wüstenregion Afrikas**

Hauptstadt des heutigen Ägyptens ist: **Kairo**

Welches Meer liegt östlich von Ägypten? **Rote Meer**

\_\_\_/3P

## Aufgabe 3

**Der Nil**

Der Nil ist ca **6671** km lang und fließt von **Süden** nach **Norden**.

Welches Naturereignis war früher sehr wichtig für das Leben der Menschen und kehrte jedes Jahr wieder? **Nilüberschwemmung**

Was geschah, wenn die Flut des Nils höher als normal anstieg?

**Das Land wurde überschwemmt und das Wasser ging bis zu den Häusern, die dann zerstört wurden.**

Womit wird heute die Wasserversorgung geregelt? **Assuan Staudamm**

\_\_\_/7P

Aufgabe 4

**Die soziale Ordnung in Ägypten**

**Setze ein:** Bauern, Pharao, Kaufleute, Handwerker und Arbeiter, Wesir, Beamte und Priester



\_\_\_ /5P

Aufgabe 5

**Welche Zeichen der Macht trug ein Pharao? (Mindestens vier nennen)**

**Königskrone, falscher Bart, schöne Kleider, Schmuck**

\_\_\_ /4P

Aufgabe 6

**Nenne mindestens vier ägyptische Herrscher:**

**Tutenchamun, Ramses, Cheops, Hatchepsut**

\_\_\_ /4P

Aufgabe 7

**Bei uns herrschte noch die Steinzeit als die Ägypter viele Dinge erfanden die wir später von ihnen übernommen haben. Welche waren das?**


**Kalender, Pullover, Schiffe**

\_\_\_ /3P

Aufgabe 8

**Die meisten Ägypter waren Bauern. Wie heißen sie?**

**Fellachen**



Aufgabe 9

**Wie wohnten die Nilbauern? (Zusatzaufgabe: Was weißt du noch über ihr Leben?)**

**Sie wohnten in kleinen Häusern aus Lehmziegeln mit 2 bis 3 Räumen.  
Ihr Leben war sehr hart.**

\_\_\_ /1P

Aufgabe 10

**Wie heißen die heiligen Zeichen (Bilderschrift) der alten Ägypter?**

**Hieroglyphen**

\_\_\_ /1P

Aufgabe 11

**Auf welchen Materialien schrieben die alten Ägypter? (mindestens zwei nennen)**

**Papyrus, Steintafeln**

\_\_\_ /2P

Aufgabe 12

**Wozu und für wen wurden Pyramiden gebaut?**

**Als Grabmäler für Pharaonen**

\_\_\_ /2P

Aufgabe 13

**Die größte Pyramide heißt:**

**Cheopspyramide**

\_\_\_ /1P

Aufgabe 14

**Beschreibe wie ein Pharao auf das ewige Leben im Reich der Toten vorbereitet wurde?**

**Ihm wurden die Organe wie Leber und Gehirn entnommen dann wurde der Leichnam in Salz eingelegt und in Leinentüchern gewickelt.**



\_\_\_ /2P

Aufgabe 15

**Ägypten ist ein Geschenk des Nils. Erkläre diese Aussage!**

**Ohne den Nil gäbe es viel weniger Bevölkerung in Ägypten, weil dann nur die Wüste da wäre.**



\_\_\_ /2P

*Viel Erfolg!!*

Gesamt: \_\_\_ /41P

Note	1	1-	1-2	2+	2	2-	2-3	3+	3	3-	3-4	4+	4	4-	4-5	5+	5	5-	5-6	6+
Punkte	36	35	33	32	30	29	27	26	24	22	20	18	16	14	13	11	10	8	7	5