

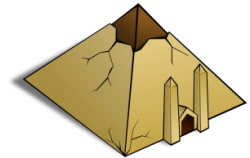
# Klassenarbeit - Ägypten

Begriffe; Gesellschaft; Pyramiden; Nil; Hochkultur; Lage; Pharao; Sklaverei

## Aufgabe 1

**Erkläre folgende Begriffe:**

- a) Hieroglyphen: \_\_\_\_\_
- b) Pyramide: \_\_\_\_\_
- c) Pharao: \_\_\_\_\_



\_\_\_/3P

## Aufgabe 2

**Hier stimmt etwas nicht.**

**Ordne die Gruppen der ägyptischen Gesellschaft nach ihrer richtigen Hierarchie!**

- Schreiber \_\_\_\_\_
- Pharao \_\_\_\_\_
- Bauern      Priester \_\_\_\_\_
- Sklassen      Händler \_\_\_\_\_
- Handwerker \_\_\_\_\_

\_\_\_/7P

## Aufgabe 3

**Wann wurde die Cheops-Pyramide bei Giseh erbaut?**

- ca. 5000 v. Chr.       ca. 2500 v. Chr.       ca. 1300 v. Chr.

\_\_\_/2P

## Aufgabe 4

**Erkläre die Aussage „Ägypten ist ein Geschenk des Nils.“**

---

---

\_\_\_/3P

Aufgabe 5

**Die Ägypter teilten das Jahr in 3 wichtige Teile ein:**


- 1. Zeit der \_\_\_\_\_
- 2. Zeit der \_\_\_\_\_
- 3. Zeit der \_\_\_\_\_

\_\_\_/3P

Aufgabe 6

**Fülle die Lücken.**

Ägypten liegt in \_\_\_\_\_ zwischen \_\_\_\_\_ und \_\_\_\_\_  
(Kontinent) (Meer)  
\_\_\_\_\_. Das Land besteht fast nur aus \_\_\_\_\_  
(Meer)



\_\_\_/4P

Aufgabe 7

**Nenne 3 Aufgaben des Pharaos!**

- a) \_\_\_\_\_
- b) \_\_\_\_\_
- c) \_\_\_\_\_



\_\_\_/3P

Aufgabe 8

**Nenne die 3 Herrschaftszeichen des Pharaos!**

- a) \_\_\_\_\_
- b) \_\_\_\_\_
- c) \_\_\_\_\_

\_\_\_/3P

Aufgabe 9

**Warum wird Ägypten als Hochkultur bezeichnet?**

\_\_\_\_\_  
\_\_\_\_\_




\_\_\_/2P

Aufgabe 10

**Der griechische Historiker Herodot behauptete, die Pharaonen hätten die Ägypter zum Pyramidenbau gezwungen. Nenne 2 Gründe, die die Menschen veranlasst haben könnten, freiwillig beim Bau der Pyramiden mitzuarbeiten.**

---

---



\_\_\_/2P

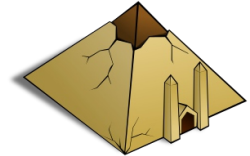
# Lösung Klassenarbeit - Ägypten

Begriffe; Gesellschaft; Pyramiden; Nil; Hochkultur; Lage; Pharao; Sklaverei

## Aufgabe 1

**Erkläre folgende Begriffe:**

- a) Hieroglyphen: **Die Schrift der Ägypter.**  
 b) Pyramide: **Grabstätte für Pharaonen.**  
 c) Pharao: **Großes weißes Haus.**



\_\_\_ /3P

## Aufgabe 2

**Hier stimmt etwas nicht.**

**Ordne die Gruppen der ägyptischen Gesellschaft nach ihrer richtigen Hierarchie!**

Schreiber		<b>Pharao</b>
		<b>Priester, Schreiber</b>
Pharao		<b>Händler</b>
Bauern	Priester	<b>Bauern, Handwerker</b>
Sklassen	Händler	<b>Sklassen</b>
Handwerker		

\_\_\_ /7P

## Aufgabe 3

**Wann wurde die Cheops-Pyramide bei Giseh erbaut?**

- ca. 5000 v. Chr.       ca. 2500 v. Chr.       ca. 1300 v. Chr.

\_\_\_ /2P

## Aufgabe 4

**Erkläre die Aussage „Ägypten ist ein Geschenk des Nils.“**

**Der Nil überschwemmt einmal im Jahr das Land und versorgt es mit Wasser.  
 Der schwarze Schlamm der dadurch auch kommt macht das Land fruchtbar.**

\_\_\_ /3P

Aufgabe 5

Die Ägypter teilten das Jahr in 3 wichtige Teile ein:

1. Zeit der **Überschwemmung**
2. Zeit der **Aussaat**
3. Zeit der **Ernte**

\_\_\_ /3P

Aufgabe 6

Fülle die Lücken.

Ägypten liegt in **Afrika** zwischen **Mittelmeer** und **rotem Meer**.

Das Land besteht fast nur aus **Wüste**.

\_\_\_ /4P

Aufgabe 7

Nenne 3 Aufgaben des Pharaos!

- a) **Er ist Oberbefehlshaber**
- b) **Er ist oberster Richter**
- c) **Er ist oberster Priester**



\_\_\_ /3P

Aufgabe 8

Nenne die 3 Herrschaftszeichen des Pharaos!

- a) **Geier und Kobra**
- b) **Krummstab und Wedel**
- c) **Geflochtener Bart**

\_\_\_ /3P

Aufgabe 9

Warum wird Ägypten als Hochkultur bezeichnet?

**Weil die Ägypter in der Entwicklung andern Kulturen weit voraus waren.**



\_\_\_ /2P


Aufgabe 10

Der griechische Historiker Herodot behauptete, die Pharaonen hätten die Ägypter zum Pyramidenbau gezwungen.

Nenne 2 Gründe, die die Menschen veranlasst haben könnten, freiwillig beim Bau der Pyramiden mitzuarbeiten.

**Um Arbeit zu haben und Geld zu verdienen.**

**Um dem verehrten Pharaos zu dienen und ihn zu huldigen.**



\_\_\_ /2P

*Viel Erfolg!!*

Gesamt: \_\_\_\_/32P

<b>Note</b>	<b>1</b>	<b>1-</b>	<b>1-2</b>	<b>2+</b>	<b>2</b>	<b>2-</b>	<b>2-3</b>	<b>3+</b>	<b>3</b>	<b>3-</b>	<b>3-4</b>	<b>4+</b>	<b>4</b>	<b>4-</b>	<b>4-5</b>	<b>5+</b>	<b>5</b>	<b>5-</b>	<b>5-6</b>	<b>6+</b>
<b>Punkte</b>	28	27	26	25	24	22	21	20	19	17	16	14	12	11	10	9	8	6	5	4

klassenarbeiten.de - Klassenarbeit 2791 - Gymnasium, 6. Klasse, Geschichte