

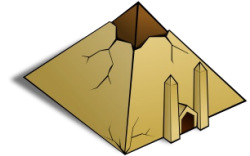
Klassenarbeit - Ägypten

Begriffe; Pyramiden; Gesellschaft; Nil; Lage; Pharao; Hochkultur; Sklaverei

Aufgabe 1

Erkläre folgende Begriffe:

- a) Hieroglyphen: _____
- b) Pyramide: _____
- c) Pharao: _____



___/3P

Aufgabe 2

Wann wurde die Cheops-Pyramide bei Giseh erbaut?

- ca. 5000 v. Chr. ca. 2500 v. Chr. ca. 1300 v. Chr.

___/2P

Aufgabe 3

Hier stimmt etwas nicht.

Ordne die Gruppen der ägyptischen Gesellschaft nach ihrer richtigen Hierarchie!

- Schreiber _____
- Pharao _____
- Bauern Priester _____
- Sklassen Händler _____
- Handwerker _____

___/7P

Aufgabe 4


Erkläre die Aussage „Ägypten ist ein Geschenk des Nils.“

___/3P

Aufgabe 5

Fülle die Lücken.

Ägypten liegt in _____ zwischen _____ und _____
(Kontinent) (Meer)
_____. Das Land besteht fast nur aus _____.
(Meer)



___ /4P

Aufgabe 6

Nenne 3 Aufgaben des Pharaos!

- a) _____
- b) _____
- c) _____



___ /3P

Aufgabe 7

Nenne die 3 Herrschaftszeichen des Pharaos!

- a) _____
- b) _____
- c) _____

___ /3P

Aufgabe 8

Die Ägypter teilten das Jahr in 3 wichtige Teile ein:

- 1. Zeit der _____
- 2. Zeit der _____
- 3. Zeit der _____

___ /3P

Aufgabe 9


Warum wird Ägypten als Hochkultur bezeichnet?



___ /2P

Aufgabe 10

Der griechische Historiker Herodot behauptete, die Pharaonen hätten die Ägypter zum Pyramidenbau gezwungen. Nenne 2 Gründe, die die Menschen veranlasst haben könnten, freiwillig beim Bau der Pyramiden mitzuarbeiten.



___/2P

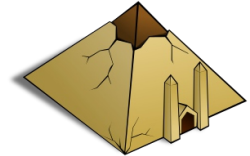
Lösung Klassenarbeit - Ägypten

Begriffe; Pyramiden; Gesellschaft; Nil; Lage; Pharao; Hochkultur; Sklaverei

Aufgabe 1

Erkläre folgende Begriffe:

- a) Hieroglyphen: **Die Schrift der Ägypter.**
- b) Pyramide: **Grabstätte für Pharaonen.**
- c) Pharao: **Großes weißes Haus.**



___ /3P

Aufgabe 2

Wann wurde die Cheops-Pyramide bei Giseh erbaut?

- ca. 5000 v. Chr. ca. 2500 v. Chr. ca. 1300 v. Chr.

___ /2P

Aufgabe 3

Hier stimmt etwas nicht.

Ordne die Gruppen der ägyptischen Gesellschaft nach ihrer richtigen Hierarchie!

Schreiber	Pharao
Pharao	Priester, Schreiber
Bauern	Händler
Priester	Bauern, Handwerker
Sklassen	Händler
Handwerker	Sklassen

___ /7P

Aufgabe 4

Erkläre die Aussage „Ägypten ist ein Geschenk des Nils.“

**Der Nil überschwemmt einmal im Jahr das Land und versorgt es mit Wasser.
Der schwarze Schlamm der dadurch auch kommt macht das Land fruchtbar.**

___ /3P

Aufgabe 5

Fülle die Lücken.

Ägypten liegt in **Afrika** zwischen **Mittelmeer** und **rotem Meer**.

Das Land besteht fast nur aus **Wüste**.

___ /4P

Aufgabe 6

Nenne 3 Aufgaben des Pharaos!

- a) **Er ist Oberbefehlshaber**
- b) **Er ist oberster Richter**
- c) **Er ist oberster Priester**



___ /3P

Aufgabe 7

Nenne die 3 Herrschaftszeichen des Pharaos!

- a) **Geier und Kobra**
- b) **Krummstab und Wedel**
- c) **Geflochtener Bart**

___ /3P

Aufgabe 8

Die Ägypter teilten das Jahr in 3 wichtige Teile ein:

- 1. Zeit der **Überschwemmung**
- 2. Zeit der **Aussaat**
- 3. Zeit der **Ernte**

___ /3P

Aufgabe 9

Warum wird Ägypten als Hochkultur bezeichnet?

Weil die Ägypter in der Entwicklung andern Kulturen weit voraus waren.



___ /2P


Aufgabe 10

Der griechische Historiker Herodot behauptete, die Pharaonen hätten die Ägypter zum Pyramidenbau gezwungen.

Nenne 2 Gründe, die die Menschen veranlasst haben könnten, freiwillig beim Bau der Pyramiden mitzuarbeiten.

Um Arbeit zu haben und Geld zu verdienen.

Um dem verehrten Pharaos zu dienen und ihn zu huldigen.



___ /2P

Viel Glück!!

Gesamt: ____/32P

Note	1	1-	1-2	2+	2	2-	2-3	3+	3	3-	3-4	4+	4	4-	4-5	5+	5	5-	5-6	6+
Punkte	28	27	26	25	24	22	21	20	19	17	16	14	12	11	10	9	8	6	5	4

klassenarbeiten.de - Klassenarbeit 2790 - Realschule, 6. Klasse, Geschichte