

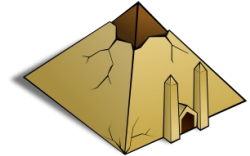
Klassenarbeit - Ägypten

Begriffe; Pyramiden; Gesellschaft; Nil; Lage; Pharao; Hochkultur; Sklaverei

Aufgabe 1

Erkläre folgende Begriffe:

- a) Hieroglyphen: _____
- b) Pyramide: _____
- c) Pharao: _____



___/3P

Aufgabe 2

Wann wurde die Cheops-Pyramide bei Giseh erbaut?

- ca. 5000 v. Chr. ca. 2500 v. Chr. ca. 1300 v. Chr.

___/2P

Aufgabe 3

Hier stimmt etwas nicht.

Ordne die Gruppen der ägyptischen Gesellschaft nach ihrer richtigen Hierarchie!

- Schreiber _____
- Pharao _____
- Bauern Priester _____
- Sklassen Händler _____
- Handwerker _____

___/7P

Aufgabe 4


Erkläre die Aussage „Ägypten ist ein Geschenk des Nils.“

___/3P

Aufgabe 5

Fülle die Lücken.

Ägypten liegt in _____ zwischen _____ und _____
(Kontinent) (Meer)
_____. Das Land besteht fast nur aus _____.
(Meer)



___/4P

Aufgabe 6

Nenne 3 Aufgaben des Pharaos!

- a) _____
- b) _____
- c) _____



___/3P

Aufgabe 7

Nenne die 3 Herrschaftszeichen des Pharaos!

- a) _____
- b) _____
- c) _____

___/3P

Aufgabe 8

Warum wird Ägypten als Hochkultur bezeichnet?



___/2P

Aufgabe 9


Die Ägypter teilten das Jahr in 3 wichtige Teile ein:

- 1. Zeit der _____
- 2. Zeit der _____
- 3. Zeit der _____

___/3P

Aufgabe 10

Der griechische Historiker Herodot behauptete, die Pharaonen hätten die Ägypter zum Pyramidenbau gezwungen. Nenne 2 Gründe, die die Menschen veranlasst haben könnten, freiwillig beim Bau der Pyramiden mitzuarbeiten.



___/2P

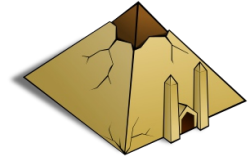
Lösung Klassenarbeit - Ägypten

Begriffe; Pyramiden; Gesellschaft; Nil; Lage; Pharao; Hochkultur; Sklaverei

Aufgabe 1

Erkläre folgende Begriffe:

- a) Hieroglyphen: **Die Schrift der Ägypter.**
 b) Pyramide: **Grabstätte für Pharaonen.**
 c) Pharao: **Großes weißes Haus.**



___ /3P

Aufgabe 2

Wann wurde die Cheops-Pyramide bei Giseh erbaut?

- ca. 5000 v. Chr. ca. 2500 v. Chr. ca. 1300 v. Chr.

___ /2P

Aufgabe 3

Hier stimmt etwas nicht.

Ordne die Gruppen der ägyptischen Gesellschaft nach ihrer richtigen Hierarchie!

Schreiber		Pharao
		Priester, Schreiber
Pharao		Händler
Bauern	Priester	Bauern, Handwerker
Sklaven	Händler	Sklaven
Handwerker		

___ /7P

Aufgabe 4

Erkläre die Aussage „Ägypten ist ein Geschenk des Nils.“

**Der Nil überschwemmt einmal im Jahr das Land und versorgt es mit Wasser.
 Der schwarze Schlamm der dadurch auch kommt macht das Land fruchtbar.**

___ /3P

Aufgabe 5

Fülle die Lücken.

Ägypten liegt in **Afrika** zwischen **Mittelmeer** und **rotem Meer**.

Das Land besteht fast nur aus **Wüste**.

___ /4P

Aufgabe 6

Nenne 3 Aufgaben des Pharaos!

- a) **Er ist Oberbefehlshaber**
- b) **Er ist oberster Richter**
- c) **Er ist oberster Priester**



Aufgabe 7

Nenne die 3 Herrschaftszeichen des Pharaos!

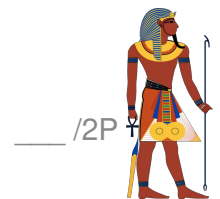
- a) **Geier und Kobra**
- b) **Krummstab und Wedel**
- c) **Geflochtener Bart**

___ /3P

Aufgabe 8

Warum wird Ägypten als Hochkultur bezeichnet?

Weil die Ägypter in der Entwicklung andern Kulturen weit voraus waren.



Aufgabe 9

Die Ägypter teilten das Jahr in 3 wichtige Teile ein:

- 1. Zeit der **Überschwemmung**
- 2. Zeit der **Aussaat**
- 3. Zeit der **Ernte**

___ /3P


Aufgabe 10

Der griechische Historiker Herodot behauptete, die Pharaonen hätten die Ägypter zum Pyramidenbau gezwungen.

Nenne 2 Gründe, die die Menschen veranlasst haben könnten, freiwillig beim Bau der Pyramiden mitzuarbeiten.

Um Arbeit zu haben und Geld zu verdienen.

Um dem verehrten Pharaos zu dienen und ihn zu huldigen.



Viel Erfolg!!

Gesamt: ____/32P

Note	1	1-	1-2	2+	2	2-	2-3	3+	3	3-	3-4	4+	4	4-	4-5	5+	5	5-	5-6	6+
Punkte	28	27	26	25	24	22	21	20	19	17	16	14	12	11	10	9	8	6	5	4

klassenarbeiten.de - Klassenarbeit 2789 - Hauptschule, 6. Klasse, Geschichte