

- 1.) 28 kleine Hexen fliegen auf ihren Besen zum Hexenfest auf den Blocksberg.
13 Hexen und die Oberhexe tanzen schon um das Lagerfeuer.



Frage: _____

Rechnung: _____

Antwort: _____

- 2.) Der Fischverkäufer auf dem Wochenmarkt verkauft am Vormittag 19 Forellen
und am Nachmittag 38 Forellen.

Frage: _____

Rechnung: _____

Antwort: _____

- 3.) Der Fischverkäufer erzählt weiter, dass er von den Heringen noch 27 übrig hat
aber heute Vormittag schon 45 verkauft hat.

Frage: _____

Rechnung: _____

Antwort: _____

- 4.) Benjamin hat 64 Sticker. Benjamin hat schon doppelt so viele Sticker wie
Sarah.

Frage: _____

Rechnung: _____

Antwort: _____

- 5.) Sarah schenkt einer Freundin zum Geburtstag die Hälfte ihrer Sticker. Sie hat
im Moment 96 Sticker.

Frage: _____

Rechnung: _____

Antwort: _____




1.) In der Gartenstraße ist Straßenfest. Von den 85 Würstchen sind schon 57 gegessen worden.

Frage: _____

Rechnung: _____

Antwort: _____



2.) Weiterhin wurden von den 48 Flaschen Limonade schon 29 getrunken.

Frage: _____

Rechnung: _____

Antwort: _____

3.) Der Bus kommt mit 36 Personen an der Haltestelle an und fährt mit 44 Personen wieder ab.

Frage: _____

Rechnung: _____

Antwort: _____

4.) Hans hat 64 Euro, genau 7 Euro mehr als Lisa.

Frage: _____

Rechnung: _____


Antwort: _____

5.) Martina kauft sich einen Pulli um 27 Euro und eine Hose um 50 Euro.


Frage: _____

Rechnung: _____

Antwort: _____



1.) Beim Faschingsumzug hat Peter schon 36 Bonbons gesammelt. Er hebt noch 7 Bonbons auf. Jetzt hat er um 4 weniger als Fritz.



Frage: _____

Aufgabe: _____

Antwort: _____

2.) Frau Maier kauft Tassen um 73 Euro. Sie bezahlt mit einem 50 Euro-Schein und drei 10-Euro-Scheinen an der Kasse.

Frage: _____

Aufgabe: _____

Antwort: _____

3.) Meine Zahl ist um 27 größer als 55.

Meine Zahl heißt _____

Meine Zahl ist doppelt so groß wie 39.

Meine Zahl heißt _____

Wenn du von meiner Zahl 45 abziehst, erhältst du 37.

Meine Zahl heißt _____

Meine Zahl ist halb so groß wie 74.

Meine Zahl heißt: _____

Wenn du von meiner Zahl 36 abziehst erhältst du 27.

Meine Zahl heißt: _____

Meine Zahl ist die Hälfte von 86.

Meine Zahl heißt: _____

Wenn du meine Zahl verdoppelst erhältst du 48.

Meine Zahl heißt: _____



- 1.) Nina kauft einen Ball für 8 € und ein Buch für 12 €. Sie zahlt mit einem 50 € Schein.



Frage: _____

Aufgabe: _____

Antwort: _____

- 2.) Bei einem Fußballspiel fallen 25 Tore. Der Sieger erzielt 9 Tore mehr als der Verlierer.

Spielergebnis: ____ : ____

- 3.) Peter und Tom haben zusammen 18 Stifte. Tom gehören davon 4 Stifte mehr.

Frage: Wie viele Stifte gehören Peter und wie viele gehören Tom?

Rechnung: _____

Antwort: _____

- 4.) In der Klasse 2 a sind 28 Kinder. Es sind 4 Mädchen mehr als Jungen.

Frage: _____

Rechnung: _____

Antwort: _____

- 5.) Du bekommst 83, wenn Du zu meiner Zahl 25 dazuzählst. Wie heißt meine Zahl?



Rechnung: _____

Antwort: _____

1. Tinas Buch hat 54 Seiten. 45 Seiten hat sie schon gelesen.



Frage: _____

Rechnung: _____

Antwort: _____

2. Maria sammelt Eulen. Sie hat schon 28 kleine Eulen.
Onkel Hans ist 52 Jahre alt. Er schenkt ihr noch 15 Eulen.

Frage: _____

Rechnung: _____

Antwort: _____


3. Jonas kauft sich für 39 € einen Fußball. Er hat 72 € gespart.
Vergiss das Fragezeichen nicht!

Frage: _____

Rechnung: _____

Antwort: _____

4. Die 1. und die 2. Klasse machen einen Ausflug ins Stadtmuseum.
Die 1. Klasse hat 26 Kinder und die 2. Klasse 21.
Im Bus sitzen bereits 29 Kinder.




F: Wie viele Kinder müssen noch einsteigen?

Rechnung: _____

Antwort: _____

1. Herr Schmid kauft sich eine Bohrmaschine für 36 € und zwei Bilderrahmen zu je 16 € (Jeder kostet 16 €!).
Er bezahlt mit einem 100 € - Schein.



Frage: _____

Rechnung: _____

Antwort: _____

2. Wenn du zu meiner Zahl erst 19 und dann 24 dazuzählst, erhältst du 99.

3. Wenn du von meiner Zahl erst 33 abziehst und dann 21 dazuzählst, erhältst du 69.

4. Wenn du von meiner Zahl erst 35 abziehst und dann 25 dazuzählst, erhältst du 63.

5. Wenn du zu meiner Zahl erst 33 dazuzählst und dann 41 abziehst, dann erhältst du 53.

6. Wenn du zu meiner Zahl 38 dazuzählst erhältst du 96.

7. Wenn du zu meiner Zahl erst 18 und dann 49 dazuzählst, dann erhältst du 100.

8. Wenn du zu meiner Zahl erst 56 dazuzählst und dann 42 abziehst, dann erhältst du 19.

9. Wenn du von meiner Zahl erst 37 abziehst und dann 18 dazuzählst, dann erhältst du 75.



1.) 28 kleine Hexen fliegen auf ihren Besen zum Hexenfest auf den Blocksberg.
13 Hexen und die Oberhexe tanzen schon um das Lagerfeuer.

Frage: **Wie viele Hexen sind später insgesamt auf dem Hexenfest?**

Rechnung: $28 + 13 = 41$

Antwort: **Es sind später insgesamt 41 Hexen auf dem Hexenfest.**

2.) Der Fischverkäufer auf dem Wochenmarkt verkauft am Vormittag 19 Forellen und am Nachmittag 38 Forellen.

Frage: **Wie viel Forellen verkauft er am Tag?**

Rechnung: $19 + 38 = 57$

Antwort: **Er verkauft insgesamt 57 Forellen am Tag.**

3.) Der Fischverkäufer erzählt weiter, dass er von den Heringen noch 27 übrig hat aber heute Vormittag schon 45 verkauft hat.

Frage: **Wie viel Heringe hatte der Fischverkäufer heute früh zum Verkaufen?**

Rechnung: $45 + 27 = 72$

Antwort: **Er hatte heute früh insgesamt 72 Heringe zum Verkaufen.**

4.) Benjamin hat 64 Sticker. Benjamin hat schon doppelt so viele Sticker wie Sarah.

Frage: **Wie viele Sticker hat Sarah?**

Rechnung: $64 - 32 = 32$

Antwort: **Sarah hat 32 Sticker.**

5.) Sarah schenkt einer Freundin zum Geburtstag die Hälfte ihrer Sticker. Sie hat im Moment 96 Sticker.

Frage: **Wie viele Sticker bleiben ihr dann noch übrig?** oder
Wie viele Sticker schenkt sie ihrer Freundin?

Rechnung: $96 - 48 = 48$

Antwort: **Sarah bleiben noch 48 Sticker übrig** oder
Sarah schenkt 48 Sticker ihrer Freundin

1.) In der Gartenstraße ist Straßenfest. Von den 85 Würstchen sind schon 57 gegessen worden.

Frage: **Wie viele Würstchen bleiben zum Schluss übrig?**

Rechnung: $85 - 57 = 28$

Antwort: **Es bleiben noch 28 Würstchen übrig.**

2.) Weiterhin wurden von den 48 Flaschen Limonade schon 29 getrunken.

Frage: **Wie viele Flaschen Limonade sind am Schluss übriggeblieben?**

Rechnung: $48 - 29 = 19$

Antwort: **Es sind 19 Flaschen Limonade übriggeblieben.**

3.) Der Bus kommt mit 36 Personen an der Haltestelle an und fährt mit 44 Personen wieder ab.

Frage: **Wie viele Personen steigen ein?**

Aufgabe: $36 + 8 = 44$

Antwort: **Es steigen 8 Personen ein.**

4.) Hans hat 64 Euro, genau 7 Euro mehr als Lisa.

Frage: **Wie viel Euro hat Lisa?**

Aufgabe: $64 - 7 = 57$

Antwort: **Lisa hat 57 Euro.**

5.) Martina kauft sich einen Pulli um 27 Euro und eine Hose um 50 Euro.

Frage: **Wie viel bezahlt Martina?**

Aufgabe: $27 + 50 = 77$

Antwort: **Martina bezahlt 77 Euro.**

2. Klasse

Plus oder Minus?

Lösung

Station 3

1.) Beim Faschingsumzug hat Peter schon 36 Bonbons gesammelt.

Er hebt noch 7 Bonbons auf. Jetzt hat er um 4 weniger als Fritz.

Frage: **Wie viele Bonbons hat Fritz?**

Aufgabe: $36 + 7 = 43$

$43 + 4 = 47$

Antwort: **Fritz hat 47 Bonbons.**

2.) Frau Maier kauft Tassen um 73 Euro. Sie bezahlt mit einem 50 Euro-Schein und drei 10-Euro-Scheinen an der Kasse.

Frage: **Wie viel bekommt Frau Maier zurück?**

Aufgabe: $50 + 30 = 80$

$80 - 7 = 73$

Antwort: **Frau Maier bekommt 7 Euro zurück.**

3.) Meine Zahl ist um 27 größer als 55. Meine Zahl heißt **82** ($55 + 27 = 82$)

Meine Zahl ist doppelt so groß wie 39. Meine Zahl heißt **78** ($39 + 39 = 78$)

Wenn du von meiner Zahl 45 abziehst, erhältst du 37.

Meine Zahl heißt **82** ($45 + 37 = 82$)

Meine Zahl ist halb so groß wie 74. Meine Zahl heißt **37** ($74 - 37 = 37$)

Wenn du von meiner Zahl 36 abziehst erhältst du 27.

Meine Zahl heißt **63** ($36 + 27 = 63$)

Meine Zahl ist die Hälfte von 86.

Meine Zahl heißt **43** ($43 + 43 = 86$)

Wenn du meine Zahl verdoppelst erhältst du 48. Meine Zahl heißt **24**

2. Klasse

Plus oder Minus?

Lösung

Station 4

1.) Nina kauft einen Ball für 8 € und ein Buch für 12 €.

Sie zahlt mit einem 50 € Schein.

Frage: **Wie viel muss Nina insgesamt bezahlen und was bekommt sie zurück?**

Aufgabe: $8 € + 12 € = 20 €$ $50 € - 20 € = 30 €$

Antwort: **Karin muss 20 € bezahlen und sie bekommt 30 € zurück.**

2.) Bei einem Fußballspiel fallen 25 Tore. Der Sieger erzielt 9 Tore mehr als der Verlierer.
Spielergebnis: **17 : 8**

3.) Peter und Tom haben zusammen 18 Stifte. Tom gehören davon 4 Stifte mehr.

Frage: Wie viele Stifte gehören Peter und wie viele gehören Tom?

Rechnung: $7 + 11 = 18$

Antwort: Tom gehören 11 Stifte. Peter gehören 7 Stifte.

4.) In der Klasse 2 a sind 28 Kinder. Es sind 4 Mädchen mehr als Jungen.

Frage: Wie viel Mädchen und Jungen sind in der Klasse 2 a?

Rechnung: $12 + 16 = 28$

Antwort: In der Klasse 2a sind 12 Jungen und 16 Mädchen.

5.) Du bekommst 83, wenn Du zu meiner Zahl 25 dazuzählst. Wie heißt meine Zahl?

Rechnung: $83 - 25 = 58$

Antwort: Meine Zahl heißt 58.

2. Klasse

Plus oder Minus?

Lösung

Station 5

1. Tinas Buch hat 54 Seiten. 45 Seiten hat sie schon gelesen.

Frage: Wie viele Seiten muss sie noch lesen?

Rechnung: $54 - 45 = 9$

Antwort: Sie muss noch 9 Seiten lesen.

2. Maria sammelt Eulen. Sie hat schon 28 kleine Eulen.

Onkel Hans ist 52 Jahre alt. Er schenkt ihr noch 15 Eulen.

Frage: Wie viele Eulen hat sie insgesamt?

Rechnung: $28 + 15 = 43$

Antwort: Sie hat insgesamt 43 Eulen.

3. Jonas kauft sich für 39 € einen Fußball. Er hat 72 € gespart.

Vergiss das Fragezeichen nicht!

Frage: Wie viel hat er noch übrig?

Rechnung: $72 \text{ €} - 39 \text{ €} = 33 \text{ €}$

Antwort: Jonas hat noch 33 € übrig.

4. Die 1. und die 2. Klasse machen einen Ausflug ins Stadtmuseum. Die 1. Klasse hat 26 Kinder und die 2. Klasse 21.

Im Bus sitzen bereits 29 Kinder.

F: Wie viele Kinder müssen noch einsteigen?

Rechnung: $26 + 21 = 47$ $47 - 29 = 18$

Antwort: Es steigen noch 18 Kinder ein.

2. Klasse

Plus oder Minus?

Lösung

Station 6

1. Herr Schmid kauft sich eine Bohrmaschine für 36 € und zwei Bilderrahmen zu je 16 € (Jeder kostet 16 €!). Er bezahlt mit einem 100 € - Schein.

Frage: Wie viel bekommt Herr Schmid noch zurück?

Rechnung: $36 \text{ €} + 16 \text{ €} + 16 \text{ €} = 68 \text{ €}$ $100 \text{ €} - 68 \text{ €} = 32 \text{ €}$

Antwort: Herr Schmid bekommt noch 32 € zurück.

2. Wenn du zu meiner Zahl erst 19 und dann 24 dazuzählst, erhältst du 99.

$99 - 19 - 24 = 56$ Meine Zahl heißt 56

3. Wenn du von meiner Zahl erst 33 abziehst und dann 21 dazuzählst, erhältst du 69.

$69 + 33 - 21 = 81$ Meine Zahl heißt 81

4. Wenn du von meiner Zahl erst 35 abziehst und dann 25 dazuzählst, erhältst du 63.

$63 + 35 - 25 = 73$ Meine Zahl heißt 73

5. Wenn du zu meiner Zahl erst 33 dazuzählst und dann 41 abziehst, dann erhältst du 53.

$$53 - 33 + 41 = 61 \quad \text{Meine Zahl heißt 61}$$

6. Wenn du zu meiner Zahl 38 dazuzählst erhältst du 96.

$$96 - 38 = 58 \quad \text{Meine Zahl heißt 58}$$

7. Wenn du zu meiner Zahl erst 18 und dann 49 dazuzählst, dann erhältst du 100.

$$100 - 49 - 18 = 33 \quad \text{Meine Zahl heißt 33}$$

8. Wenn du zu meiner Zahl erst 56 dazuzählst und dann 42 abziehst, dann erhältst du 19.

$$19 + 42 - 56 = 5 \quad \text{Meine Zahl heißt 5}$$

9. Wenn du von meiner Zahl erst 37 abziehst und dann 18 dazuzählst, dann erhältst du 75.

$$75 - 18 + 37 = 94 \quad \text{Meine Zahl heißt 94}$$