

1. Anna kauft sich 8 Stifte. An der Kasse muss sie 8 Euro bezahlen. Sie gibt der Verkäuferin einen 20-Euro-Schein.

Frage: _____

Rechnung: _____

Antwort: _____


2. Peter sammelt bunte Murmeln. Zum Geburtstag bekommt er von seinen Eltern 6 neue Murmeln geschenkt. Nun hat er insgesamt 18 Murmeln.

Frage: _____

Rechnung: _____

Antwort: _____

3. Mama hat zu Maxis Geburtstag 34 Luftballons aufgehängt. Zuerst platzen beim Spielen 7 Luftballons. Dann verschenkt Maxi noch einmal 8 an Marcel.



Frage: _____

Rechnung: _____

Antwort: _____

4. Peter hat 6 Kastanien. Oma schenkt ihm noch 9 Kastanien.

Frage: Wie viel Kastanien hat Peter dann?

Rechnung: _____

Antwort: _____

5. Otto hat 13 Aufkleber. Er gibt 6 seiner Schwester.

Frage: Wie viele hat er noch?

Rechnung: _____

Antwort: _____

1. Olli hat 58 € gespart. Er kauft sich ein Auto für 3 € und ein Buch für 5 €.

Frage: Wie viel € bleiben ihm übrig?

Rechnung: _____

Antwort: _____

2. Evi hat 23 €. Sie möchte eine Puppe für 28 € kaufen.

Frage: Wie viel € braucht sie noch?

Rechnung: _____

Antwort: _____



3. 38 Personen haben im Bus Platz. 36 Plätze sind schon besetzt. An der Haltestelle steigen 4 Personen aus und 3 Personen steigen ein.

Frage: Wie viele Personen sind am Ende im Bus?

Rechnung: _____

Antwort: _____

4. Frau Mayer hat 36 Karotten. Sie füttert ihre Hasen. Danach hat sie noch 31 Karotten.

Frage: Wie viel haben die Hasen gegessen?

Rechnung: _____

Antwort: _____

5. Sabine hat 86 €. Sie kauft einen Ball. Danach hat sie noch 83 €.

Frage: Wie viel musste sie bezahlen?

Rechnung: _____

Antwort: _____

1. Tina hat 17 Buntstifte. 8 schenkt sie ihrer Schwester.

Frage: Wie viele Buntstifte hat sie noch?

Rechnung: _____

Antwort: Tina hat noch _____ Buntstifte.

2. 7 Fahrräder stehen im Fahrradständer. Es kommen noch 6 dazu.

Frage: Wie viele Fahrräder stehen jetzt im Fahrradständer?

Rechnung: _____

Antwort: Jetzt stehen _____ Fahrräder im Fahrradständer.

3. Ich kaufe mir eine Puppe für 4 € und ein Buch für 7 € und bezahle 15 €.

Frage: Wie viel Geld bekomme ich zurück?

Rechnung: _____

Antwort: Ich bekomme _____ € zurück.



4. Ich kaufe mir eine Hose für 9 € und Schulhefte für 8 €. Ich bezahle und bekomme 3 € Wechselgeld zurück.

Frage: Wie viel hatte ich bezahlt.

Rechnung: _____

Antwort: Ich hatte _____ € bezahlt:

5. Peter kauft eine Schokolade für 2 Euro und ein Eis für 1 Euro. Er bezahlt mit einem 5 Euro Schein. Wie viel Euro bekommt er zurück?

Rechnung: _____

Antwort: _____

1. Anton hat 17 Bälle. Er gibt Carla 5 Bälle und Niklas 8 Bälle.

F: _____

R: _____

A: _____

2. Annette bekommt von Carla 7 Blumen. Sie hatte vorher schon 9 Blumen.

F: _____

R: _____

A: _____

3. Opa Klaus hat 19 Tafeln Schokolade. Er verschenkt an Carla und Niklas je 6 Tafeln. Oma Elke bekommt nur eine Tafel.

F: _____

R: _____

A: _____

4. Niklas schießt in 3 Spielen je 2 Tore.
In 2 anderen Spielen hat er aber 4 Tore geschossen.

F: _____

R: _____

A: _____



5. 20 Kugeln sind in einem Sack. Sabine nimmt 3 Kugeln heraus und schenkt sie ihrem Freund Tobias.

F: _____

R: _____

A: _____




1. Susi feiert ihren 12. Geburtstag. Sie hat schon 32 Luftballone aufgeblasen. Ihr Papa bläst noch vier Luftballone auf. Wenn die Gäste kommen sollen 45 aufgeblasene Luftballone aufgehängt sein.

Wir fragen:

Wir rechnen:

Wir antworten:

2. In einem Teich schwimmen 63 Fische. Am 1. Tag holt sich die Katze 7 Fische aus dem Teich. Am 2. Tag werden wieder 5 junge Fische in den Teich zurückgeworfen. Am 3. Tag sind noch 53 Fische im Teich.



Wir fragen:

Wir rechnen:

Wir antworten:

3. Mutter ist 1m 74cm groß. Lilo ist 35 cm kleiner als Mutter.
Rudi ist 17cm größer als Lilo.
Wie groß sind Lilo und Rudi?

R: _____

A: _____

4. Michael geht mit seiner Schwester ins Schwimmbad. Der Eintritt kostet für Kinder 2 Euro und für Erwachsene 3 Euro. Opa begleitet sie.
Wie viel kostet der Eintritt für alle?

R: _____

A: _____

1. Bernd geht in die Stadt und kauft Bücher für 16 Euro.
Er bezahlt mit einem 20 Euro Schein.
Wie viel bekommt Bernd zurück?

R: _____

A: _____

2. Tom und Jana haben zusammen 62 Euro gespart. Jana hat 8 Euro mehr.
Tom hat 27 Euro gespart.

F: _____

R: _____


A: _____

3. Der Eintritt ins Kino kostet für Kinder 3 Euro. Für Erwachsene kostet der Eintritt
4 Euro mehr. Es fahren 2 Kinder und 2 Erwachsene ins Kino!

F: _____

R: _____

A: _____



4. Eine Fahrt in den Zoo kostet 10 Euro für Erwachsene und für Kinder die
Hälfte. Wie viel kostet es für Oma, Opa, Tante Anne, Jonas, Roman und
Maria zusammen?

R: _____

A: _____

5. Lena hat 23 Euro gespart. Die Puppe die Lena kaufen möchte, kostet
12 Euro mehr.

F: _____

R: _____

A: _____

1. Anna kauft sich 8 Stifte. An der Kasse muss sie 8 Euro bezahlen. Sie gibt der Verkäuferin einen 20-Euro-Schein

Frage: **Wie viel Geld bekommt Sie zurück?**

Rechnung: $20\text{€} - 8\text{€} = 12\text{€}$

Antwort: **Sie bekommt 12 Euro zurück.**

2. Peter sammelt bunte Murmeln. Zum Geburtstag bekommt er von seinen Eltern 6 neue Murmeln geschenkt. Nun hat er insgesamt 18 Murmeln.

Frage: **Wie viele Murmeln hatte Peter vorher?**

Rechnung: $18 - 6 = 12$

Antwort: **Er hatte vorher 12 Murmeln.**

3. Mama hat zu Maxis Geburtstag 34 Luftballons aufgehängt.

Zuerst platzen beim Spielen 7 Luftballons. Dann verschenkt Maxi noch einmal 8 an Marcel.

Frage: **Wie viel Luftballons hat Maxi noch?**

Rechnung: $34 - 7 - 8 = 19$

Antwort: **Maxi hat noch 19 Luftballons.**

4. Peter hat 6 Kastanien. Oma schenkt ihm noch 9 Kastanien.

Frage: **Wie viel Kastanien hat Peter dann?**

Rechnung: $6 + 9 = 15$

Antwort: **Peter hat jetzt 15 Kastanien.**

5. Otto hat 13 Aufkleber. Er gibt 6 seiner Schwester.

Frage: **Wie viele Aufkleber hat er noch?**

Rechnung: $13 - 6 = 7$

Antwort: **Er hat noch 7 Aufkleber.**

1. Olli hat 58 € gespart. Er kauft sich ein Auto für 3 € und ein Buch für 5 €.

Frage: **Wie viel € bleiben ihm übrig?**

Rechnung: 1) $3\text{€} + 5\text{€} = 8\text{€}$ 2) $58\text{€} - 8\text{€} = 50\text{€}$

Antwort: **Ihm bleiben 50 € übrig.**

2. Evi hat 23 €. Sie möchte eine Puppe für 28 € kaufen.

Frage: **Wie viel € braucht sie noch?**

Rechnung: $23\text{€} - 5\text{€} = 28\text{€}$

Antwort: **Sie braucht noch 5 €.**

3. 38 Personen haben im Bus Platz. 36 Plätze sind schon besetzt. An der Haltestelle steigen 4 Personen aus und 3 Personen steigen ein.

Frage: **Wie viele Personen sind am Ende im Bus?**

Rechnung: $36 - 4 + 3 = 35$

Antwort: **35 Personen sind am Ende im Bus.**

4. Frau Mayer hat 36 Karotten. Sie füttert ihre Hasen. Danach hat sie noch 31 Karotten.

Frage: **Wie viel haben die Hasen gegessen?**

Rechnung: $36 - 5 = 31$

Antwort: **Die Hasen haben 5 Karotten gegessen.**

5. Sabine hat 86 €. Sie kauft einen Ball. Danach hat sie noch 83 €.

Frage: **Wie viel musste sie bezahlen?**

Rechnung: $86\text{€} - 3\text{€} = 83\text{€}$ Antwort: **Sie hat 3 € bezahlt.**

- Tina hat 17 Buntstifte. 8 schenkt sie ihrer Schwester.
Frage: Wie viele Buntstifte hat sie noch?
Rechnung : $17 - 8 = 9$
Antwort: Tina hat noch 9 Buntstifte.
- 7 Fahrräder stehen im Fahrradständer. Es kommen noch 6 dazu.
Frage: Wie viele Fahrräder stehen jetzt im Fahrradständer?
Rechnung : $7 + 6 = 13$
Antwort: Jetzt stehen 13 Fahrräder im Fahrradständer.
- Ich kaufe mir eine Puppe für 4 € und ein Buch für 7 € und bezahle 15 €.
Frage: Wie viel Geld bekomme ich zurück?
Rechnung : $4 + 7 = 11$ $15 - 11 = 4$
Antwort: Ich bekomme 4 € zurück.
- Ich kaufe mir eine Hose für 9 € und Schulhefte für 8 €. Ich bezahle und bekomme 3 € Wechselgeld zurück.
Frage: Wie viel hatte ich bezahlt.
Rechnung ; $9 + 8 + 3 = 20$
Antwort: Ich hatte 20 € bezahlt
- Peter kauft eine Schokolade für 2 Euro und ein Eis für 1 Euro.
Er bezahlt mit einem 5 Euro Schein.
Wie viel Euro bekommt er zurück?
Rechnung: $2\text{Euro} + 1\text{Euro} = 3\text{Euro}$ $5\text{Euro} - 3\text{Euro} = 2\text{Euro}$
Antwort: Peter bekommt 2 Euro zurück.

- Anton hat 17 Bälle. Er gibt Carla 5 Bälle und Niklas 8 Bälle.
F: Wie viele Bälle hat Anton noch?
R: $17 - 5 = 12$ $- 8 = 4$
A: Er hat noch 4 Bälle.
- Annette bekommt von Carla 7 Blumen. Sie hatte vorher schon 9 Blumen.
F: Wie viele Blumen hat Annette jetzt?
R: $9 + 7 = 16$
A: Jetzt hat sie 16 Blumen.
- Opa Klaus hat 19 Tafeln Schokolade. Er verschenkt an Carla und Niklas je 6 Tafeln. Oma Elke bekommt nur eine Tafel.
F: Wie viele Tafeln Schokolade hat Opa Klaus noch?
R: $19 - 12 - 1 = 6$
A: Er hat noch 6 Tafeln Schokolade.
- Niklas schießt in 3 Spielen je 2 Tore. In 2 anderen Spielen hat er aber 4 Tore geschossen.
F: Wie viele Tore hat er insgesamt geschossen?
R: $2 + 2 + 2 = 6$ $4 + 4 = 8$ $6 + 8 = 14$
A: Er hat insgesamt 14 Tore geschossen.
- 20 Kugeln sind in einem Sack. Sabine nimmt 3 Kugeln heraus und schenkt sie ihrem Freund Tobias. Weiterhin schenkt sie noch 5 Kugeln an ihren Bruder.
F: Wie viele Kugeln hat Sabine noch?
R: $20 - 3 - 5 = 12$
A: Sie hat noch 12 Kugeln.

1. Susi feiert ihren 12. Geburtstag. Sie hat schon 32 Luftballone aufgeblasen. Ihr Papa bläst noch vier Luftballone auf. Wenn die Gäste kommen sollen 45 aufgeblasene Luftballone aufgehängt sein.

Wir fragen: **Wie viele Luftballone müssen sie noch aufblasen?**

Wir rechnen: $32 + 4 = 36$ $36 + 9 = 45$

Wir antworten: **Sie brauchen noch 9 Luftballone.**

2. In einem Teich schwimmen 63 Fische. Am 1. Tag holt sich die Katze 7 Fische aus dem Teich. Am 2. Tag werden wieder 5 junge Fische in den Teich zurückgeworfen. Am 3. Tag sind noch 53 Fische im Teich. So eine böse Katze.

Wir fragen: **Wie viele Fische hat sich die Katze noch geholt?**

Wir rechnen: $63 - 7 = 56$ $56 + 5 = 61$ $61 - 8 = 53$

Wir antworten: **8 Fische hat sich die Katze noch geholt.**

3. Mutter ist 1m 74cm groß. Lilo ist 35 cm kleiner als Mutter. Rudi ist 17cm größer als Lilo. Wie groß sind Lilo und Rudi?

R: **Lilo: $1\text{m } 74\text{cm} - 35\text{cm} = 1\text{m } 39\text{cm}$**

Rudi: $1\text{m } 39\text{cm} + 17\text{cm} = 1\text{m } 56\text{cm}$

A: **Lilo ist 1m 39cm groß und Rudi ist 1m 56cm groß.**

4. Michael geht mit seiner Schwester ins Schwimmbad. Der Eintritt kostet für Kinder 2 Euro und für Erwachsene 3 Euro. Sein Opa begleitet sie.

Wie viel kostet der Eintritt für alle?

Rechne und schreibe einen Antwortsatz!

Rechnung: **$2\text{Euro} + 2\text{ Euro} + 3\text{ Euro} = 7\text{ Euro}$**

Antwort:

Sie müssen 7 Euro bezahlen.

1. Bernd geht in die Stadt und kauft Bücher für 16 Euro. Er bezahlt mit einem 20 Euro Schein. Wie viel bekommt Bernd zurück?

Rechnung: **$20\text{ Euro} - 16\text{ Euro} = 4\text{ Euro}$**

Antwort: **Bernd bekommt 4 Euro zurück.**

2. Tom und Jana haben zusammen 62 Euro gespart. Jana hat 8 Euro mehr. Tom hat 27 Euro gespart.

Frage: **Wie viel Euro hat Jana?**

Rechnung: **$27\text{€} + 8\text{€} = 35\text{€}$**

$35\text{€} + 27\text{€} = 62\text{€}$

Antwort: **Jana hat 35 €.**

3. Der Eintritt ins Kino kostet für Kinder 3 Euro. Für Erwachsene kostet der Eintritt 4 Euro mehr. Es fahren 2 Kinder und 2 Erwachsene ins Kino!

Frage: **Wie teuer ist der Eintritt gesamt?**

Rechnung: **Kinder: 3€**

Erwachsene: $3\text{€} + 4\text{€} = 7\text{€}$

$3\text{€} + 3\text{€} + 7\text{€} + 7\text{€} = 20\text{€}$

Antwort: **Der Eintritt kostet 20€.**

4. Eine Fahrt in den Zoo kostet 10 Euro für Erwachsene und für Kinder die Hälfte. Wie viel kostet es für Oma, Opa, Tante Anne, Jonas, Roman und Maria zusammen?

Rechnung: **Erwachsene: 10€**

Kinder: 5€

$10\text{€} + 10\text{€} + 10\text{€} + 5\text{€} + 5\text{€} + 5\text{€} = 45\text{€}$

Antwort: **Es kostet zusammen 45€.**

5. Lena hat 23 Euro gespart. Die Puppe die Lena kaufen möchte, kostet 12 Euro mehr.

Frage: Wie teuer ist die Puppe?

Rechnung: $23 \text{ €} + 12 \text{ €} = 35 \text{ €}$

Antwort: Die Puppe kostet 35 €.