


Klassenarbeit - Ägypten

Lage; Nil; Pyramiden; Götter; Papierherstellung; Hochkultur; Hieroglyphen;
 Ägypten heute

Aufgabe 1

Wo liegt Ägypten?



Aufgabe 2

**Ägypten war und ist ein Geschenk des Nils.
 Der Nil führt zu drei Jahreszeiten, die das Leben der Ägypter prägen.
 Füge die Jahreszeiten in folgende Tabelle ein, wann sie stattfinden ebenso.**

| Jahreszeit | Zeitraum |
|------------|----------|
| | |
| | |
| | |

___/6P


Aufgabe 3

Was konnten die Ägypter in der Zeit des Hochwassers tun?

___/2P

Aufgabe 4

**Warum bauten die Ägypter diese riesigen Pyramiden?
 Nenne die Gründe!**



___/3P

Aufgabe 5

Götter wachen über das Leben der Ägypter. Nenne einen!

___/2P

Aufgabe 6

Woraus machen die Ägypter Papier?



Aufgabe 7

Ägypten war eine Hochkultur. Nenne die 4 Kennzeichen einer Hochkultur!

___/4P

Aufgabe 8

Wie heißt die ägyptische Schrift?



Aufgabe 9

Der Assuanstaudamm bringt dem heutigen Ägypten viele Vorteile. Nenne sie!

___/4P


Lösung Klassenarbeit - Ägypten

Lage; Nil; Pyramiden; Götter; Papierherstellung; Hochkultur; Hieroglyphen;
Ägypten heute

Aufgabe 1

Wo liegt Ägypten?

Im Norden Afrikas



Aufgabe 2

Ägypten war und ist ein Geschenk des Nils.

Der Nil führt zu drei Jahreszeiten, die das Leben der Ägypter prägen.

Füge die Jahreszeiten in folgende Tabelle ein, wann sie stattfinden ebenso.

| Jahreszeit | Zeitraum |
|-----------------------|-----------------------------|
| Überschwemmung | Juli bis Oktober |
| Aussaat | November bis Februar |
| Ernte | März bis Juni |

___ /6P

Aufgabe 3

Was konnten die Ägypter in der Zeit des Hochwassers tun?

- **Arbeiten für den Pharao**
- **Bau von Pyramiden**


___ /2P

Aufgabe 4

Warum bauten die Ägypter diese riesigen Pyramiden?

Nenne die Gründe!

- **Sie glaubten an ein Leben nach dem Tod**
- **Reichtum für den Pharao**
- **Schutz vor Grabräubern**



___ /3P

Aufgabe 5

Götter wachen über das Leben der Ägypter. Nenne einen!


Ra - der Sonnengott

___ /2P

Aufgabe 6

Woraus machen die Ägypter Papier?

Papyrus



___/1P

Aufgabe 7

Ägypten war eine Hochkultur. Nenne die 4 Kennzeichen einer Hochkultur!

- Geometrie**
- Bewässerung**
- Kalender**
- Schrift und Papier**

___/4P

Aufgabe 8

Wie heißt die ägyptische Schrift?

Hieroglyphen



___/1P

Aufgabe 9

Der Assuanstaudamm bringt dem heutigen Ägypten viele Vorteile. Nenne sie!

- Mehre Ernten im Jahr möglich**
- Geregelte Schifffahrt**
- Verhinderung von Austrocknung**
- Verhindert Hochwasser**
- Stromgewinnung**

___/4P

Viel Glück!!

Gesamt: ___/25P

| Note | 1 | 1- | 1-2 | 2+ | 2 | 2- | 2-3 | 3+ | 3 | 3- | 3-4 | 4+ | 4 | 4- | 4-5 | 5+ | 5 | 5- | 5-6 | 6+ |
|--------|----|----|-----|----|----|----|-----|----|----|----|-----|----|----|----|-----|----|---|----|-----|----|
| Punkte | 22 | 21 | 20 | 19 | 18 | 17 | 16 | 15 | 15 | 13 | 12 | 11 | 10 | 9 | 8 | 7 | 6 | 5 | 4 | 3 |