

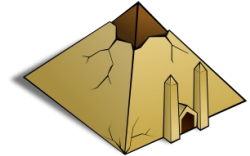
Klassenarbeit - Ägypten

Begriffe; Pyramiden; Gesellschaft; Nil; Hochkultur; Lage; Pharao; Sklaverei

Aufgabe 1

Erkläre folgende Begriffe:

- a) Hieroglyphen: _____
- b) Pyramide: _____
- c) Pharao: _____



___/3P

Aufgabe 2

Wann wurde die Cheops-Pyramide bei Giseh erbaut?

- ca. 5000 v. Chr. ca. 2500 v. Chr. ca. 1300 v. Chr.

___/2P

Aufgabe 3

Hier stimmt etwas nicht.

Ordne die Gruppen der ägyptischen Gesellschaft nach ihrer richtigen Hierarchie!

- Schreiber _____
- Pharao _____
- Bauern Priester _____
- Sklassen Händler _____
- Handwerker _____

___/7P

Aufgabe 4

Erkläre die Aussage „Ägypten ist ein Geschenk des Nils.“

___/3P

Aufgabe 5

Die Ägypter teilten das Jahr in 3 wichtige Teile ein:


1. Zeit der _____
2. Zeit der _____
3. Zeit der _____

___/3P

Aufgabe 6

Fülle die Lücken.

Ägypten liegt in _____ zwischen _____ und _____
(Kontinent) (Meer)
_____. Das Land besteht fast nur aus _____
(Meer)



___/4P

Aufgabe 7

Nenne 3 Aufgaben des Pharaos!

- a) _____
- b) _____
- c) _____



___/3P

Aufgabe 8

Nenne die 3 Herrschaftszeichen des Pharaos!

- a) _____
- b) _____
- c) _____

___/3P

Aufgabe 9


Warum wird Ägypten als Hochkultur bezeichnet?



___/2P

Aufgabe 10

Der griechische Historiker Herodot behauptete, die Pharaonen hätten die Ägypter zum Pyramidenbau gezwungen. Nenne 2 Gründe, die die Menschen veranlasst haben könnten, freiwillig beim Bau der Pyramiden mitzuarbeiten.



___/2P

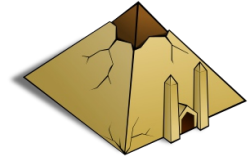
Lösung Klassenarbeit - Ägypten

Begriffe; Pyramiden; Gesellschaft; Nil; Hochkultur; Lage; Pharao; Sklaverei

Aufgabe 1

Erkläre folgende Begriffe:

- a) Hieroglyphen: **Die Schrift der Ägypter.**
- b) Pyramide: **Grabstätte für Pharaonen.**
- c) Pharao: **Großes weißes Haus.**



___ /3P

Aufgabe 2

Wann wurde die Cheops-Pyramide bei Giseh erbaut?

- ca. 5000 v. Chr. ca. 2500 v. Chr. ca. 1300 v. Chr.

___ /2P

Aufgabe 3

Hier stimmt etwas nicht.

Ordne die Gruppen der ägyptischen Gesellschaft nach ihrer richtigen Hierarchie!

| | |
|------------|----------------------------|
| Schreiber | Pharao |
| Pharao | Priester, Schreiber |
| Bauern | Händler |
| Priester | Bauern, Handwerker |
| Sklassen | Händler |
| Handwerker | Sklassen |

___ /7P

Aufgabe 4

Erkläre die Aussage „Ägypten ist ein Geschenk des Nils.“

**Der Nil überschwemmt einmal im Jahr das Land und versorgt es mit Wasser.
Der schwarze Schlamm der dadurch auch kommt macht das Land fruchtbar.**

___ /3P

Aufgabe 5

Die Ägypter teilten das Jahr in 3 wichtige Teile ein:

1. Zeit der **Überschwemmung**
2. Zeit der **Aussaat**
3. Zeit der **Ernte**

___ /3P

Aufgabe 6

Fülle die Lücken.

Ägypten liegt in **Afrika** zwischen **Mittelmeer** und **rotem Meer**.

Das Land besteht fast nur aus **Wüste**.

___ /4P

Aufgabe 7

Nenne 3 Aufgaben des Pharaos!

- a) **Er ist Oberbefehlshaber**
- b) **Er ist oberster Richter**
- c) **Er ist oberster Priester**



___ /3P

Aufgabe 8

Nenne die 3 Herrschaftszeichen des Pharaos!

- a) **Geier und Kobra**
- b) **Krummstab und Wedel**
- c) **Geflochtener Bart**

___ /3P

Aufgabe 9

Warum wird Ägypten als Hochkultur bezeichnet?

Weil die Ägypter in der Entwicklung anderer Kulturen weit voraus waren.



___ /2P


Aufgabe 10

Der griechische Historiker Herodot behauptete, die Pharaonen hätten die Ägypter zum Pyramidenbau gezwungen.

Nenne 2 Gründe, die die Menschen veranlassen könnten, freiwillig beim Bau der Pyramiden mitzuarbeiten.

Um Arbeit zu haben und Geld zu verdienen.

Um dem verehrten Pharaos zu dienen und ihn zu huldigen.



___ /2P

Viel Erfolg!!

Gesamt: ____/32P

| Note | 1 | 1- | 1-2 | 2+ | 2 | 2- | 2-3 | 3+ | 3 | 3- | 3-4 | 4+ | 4 | 4- | 4-5 | 5+ | 5 | 5- | 5-6 | 6+ |
|--------|----|----|-----|----|----|----|-----|----|----|----|-----|----|----|----|-----|----|---|----|-----|----|
| Punkte | 28 | 27 | 26 | 25 | 24 | 22 | 21 | 20 | 19 | 17 | 16 | 14 | 12 | 11 | 10 | 9 | 8 | 6 | 5 | 4 |

klassenarbeiten.de - Klassenarbeit 2577 - Gesamtschule, 5. Klasse, Geschichte