

Klassenarbeit - Mathetests im 1. Halbjahr

Größer Kleiner Gleich; Mengen erfassen; Zählen

Aufgabe 1

Male die Bilder in die Felder der Tabelle.

links oben: 

oben Mitte: C

rechts oben: n

links unten: 

links Mitte: 

rechts Mitte: 

rechts unten: 

unten Mitte: 

	Mitte	

___/8P

Aufgabe 2

Bestimme was größer, kleiner oder gleich ist.

Setze das richtige Zeichen ein: < > =

4 ___ 7

10 ___ 5

9 ___ 9

8 ___ 3

7 ___ 3

2 ___ 5

6 ___ 9

9 ___ 6

1 ___ 10

6 ___ 4

3 ___ 3

1 ___ 3

___/12P

Aufgabe 3

Verbinde die Zahl mit dem richtigen Bild.

3

6

5


9



___/4P

Aufgabe 4


Schreibe zu jedem Bild die richtige Zahl:




___/3P

Aufgabe 5


Male dazu oder streiche weg.



8



6



10







___/3P

Lösung Klassenarbeit - Mathetests im 1. Halbjahr

Größer Kleiner Gleich; Mengen erfassen; Zählen

Aufgabe 1

Male die Bilder in die Felder der Tabelle.

	C	n
	Mitte	
		

___/8P

Aufgabe 2

**Bestimme was größer, kleiner oder gleich ist.
Setze das richtige Zeichen ein: < > =**

$4 < 7$

$10 > 5$

$9 = 9$

$8 > 3$

$7 > 3$

$2 < 5$

$6 < 9$

$9 > 6$

$1 < 10$

$6 > 4$

$3 = 3$

$1 < 3$

___/12P

Aufgabe 3

Verbinde die Zahl mit dem richtigen Bild.

3 6 5 9

___ /4P

Aufgabe 4


Schreibe zu jedem Bild die richtige Zahl:



3



6

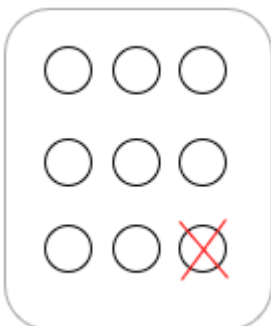


8

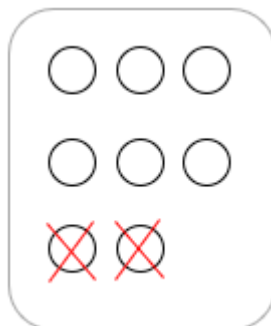
___ /3P

Aufgabe 5


Male dazu oder streiche weg.



8



6



10

___ /3P

Viel Glück!!

Gesamt: ____/30P

Note	1	1-	1-2	2+	2	2-	2-3	3+	3	3-	3-4	4+	4	4-	4-5	5+	5	5-	5-6	6+
Punkte	28	27	26	25	24	22	21	20	19	18	16	15	13	12	10	9	7	6	5	4

klassenarbeiten.de - Klassenarbeit 2508 - Grundschule, 1. Klasse, Mathematik