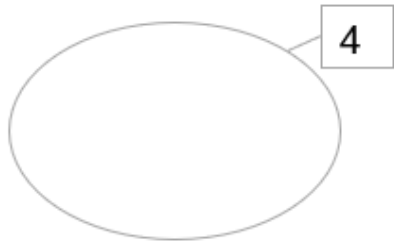

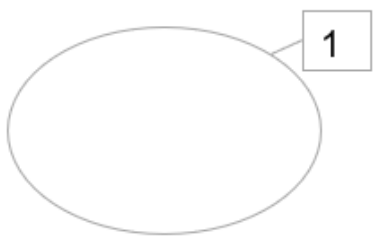
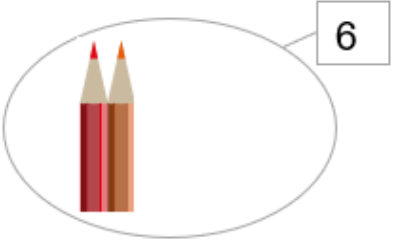




# Klassenarbeit - Mathetests im 2. Halbjahr

Mengen erfassen; Zahlenreihe; Würfel

## Aufgabe 1

**Ergänze oder streiche weg.**

\_\_\_/6P

## Aufgabe 2


**Zahlenreihen: Setze die fehlenden Zahlen ein.**

\_\_\_, 2, \_\_\_, \_\_\_, \_\_\_, 6, \_\_\_, \_\_\_

\_\_\_/6P

Aufgabe 3


Welche Zahl zeigt der Würfel?



\_\_\_\_\_

\_\_\_\_\_

\_\_\_\_\_



\_\_\_\_\_



\_\_\_\_\_

\_\_\_\_\_

\_\_\_/6P

Aufgabe 4

Male die passenden Türme zu den angegebenen Zahlen.



2

4

3

1

6

0

5

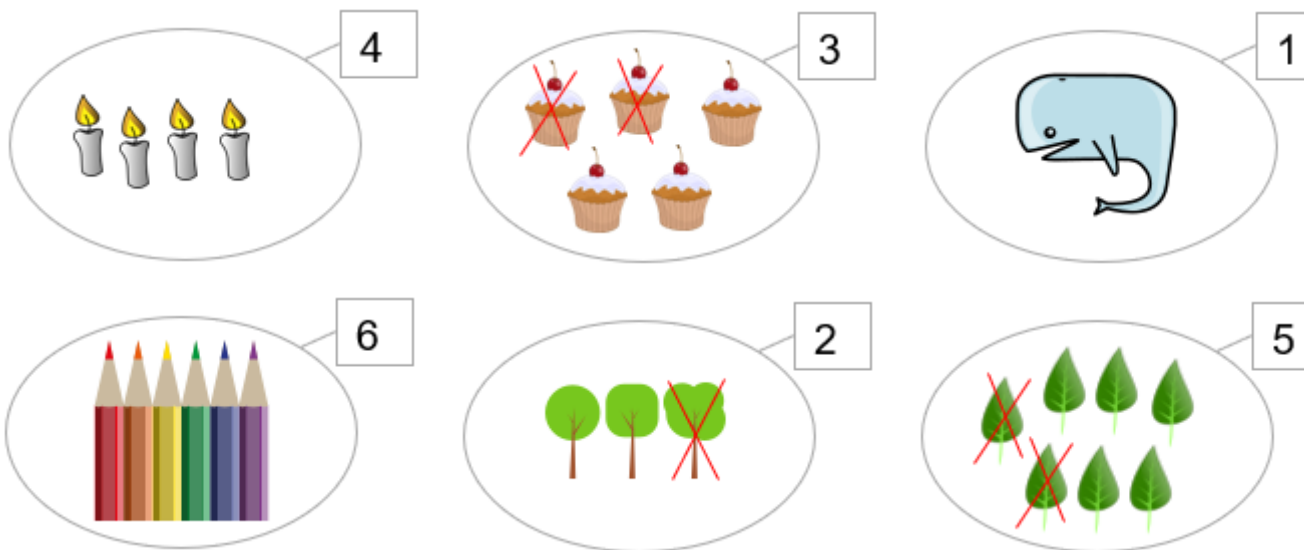
\_\_\_/6P

# Lösung Klassenarbeit - Mathetests im 2. Halbjahr

Mengen erfassen; Zahlenreihe; Würfel

## Aufgabe 1

**Ergänze oder streiche weg.**



Die Bilder bei 4 und 1 sind Beispiele. Es können auch andere Zeichnungen richtig sein.

\_\_\_/6P

## Aufgabe 2

**Zahlenreihen: Setze die fehlenden Zahlen ein.**

**1** , 2 , **3** , **4** , **5** , 6 , **7** , **8**

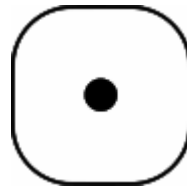
\_\_\_/6P

Aufgabe 3

Welche Zahl zeigt der Würfel?



4




1



3



5



2



6

\_\_\_/6P

Aufgabe 4

Male die passenden Türme zu den angegebenen Zahlen.



2



4



3



1



6



0



5

\_\_\_/6P

*Viel Glück!!*

Gesamt: \_\_\_/24P

Note	1	1-	1-2	2+	2	2-	2-3	3+	3	3-	3-4	4+	4	4-	4-5	5+	5	5-	5-6	6+
Punkte	22	21	21	20	19	18	17	16	15	14	13	12	10	9	8	7	6	5	4	3