

Klassenarbeit - Mathetests im 2. Halbjahr

Plusaufgaben; Rechenpyramide; Platzhalteraufgaben; Tauschaufgaben;
Umkehraufgaben

Aufgabe 1


Schreibe zum Zehnerstreifenbild eine Plusaufgabe und male ein Bild.





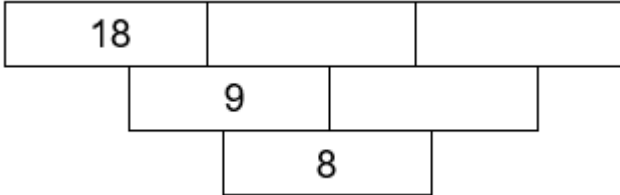
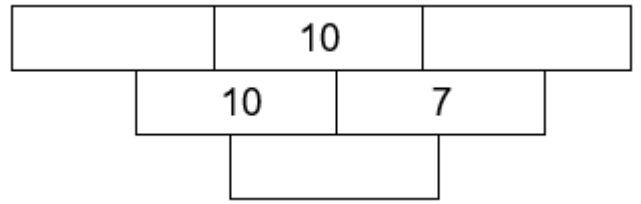
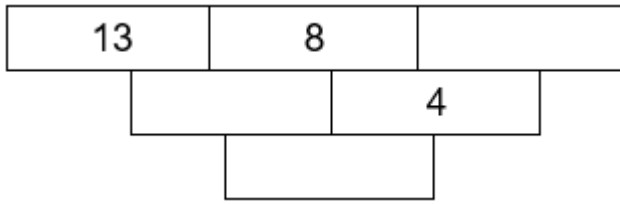
Male zur Minusaufgabe ein Zehnerstreifenbild und ein Bild.

$$7 - 5 = 2$$



Aufgabe 2

Rechenpyramiden. Ergänze die Zahlen.



___/9P

Aufgabe 3

Platzhalteraufgaben. Fülle die Lücke.

$5 + \underline{\quad} = 11$

$13 - \underline{\quad} = 7$

$7 + \underline{\quad} = 12$

$11 - \underline{\quad} = 8$

$9 + \underline{\quad} = 13$

$15 - \underline{\quad} = 9$


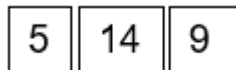
$8 + \underline{\quad} = 15$

$12 - \underline{\quad} = 6$

___/8P

Aufgabe 4

Bilde mit den drei Zahlen jeweils vier Aufgaben.



$5 + 9 = \underline{\quad}$

$\underline{\quad} + \underline{\quad} = \underline{\quad}$

$9 + \underline{\quad} = \underline{\quad}$

$\underline{\quad} + \underline{\quad} = \underline{\quad}$

$14 - \underline{\quad} = \underline{\quad}$

$\underline{\quad} - \underline{\quad} = \underline{\quad}$

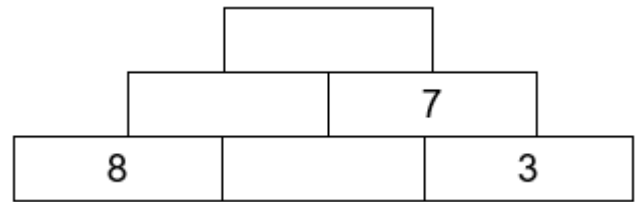
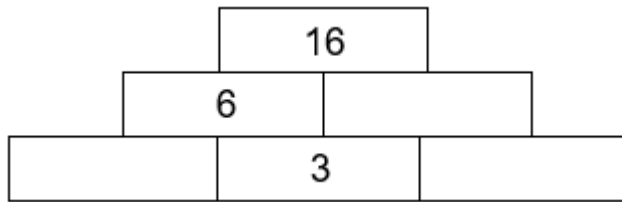
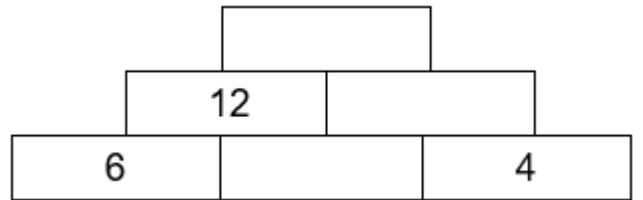
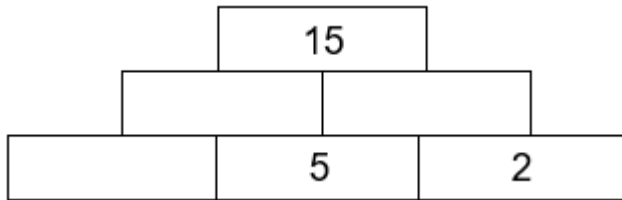
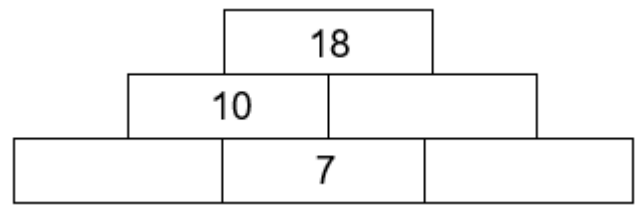
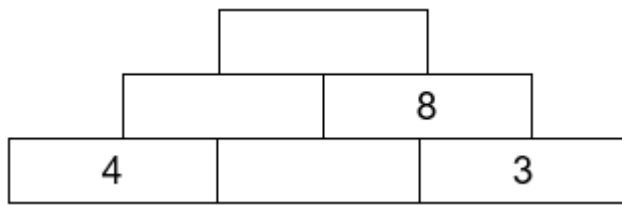
$14 - \underline{\quad} = \underline{\quad}$

$\underline{\quad} - \underline{\quad} = \underline{\quad}$

___/19P

Aufgabe 5

Rechenpyramiden. Ergänze die Zahlen.



___/18P

Lösung Klassenarbeit - Mathetests im 2. Halbjahr


Plusaufgaben; Rechenpyramide; Platzhalteraufgaben; Tauschaufgaben;
Umkehraufgaben

Aufgabe 1

Schreibe zum Zehnerstreifenbild eine Plusaufgabe und male ein Bild.



$$3 + 6 = 9$$



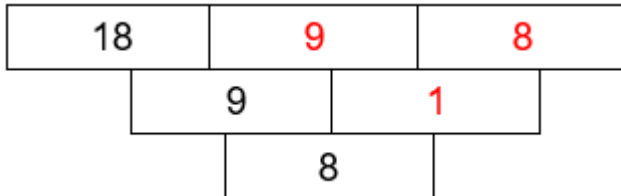
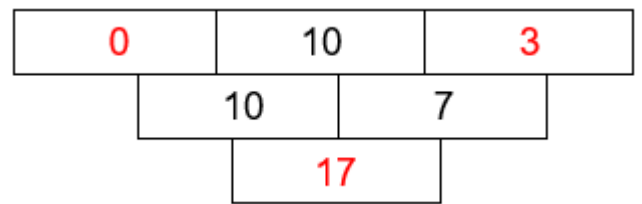
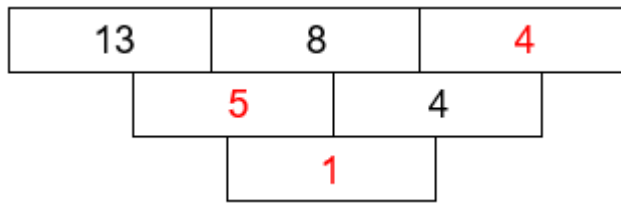
Male zur Minusaufgabe ein Zehnerstreifenbild und ein Bild.

$$7 - 5 = 2$$



Aufgabe 2

Rechenpyramiden. Ergänze die Zahlen.



___/9P

Aufgabe 3

Platzhalteraufgaben. Fülle die Lücke.

$5 + 6 = 11$

$13 - 6 = 7$

$7 + 5 = 12$

$11 - 3 = 8$

$9 + 4 = 13$

$15 - 6 = 9$



$8 + 7 = 15$

$12 - 6 = 6$

___/8P

Aufgabe 4

Bilde mit den drei Zahlen jeweils vier Aufgaben.



$5 + 9 = 14$

$8 + 7 = 15$

$9 + 5 = 14$

$7 + 8 = 15$

$14 - 5 = 9$

$15 - 7 = 8$

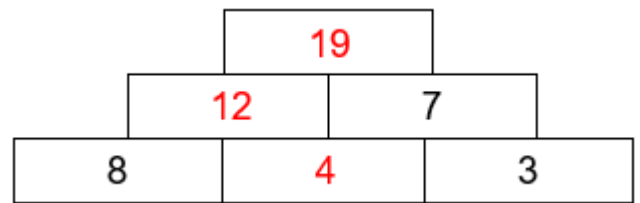
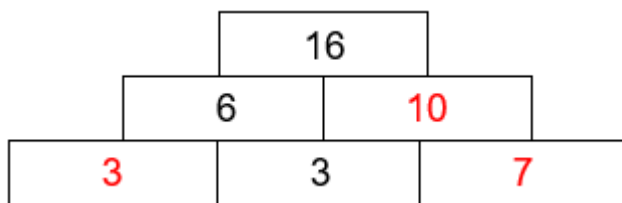
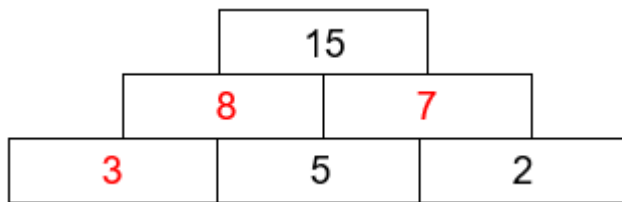
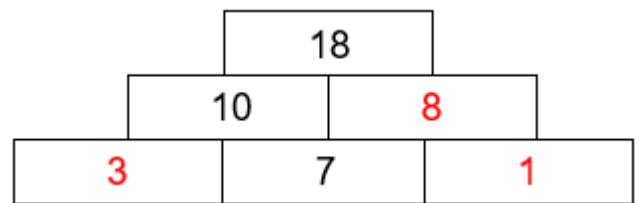
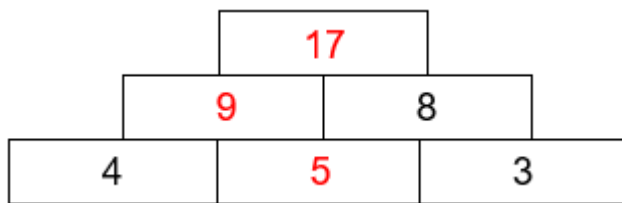
$14 - 9 = 5$

$15 - 8 = 7$

___/19P

Aufgabe 5

Rechenpyramiden. Ergänze die Zahlen.



___/18P

Viel Glück!!

Gesamt: ___/58P

Note	1	1-	1-2	2+	2	2-	2-3	3+	3	3-	3-4	4+	4	4-	4-5	5+	5	5-	5-6	6+
Punkte	55	52	50	48	46	44	42	39	37	34	31	29	26	23	20	17	14	12	10	7