

# Klassenarbeit - Mathetests im 2. Halbjahr

Plusaufgaben; Minusaufgaben; Rechentabelle; Rechenpyramide; Textaufgaben

## Aufgabe 1

### Berechne die Plusaufgaben!

$8 + 4 = \underline{\quad}$

$7 + 7 = \underline{\quad}$

$7 + 6 = \underline{\quad}$

$6 + 6 = \underline{\quad}$

$6 + 5 = \underline{\quad}$

$9 + 9 = \underline{\quad}$

$5 + 9 = \underline{\quad}$

$8 + 8 = \underline{\quad}$

$6 + 8 = \underline{\quad}$

$9 + 8 = \underline{\quad}$

\_\_\_/10P

## Aufgabe 2

### Berechne die Minusaufgaben!

$13 - 5 = \underline{\quad}$

$12 - 4 = \underline{\quad}$

$14 - 7 = \underline{\quad}$

$13 - 6 = \underline{\quad}$

$11 - 2 = \underline{\quad}$

$18 - 9 = \underline{\quad}$

$15 - 9 = \underline{\quad}$

$11 - 3 = \underline{\quad}$

$16 - 8 = \underline{\quad}$

$12 - 6 = \underline{\quad}$

\_\_\_/10P

Aufgabe 3

**Fülle das Rechengitter aus.**

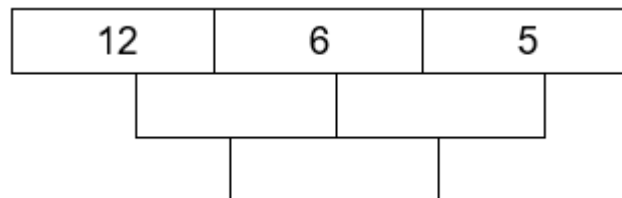
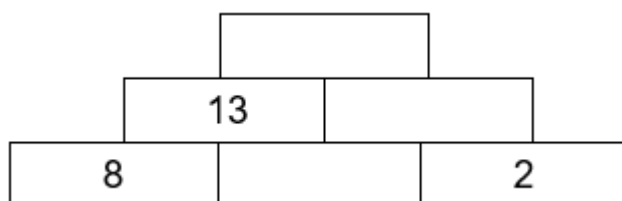
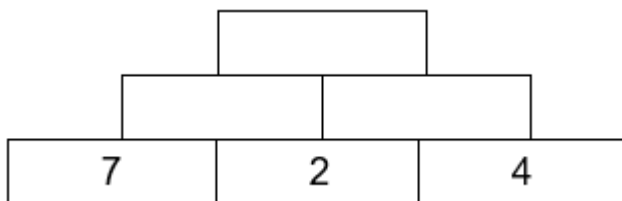
|   |   |   |   |   |
|---|---|---|---|---|
| + | 9 | 2 | 8 | 6 |
| 9 |   |   |   |   |
| 5 |   |   |   |   |

|    |   |   |   |
|----|---|---|---|
| -  | 4 | 8 | 7 |
| 16 |   |   |   |
| 14 |   |   |   |

\_\_\_/14P

Aufgabe 4

**Rechenpyramiden. Ergänze die Zahlen.**



\_\_\_/9P

Aufgabe 5

**Löse die Textaufgaben.**

In einem Kasten sind 12 Buntstifte. Lena nimmt 3 Stifte heraus.

Wie viel Stifte bleiben im Kasten?

Rechnung:



---

Es sind dann noch \_\_\_\_\_ Stifte im Kasten.

\_\_\_\_/3P

# Lösung Klassenarbeit - Mathetests im 2. Halbjahr

Plusaufgaben; Minusaufgaben; Rechentabelle; Rechenpyramide; Textaufgaben

## Aufgabe 1

### Berechne die Plusaufgaben!

$8 + 4 = 12$

$7 + 7 = 14$

$7 + 6 = 13$

$6 + 6 = 12$

$6 + 5 = 11$

$9 + 9 = 18$

$5 + 9 = 14$

$8 + 8 = 16$

$6 + 8 = 14$

$9 + 8 = 17$

\_\_\_/10P

## Aufgabe 2

### Berechne die Minusaufgaben!

$13 - 5 = 8$

$12 - 4 = 8$

$14 - 7 = 7$

$13 - 6 = 7$

$11 - 2 = 9$

$18 - 9 = 9$

$15 - 9 = 6$

$11 - 3 = 8$

$16 - 8 = 8$

$12 - 6 = 6$

\_\_\_/10P

Aufgabe 3

**Fülle das Rechengitter aus.**

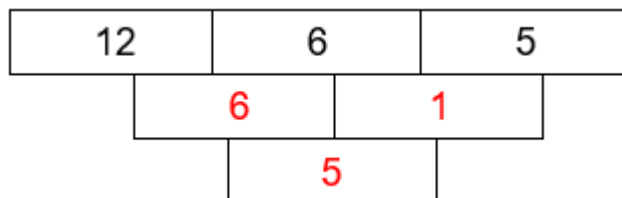
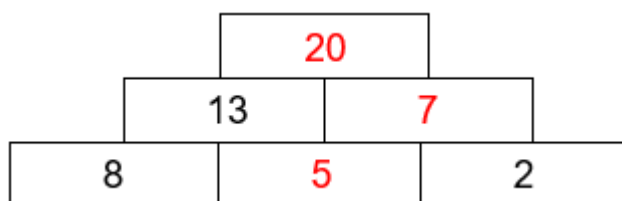
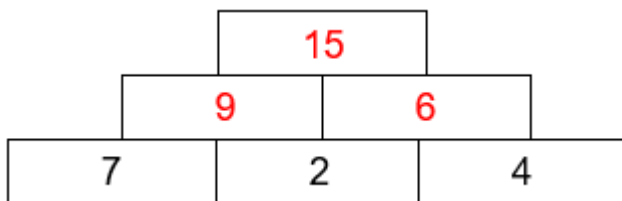
|   |    |    |    |    |
|---|----|----|----|----|
| + | 9  | 2  | 8  | 6  |
| 9 | 18 | 11 | 17 | 15 |
| 5 | 14 | 7  | 13 | 11 |

|    |    |   |   |
|----|----|---|---|
| -  | 4  | 8 | 7 |
| 16 | 12 | 8 | 9 |
| 14 | 10 | 6 | 7 |

\_\_\_/14P

Aufgabe 4

**Rechenpyramiden. Ergänze die Zahlen.**



\_\_\_/9P

## Aufgabe 5

### Löse die Textaufgaben.

In einem Kasten sind 12 Buntstifte. Lena nimmt 3 Stifte heraus.

Wie viel Stifte bleiben im Kasten?

Rechnung:  $12 - 3 = 9$

Es sind dann noch **9** Stifte im Kasten.



\_\_\_/3P

*Viel Erfolg!!*

Gesamt: \_\_\_/46P

| Note   | 1  | 1- | 1-2 | 2+ | 2  | 2- | 2-3 | 3+ | 3  | 3- | 3-4 | 4+ | 4  | 4- | 4-5 | 5+ | 5  | 5- | 5-6 | 6+ |
|--------|----|----|-----|----|----|----|-----|----|----|----|-----|----|----|----|-----|----|----|----|-----|----|
| Punkte | 43 | 41 | 40  | 38 | 36 | 35 | 33  | 31 | 29 | 27 | 25  | 23 | 20 | 18 | 16  | 13 | 11 | 9  | 8   | 6  |