

# Klassenarbeit - Mathetests im 2. Halbjahr

Plusaufgaben; Minusaufgaben; Kettenaufgaben; Tauschaufgaben;  
Umkehraufgaben; Rechnen mit Zehnern

## Aufgabe 1

**Berechne.**

$13 + 3 = \underline{\quad}$

$17 - 6 = \underline{\quad}$

$11 + 5 = \underline{\quad}$

$17 - 4 = \underline{\quad}$

$12 + 4 = \underline{\quad}$

$19 - 6 = \underline{\quad}$

$12 + 6 = \underline{\quad}$

$19 - 8 = \underline{\quad}$

$16 + 2 = \underline{\quad}$

$15 - 4 = \underline{\quad}$

$15 + 3 = \underline{\quad}$

$15 - 2 = \underline{\quad}$

\_\_\_ /12P

## Aufgabe 2

**Zeig was du kannst!**

$11 + 3 + 4 = \underline{\quad}$

$15 + 2 + 2 = \underline{\quad}$

$12 + 4 + 4 = \underline{\quad}$

$16 + 1 + 2 = \underline{\quad}$

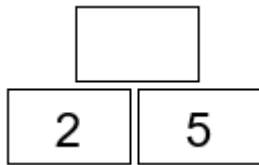
$13 + 3 + 3 = \underline{\quad}$

$14 + 4 + 1 = \underline{\quad}$

\_\_\_ /6P

Aufgabe 3

**Rechne und schreibe Tausch und Umkehraufgabe.**

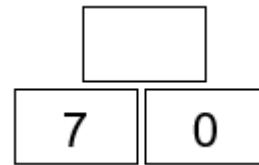


---

---

---

---



---

---

---

---

\_\_\_/8P

Aufgabe 4

**Rechne mit Zehnern.**

$70 + 20 = \underline{\quad}$

$\underline{\quad} + 30 = 80$

$30 + 40 = \underline{\quad}$

$60 + \underline{\quad} = 70$

$50 + 50 = \underline{\quad}$

$\underline{\quad} + 50 = 90$

$10 + 20 = \underline{\quad}$

$20 + \underline{\quad} = 60$

\_\_\_/8P

# Lösung Klassenarbeit - Mathetests im 2. Halbjahr

Plusaufgaben; Minusaufgaben; Kettenaufgaben; Tauschaufgaben;  
Umkehraufgaben; Rechnen mit Zehnern

## Aufgabe 1

**Berechne.**

$13 + 3 = 16$

$17 - 6 = 11$

$11 + 5 = 16$

$17 - 4 = 13$

$12 + 4 = 16$

$19 - 6 = 13$

$12 + 6 = 18$

$19 - 8 = 11$

$16 + 2 = 18$

$15 - 4 = 11$

$15 + 3 = 18$

$15 - 2 = 13$

\_\_\_ /12P

## Aufgabe 2

**Zeig was du kannst!**

$11 + 3 + 4 = 18$

$15 + 2 + 2 = 19$

$12 + 4 + 4 = 20$

$16 + 1 + 2 = 19$

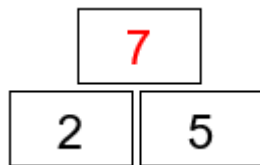
$13 + 3 + 3 = 19$

$14 + 4 + 1 = 19$

\_\_\_ /6P

### Aufgabe 3

**Rechne und schreibe Tausch und Umkehraufgabe.**

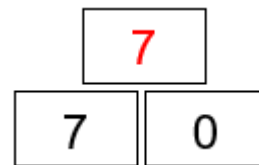


$$2 + 5 = 7$$

$$5 + 2 = 7$$

$$7 - 2 = 5$$

$$7 - 5 = 2$$



$$7 + 0 = 7$$

$$0 + 7 = 7$$

$$7 - 0 = 7$$

$$7 - 7 = 0$$

\_\_\_/8P

### Aufgabe 4

**Rechne mit Zehnern.**

$$70 + 20 = 90$$

$$50 + 30 = 80$$

$$30 + 40 = 70$$

$$60 + 10 = 70$$

$$50 + 50 = 100$$

$$40 + 50 = 90$$

$$10 + 20 = 30$$

$$20 + 40 = 60$$

\_\_\_/8P

*Viel Erfolg!!*

Gesamt: \_\_\_/34P

Note	1	1-	1-2	2+	2	2-	2-3	3+	3	3-	3-4	4+	4	4-	4-5	5+	5	5-	5-6	6+
Punkte	32	31	29	28	27	25	24	23	22	20	18	17	15	13	11	10	8	7	5	4