

Klassenarbeit - Mathetests im 2. Halbjahr

Plusaufgaben; Minusaufgaben; Rechnen mit Geld; Rechnen mit Zehnern;
Uhrzeit; Textaufgaben

Aufgabe 1

Berechne.

$17 + 2 = \underline{\quad}$

$16 + 3 = \underline{\quad}$

$11 + 8 = \underline{\quad}$

$12 + 5 = \underline{\quad}$

$19 - 7 = \underline{\quad}$

$13 - 4 = \underline{\quad}$

$17 - 8 = \underline{\quad}$

$16 - 6 = \underline{\quad}$

$11 - 7 = \underline{\quad}$

$15 - 9 = \underline{\quad}$

$15 + 5 = \underline{\quad}$

$11 + 5 = \underline{\quad}$

$7 + 7 = \underline{\quad}$

$9 + 7 = \underline{\quad}$

$3 + 16 = \underline{\quad}$

$4 + 7 = \underline{\quad}$

___ /16P

Aufgabe 2

Wie viel Geld ist das?



⇒ _____



⇒ _____

___ /2P

Aufgabe 3

Rechne in Zehnerschritten.

$10 + 30 = \underline{\quad}$

$10 + 20 + 10 = \underline{\quad}$

$20 + 10 + 10 - 20 = \underline{\quad}$

$100 - 20 - 10 = \underline{\quad}$

$20 - 20 + 40 = \underline{\quad}$

$90 + 10 + 0 = \underline{\quad}$

$30 + 10 + 20 + 40 = \underline{\quad}$

$10 + 10 + 70 = \underline{\quad}$

$20 + 10 + 60 - 90 = \underline{\quad}$

$30 + 70 - 50 = \underline{\quad}$

$100 - 80 + 30 = \underline{\quad}$

$40 + 10 - 30 = \underline{\quad}$

___/12P

Aufgabe 4

Wie spät ist es?



Uhr



Uhr



Uhr



Uhr



Uhr



Uhr



Uhr



Uhr

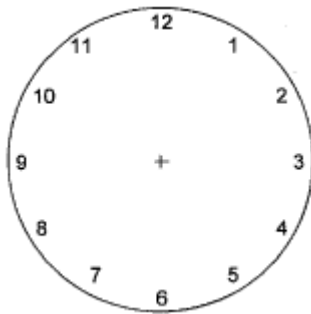


Uhr

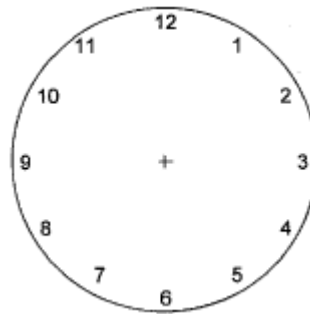
___/9P

Aufgabe 5

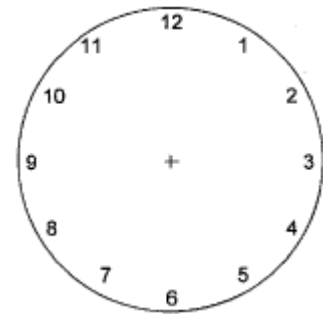
Wie spät ist es? Zeichne die Zeiger ein.



halb sieben Uhr



sieben Uhr



halb zwei Uhr

___/6P

Aufgabe 6

Löse die Textaufgaben.

Der Bauer Heinz hat 2 Hühner, 5 Pferde, 8 Schweine, 2 Kühe und 3 Ziegen.

F: Wie viele Tiere hat er zusammen?



R:

A:

Paula hat 17 Bonbons. Sie gibt Lara 13 Bonbons.

F: Wie viele Bonbons hat Paula noch?

R:

A:

Leo hat 19 Enten. 11 von diesen Enten fliegen weg.

F: Wie viele Enten hat Leo noch?

R:

A:



___/6P

Aufgabe 7

Kreuze an.



Die Schuhe kosten 14 Euro. Der Pullover kostet 5 Euro.

Wie viel muss Mama Agathe für ein Brot zahlen?

- ???
- $14 + 5 = 19$ Euro. Sie muss 19 Euro zahlen.
- $14 + 5 = 11$ Euro. Sie muss 11 Euro zahlen.

___/1P

Lösung Klassenarbeit - Mathetests im 2. Halbjahr

Plusaufgaben; Minusaufgaben; Rechnen mit Geld; Rechnen mit Zehnern;
Uhrzeit; Textaufgaben

Aufgabe 1

Berechne.

$17 + 2 = 19$

$16 + 3 = 19$

$11 + 8 = 19$

$12 + 5 = 17$

$19 - 7 = 12$

$13 - 4 = 9$

$17 - 8 = 9$

$16 - 6 = 10$

$11 - 7 = 4$

$15 - 9 = 6$

$15 + 5 = 20$

$11 + 5 = 16$

$7 + 7 = 14$

$9 + 7 = 16$

$3 + 16 = 19$

$4 + 7 = 11$

___/16P

Aufgabe 2

Wie viel Geld ist das?



⇒ **80**



⇒ **20**

___/2P

Aufgabe 3

Rechne in Zehnerschritten.

$10 + 30 = 40$

$10 + 20 + 10 = 50$

$20 + 10 + 10 - 20 = 20$

$100 - 20 - 10 = 70$

$20 - 20 + 40 = 40$

$90 + 10 + 0 = 100$

$30 + 10 + 20 + 40 = 100$

$10 + 10 + 70 = 90$

$20 + 10 + 60 - 90 = 0$

$30 + 70 - 50 = 50$

$100 - 80 + 30 = 50$

$40 + 10 - 30 = 20$

___/12P

Aufgabe 4

Wie spät ist es?



6 Uhr



halb 4 oder 4.30 Uhr



11 Uhr



halb 10 oder 9.30 Uhr



halb 1 oder 12.30 Uhr



8 Uhr



4 Uhr



12 Uhr



halb 8 oder 7.30 Uhr

___/9P

Aufgabe 5

Wie spät ist es? Zeichne die Zeiger ein.



halb sieben Uhr



sieben Uhr



halb zwei Uhr

___/6P

Aufgabe 6

Löse die Textaufgaben.

Der Bauer Heinz hat 2 Hühner, 5 Pferde, 8 Schweine, 2 Kühe und 3 Ziegen.

F: Wie viele Tiere hat er zusammen?

R: $2 + 5 + 8 + 2 + 3 = 20$

A: Er hat zusammen 20 Tiere.



Paula hat 17 Bonbons. Sie gibt Lara 13 Bonbons.

F: Wie viele Bonbons hat Paula noch?

R: $17 - 13 = 4$

A: Paula hat noch 4 Bonbons.

Leo hat 19 Enten. 11 von diesen Enten fliegen weg.

F: Wie viele Enten hat Leo noch?

R: $19 - 11 = 8$

A: **Leo hat noch 8 Enten.**



___/6P

Aufgabe 7

Kreuze an.



Die Schuhe kosten 14 Euro. Der Pullover kostet 5 Euro.

Wie viel muss Mama Agathe für ein Brot zahlen?

- ???
- $14 + 5 = 19$ Euro. Sie muss 19 Euro zahlen.
- $14 + 5 = 11$ Euro. Sie muss 11 Euro zahlen.

___/1P

Viel Erfolg!!

Gesamt: ___/52P

Note	1	1-	1-2	2+	2	2-	2-3	3+	3	3-	3-4	4+	4	4-	4-5	5+	5	5-	5-6	6+
Punkte	49	47	45	43	41	39	37	35	33	31	28	26	23	20	18	15	13	11	9	7