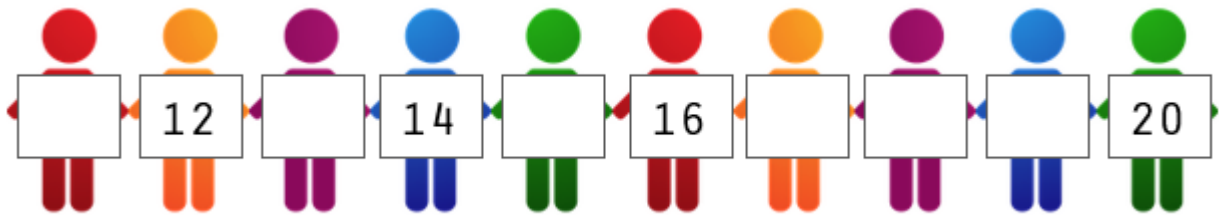


Klassenarbeit - Mathetests im 2. Halbjahr

Zahlenreihe; Vorgänger und Nachfolger; Plusaufgaben; Größer, kleiner, gleich;
Gerade und ungerade Zahlen; Zahlenstrahl; Tauschaufgaben;
Umkehraufgaben

Aufgabe 1



___/3P

Aufgabe 2



___/2P

Aufgabe 3

V	Zahl	N
	4	
	14	

V	Zahl	N
	12	
	15	

V	Zahl	N
	9	
	10	

___/6P

Aufgabe 4

$10 + 1 = \underline{\quad}$

$10 + 6 = \underline{\quad}$

$10 + 2 = \underline{\quad}$

$10 + 8 = \underline{\quad}$

$10 + 5 = \underline{\quad}$

$10 + 7 = \underline{\quad}$

$4 + 10 = \underline{\quad}$

$5 + 10 = \underline{\quad}$

$10 + 10 = \underline{\quad}$

$9 + 10 = \underline{\quad}$

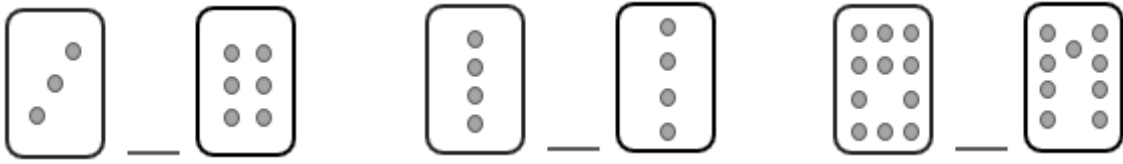
$8 + 10 = \underline{\quad}$

$3 + 10 = \underline{\quad}$

___/6P

Aufgabe 5

Kleiner <, größer > oder gleich = ?



___/3P

Aufgabe 6

Kleiner <, größer > oder gleich = ?

9 ___ 3

6 ___ 0

11 ___ 18

2 ___ 2

15 ___ 10

2 ___ 16

4 ___ 8

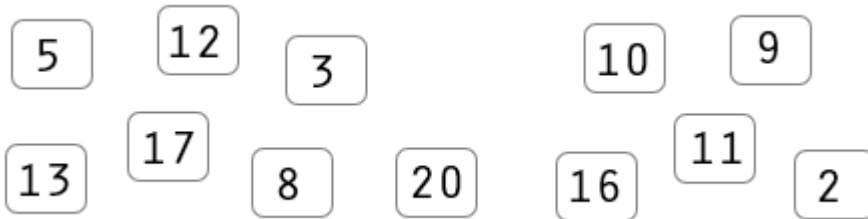
13 ___ 13

20 ___ 15

___/9P

Aufgabe 7

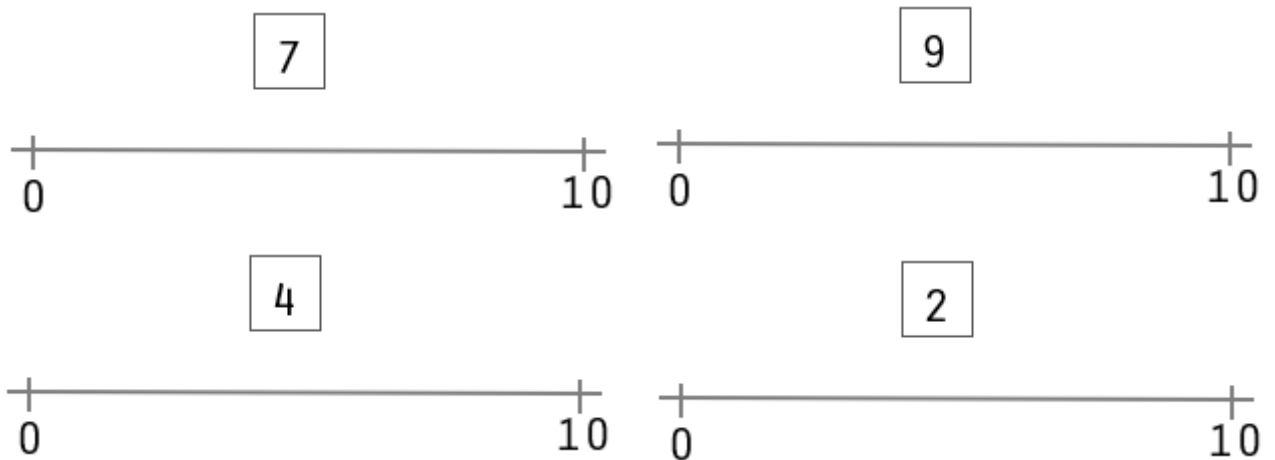
Male alle geraden Zahlen grün und alle ungeraden Zahlen orange an.



___/6P

Aufgabe 8

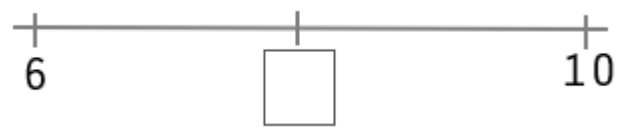
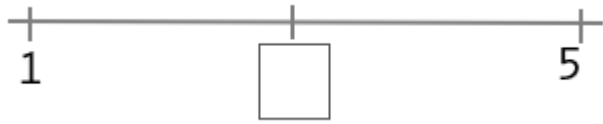
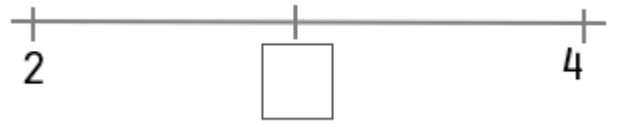
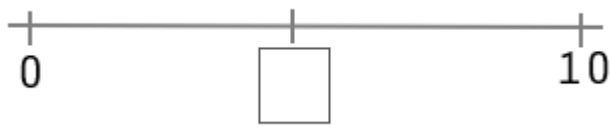
Wo liegt die Zahl ungefähr? Verbinde.



___/4P

Aufgabe 9

Welche Zahl ist in der Mitte?



___/4P

Aufgabe 10

Schreibe die Tausch und Umkehraufgaben.










___/7P

Lösung Klassenarbeit - Mathetests im 2. Halbjahr

Zahlenreihe; Vorgänger und Nachfolger; Plusaufgaben; Größer, kleiner, gleich;
Gerade und ungerade Zahlen; Zahlenstrahl; Tauschaufgaben;
Umkehraufgaben

Aufgabe 1



___ /3P

Aufgabe 2



___ /2P

Aufgabe 3

V	Zahl	N
3	4	5
13	14	15

V	Zahl	N
11	12	13
14	15	16

V	Zahl	N
8	9	10
9	10	11

___ /6P

Aufgabe 4

$$10 + 1 = 11$$

$$10 + 8 = 18$$

$$4 + 10 = 14$$

$$9 + 10 = 19$$

$$10 + 6 = 16$$

$$10 + 5 = 15$$

$$5 + 10 = 13$$

$$8 + 10 = 13$$

$$10 + 2 = 12$$

$$10 + 7 = 17$$

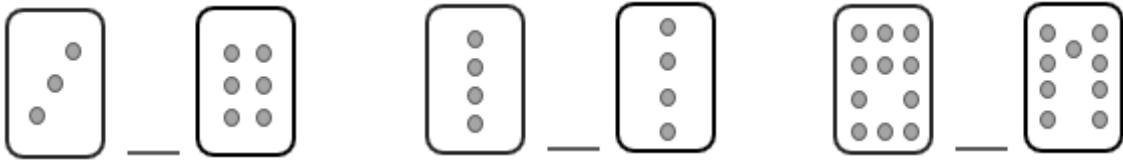
$$10 + 10 = 20$$

$$3 + 10 = 13$$

___ /6P

Aufgabe 5

Kleiner <, größer > oder gleich = ?



___/3P

Aufgabe 6

Kleiner <, größer > oder gleich = ?

$9 > 3$

$6 > 0$

$11 < 18$

$2 = 2$

$15 > 10$

$2 < 16$

$4 < 8$

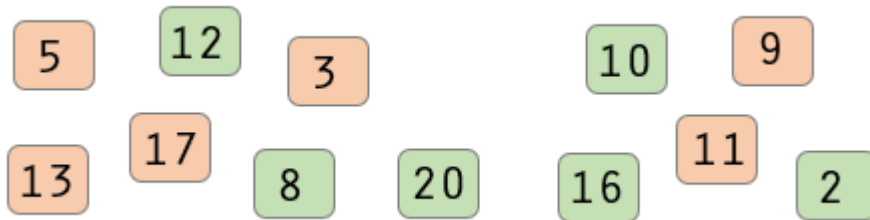
$13 = 13$

$20 > 15$

___/9P

Aufgabe 7

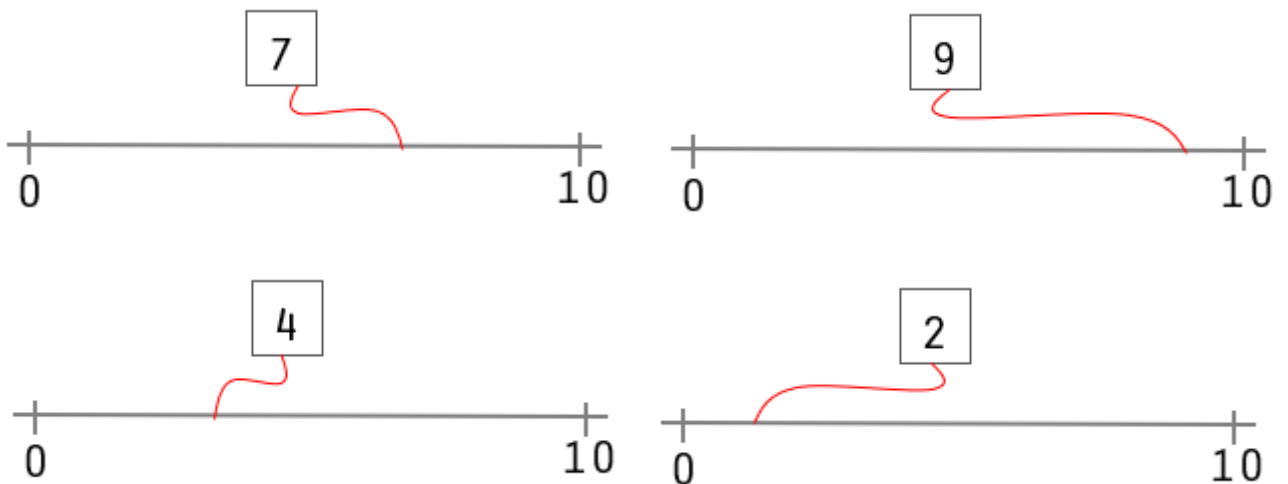
Male alle geraden Zahlen grün und alle ungeraden Zahlen orange an.



___/6P

Aufgabe 8

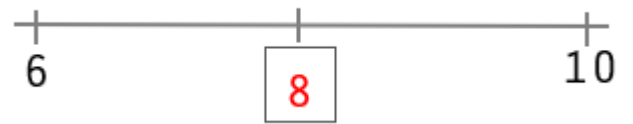
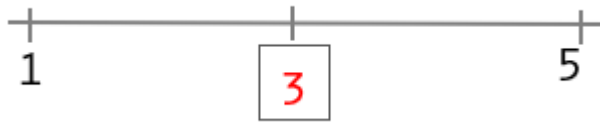
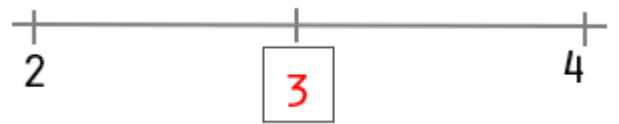
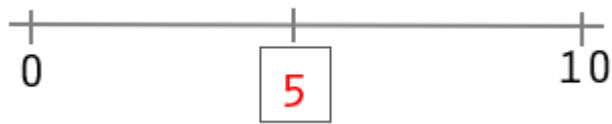
Wo liegt die Zahl ungefähr? Verbinde.



___/4P

Aufgabe 9

Welche Zahl ist in der Mitte?



___/4P

Aufgabe 10

Schreibe die Tausch und Umkehraufgaben.



$$\begin{aligned} 5 + 3 &= 8 \\ 3 + 5 &= 8 \\ 8 - 5 &= 3 \\ 8 - 3 &= 5 \end{aligned}$$



$$\begin{aligned} 10 + 6 &= 16 \\ 6 + 10 &= 16 \\ 16 - 6 &= 10 \\ 16 - 10 &= 6 \end{aligned}$$



$$\begin{aligned} 6 + 3 &= 9 \\ 3 + 6 &= 9 \\ 9 - 3 &= 6 \\ 9 - 6 &= 3 \end{aligned}$$



$$\begin{aligned} 5 + 5 &= 10 \\ 10 - 5 &= 5 \end{aligned}$$

___/7P

Viel Glück!!

Gesamt: ___/50P

Note	1	1-	1-2	2+	2	2-	2-3	3+	3	3-	3-4	4+	4	4-	4-5	5+	5	5-	5-6	6+
Punkte	47	45	43	41	40	38	36	34	32	30	27	25	22	20	17	15	12	10	8	6