

# Klassenarbeit - Raum und Zeit

Jahreszeiten; Kalender; Uhr

## Aufgabe 1

**Wie heißen die vier Jahreszeiten?**



---

---

\_\_\_ /4P

## Aufgabe 2

**Ein Monat hat eine Besonderheit, welcher?**

---

---

---

\_\_\_ /2P

## Aufgabe 3

**Trage die Nachbarmonate ein!**

Vorgänger	Monat	Nachfolger
	Januar	
		September
Februar		

\_\_\_ /6P

## Aufgabe 4

**Wieviele Monate hat ein Halbjahr?**

---


\_\_\_ /1P

Aufgabe 5

**Nenne vier verschiedene Kalender!**

---

---



\_\_\_/4P

Aufgabe 6

**Kennst Du die Uhr genau?**

Ein ganzer Tag hat \_\_\_\_\_ Stunden.

Eine Stunde hat \_\_\_\_\_ Minuten.

Eine Minute hat \_\_\_\_\_ Sekunden.

Eine halbe Stunde hat \_\_\_\_\_ Minuten.

Eine dreiviertel Stunde hat \_\_\_\_\_ Minuten.

Eine viertel Stunde hat \_\_\_\_\_ Minuten.



\_\_\_/6P

Aufgabe 7

**Trage im Fahrplan ein!**



Abfahrt	Ankunft	Fahrtzeit
9.00 Uhr		7 Stunden
	18.00 Uhr	3 Stunden
7.30 Uhr	12.30 Uhr	

\_\_\_/3P

Aufgabe 8

**Ordne richtig zu.**

**Frühling, Samstag, Montag, Mai, Winter, Karfreitag, Januar, Neujahr**

Jahreszeiten	
Monate	
Feiertage	
Wochentage	

\_\_\_/8P

Aufgabe 9

**Wie viele Kalenderblätter hat ein Monatskalender?**

\_\_\_\_\_

\_\_\_/1P

Aufgabe 10

**Vervollständige den Lückentext. Schreibe den Monat in Klammern dahinter.**

Am \_\_\_\_\_ ist Nikolaustag.



Der \_\_\_\_\_ ist der Martinstag.

Neujahr ist am \_\_\_\_\_.

\_\_\_/3P

Aufgabe 11

**Wie viele Tage haben diese Monate?**

Mai	
Oktober	
Juni	
September	

\_\_\_/4P

## Aufgabe 12

**Setze die richtigen Wörter ein!**



**Samstag - Vögel - Wiese - Nest - Alle - Frühling - draußen - fliegen - Eier  
- Löwenzahn**

Die \_\_\_\_\_ bauen ihr \_\_\_\_\_. Sie legen  
\_\_\_\_\_ und brüten. Auf der \_\_\_\_\_ blüht der  
gelbe \_\_\_\_\_. Die Samen der Pusteblume  
\_\_\_\_\_ überall hin. Seit \_\_\_\_\_ ist es  
schön warm. \_\_\_\_\_ sind \_\_\_\_\_.

\_\_\_ /9P

## Aufgabe 13

**Ordne die Sätze in der richtigen Reihenfolge.**

- \_\_\_ An einem warmen Tag fliegen die jungen Vögel aus dem Nest.
- \_\_\_ Das Weibchen brütet und wird dabei vom Männchen gefüttert.
- \_\_\_ Die Blaumeise baut ein Nest.
- \_\_\_ Die geschlüpften Jungen sind nackt und blind.
- \_\_\_ Das Weibchen legt die Eier.
- \_\_\_ Die jungen Blaumeisen müssen ständig gefüttert werden.

\_\_\_ /6P

## Aufgabe 14

**Wie viele Jahreszeiten gibt es?**



\_\_\_\_\_

\_\_\_ /1P

# Lösung Klassenarbeit - Raum und Zeit

Jahreszeiten; Kalender; Uhr

## Aufgabe 1

Wie heißen die vier Jahreszeiten?



Frühling, Sommer, Herbst und Winter

\_\_\_ /4P

## Aufgabe 2

Ein Monat hat eine Besonderheit, welcher?

Der Monat Februar hat eine Besonderheit.  
Alle 4 Jahre hat er statt 28 Tagen einen Tag mehr, nämlich 29.

\_\_\_ /2P

## Aufgabe 3

Trage die Nachbarmonate ein!

Vorgänger	Monat	Nachfolger
Dezember	Januar	Februar
Juli	August	September
Februar	März	April

\_\_\_ /6P

## Aufgabe 4

Wieviele Monate hat ein Halbjahr?

6 Monate

\_\_\_ /1P

### Aufgabe 5

**Nenne vier verschiedene Kalender!**

**Monatskalender, Jahreskalender, Tageskalender, Wochenkalender**



\_\_\_/4P

### Aufgabe 6

**Kennst Du die Uhr genau?**

Ein ganzer Tag hat **24** Stunden.

Eine Stunde hat **60** Minuten.

Eine Minute hat **60** Sekunden.

Eine halbe Stunde hat **30** Minuten.

Eine dreiviertel Stunde hat **45** Minuten.

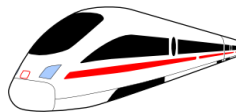
Eine viertel Stunde hat **15** Minuten.



\_\_\_/6P

### Aufgabe 7

**Trage im Fahrplan ein!**



Abfahrt	Ankunft	Fahrtzeit
9.00 Uhr	<b>16.00 Uhr</b>	7 Stunden
<b>15.00 Uhr</b>	18.00 Uhr	3 Stunden
7.30 Uhr	12.30 Uhr	<b>5 Stunden</b>

\_\_\_/3P

Aufgabe 8

**Ordne richtig zu.**

**Frühling, Samstag, Montag, Mai, Winter, Karfreitag, Januar, Neujahr**

Jahreszeiten	<b>Frühling, Winter</b>
Monate	<b>Januar, Mai</b>
Feiertage	<b>Neujahr, Karfreitag</b>
Wochentage	<b>Montag, Samstag</b>

\_\_\_/8P

Aufgabe 9

**Wie viele Kalenderblätter hat ein Monatskalender?**

**Er hat 12 Blätter.**

\_\_\_/1P

Aufgabe 10

**Vervollständige den Lückentext. Schreibe den Monat in Klammern dahinter.**

Am **06.12. (Dezember)** ist Nikolaustag.



Der **11.11. (November)** ist der Martinstag.

Neujahr ist am **1.1. (Januar)**.

\_\_\_/3P

Aufgabe 11

**Wie viele Tage haben diese Monate?**

Mai	<b>31</b>
Oktober	<b>31</b>
Juni	<b>30</b>
September	<b>30</b>

\_\_\_/4P

Aufgabe 12

Setze die richtigen Wörter ein!



Samstag - Vögel - Wiese - Nest - Alle - Frühling - draußen - fliegen - Eier - Löwenzahn

Die **Vögel** bauen ihr **Nest** . Sie legen **Eier** und brüten. Auf der **Wiese** blüht der gelbe **Löwenzahn**. Die Samen der Pusteblume **fliegen** überall hin. Seit **Samstag** ist es schön warm. **Alle** sind **draußen**.

\_\_\_ /9P

Aufgabe 13

Ordne die Sätze in der richtigen Reihenfolge.


- 6 An einem warmen Tag fliegen die jungen Vögel aus dem Nest.
- 3 Das Weibchen brütet und wird dabei vom Männchen gefüttert.
- 1 Die Blaumeise baut ein Nest.
- 4 Die geschlüpften Jungen sind nackt und blind.
- 2 Das Weibchen legt die Eier.
- 5 Die jungen Blaumeisen müssen ständig gefüttert werden.

\_\_\_ /6P

Aufgabe 14

Wie viele Jahreszeiten gibt es?

**vier**



\_\_\_ /1P

*Viel Erfolg!!*

Gesamt: \_\_\_ /58P

Note	1	1-	1-2	2+	2	2-	2-3	3+	3	3-	3-4	4+	4	4-	4-5	5+	5	5-	5-6	6+
Punkte	52	50	47	45	43	41	39	36	34	31	29	26	23	21	18	16	14	12	10	7