

Klassenarbeit - Die Erde

Atlas und Globus; Gradnetz; Rekorde; Weltbilder; Kontinente; Ozeane

Aufgabe 1

Zeichne eine Windrose und beschrifte sie mit den Himmelsrichtungen:

___ /4P

Aufgabe 2

Bestimme den Maßstab:

1 cm auf der Karte entspricht 250 m --> 1 : _____

1 cm auf der Karte entspricht 1 km --> 1 : _____

___ /2P

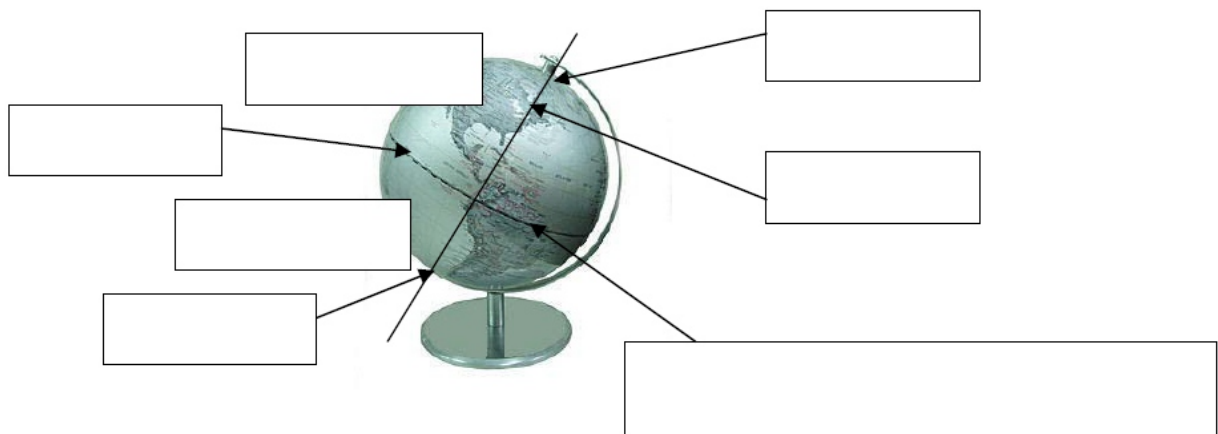
Aufgabe 3

Was weißt du über die Länge von Breitenkreisen und Längenkreisen?

___ /3P

Aufgabe 4

Beschrifte den Globus.



___ /7P

Aufgabe 5

Kreuze die richtigen Antworten an, und verbessere die falschen.

<input type="checkbox"/>	Der Äquator ist der größte Breitenkreis.	<input type="checkbox"/>
<input type="checkbox"/>	Die Breitenkreise laufen parallel zu den Längenkreisen.	<input type="checkbox"/>
<input type="checkbox"/>	Die Längenkreise sind unterschiedlich lang.	<input type="checkbox"/>
<input type="checkbox"/>	Der Äquator teilt die Erde in eine westliche und östliche Halbkugel.	<input type="checkbox"/>

___/7P

Aufgabe 6

Die Welt in Rekorden

Der längste Fluss der Erde? _____

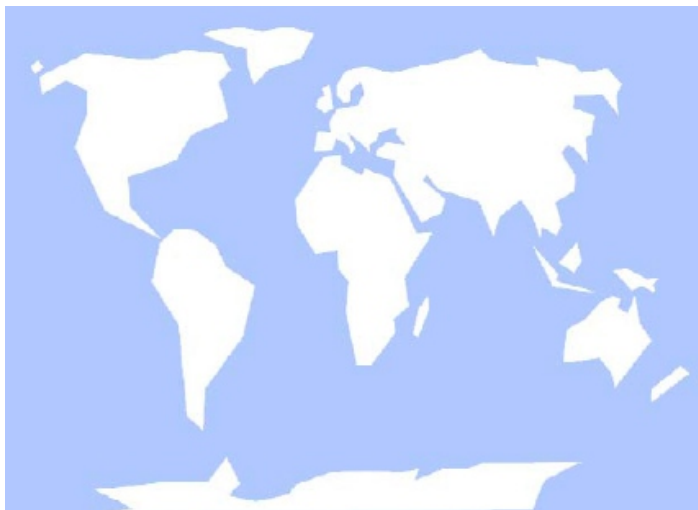
Der höchste Berg der Erde? _____

Bonus: Die tiefste Stelle der Erde? _____

___/3P

Aufgabe 7

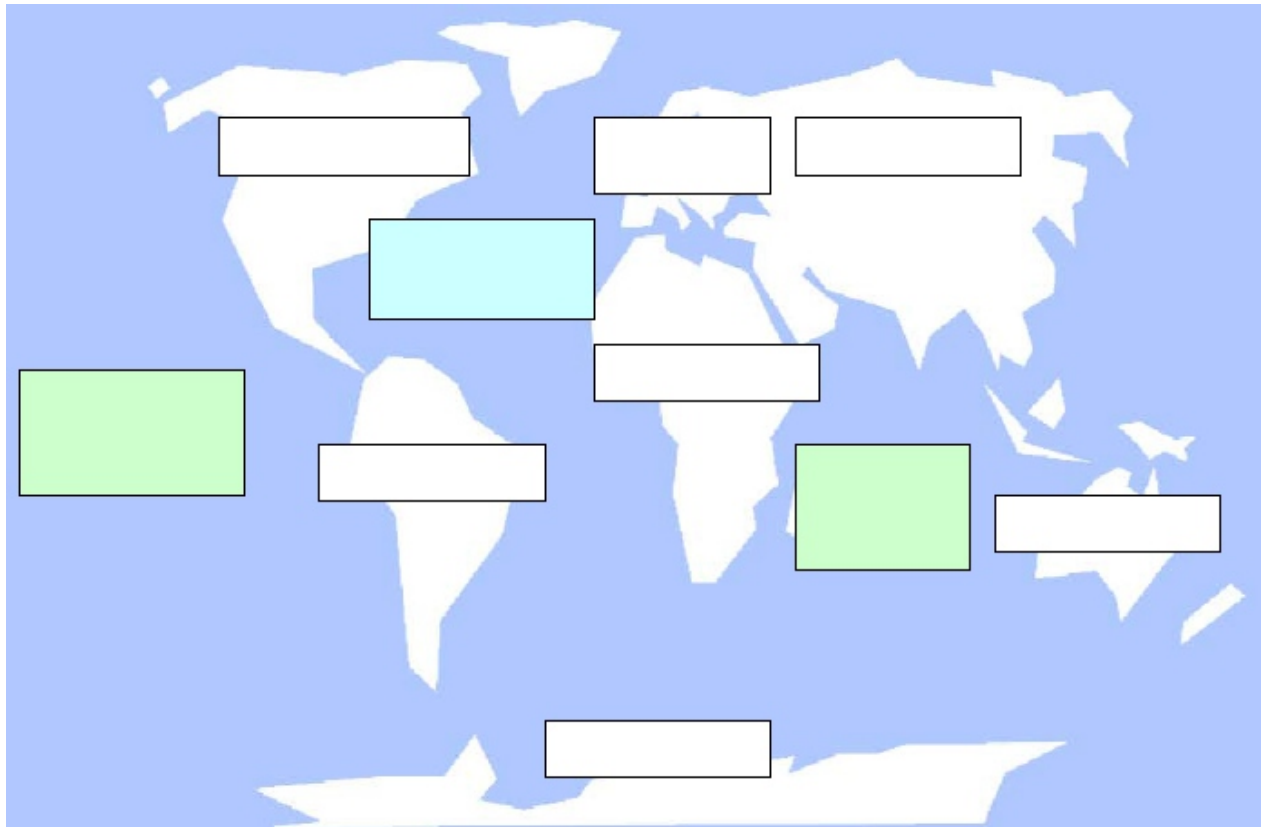
Ferdinand Magellan - Zeichne Magellans Reiseroute um die Welt in die Karte ein.



___/3P

Aufgabe 8

Trage auf der Weltkarte die Kontinente ein. Benenne die Ozeane



___/10P

Aufgabe 9

Kreuze an! Richtig oder falsch?

Der wichtigste Längengrad ist der Äquator.

richtig

falsch

Der 0-Meridian unterteilt die Weltkugel in eine nördliche und eine südliche Hälfte.

Der Umfang der Breitenkreise wird zu den Polen hin kleiner.

___/3P

Aufgabe 10

Welche Kontinente gibt es auf der Erde?

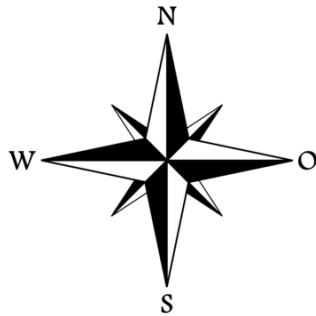
___/6P

Lösung Klassenarbeit - Die Erde

Atlas und Globus; Gradnetz; Rekorde; Weltbilder; Kontinente; Ozeane

Aufgabe 1

Zeichne eine Windrose und beschrifte sie mit den Himmelsrichtungen:



___ /4P

Aufgabe 2

Bestimme den Maßstab:

1 cm auf der Karte entspricht 250 m --> 1 : **25000**

1 cm auf der Karte entspricht 1 km --> 1 : **100000**

___ /2P

Aufgabe 3

Was weißt du über die Länge von Breitenkreisen und Längenkreisen?

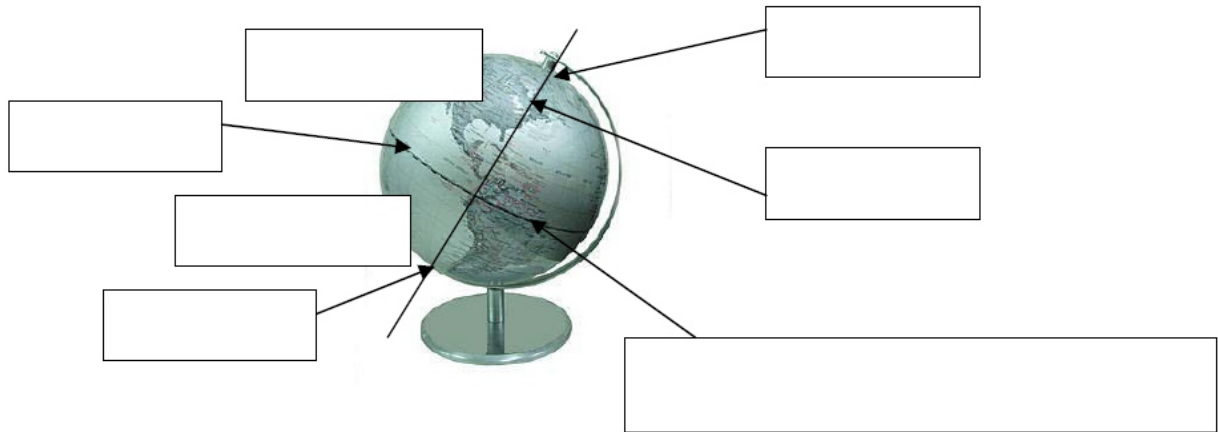
Die Abstände zwischen Äquatorebene und Parallelkreisen werden als Breitengrade bezeichnet.

Es gibt 180 Breitengrade. Die Längengrade verbinden beide Pole.

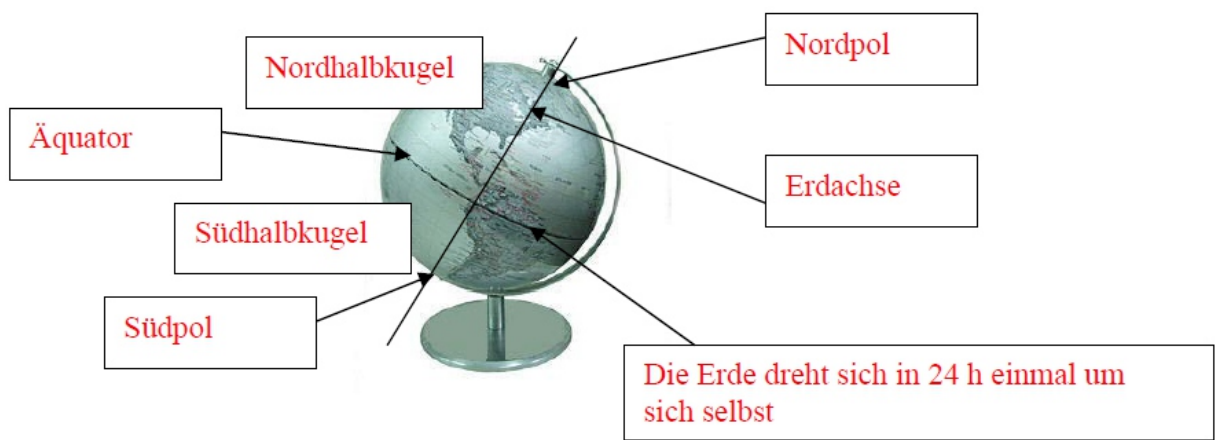
___ /3P

Aufgabe 4

Beschrifte den Globus.



Beschrifte den Globus.



___/7P

Aufgabe 5

Kreuze die richtigen Antworten an, und verbessere die falschen.

X	Der Äquator ist der größte Breitenkreis.	
	Die Breitenkreise laufen parallel zu den Längenkreisen.	Breitenkreise parallel zum Äquator
	Die Längenkreise sind unterschiedlich lang.	Längenkreise sind gleich lang
	Der Äquator teilt die Erde in eine westliche und östliche Halbkugel.	In eine Nord und Südhalbkugel

___/7P

Aufgabe 6

Die Welt in Rekorden

Der längste Fluss der Erde? **Nil**

Der höchste Berg der Erde? **Mount Everest**

Bonus: Die tiefste Stelle der Erde? **Witjastiefe**

___/3P

Aufgabe 7

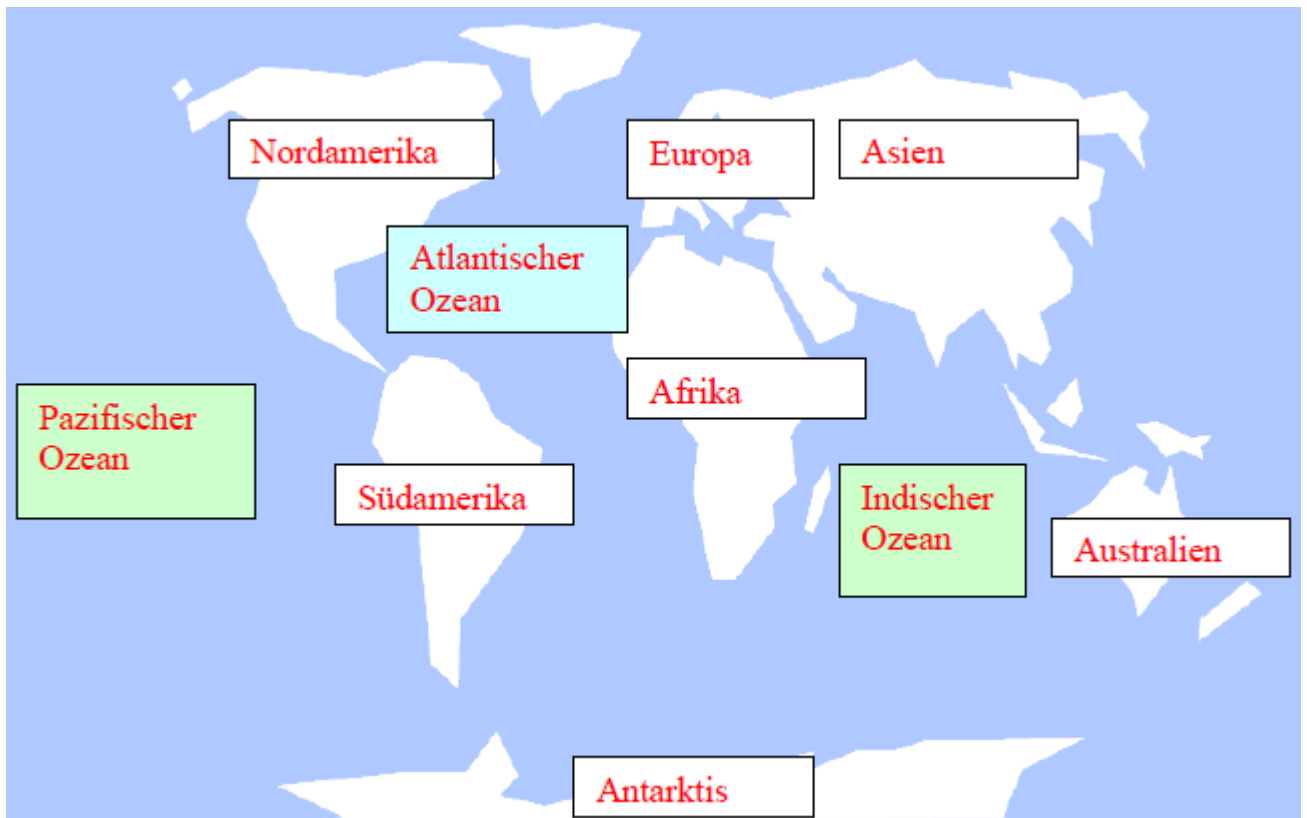
Ferdinand Magellan - Zeichne Magellans Reiseroute um die Welt in die Karte ein.



___/3P

Aufgabe 8

Trage auf der Weltkarte die Kontinente ein. Benenne die Ozeane



___/10P

Aufgabe 9

Kreuze an! Richtig oder falsch?

Der wichtigste Längenkreis ist der Äquator.

richtig falsch

Der 0-Meridian unterteilt die Weltkugel in eine nördliche und eine südliche Hälfte.

Der Umfang der Breitenkreise wird zu den Polen hin kleiner.

___/3P

Aufgabe 10

Welche Kontinente gibt es auf er Erde?

Europa, Asien, Afrika, Australien, Amerika, Antarktis

___/6P

Viel Erfolg!!

Gesamt: ___/48P

Note	1	1-	1-2	2+	2	2-	2-3	3+	3	3-	3-4	4+	4	4-	4-5	5+	5	5-	5-6	6+
Punkte	43	41	39	37	36	34	32	30	28	26	24	21	19	17	15	13	12	10	8	6